

จง X ข้อที่ถูกที่สุด

วิชาภาษาไทย

แม่มะลิเป็นฮิปโปอยู่ในสวนสัตว์เขาดิน มีรูปร่างคล้ายหมูแต่ตัวใหญ่กว่ามาก มีใบหูเล็ก ปากกว้าง กินพืชเป็นอาหาร แม่มะลิวัยน้ำและค่าน้ำแกง

1. แม่มะลิ คือสัตว์ชนิดใด

ก. แรด

ข. หมู

ค. ฮิปโป

2. ฮิปโปมีรูปร่างคล้ายสัตว์ชนิดใด

ก. เสือ

ข. หมู

ค. หมู

3. แม่มะลิอาศัยอยู่ที่ไหน

ก. เขาใหญ่

ข. เขาดิน

ค. เขาเขียว

4. ข้อใดไม่ใช่คุณสมบัติของฮิปโป

ก. หายใจเก่ง

ข. วัยน้ำเก่ง

ค. คำน้าเก่ง

กระต่ายเห็นเต่าเดินช้าก็หัวเราะเยาะ เต่าบอกว่าเขาเราสั้น ทำให้เดินช้า แต่ถึงที่หมายได้ กระต่ายทำเต่าวิ่งแข่ง เต่ารับคำท้าเมื่อถึงเวลาแข่ง กระต่ายวิ่งไปได้ครึ่งทางก็ล้มตัวนอนแล้วกลับไปพอดิ้นขึ้นมาก็รีบวิ่งต่อ แต่สายไปเสียแล้วเพราะเต่าเดินถึงเส้นชัย

5. ใครเดินช้า

ก. กระรอก

ข. กระต่าย

ค. เต่า

6. ทำไมสัตว์ตัวนั้นเดินช้า

ก. ขาสั้น

ข. ขาเจ็บ

ค. ขาหัก

7. ทำไมเต่าจึงชนะ

ก. ระยะทางสั้นกว่า

ข. ชยันและอดทน

ค. ใช้ลำตัวกลิ้งไป

8. ทำไมกระต่ายจึงแพ้

ก. ง่วงนอน

ข. ไม่สบาย

ค. ประมาท

9. คำที่ออกเสียงสระเหมือน “บ้าน”

ก. หมา

ข. แม่

ค. ปลา

10. คำที่มีตัวสะกด “ ก ”

ก. แก้ว

ข. นม

ค. ปาก

11. คำที่มีตัวสะกด “ บ ”

ก. บ้าน

ข. กบ

ค. ร่ม

12. หารูปที่ออกเสียงคล้ายกับคำว่า “ มด ”



ก.



ข.



ค.

13. คำที่มีลักษณะนามว่า “ ผล ”

ก. โทรทัศน์

ข. ชมพู่

ค. เทียน

14. คำที่มีลักษณะนามว่า “ ใบ ”

ก. กระเป๋

ข. เสื่อ

ค. หมา

15. ภาพใดที่มีน้ำหนักเบาที่สุด



ก.



ข.



ค.


16. บุคคลใดที่ช่วยรักษาคนเจ็บป่วย



ก.




ข.



ค.


17. ในวันขึ้นปีใหม่เราควรทำอะไร



ก.



ข.



ค.

18. ข้อใดใส่เครื่องหมายถูกต้อง

ก.  $9 > 10$

ข.  $8 < 6$

ค.  $5 = 5$

19. ข้อใดใส่เครื่องหมายถูกต้อง

ก.  $6 < 6$

ข.  $9 > 5$

ค.  $7 = 5$

~~20. คำที่ตรงข้ามกับ “ สะอาด ”~~

ก. ขาว

ข. สกปรก

ค. เหม็น

20. คำที่ตรงข้ามกับ “ กว้าง ”

ก. อ้วน

ข. บน

ค. แคบ

21. แก้ว : ไบ —————> หนังสือพิมพ์ :

ก. เล่ม

ข. ฉบับ

ค. เรื่อง

22. ดอกไม้ : แจกัน —————> ช้อน :

ก. มีด

ข. จาน

ค. ส้อม






23. คำใดที่ออกเสียง ( สระอี )

ก. นิ้ว

ข. ครีบ

ค. คินสอ

24. ข้อใดเป็นจำนวนคู่

		
ก. 	ข. 	ค. 

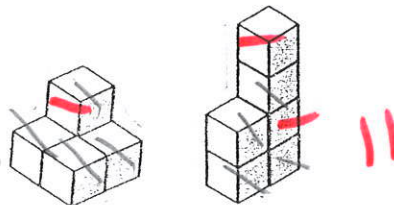
25. สัตว์ในข้อใดที่มีจำนวนขาเหมือนกันมากที่สุด

ก. หมา, แมว, นก

ข. นก, เป็ด, ไก่

ค. นก, งู, ม้า

26. ภาพที่มีจำนวนดาวเท่ากับไม้บล็อก



ก. ☆☆☆☆

ข. ☆☆☆

ค. ☆☆☆☆☆

☆☆☆☆☆☆

☆☆☆☆

☆☆☆☆☆☆

17



27. ข้อใดคือภาพเงาของภาพนี้



ก.



ข.



ค.

28. เพื่อนทำการบ้านไม่ได้ แก้วให้เพื่อนลอก แสดงว่าแก้วเป็นคนอย่างไร

ก. รักเพื่อนในทางที่ผิด

ข. เอื้อเฟื้อเผื่อแผ่

ค. ขี้เหนียว

N	W	U	A	V	Y	M
---	---	---	---	---	---	---

29.

N	W	?	A
---	---	---	---

ก. U

ข. Y

ค. V

30.

A	?	Y	M
---	---	---	---

ก. U

ข. M

ค. V