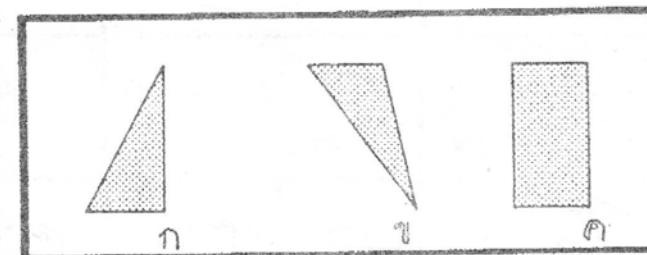
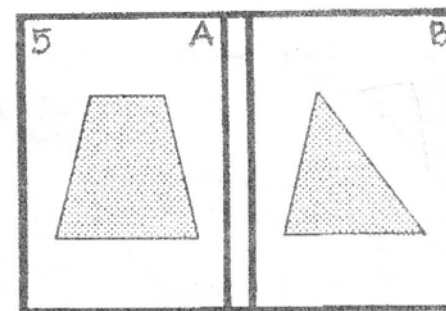
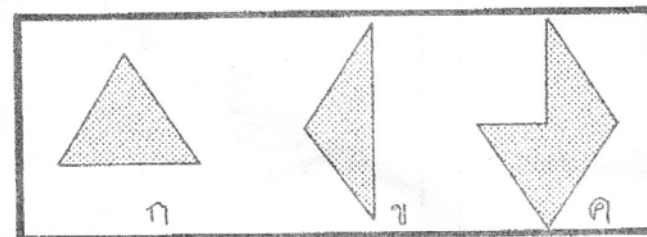
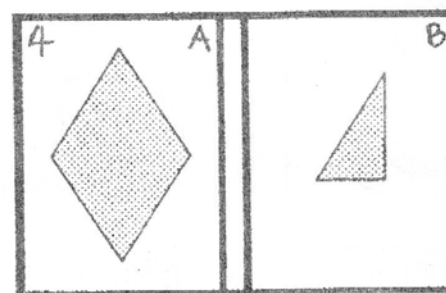
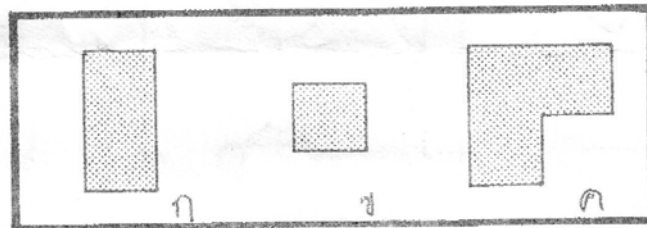
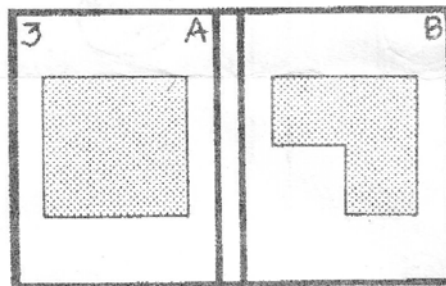
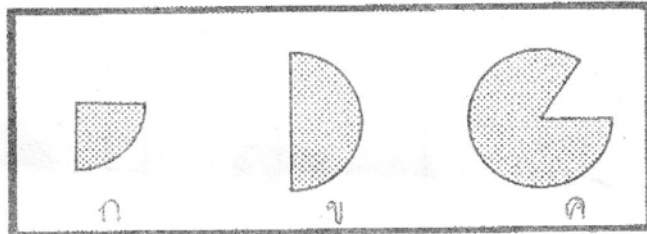
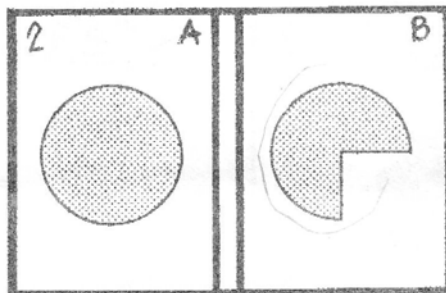
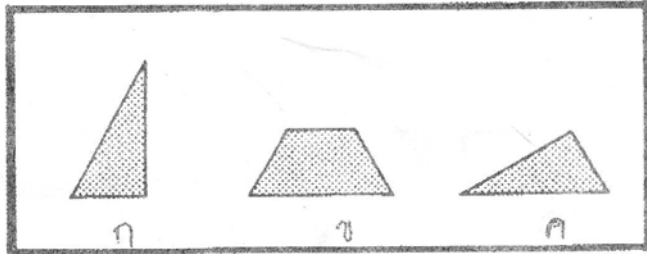
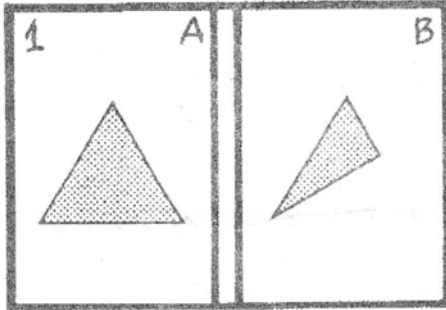


ชื่อ _____

อ. _____

จง ๐ ตัดลักษณะภาพที่ห้ามารวมกับภาพในช่อง B แล้วเขียนภาพในช่อง A












* สัปดาห์หน้า 10-11 ต.ค. 48

หยุดเรียนนะคะ














กากบาท x ทับภาพที่หายไป






1








 ก
 ก













2






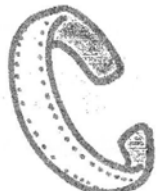









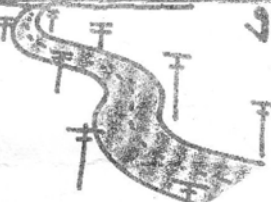





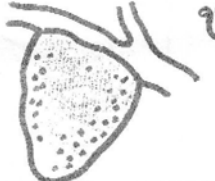










	
	
	
	
	
	
	
	
 ก	
 ก	 ก

3


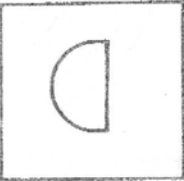

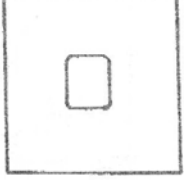



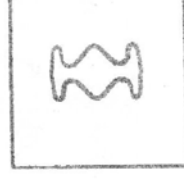



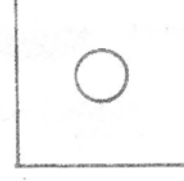

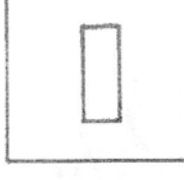
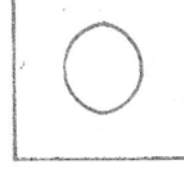
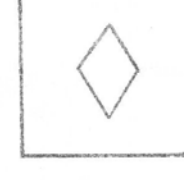

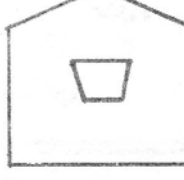
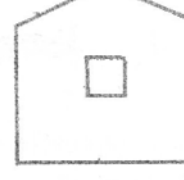
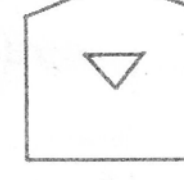

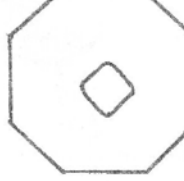


	
	
	
	
	
	
	
	
 ก	
 ก	 ก

4

	
	
	
	
	
	
	
	
 ก	 ก
 ก	 ก

1			
	→		
			→
			
ก	ข	ค	ง
			
2			
	→		
			→
			
ก	ข	ค	ง
			
3			
	→		
			→
			
ก	ข	ค	ง
			
4			
	→		
			→
			
ก	ข	ค	ง
			

องศา X หักภาพเต็มของภาพซ้ายมือ

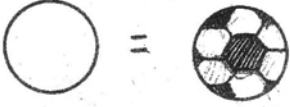



<p>1</p> 	<p>ก.</p> 	<p>ข.</p> 	<p>ค.</p> 
<p>2</p> 	<p>ก.</p> 	<p>ข.</p> 	<p>ค.</p> 
<p>3</p> 	<p>ก.</p> 	<p>ข.</p> 	<p>ค.</p> 
<p>4</p> 	<p>ก.</p> 	<p>ข.</p> 	<p>ค.</p> 
<p>5</p> 	<p>ก.</p> 	<p>ข.</p> 	<p>ค.</p> 
<p>6</p> 	<p>ก.</p> 	<p>ข.</p> 	<p>ค.</p> 

ห.1 = ค ก ข ค ข ห.2 = ก ข ค ข ห.3 = ค ก ก ข ห.4 = ข ค ข ค ข ข









การบ้าน

ชื่อ _____

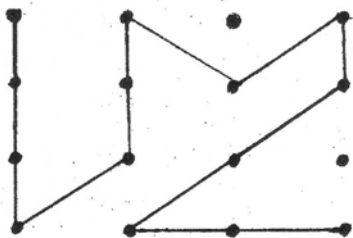
วาดภาพที่เกิดจากรูปทรงต่อไปนี้












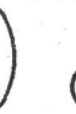




















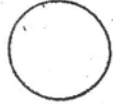



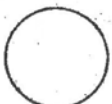






ระบายสีภาพที่เหมือนภาพข้างหน้า






















			
			

ลากเส้นจุดต่อจุดให้เหมือนตัวอย่าง





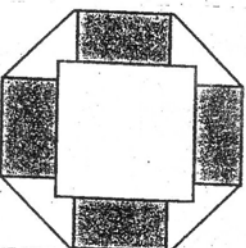



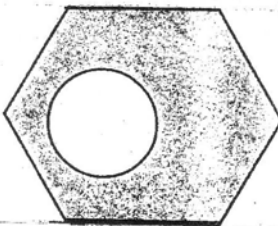



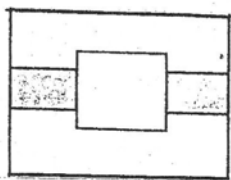





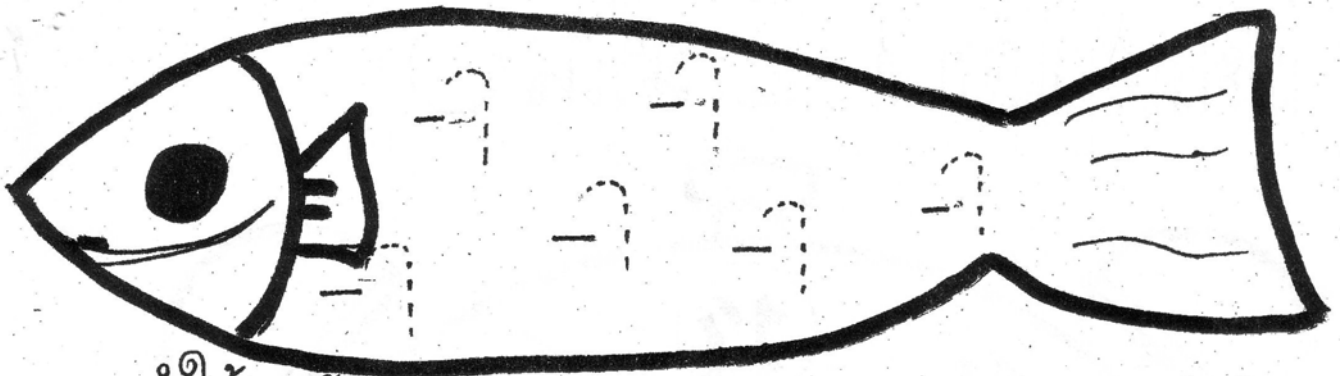
X ทับภาพที่หายไป

							_____
							_____
							_____
							_____
							_____
							_____
							_____

จงโยงเส้นจับคู่ภาพที่ลงตัวกันพอดี



มกลมคำให้ตรงกับภาพ



ตา

ขา



งา

อา



ป่า

ขา



ชา

ยา



หา

กา



ขา

ตา

ประสมคำให้ถูกต้อง



ส

+

บ

=

สบ



ก

+

บ

=



บ

+

บ

=



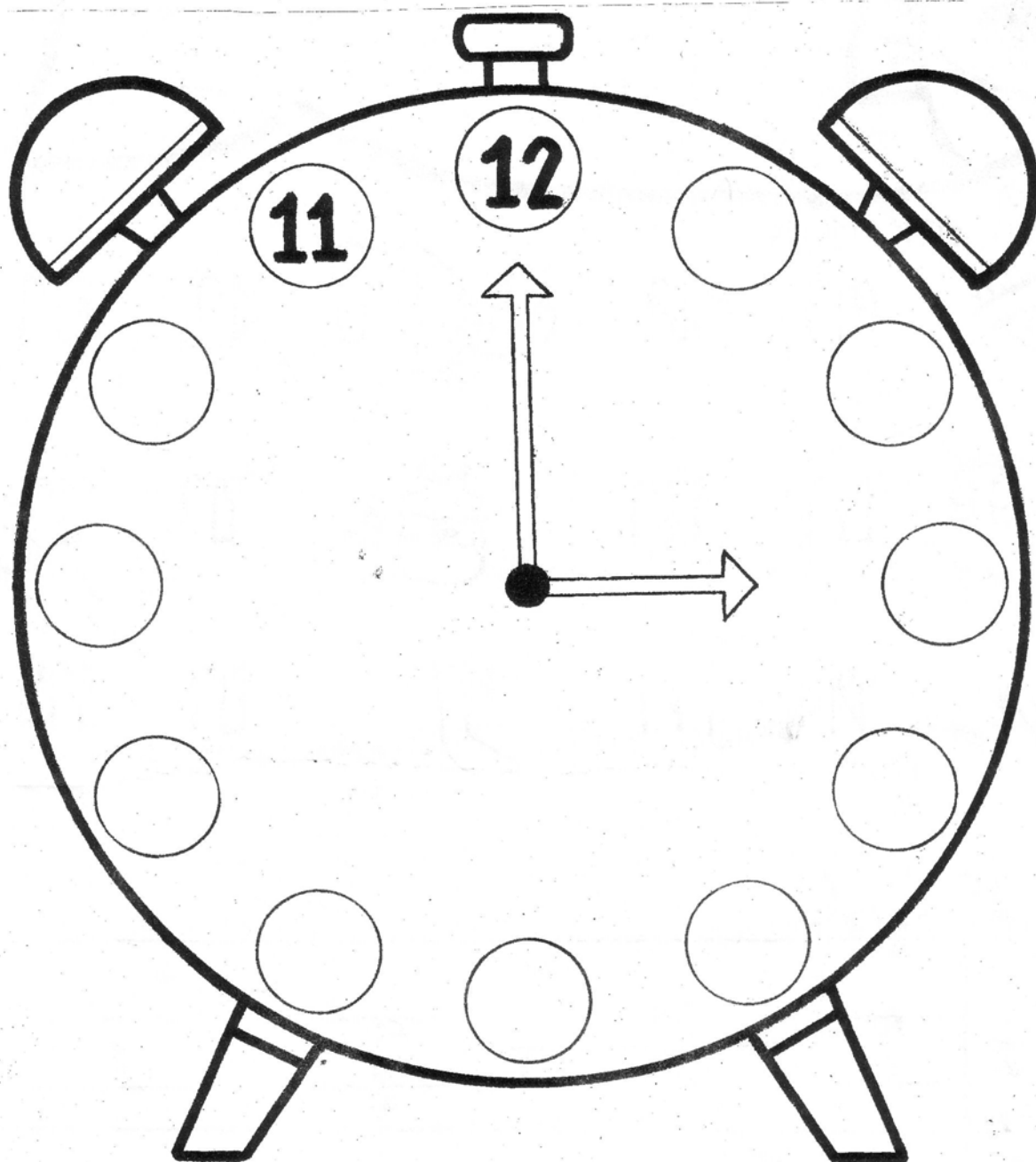
ส

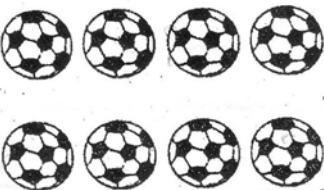



+

บ

=

เขียนตัวเลข 1-10 ลงใน ○



การบ้าน

1.

ชื่อ _____ ชั้น _____ วันที่ 1-5 ก.ค. 49

1. จงระบายสีภาพของใช้สิ่งใด เมื่อออกจากบ้านขณะฝนตก

ก.



ข.

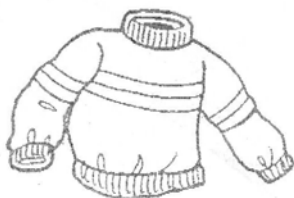


ค.



2. จงระบายสีภาพเสื้อผ้าที่สวมคลุมกันฝนมาโรงเรียน เมื่อฝนกำลังตก

ก.



ข.

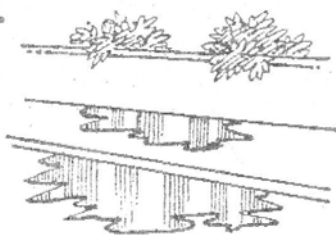


ค.

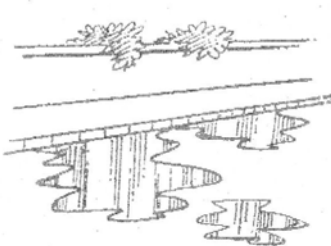


3. จงระบายสีภาพที่แสดงถึงการมีฝนตกหนักติดต่อกันตลอดวันตลอดคืน

ก.



ข.



ค.



4. พอฝนหยุดตกและมีแสงแดด จงระบายสีภาพที่พบเห็นบนท้องฟ้า

ก.



ข.



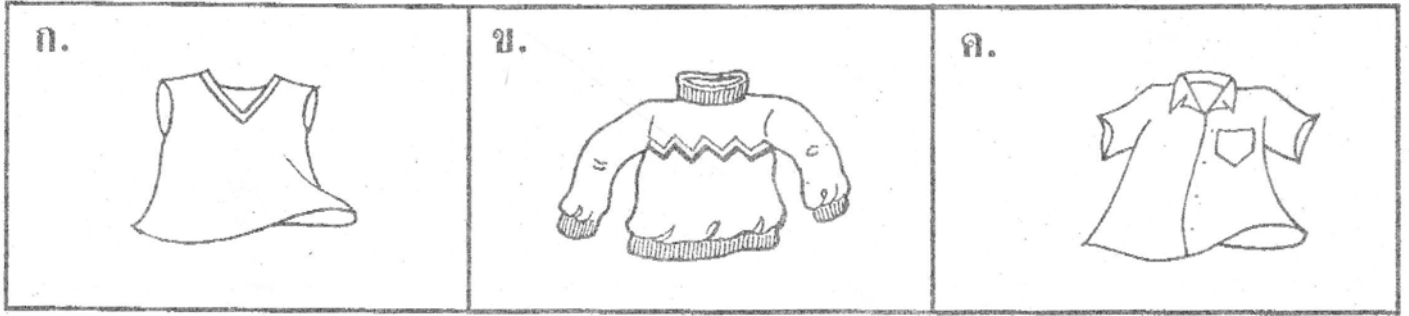
ค.



** ลับตาหน้าวันที่ 8-11 ก.ค. 49 โรงเรียนหยุดวันเข้าพรรษา
ชายโบลัมภ์ ① อัสสัมชัญ (บ.) 3 ก.ค. 49 ② เซนต์คาเบรียล 1-10 ส.ค. 49
③ เซนต์จอร์จมินิก 15 ส.ค. - 15 ก.ย 49 / กรุงเทพมหานคร เชียงใหม่ 3 ก.ค.

จงระบายสีภาพสิ่งต่างๆ ตามคำสั่งข้างล่างนี้

1. เมื่ออากาศหนาวเย็น เสื้อตัวใดเหมาะสมที่สุด



2. กิจกรรมใด ช่วยให้ร่างกายคลายความหนาว



3. เสื้อตัวใดเหมาะกับหน้าร้อน



4. เครื่องแต่งกายภาพใด แสดงถึงฤดูหนาว


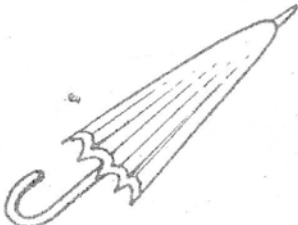
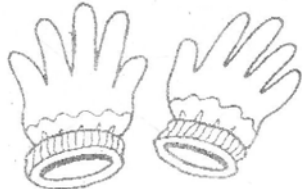


จงระบายสีภาพสิ่งต่างๆ ตามคำสั่งข้างล่างนี้




1. เครื่องใช้ภาพใด ไม่เกี่ยวข้องกับหน้าฝน

<p>ก.</p> 	<p>ข.</p> 	<p>ค.</p> 
---	---	---




2. เครื่องใช้ภาพใดเกี่ยวข้องกับฤดูหนาว

<p>ก.</p> 	<p>ข.</p> 	<p>ค.</p> 
--	--	--

3. ภาพใดเป็นอาการที่มักเกิดกับเราในหน้าหนาว

<p>ก.</p> 	<p>ข.</p> 	<p>ค.</p> 
---	---	---


4. กางเกงชนิดใดเหมาะกับฤดูหนาว

<p>ก.</p> 	<p>ข.</p> 	<p>ค.</p> 
---	---	---


จงขีดเครื่องหมาย × ทับภาพที่ไม่ถูกต้องกับประโยคทางกรอบด้านซ้ายมือ

1	ออกลูกเป็นไข่	 ก.	 ข.	 ค.
2	ออกลูกเป็นตัว	 ก.	 ข.	 ค.
3	เลี้ยงลูกด้วยนม	 ก.	 ข.	 ค.
4	กินพืชเป็นอาหาร	 ก.	 ข.	 ค.
5	เป็นสัตว์ดุร้าย	 ก.	 ข.	 ค.
6	เป็นสัตว์มีพิษ	 ก.	 ข.	 ค.


1. จงระบายสีภาพที่จัดอยู่ในประเภทสัตว์ปีกที่บินได้



2. จงระบายสีภาพสัตว์ที่ไม่ได้อาศัยอยู่ในป่า




3. จงระบายสีภาพที่ไม่เข้ากลุ่มกับภาพอื่น



4. จงระบายสีภาพที่ไม่ใช่สัตว์น้ำ




ดูภาพในกรอบทั้งหมด แล้วระบายสีภาพที่เป็นภาพสัตว์น้ำเท่านั้น



จงระบายสีภาพสิ่งต่างๆ ตามคำสั่งข้างล่างนี้


1. ภาพใดที่ไม่ใช่นก



2. ภาพใดไม่ได้ออกลูกเป็นไข่



3. ภาพใดไม่ใช่ภาพที่แสดงถึงประโยชน์ของฝน

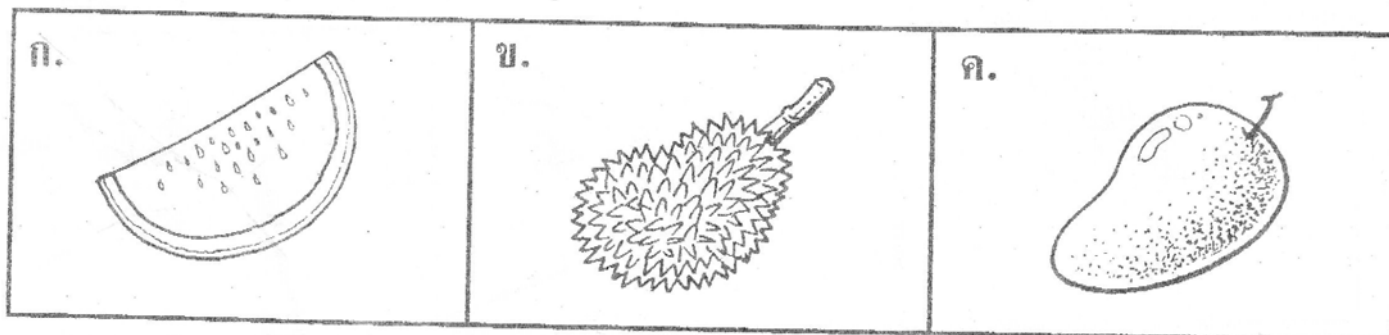


4. ภาพใดไม่ใช่ภาพที่แสดงถึงคุณประโยชน์จากไฟ

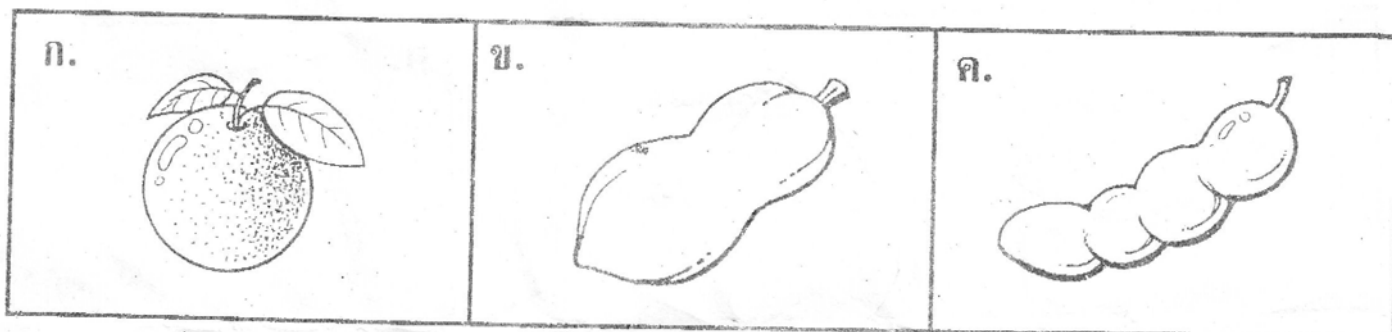


จงระบายสีภาพสิ่งต่างๆ ตามคำสั่งข้างล่างนี้

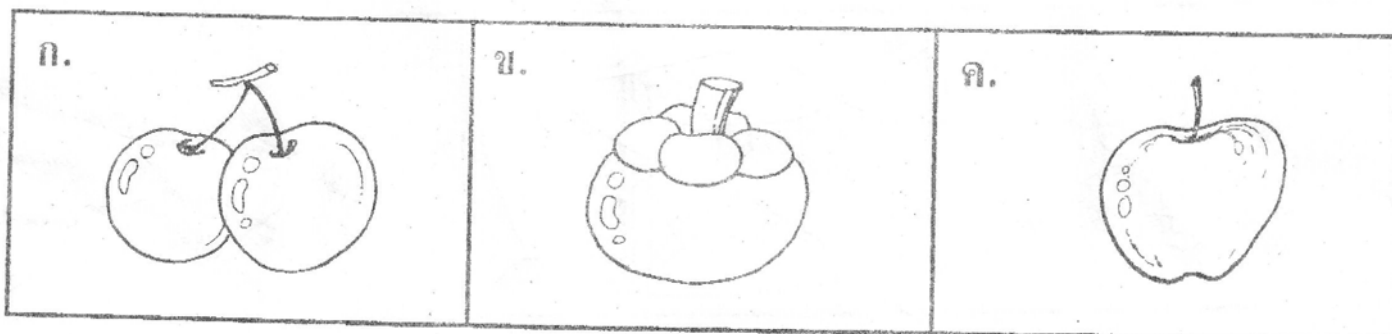
1. ภาพใดเป็นผลจากพืชล้มลุก



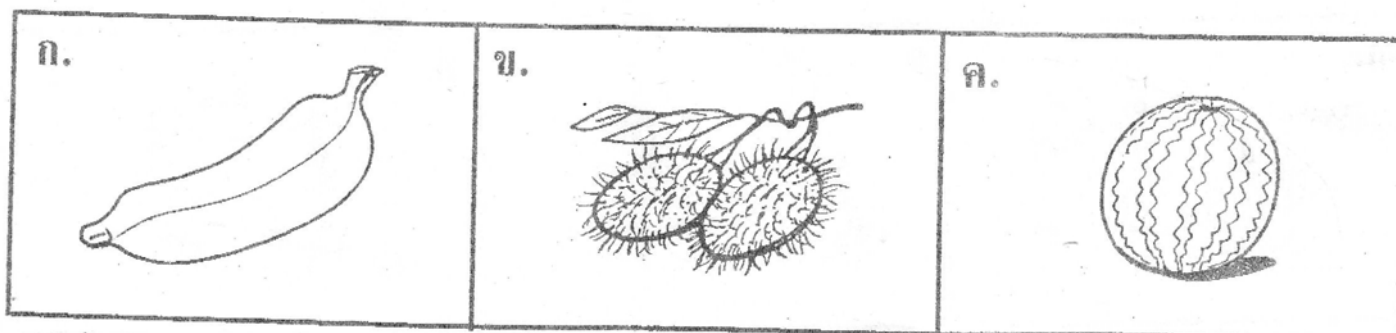
2. ผลไม้ชนิดใด มีเมล็ดมากที่สุด



3. เมื่อนึกถึงผลไม้ที่มีเปลือกหนา ควรเป็นผลไม้ชนิดใด



4. เมื่อนึกถึงผลไม้ที่มีเนื้อในเป็นสีแดง ควรเป็นผลไม้ชนิดใด



Key. น.1 = คขคข , น.2 = ขคคข , น.3 = คคกก , น.4 = คคกคคข

น.5 = คกคก , น.6 = 1,2,3,4,5,9,12,13,15,16,18 น.7. ขขคก

น.8 = กขขค , น.9 = ขขคก ก ข ข




ชื่อ _____

อ. _____

จงกา X ทับภาพที่ไม่เกี่ยวข้องกับข้อความในแต่ละแถว


1

เป็นสัตว์ปีก



2

เป็นสัตว์ดรัาย




3

ผักมีมากมายหลายชนิด



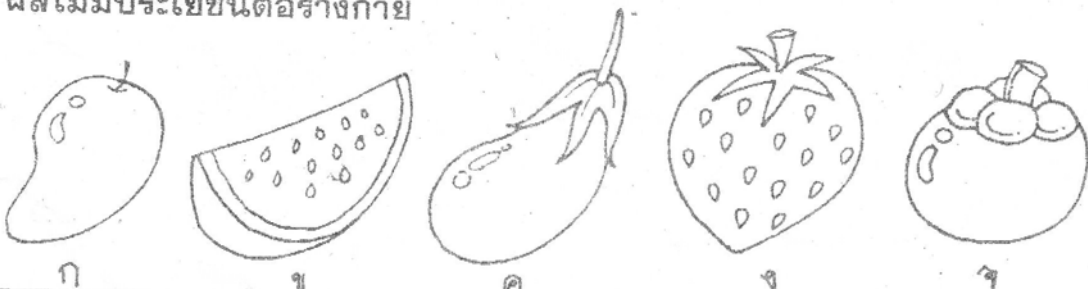
4

เป็นสัตว์เลี้ยง



5

ผลไม้มีประโยชน์ต่อร่างกาย



จง X ภาพต่อเนื่องเติมช่องว่างให้ถูกต้อง

ก.

1. 2. 3. 4. 5.

ข.

1. 2. 3. 4. 5.

ค.

1. 2. 3. 4. 5.

ง.

1. 2.

3. 4.

จ.





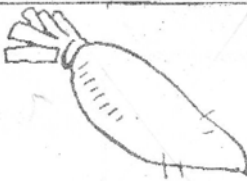
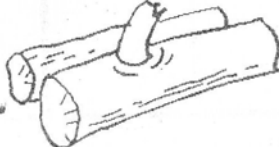















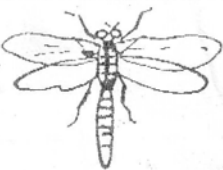



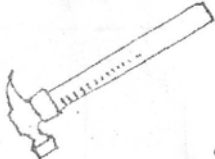

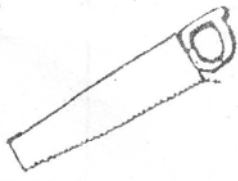







1. 2.

3. 4.

5. 6.

ให้ X กับภาพที่แตกต่างจากพวก



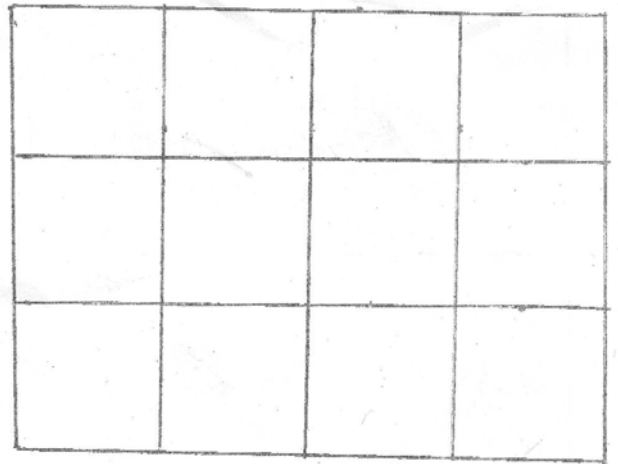
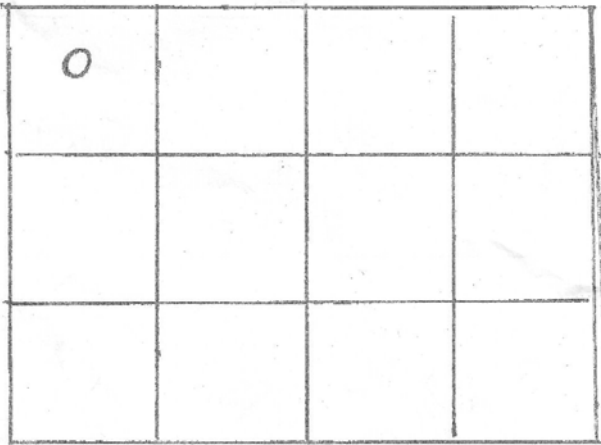

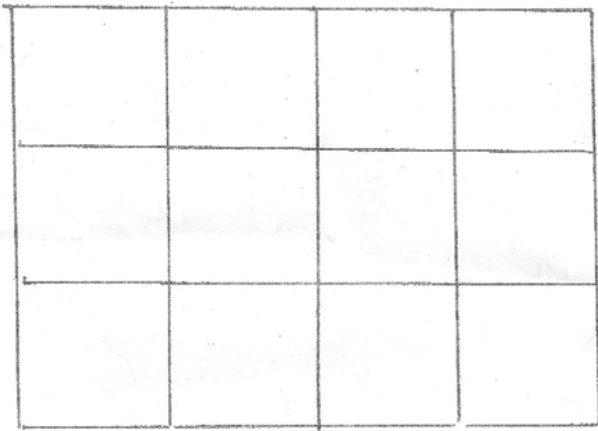
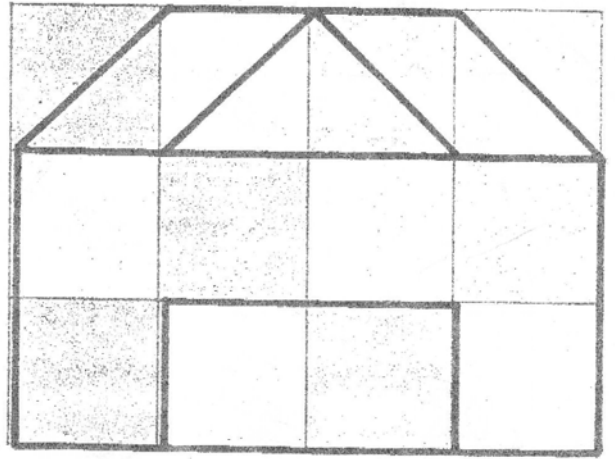

★
★★

1.					
	ก	ข	ค	ง	จ
2.					
	ก	ข	ค	ง	จ
3.					
	ก	ข	ค	ง	จ
4.					
	ก	ข	ค	ง	จ
5.					
	ก	ข	ค	ง	จ
6.					
	ก	ข	ค	ง	จ
7.					
	ก	ข	ค	ง	จ

Key น. 1 = ง ง ก ค น. 2 = 4 5 4 3 2 น. 3 = ก ค ก ง ก ข

เขียนรูปให้เหมือนแบบ

☆☆
☆☆



ชื่อ _____

ชั้น _____

เติมภาพที่หายไปให้ถูกต้อง

1.  _____

2.  _____


3.  _____

4.  _____

5.  _____

6.  _____

7.  _____





















8.  _____

9.  _____



จง X ภาพที่แตกต่างจากภาพอื่น

- จุดประสงค์ 1. ให้เข้าใจถึงลักษณะของสัตว์
2. เรียนรู้ธรรมชาติของสัตว์

1.	 ก	 ข	 ค	 ง
2.	 ก	 ข	 ค	 ง
3.	 ก	 ข	 ค	 ง
4.	 ก	 ข	 ค	 ง
5.	 ก	 ข	 ค	 ง

Key น. 2 = ข ข ก ค ก น. 3 = 213, 123, 312, 132

คำศัพท์ ให้นักเรียนเรียงลำดับเหตุการณ์ 1-3

1

Three panels illustrating gift-giving scenarios. The first panel shows a young boy presenting a gift to a man. The second panel shows the same boy holding the gift. The third panel shows a young girl presenting a gift to a woman. Each panel has a small empty square box below it for labeling.

2




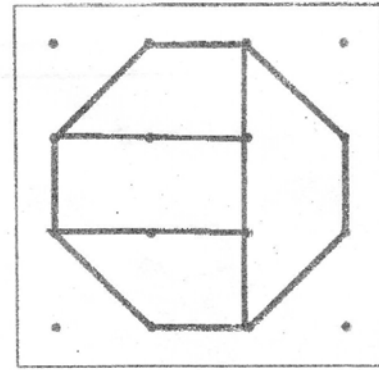
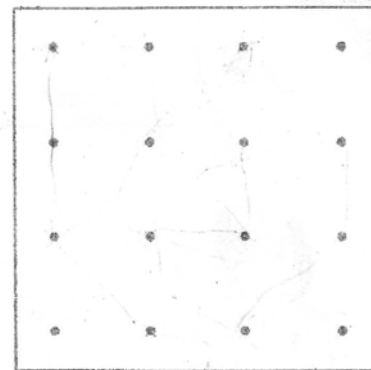
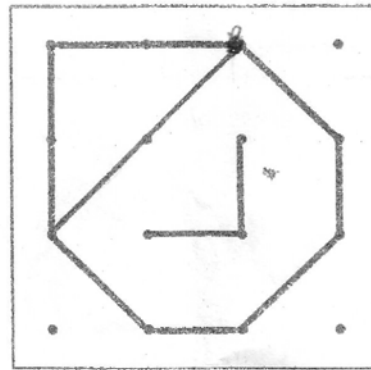

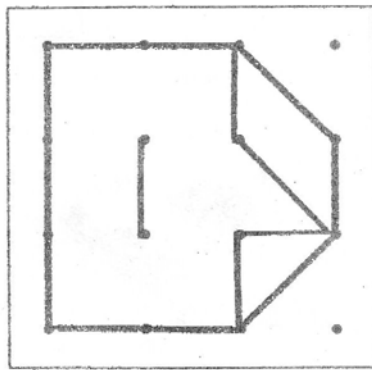


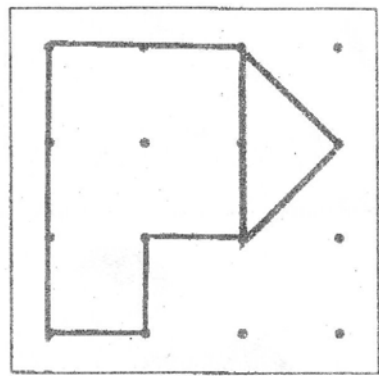

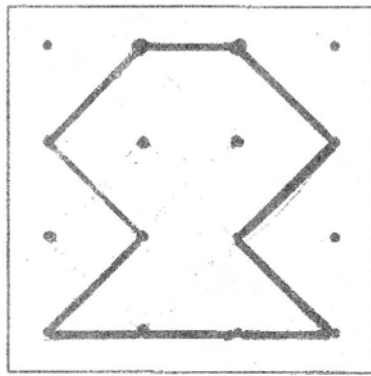

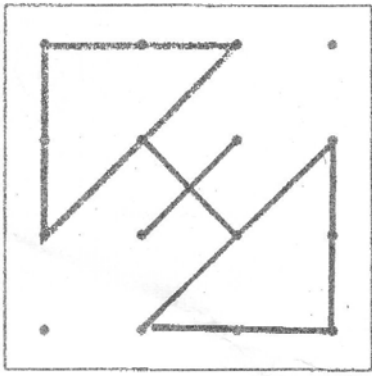
Three panels illustrating social interactions. The first panel shows a girl holding a tray with food. The second panel shows a boy and a girl holding a tray together. The third panel shows a boy and a girl sitting at a table eating. Each panel has a small empty square box below it for labeling.

3

Three panels illustrating different types of play or interaction. The first panel shows three children playing together. The second panel shows two boys in a physical fight. The third panel shows two boys kissing. Each panel has a small empty square box below it for labeling.

4

Three panels illustrating eating and feeding. The first panel shows a girl eating with a fork. The second panel shows a boy feeding a dog from a plate. The third panel shows a boy eating at a table with a bowl and chopsticks. Each panel has a small empty square box below it for labeling.

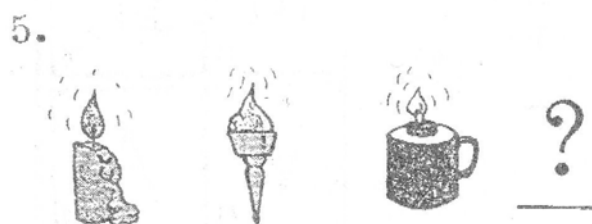
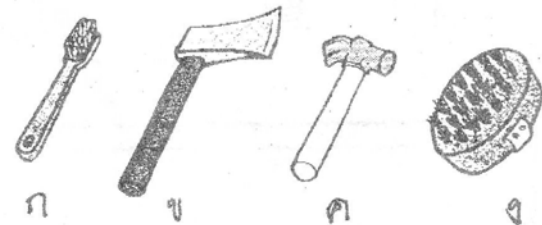
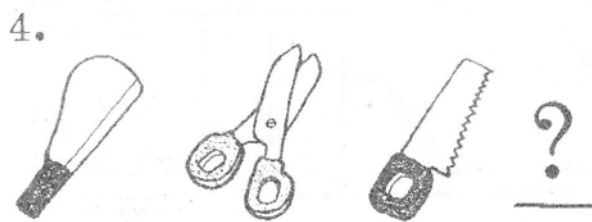
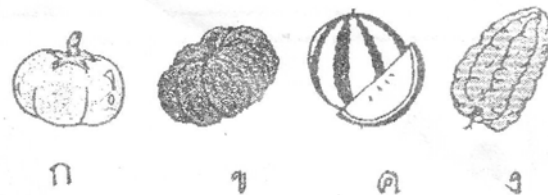

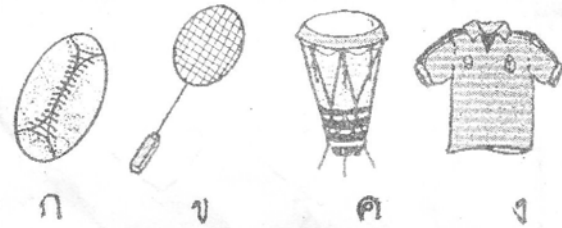
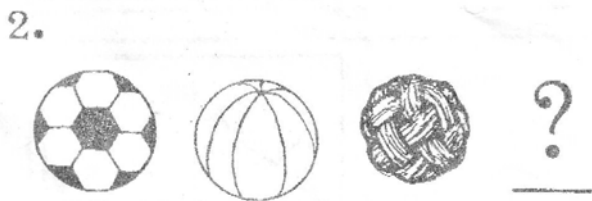
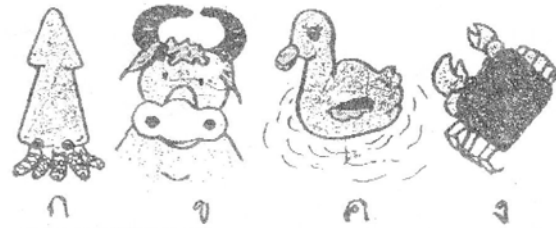
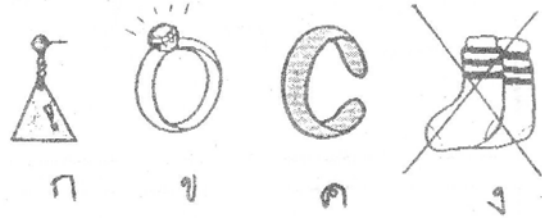


ชื่อ _____

อ. _____

เขียน × ทับภาพที่เป็นหมวดหมู่เดียวกัน

ตัวอย่าง



ประชุมผู้ปกครอง








รอบ เสาร์เช้า (19 ส.ค.) 10.30 - 12.00 น.



รอบ เสาร์บ่าย (19 ส.ค.) 13.00 - 14.30 น.

รอบ อาทิตย์ (20 ส.ค.) 10.30 - 12.00 น.







รอบ ค-ค (24 ส.ค.) 14.00 - 15.30 น.





1







	ก
	ข





2








	ก
	ข
	ค
	ง





3







	ก
	ข
	ค
	ง





4

	ก
	ข
	ค
	ง

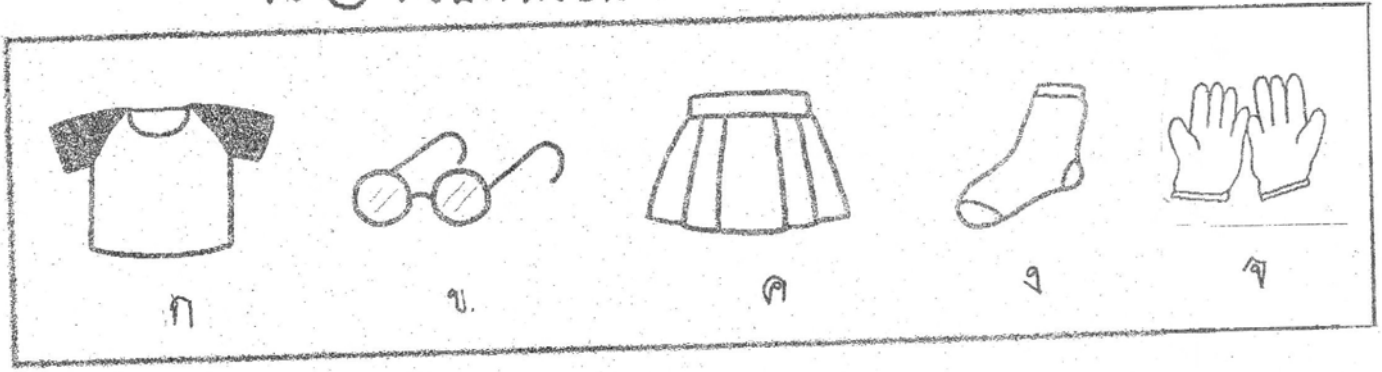
5

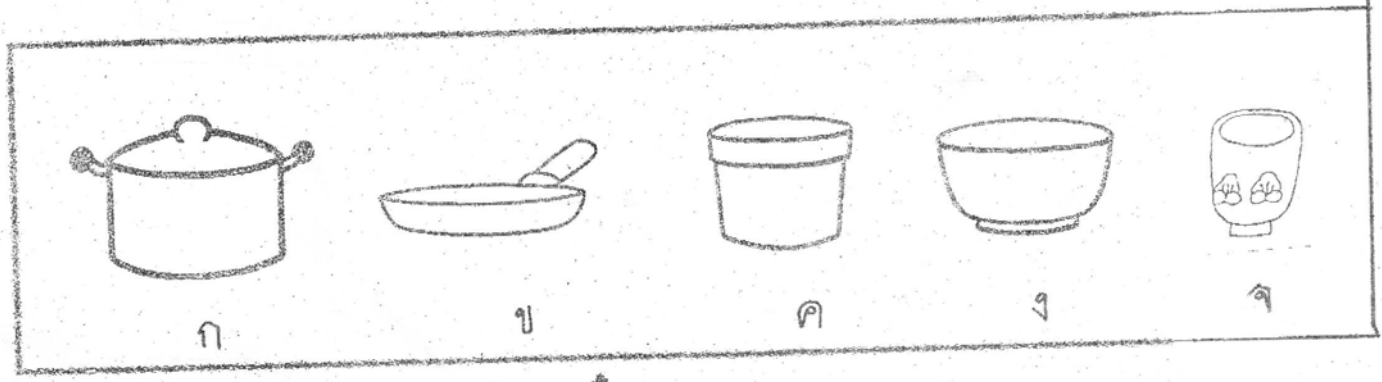
	ก
	ข
	ค
	ง

จง ๐ ตัวอักษรข้อที่แตกต่างจากพวก


1



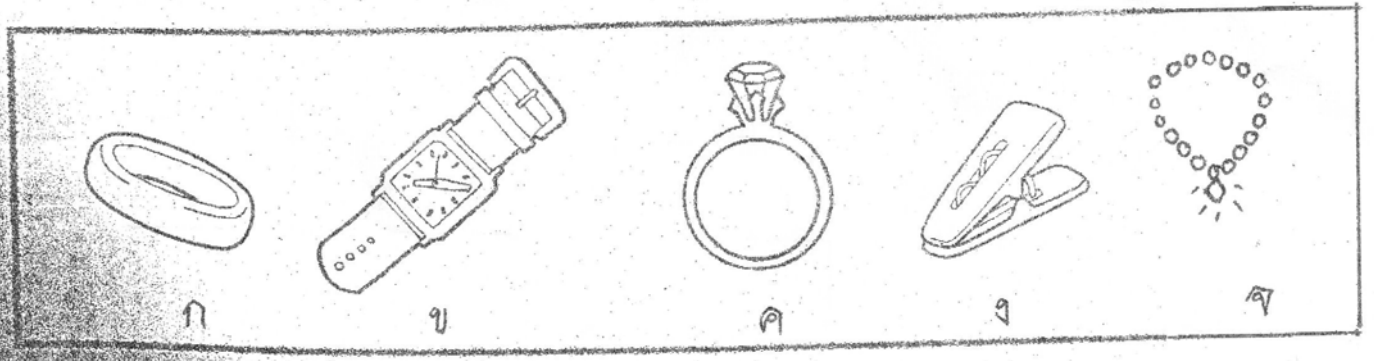
2



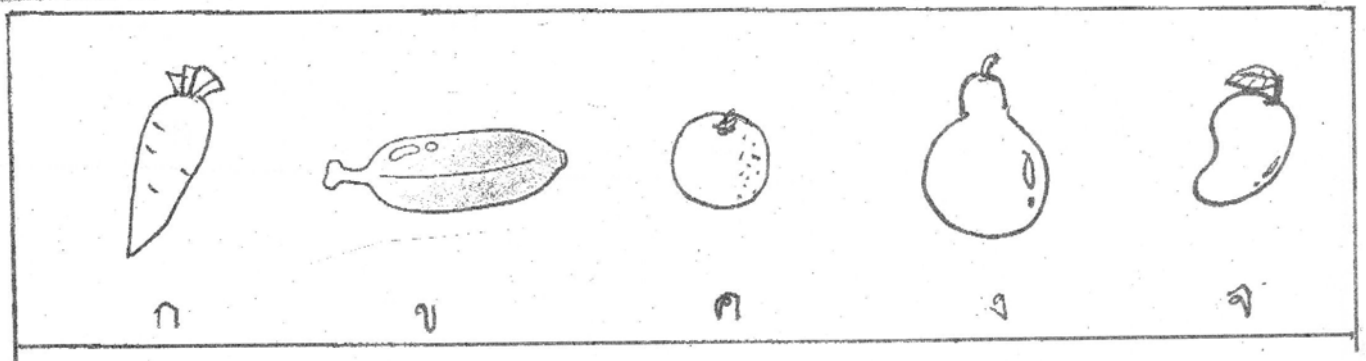
3

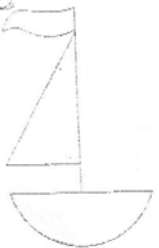









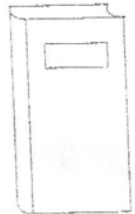
















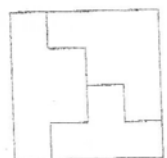



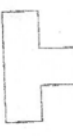








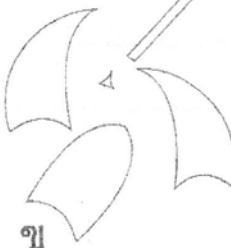










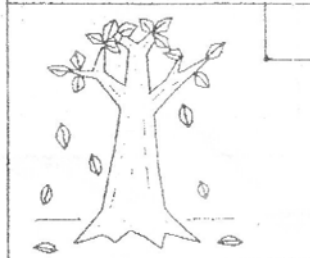

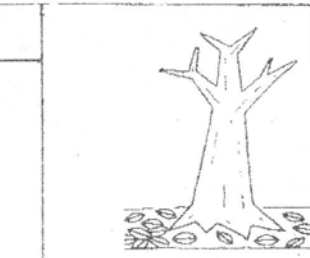

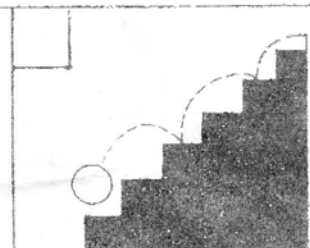
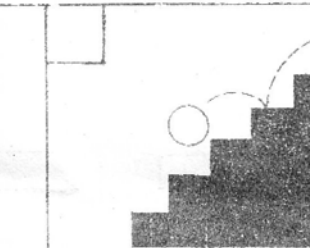



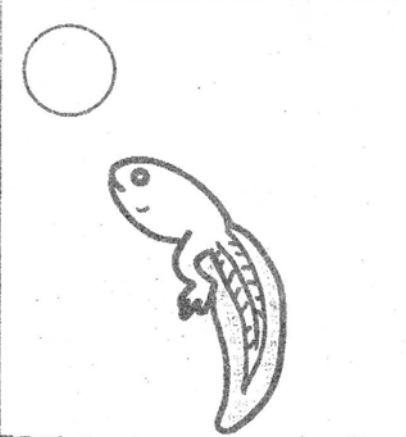
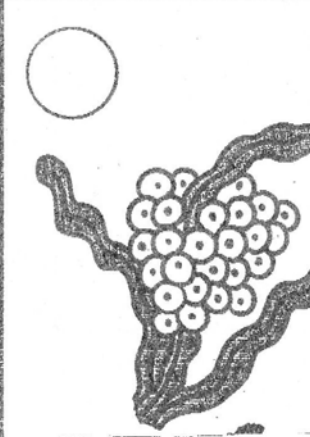

4



5



<p>1</p> 	<p>ก</p>   <p>ก</p> 	<p>ข</p>    <p>ข</p>	<p>ค</p>    <p>ค</p>
<p>2</p> 	<p>ก</p>   <p>ก</p>	<p>ข</p>   <p>ข</p>	<p>ค</p>   <p>ค</p>
<p>3</p> 	<p>ก</p>    <p>ก</p>	<p>ข</p>    <p>ข</p>	<p>ค</p>    <p>ค</p>
<p>4</p> 	<p>ก</p>   <p>ก</p>	<p>ข</p>    <p>ข</p>	<p>ค</p>    <p>ค</p>
<p>5</p> 	<p>ก</p>   <p>ก</p>	<p>ข</p>   <p>ข</p>	<p>ค</p>   <p>ค</p>

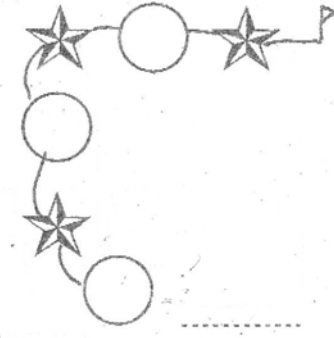



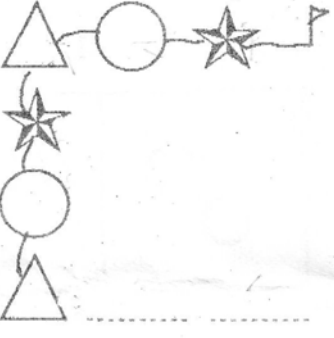



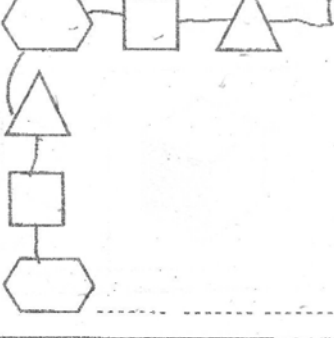



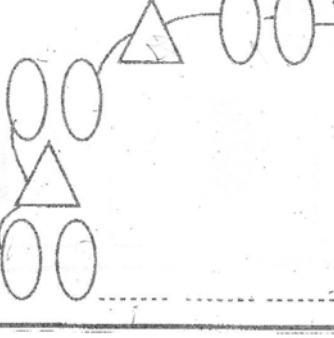

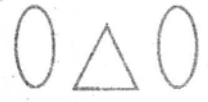

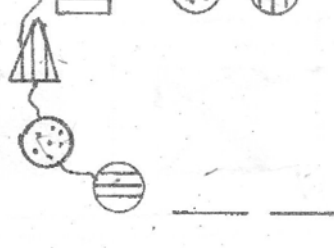
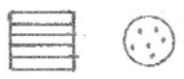


1			
2			
3			
4			
5			
6			

Key. น.1 = ขกคข ข.2 = ขกขค ข.3 = ขคกข

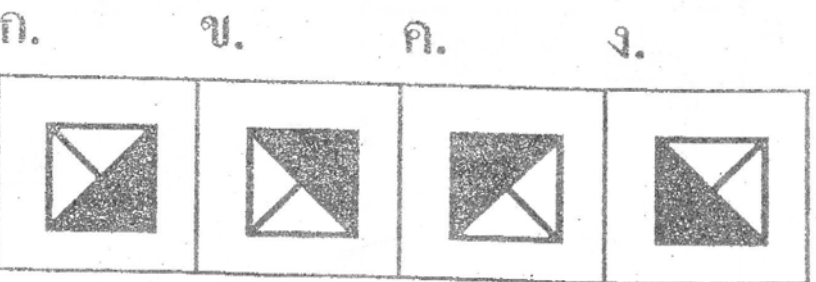

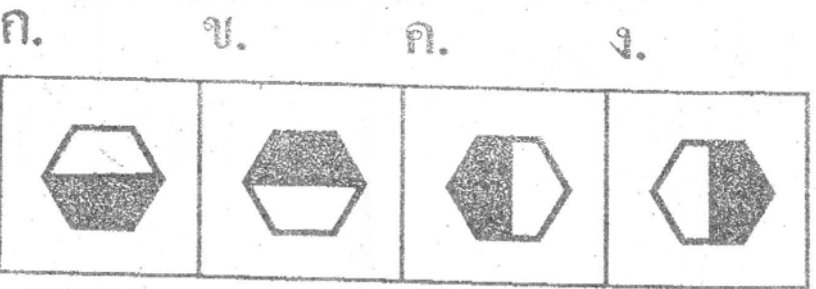
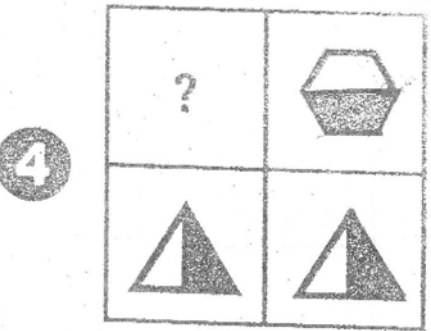
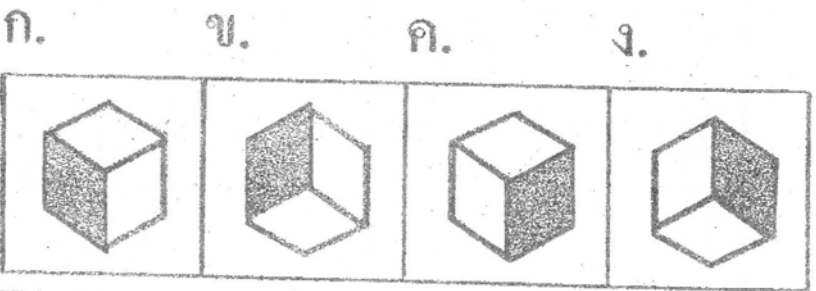
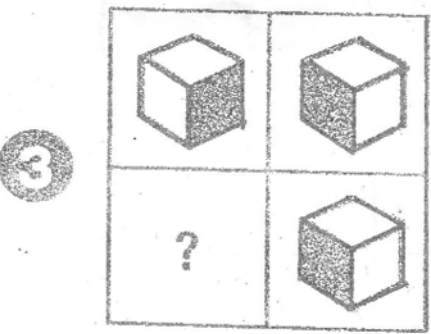
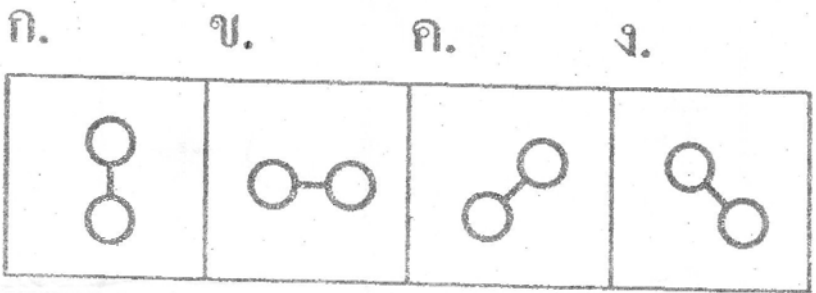
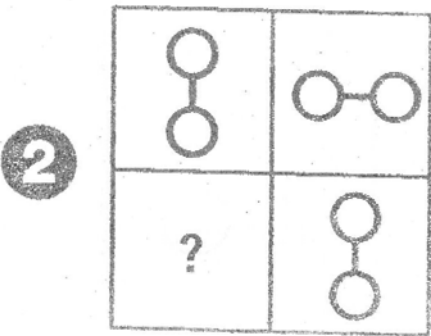
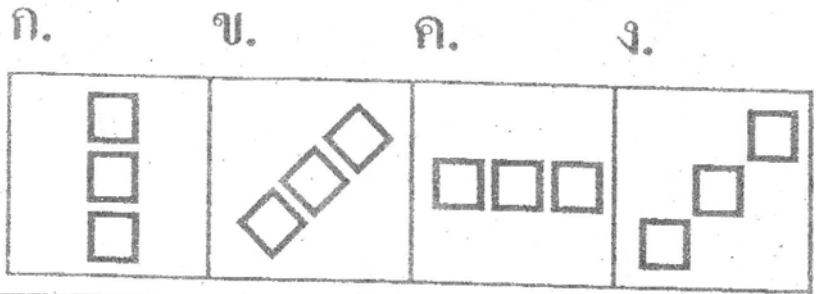

น.4 = ขกคข น.5 = (312)(132)(213)(132)(123)(213)

ชื่อ _____

อ. _____

<p>1.</p> 	 ก.	 ข.	 ค.
<p>2.</p> 	 ก.	 ข.	 ค.
<p>3.</p> 	 ก.	 ข.	 ค.
<p>4.</p> 	 ก.	 ข.	 ค.
<p>5.</p> 	 ก.	 ข.	 ค.

กา X ทับช่องคำตอบที่จะเติมช่องว่าง _____




Key. น.1 = ขคขกค

น.2 = ขขคกค

น.3 = กขคคข

อ่านข้อความต่อไปนี้แล้วตอบคำถามข้อ 1 - 5

ไข้เลือดออก เกิดจากเชื้อไวรัสที่มีอยู่ในยุงลาย โรคนี้มัก
ระบาดในหน้าฝน เราควรระวังอย่าให้ยุงกัดโดยเฉพาะเวลากลางวัน

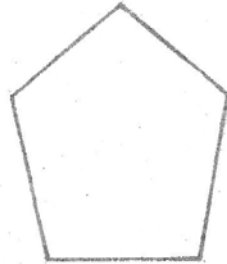
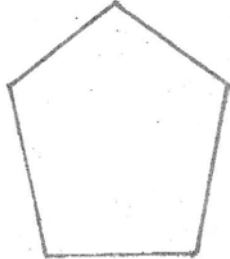
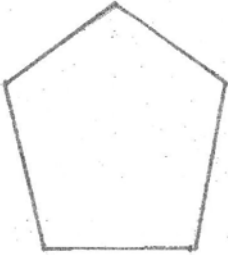
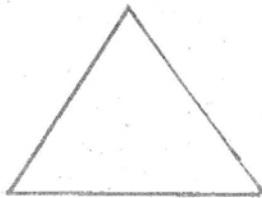
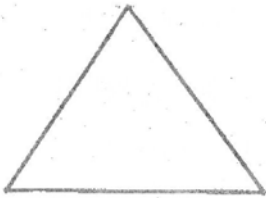
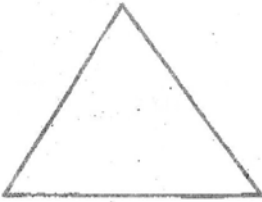
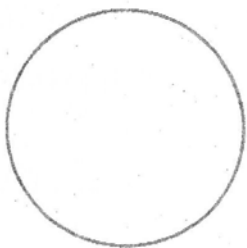
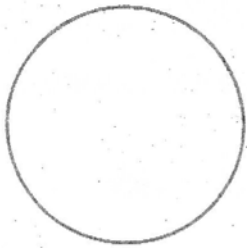


จง ○ ตัวอักษร คำตอบ ที่ถูกต้อง

1. ไข้เลือดออกเกิดจากเชื้อโรคชนิดใด
ก. ไวรัส ข. แบคทีเรีย ค. อะมีบา
2. สัตว์ชนิดใดเป็นพาหะนำไข้เลือดออกมาสู่คน
ก. ยุงดำ ข. ยุงลาย ค. ยุงก้นปล่อง
3. ไข้เลือดออกมักระบาดในฤดูใด
ก. ฤดูฝน ข. ฤดูร้อน ค. ฤดูหนาว
4. ยุงลายหากินในเวลาใด
ก. ตลอดทั้งวัน ข. กลางคืน ค. กลางวัน
5. ยุงเป็นแมลงชนิดหนึ่ง นักเรียนคิดว่ายุงมีกี่ขา
ก. 4 ขา ข. 6 ขา ค. 8 ขา

วาดรูป

ต่อเติมภาพให้สมบูรณ์





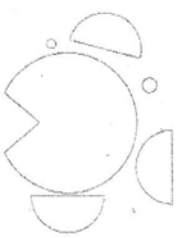
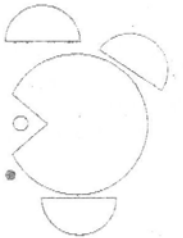
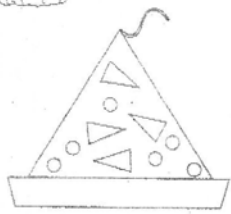
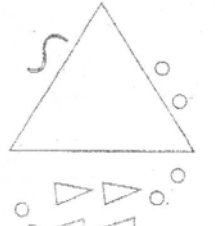

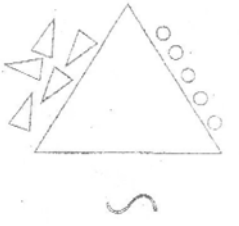


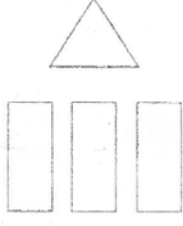

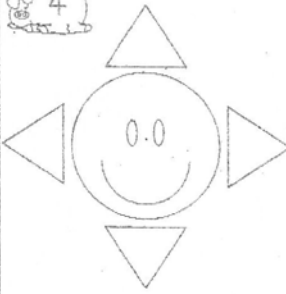
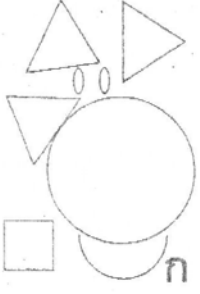
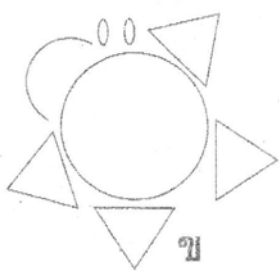

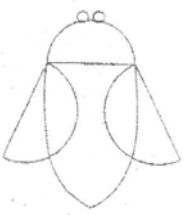


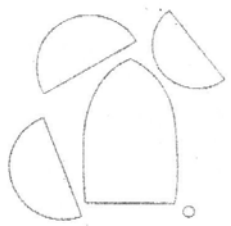
* ตัดกระดาษ หน้า 12-16 ส.ค. 49 ทดสอบเขavn ตามรอบที่เรียนค่ะ

* นักเรียนที่ไม่สามารถมาสอบตามรอบได้ ให้ติดต่อที่คุณครูด้วยคะ

* เขียนเครื่องหมาย  ล้อมภาพที่สัมพันธ์กัน 2 ภาพ

1	 ก	 ข	 ค	 ง
2	 ก	 ข	 ค	 ง
3	 ก	 ข	 ค	 ง
4	 ก	 ข	 ค	 ง
5	 ก	 ข	 ค	 ง
6	 ก	 ข	 ค	 ง

จง ๐ ตัวอักษรภาพที่เป็นส่วนประกอบของภาพข้างหน้า

<p>1</p> 	 <p>ก</p>	 <p>ข</p>	 <p>ค</p>
<p>2</p> 	 <p>ก</p>	 <p>ข</p>	 <p>ค</p>
<p>3</p> 	 <p>ก</p>	 <p>ข</p>	 <p>ค</p>
<p>4</p> 	 <p>ก</p>	 <p>ข</p>	 <p>ค</p>
<p>5</p> 	 <p>ก</p>	 <p>ข</p>	 <p>ค</p>

Key. น.1 = ขค, กง, ขค, กง, ขค, กง น.2 = ขกคขก น.3 = (2413), (3142), (2413)
 น.4 = กขขกข น.5 = กงคคกง กขงคข


เขียนตัวเลข 1-4 เพื่อลำดับเหตุการณ์ต่อไปนี้

3


1



2



3



ขีด ✓ ทับภาพคำตอบที่ถูกต้อง

4

1

2

B O Y B ? Y B O	B
	O
	Y

3

4



































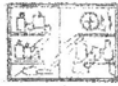





_ 2 3 1 2 3 1 2	1
	2
	3

5

๑๑ / ทับตัวอักษร ข้อที่แตกต่างจากพวก

5

- 1
- 2
- 3
- 4
- 5
- 6
- 7
- 8
- 9
- 10




ชื่อ

ชั้น

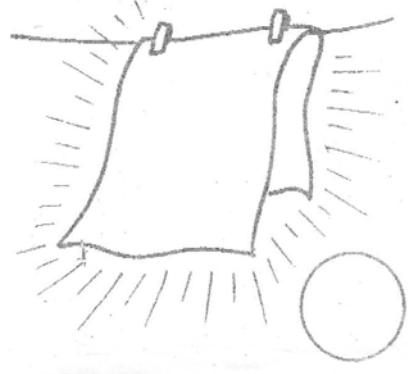
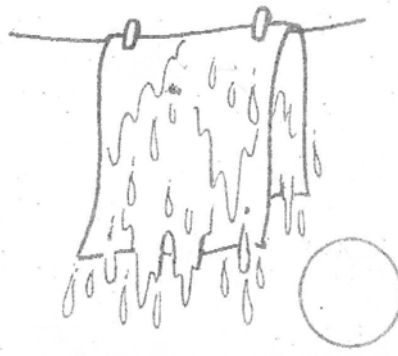
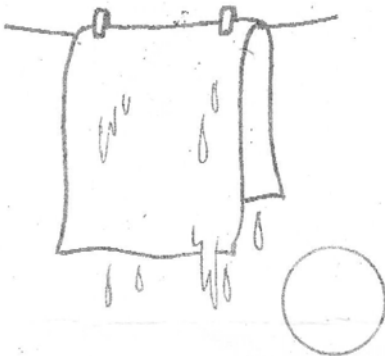
วันที่

จงเรียงลำดับเหตุการณ์ต่อไปนี้ให้ถูกต้อง โดยเรียงลำดับจาก 1, 2 และ 3


1



2



3



4



○ ตัวอักษรข้อที่ถูกต้อง

A.

ก. ข. ค. ง.

B.

ก. ข. ค. ง.

C.

ก. ข. ค. ง.

D.

ก. ข. ค. ง.

E.


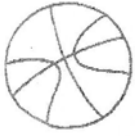




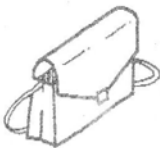
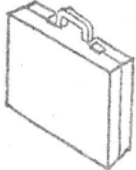
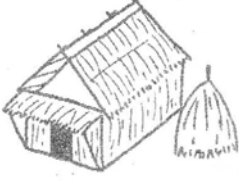
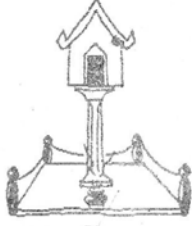














ก. ข. ค. ง.










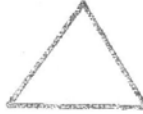










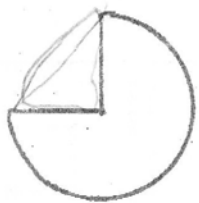






เขียน × ทับภาพที่เกี่ยวข้องกับเรื่อง

<p>ตัวอย่าง</p> <p>แม่บ้านไปซื้อ กับข้าวที่ตลาด</p>	 <p>ก ข ค ง</p>
<p>1.</p> <p>น้องกำลังสวมเสื้อ</p>	 <p>ก ข ค ง</p>
<p>2.</p> <p>ฝนตกหนักมาก จนน้ำท่วม</p>	 <p>ก ข ค ง</p>
<p>3.</p> <p>ที่สวนสัตว์มีสัตว์ มากมายหลายชนิด</p>	 <p>ก ข ค ง</p>
<p>4.</p> <p>คุณพ่อกำลังขับ รถยนต์</p>	 <p>ก ข ค ง</p>
<p>5.</p> <p>แดงชอบกินเงาะ แอปเปิ้ลและฝรั่ง</p>	 <p>ก ข ค ง</p>

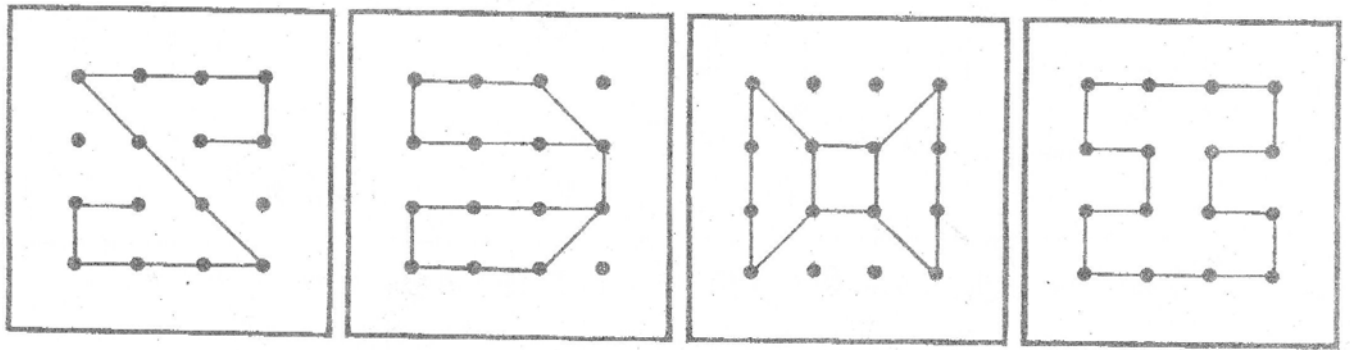
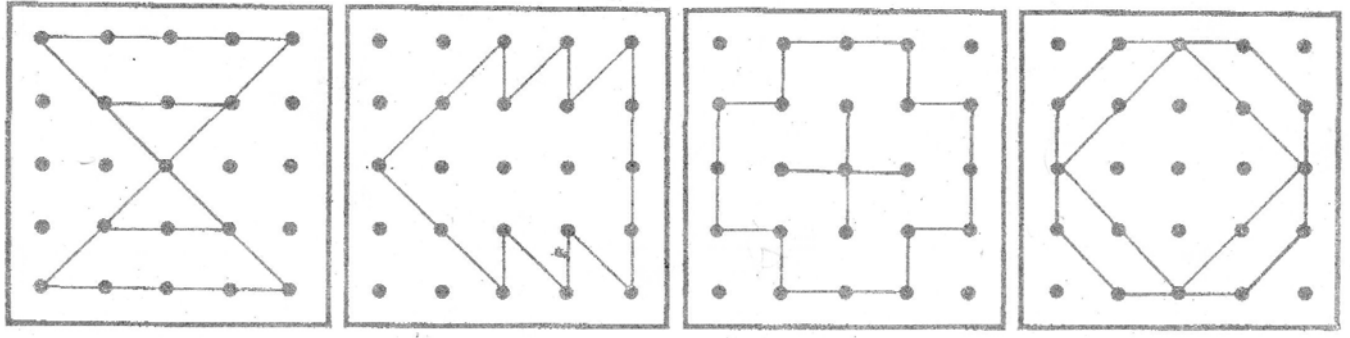
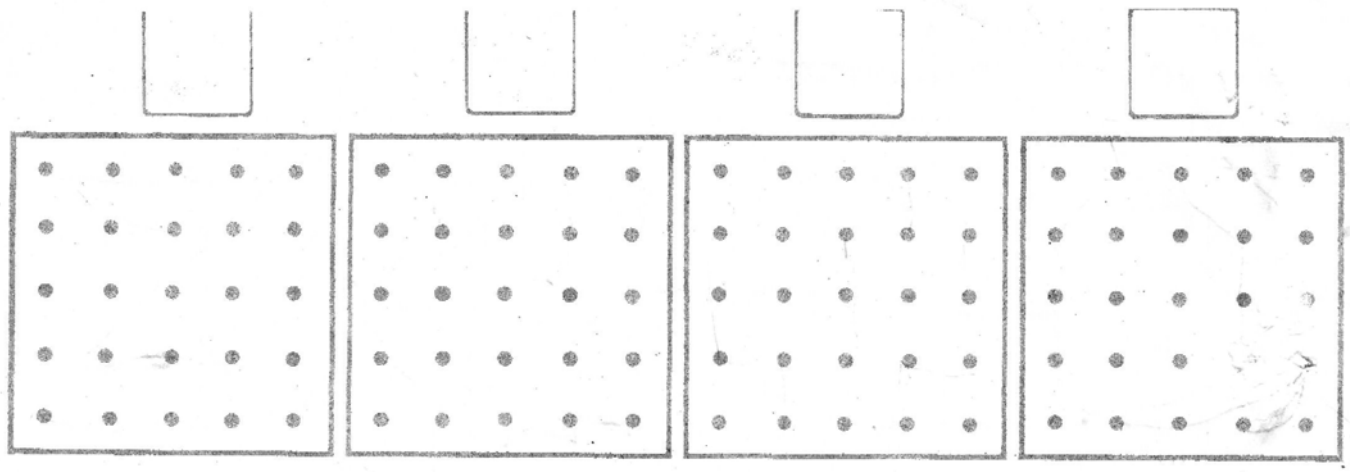
ขีด / ทับตัวอักษรข้อที่แตกต่างจากภาพอื่น

1	 ก.	 ข.	 ค.	 ง.
2	 ก.	 ข.	 ค.	 ง.
3	 ก.	 ข.	 ค.	 ง.
4	 ก.	 ข.	 ค.	 ง.
5	 ก.	 ข.	 ค.	 ง.
6	 ก.	 ข.	 ค.	 ง.


<p>1.</p> 	 <p>ก.</p>  <p>ข.</p>  <p>ค.</p>  <p>ง.</p>
<p>2.</p> 	 <p>ก.</p>  <p>ข.</p>  <p>ค.</p>  <p>ง.</p>
<p>3.</p> 	 <p>ก.</p>  <p>ข.</p>  <p>ค.</p>  <p>ง.</p>
<p>4.</p> 	 <p>ก.</p>  <p>ข.</p>  <p>ค.</p>  <p>ง.</p>
<p>5.</p> 	 <p>ก.</p>  <p>ข.</p>  <p>ค.</p>  <p>ง.</p>

Key. น.1 ① = 132 ② = 213 ③ = 132 ④ = 312 น.2 = คคคคค
 น.3 = กขกคก น.4 = คคขคขง น.5 = คขงขง

6








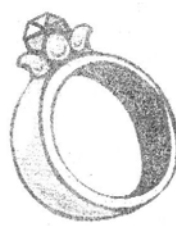

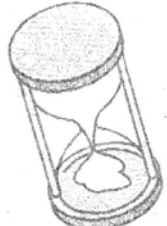



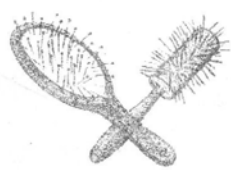







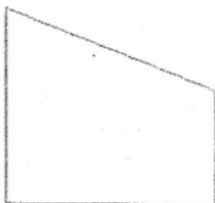
วาดภาพตามตัวอย่าง
หลังจากที่ได้เติมสีให้



ชื่อ _____

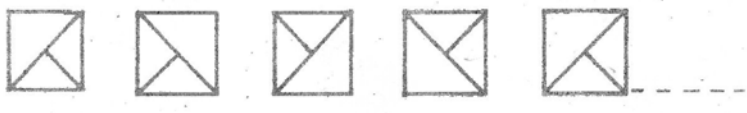
อ. _____

จง / ทับตัวอักษรชื่อที่แตกต่างกัน

<p>1</p>  <p>ก</p>	 <p>ข</p>	 <p>ค</p>	 <p>ง</p>
<p>2</p>  <p>ก</p>	 <p>ข</p>	 <p>ค</p>	 <p>ง</p>
<p>3</p>  <p>ก</p>	 <p>ข</p>	 <p>ค</p>	 <p>ง</p>
<p>4</p>  <p>ก</p>	 <p>ข</p>	 <p>ค</p>	 <p>ง</p>
<p>5</p>  <p>ก</p>	 <p>ข</p>	 <p>ค</p>	 <p>ง</p>

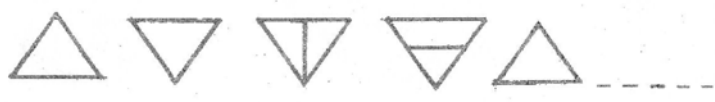
จงหาภาพต่อเนื่องเพื่อเติมลงในช่องว่าง

ก.



- 1.
- 2.
- 3.
- 4.

ข.



- 1.
- 2.
- 3.
- 4.

ค.



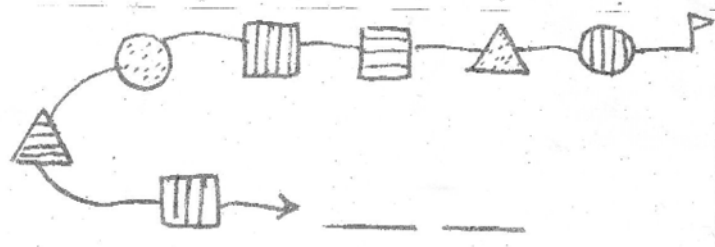
- 1.
- 2.
- 3.
- 4.

ง.



- 1.
- 2.
- 3.
- 4.




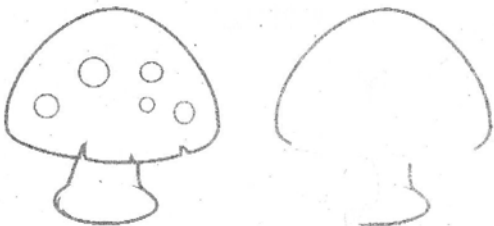
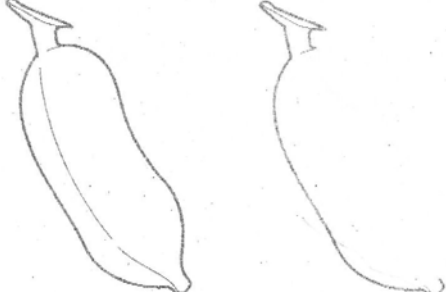



จ.



- 1.
- 2.
- 3.
- 4.


จงเติมส่วนที่หายไปให้เหมือนแบบ

3


อ่านข้อความต่อไปนี้แล้วตอบคำถามข้อ 7 - 10

กระต่ายเห็นเต่าเดินช้าก็หัวเราะเยาะ เต่าบอกว่าชาวเราลัน
 ทำให้เดินช้า แต่ก็ถึงที่หมายได้ กระต่ายท้าเต่าวิ่งแข่ง เต่ารับคำท้า
 เมื่อถึงเวลาแข่ง กระต่ายวิ่งไปได้ครึ่งทางก็ล้มตัวนอนแล้วหลับไป
 พอตื่นขึ้นมาก็รีบวิ่งต่อ แต่สายไปแล้วเพราะเต่าเดินถึงเส้นชัย
 พอดี



7. ใครเดินช้า ชื่อเรื่อง
- ก. กระรอก ข. กระต่าย ค. เต่า
8. ทำไมสัตว์ตัวนั้นจึงเดินช้า
- ก. ขาสั้น ข. ขาเจ็บ ค. ขาหัก
9. ทำไมเต่าจึงชนะ
- ก. ระยะทางสั้นกว่า ข. ขยันและอดทน ค. ใช้ลำตัวกลิ้งไป
10. ทำไมกระต่ายจึงแพ้
- ก. ง่วงนอน ข. ไม่สบาย ค. ประมาท

วาดรูปจากเรื่อง



การบ้าน

1

(30 ก.ย. - 1 ต.ค. 49)

ชื่อ

อ.

จงวงกลมล้อมรอบภาพที่ไม่เข้าพวก

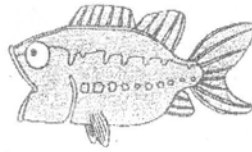
1



ก



ข



ค



ง

2



ก



ข




ค



ง

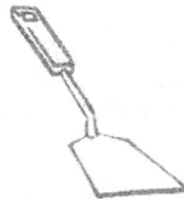
3




ก



ข




ค




ง

4



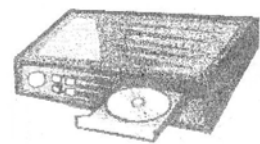
ก



ข



ค



ง

5



ก



ข







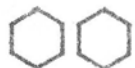






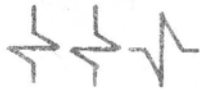










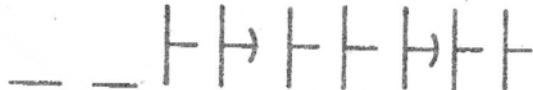
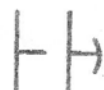




ค

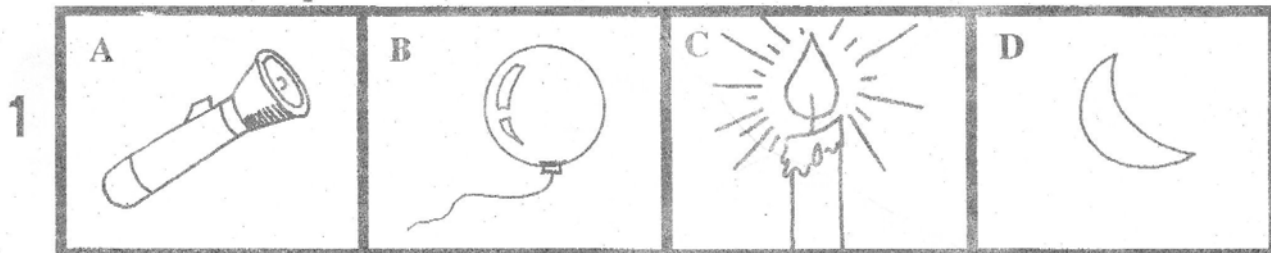


ง

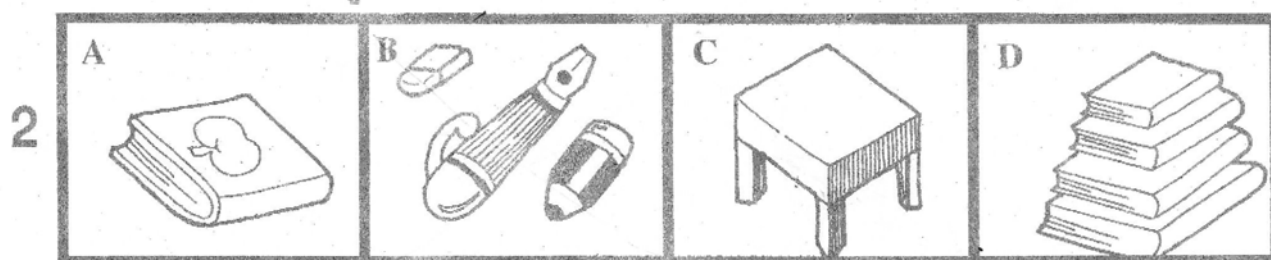
จง X ทับข้อที่ถูกต้องพร้อมเติมคำตอบลงในช่องว่าง

1	    ก ข ค
2	    ก ข ค
3	    ก ข ค
4	    ก ข ค
5	    ก ข ค
6	    ก ข ค
7	    ก ข ค


จง X ทับรูปของเปลวไฟ



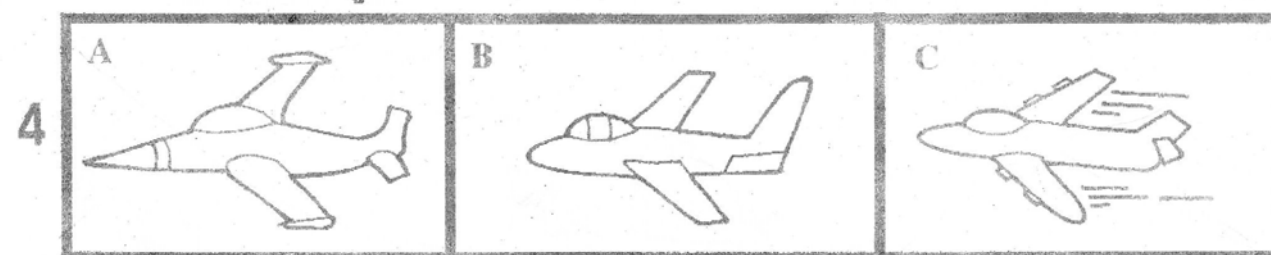
เขียน X ทับรูปที่เป็นเครื่องเขียน



เขียน X ทับรูปใดแสดงว่าออกกำลังกาย



เขียน X ทับรูปไหนแสดงว่าเร็วกว่า



สัตว์ในข้อใดไม่ใช่สัตว์เลี้ยง X ทับ





Key หน้า 1 กคคกข หน้า 2 คกขกขกข

หน้า 3 C B A A C

- จุดมุ่งหมาย 1. ฝึกทักษะการสังเกต
2. ฝึกทักษะการเขียน



คำสั่ง เติมภาพข้างล่างให้เหมือนภาพข้างบน



การบ้าน

(7 - 8 ต.ค. 49)

①

ชื่อ _____ น. _____



จงกาเครื่องหมาย X ทับข้อที่เรียงลำดับภาพได้ถูกต้อง (ข้อ 1 คือตัวอย่าง)

<p>1</p>	<p style="text-align: center;">ก ข ค</p>
<p>2</p>	<p style="text-align: center;">ก. ข. ค.</p>
<p>3</p>	<p style="text-align: center;">ก. ข. ค.</p>
<p>4</p>	<p style="text-align: center;">ก. ข. ค.</p>
<p>5</p>	<p style="text-align: center;">ก. ข. ค.</p>
<p>6</p>	<p style="text-align: center;">ก. ข. ค.</p>



สัปดาห์หน้าสอบ (14 - 15 ต.ค.) นร. ที่ขาดสอบให้มาสอบได้ในวันหยุด ที่

18 ต.ค. เวลา 14.00 - 16.00 น.

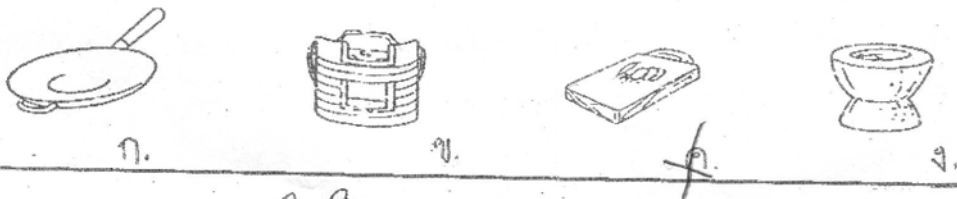
* ประชุมผู้ปกครองที่สวนจตุจักรวันพุธที่ 18 ต.ค. เวลา 9.00 - 10.00 น.

จับ / ทับข้อที่ถูกต้อง


1





2



3



4


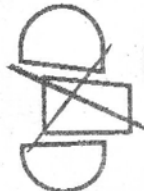















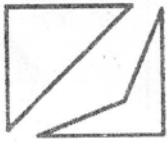

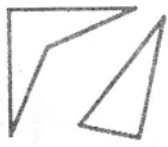


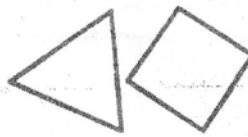









5





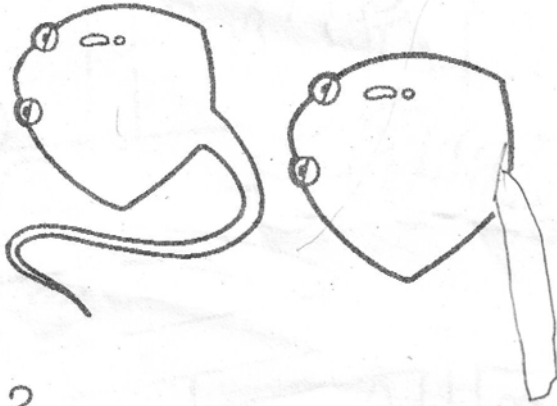

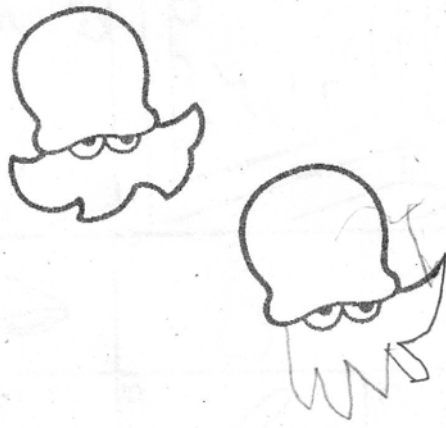



จง X ทับภาพขวามือที่เหมือนกับภาพทางซ้ายมือ (ข้อ 1 คือตัวอย่าง)

<p>1</p> 	<p>ก.</p> 	<p>ข.</p> 	<p>ค.</p> 
<p>2</p> 	<p>ก.</p> 	<p>ข.</p> 	<p>ค.</p> 
<p>3</p> 	<p>ก.</p> 	<p>ข.</p> 	<p>ค.</p> 
<p>4</p> 	<p>ก.</p> 	<p>ข.</p> 	<p>ค.</p> 
<p>5</p> 	<p>ก.</p> 	<p>ข.</p> 	<p>ค.</p> 
<p>6</p> 	<p>ก.</p> 	<p>ข.</p> 	<p>ค.</p> 
<p>7</p> 	<p>ก.</p> 	<p>ข.</p> 	<p>ค.</p> 



เติมภาพที่ขาดหายไปเหมือนภาพตัวอย่าง

<p>1.</p> 	<p>4.</p> 
<p>2.</p> 	<p>5.</p> 
<p>3.</p> 	<p>6.</p> 

ให้เด็กฝึกสังเกตและฝึกการบังคับมือขีดเขียน


ชื่อ _____

ศ. _____


ระบายสี ภาพที่มีความเกี่ยวข้องกับภาพในช่องแรก

* สัปดาห์หน้า 31-1 ม.ค. หยุดเทศกาลปีใหม่ *


1




2



3



4



1								
					ก	ข	ค	ง
2								
					ก	ข	ค	ง
3								
					ก	ข	ค	ง
4								
					ก	ข	ค	ง
5								
					ก	ข	ค	ง



เรียงลำดับเหตุการณ์โดยเติมหมายเลข 1-4

ลงใน ตามลำดับ

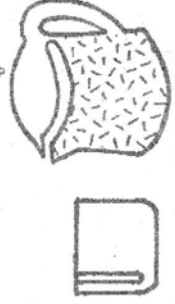
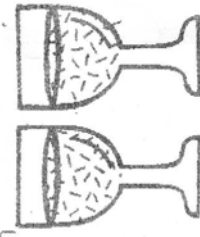
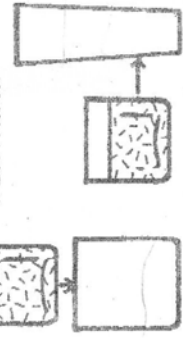
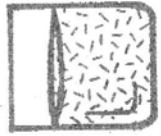
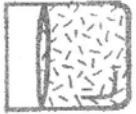
A.

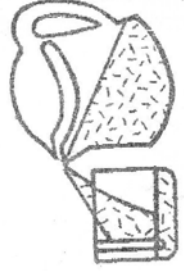
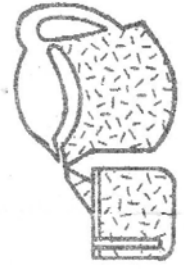
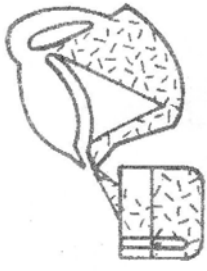
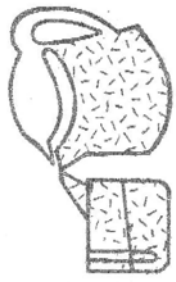
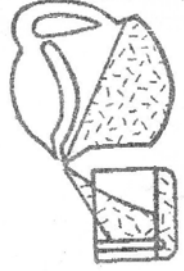
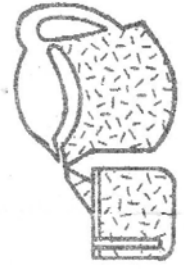

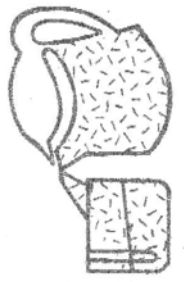
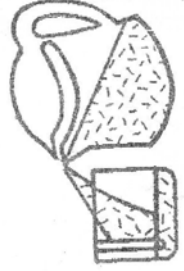
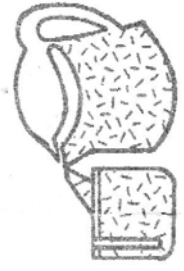

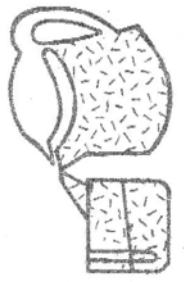
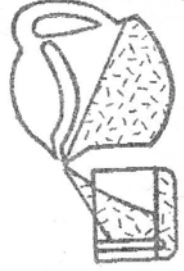
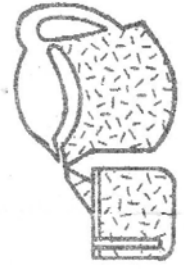

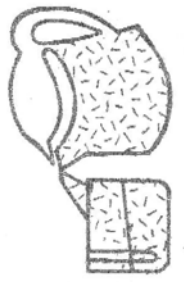


B.

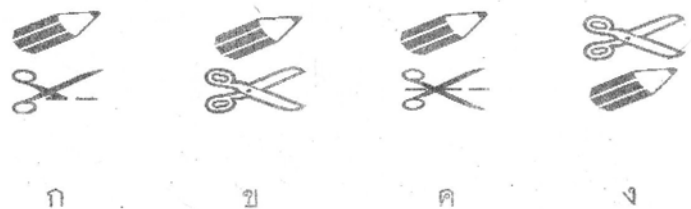
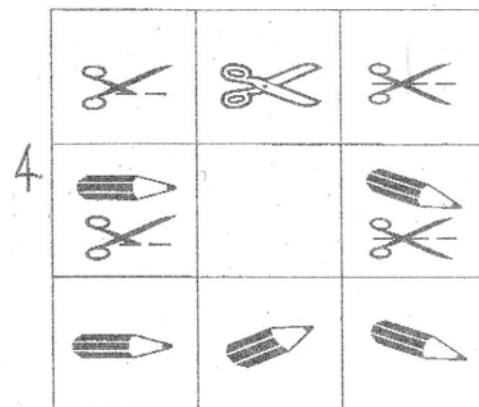
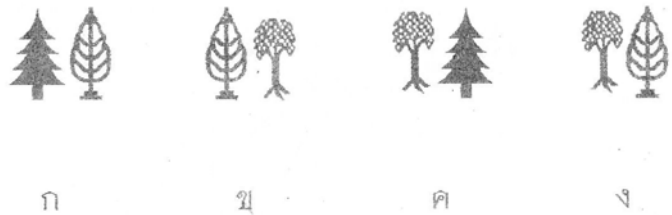

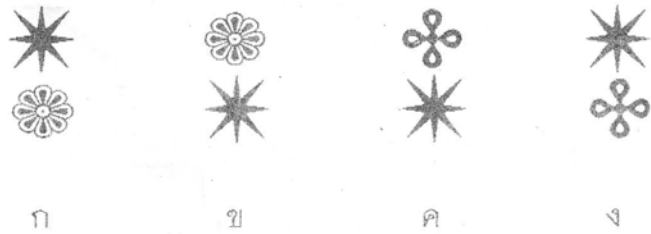

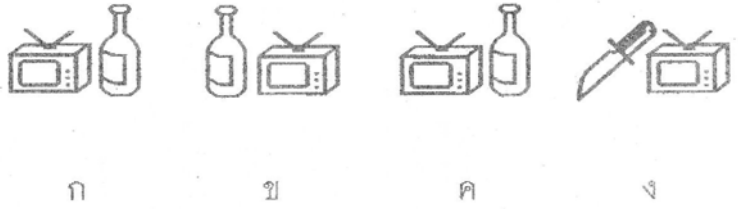
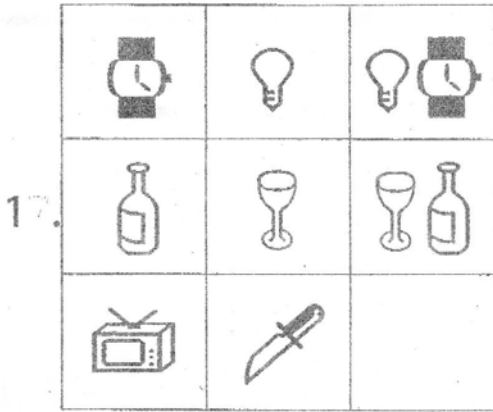


หาความสัมพันธ์ของปริมาณน้ำที่กำหนดในภาพแรก โดย ✓

<p>1. ภาพใดแสดงการรินน้ำจากเหยือกลงแก้วอย่างถูกต้อง</p> 	<p>2. น้ำในแก้ว ข้อใดเท่ากับภาพแรก</p> 	<p>3. น้ำในแก้ว ข้อใดมีปริมาณเท่ากับภาพแรก</p> 	<p>4. เติมน้ำลงจนระดับน้ำไม่สั้น</p> 	<p>5. น้ำข้อใด เท่ากับภาพแรก</p> 
---	--	--	--	--

<p>ก</p> 	<p>ข</p> 	<p>ค</p> 	<p>ง</p> 
<p>ก</p> 	<p>ข</p> 	<p>ค</p> 	<p>ง</p> 
<p>ก</p> 	<p>ข</p> 	<p>ค</p> 	<p>ง</p> 
<p>ก</p> 	<p>ข</p> 	<p>ค</p> 	<p>ง</p> 

✓ ขีดถูก ทับภาพที่นำมาใส่ในช่องว่างได้เหมาะสม





จงหาภาพต่อเนื่องของภาพโดมิโน่ ในช่วงประ

1

ก. ข. ค. ง.

2

ก. ข. ค. ง.

3

ก. ข. ค. ง.

ห. 1 = ข, ค, ข, ก ห. 2 = ง, ก, ค, ค, ก ห. 3 = A = 3 2 1 4 B = 1 4 2 3

ห. 4 = ก, ข, ก, ข, ค ห. 5 = ง, ค, ข, ข ห. 6 = ง, ก, ง

จง X ภาพที่ไม่มีในเรื่อง




จุดประสงค์

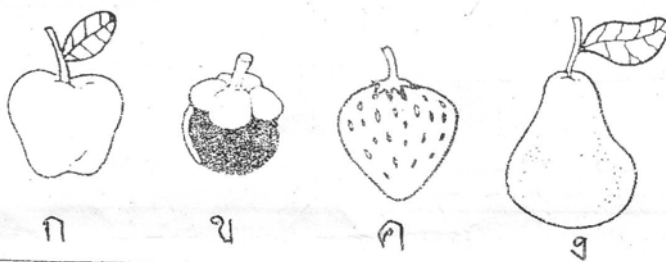
- ฝึกทักษะการอ่าน การสังเกต
- เรียนรู้เรื่อง การอ่าน




1. คุณพ่อพาไปสวนสัตว์
ฉันเห็นช้าง กระต่าย
และปลาแสนสวย




2. คุณแม่ไปตลาด ไปซื้อ
มังคุด แอปเปิ้ล
และส้มโอลูกโต ๆ




3. ไอศกรีมหวานจืด
เทียนไขร้อนจืด
ขับรถไปเที่ยว



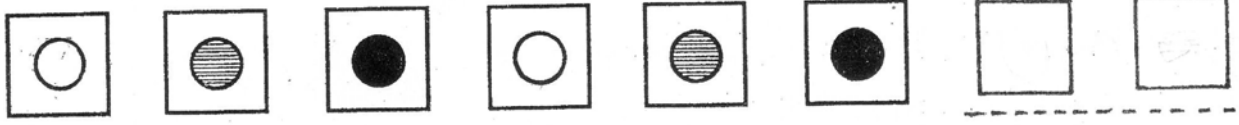
4. ลูกเปิดเล่นน้ำ
ลูกหมูมองดู
เจ้าไก่เดินเล่น



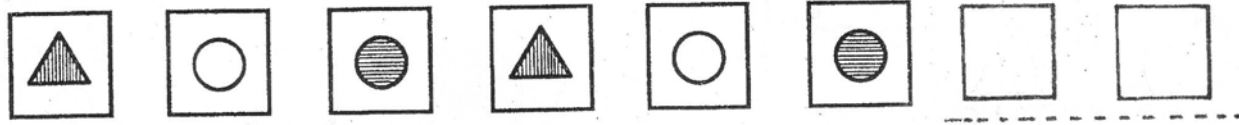
5. กระต่ายน่ารัก
ดินสอเขียน
บ้านสำราญใจเอ๋ย



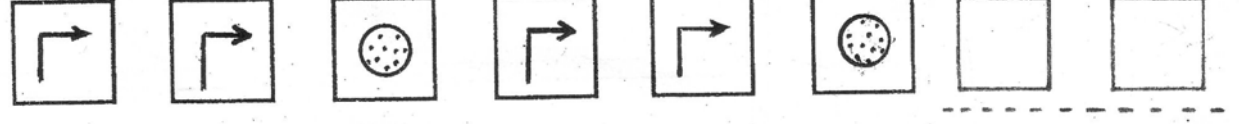
1



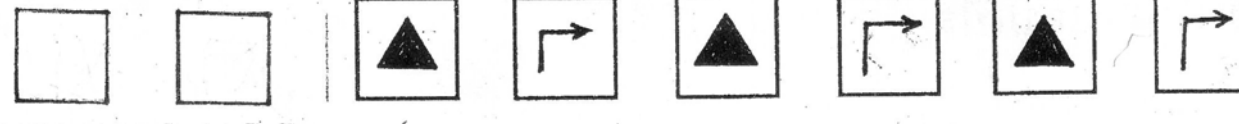
2



3



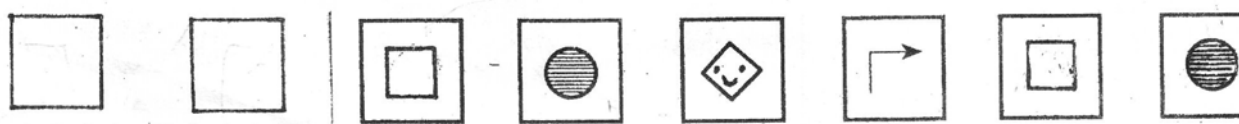
4




5




6




7



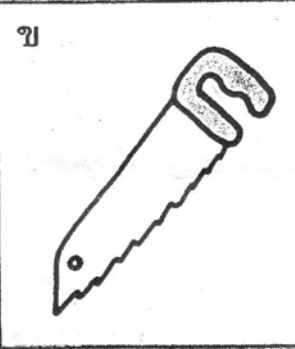

8



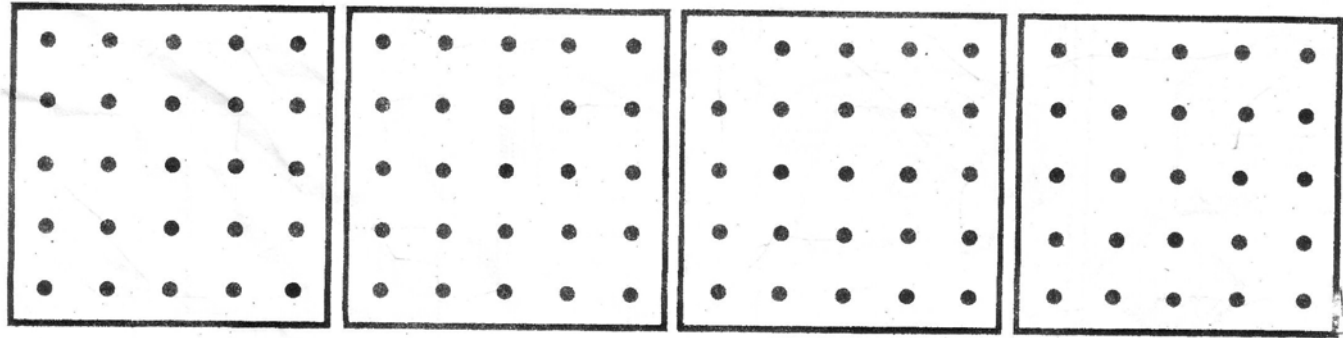
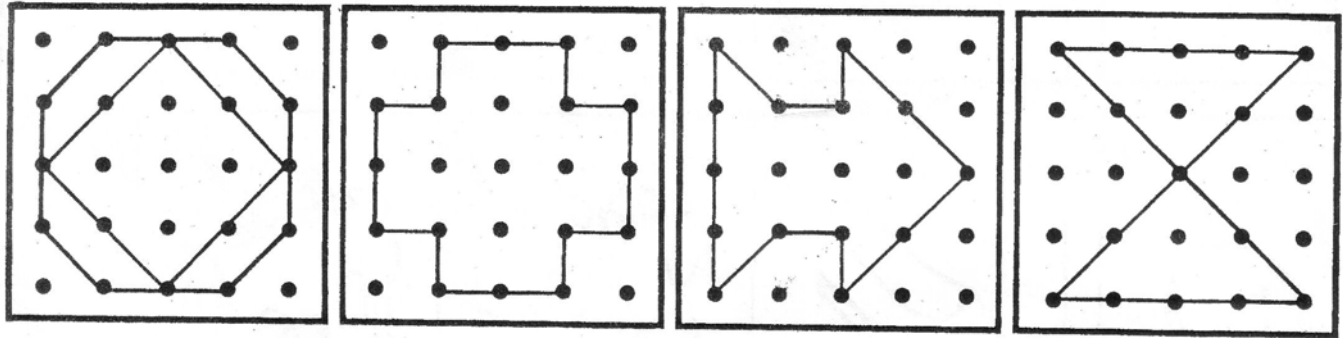
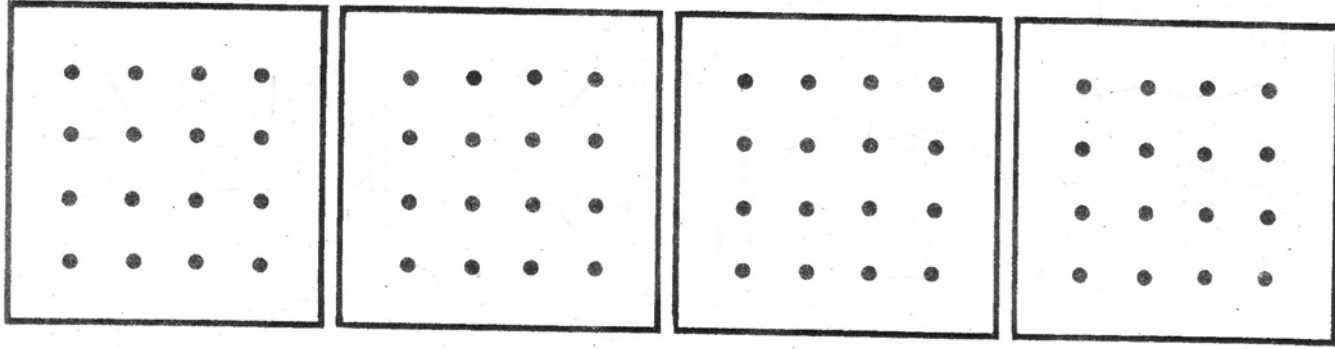
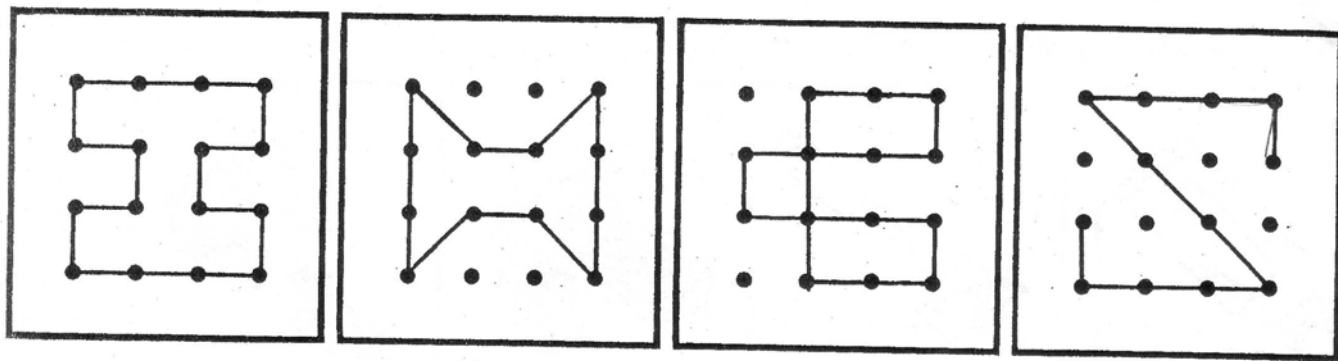
9



X ภาพที่มีความสัมพันธ์ หรือเกี่ยวข้องกับภาพแรก

1		ก 	ข 	ค 
2		ก 	ข 	ค 
3		ก 	ข 	ค 
4		ก 	ข 	ค 
5		ก 	ข 	ค 

key หน้า 1 กคขชง หน้า 2 ๐๐, ▲๐, ▽▽, ▲▽, ▲▲, ◊▽, ●+, ๐○, ๐๐

































การบ้าน



















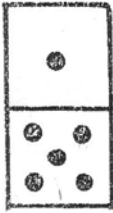
วันที่ 12-17 พ.ย. 48

ชื่อ




จงวงกลม ล้อมรอบภาพที่ใช้คู่กับภาพสิ่งของด้านหน้าในแต่ละข้อ

1					
2					
3					
4					
5					
6					


* วันที่ 10-11 ต.ค. และ 31 ต.ค.-1 ม.ค. 49 หยุดค่ะ




จงขีด ✕ ทับข้อซึ่งแสดงภาพของโดมิโนที่ถูกต้อง



ก





ข



ค



ง




ก



ข












ค



ง

















ก		ข		ค	
ง		จ		ฉ	
ช		ซ		ฅ	

1. มีสัตว์ทั้งหมดกี่ชนิด
2. มีพืชทั้งหมดกี่ชนิด
3. อะไรที่ไม่ใช่ทั้งพืชและสัตว์
4. สัตว์อะไรที่บินได้
5. สัตว์ที่มีขนาดใหญ่ที่สุด







๖๖ X ท้ายข้อซึ่งแสดงภาพของใดมโนที่ถูกต้อง






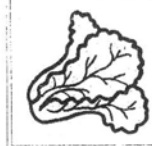


1

		
	?	
	?	
		

2

		?
		?
		

นับจำนวนในภาพบน
และเติมตัวเลขลงใน ในภาพล่าง



1. มี  =

ตัว

4. มี  =

ตัว

2. มี  =

ตัว

5. มี  =

ตัว

3. มี  =

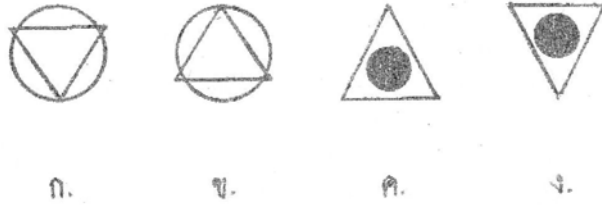

ตัว

6. มี  =

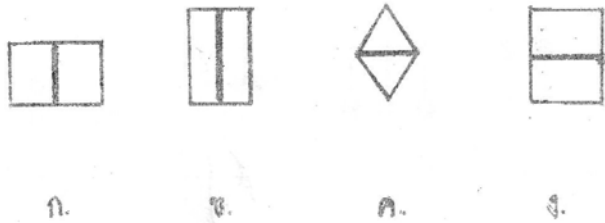
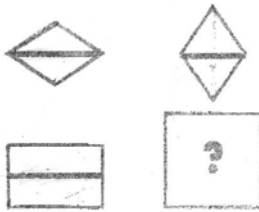
ตัว

ชื่อ _____ น. _____
 วิชา / ทัศนศึกษานรค. สอบที่ถูกต้อง

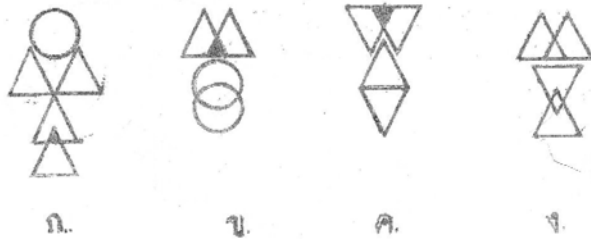
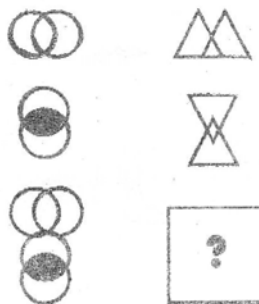
1.



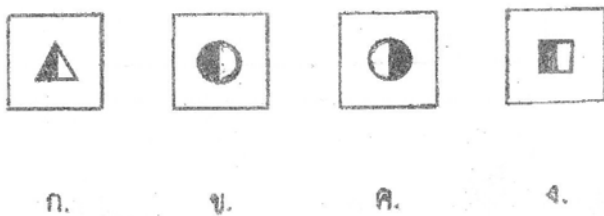

2.



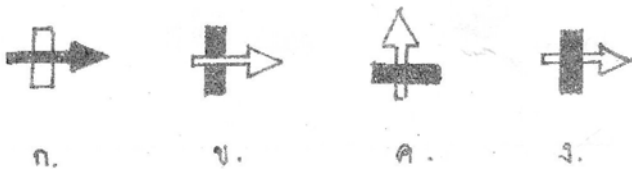
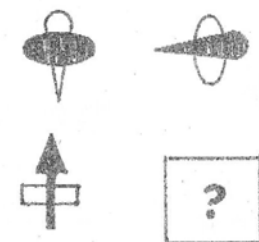
3.



4.



5.



1



A



B




C



D

2



A



B



C



D

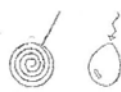
3



A



B



C



D

4



A



B



C



D

/ ชิดเส้นเฉียง ทับจำนวนช่องที่ถูกระบายสีทับ

4	5	6	7
ก	ข	ค	ง

1.

4	5	7	8
ก	ข	ค	ง

2.

3	4	5	6
ก	ข	ค	ง

3.

5	6	7	8
ก	ข	ค	ง

4.



คำสั่ง : ให้กากบาทภาพที่ต่างกัน

1.

ก ข ค ง จ

2.

ก ข ค ง จ

3.

ก ข ค ง จ






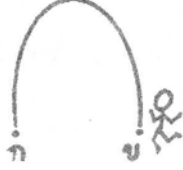




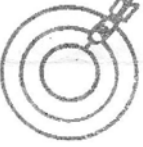
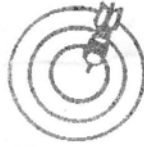













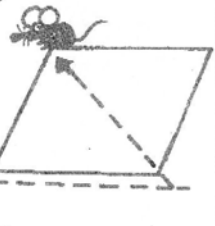
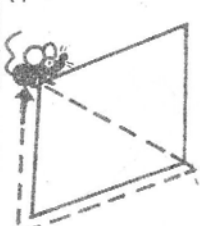
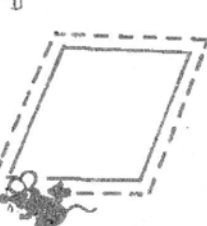
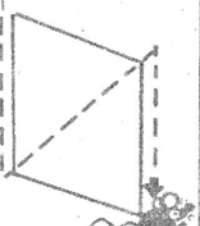
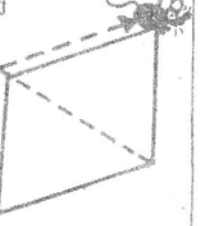
4.

ก ข ค ง จ

























ห.1 = ค, ง, ง, ข, ง ห.2 = ข, ง, ก, ก ห.3 = ค, ค, ค, ค ห.4 = ก, ง, ค, ค

ชื่อ _____ น. _____









ให้นักเรียนขีด ✖ ทับภาพที่มีความยาวและระยะทางเท่ากับภาพแรก









1 	ก 	ข 	ค 	ง 
2 	ก 	ข 	ค 	ง 
3 	ก 	ข 	ค 	ง 
4 	ก 	ข 	ค 	ง 
5 	ก 	ข 	ค 	ง 
6 	ก 	ข 	ค 	ง 

จง 0 ตัวยักขรภาพที่แตกต่างจากภาพอื่น






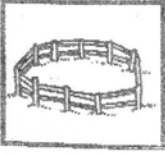


1	 ก.	 ข.	 ค.	 ง.
2	 ก.	 ข.	 ค.	 ง.
3	 ก.	 ข.	 ค.	 ง.
4	 ก.	 ข.	 ค.	 ง.
5	 ก.	 ข.	 ค.	 ง.
6	 ก.	 ข.	 ค.	 ง.





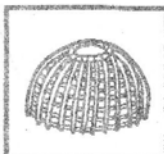



1


			
			

2

1.




ก




ข



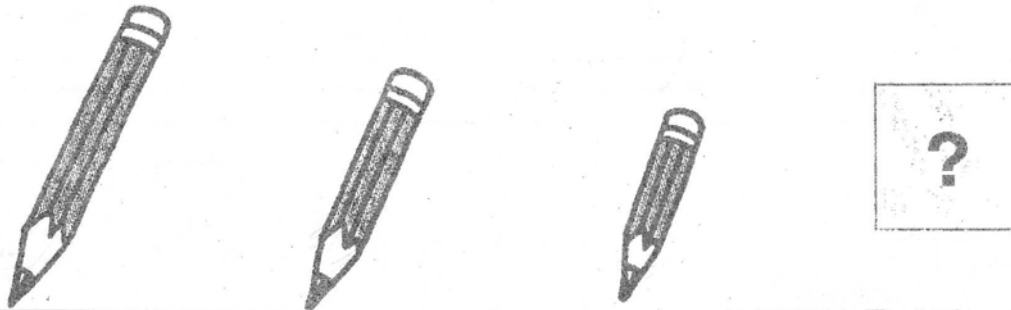
ค



ง



2.



ก



ข



ค



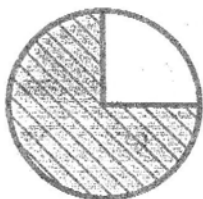
ง



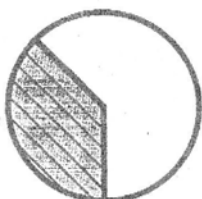
3.




ก



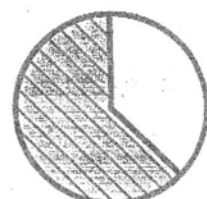
ข



ค


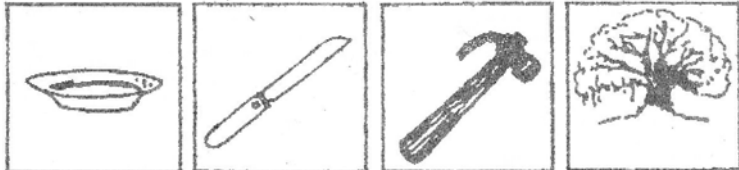


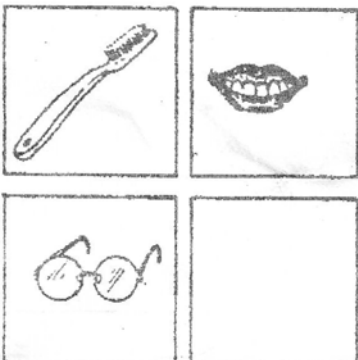

ง

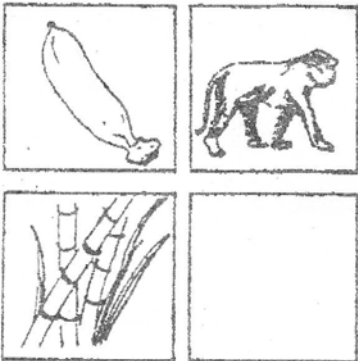



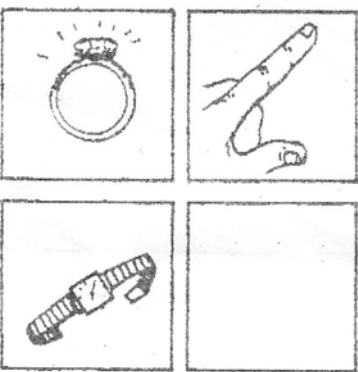
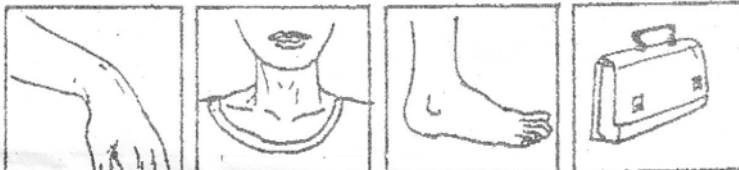
ห. 1 = ค, ก, ง, ก, ค, ง ห. 2 = ค, ง, ค, ง, ง, ข

ห. 3 = ค, ค ห. 4 = ค, ข, ง

1.  
 ก ข ค ง

2.  
 ก ข ค ง

3.  
 ก ข ค ง

4.  
 ก ข ค ง

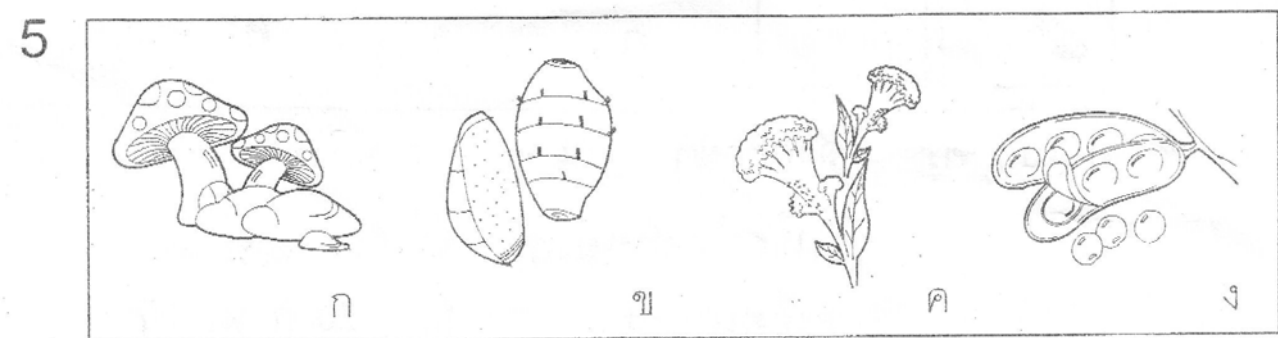
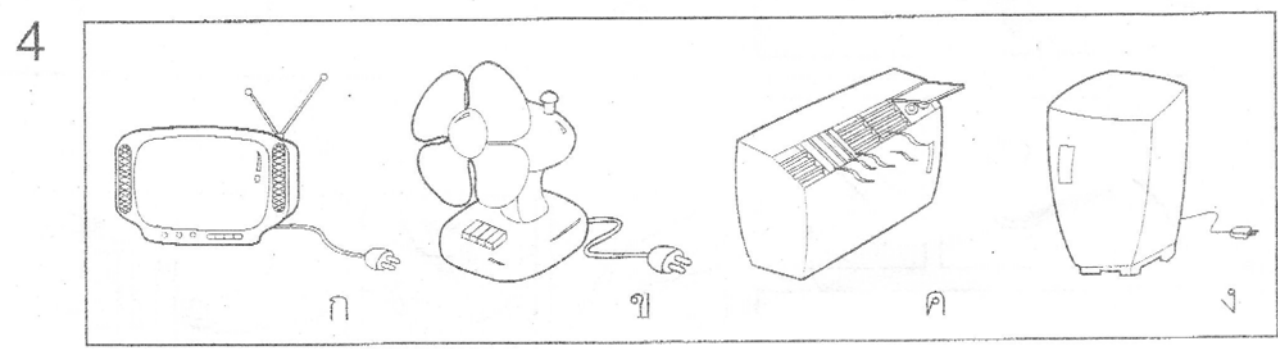
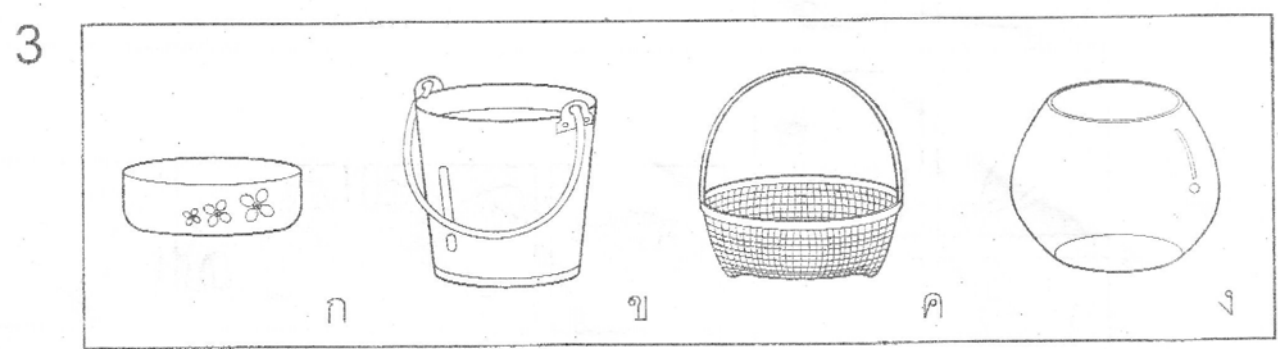
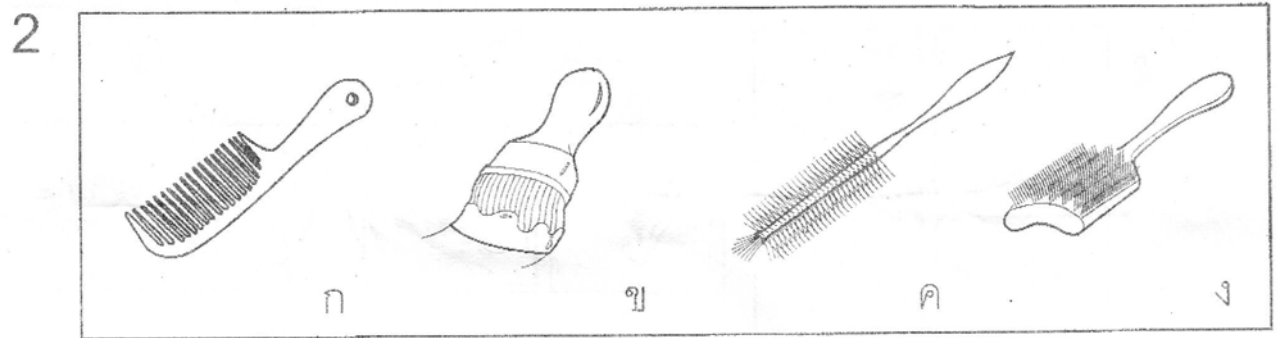
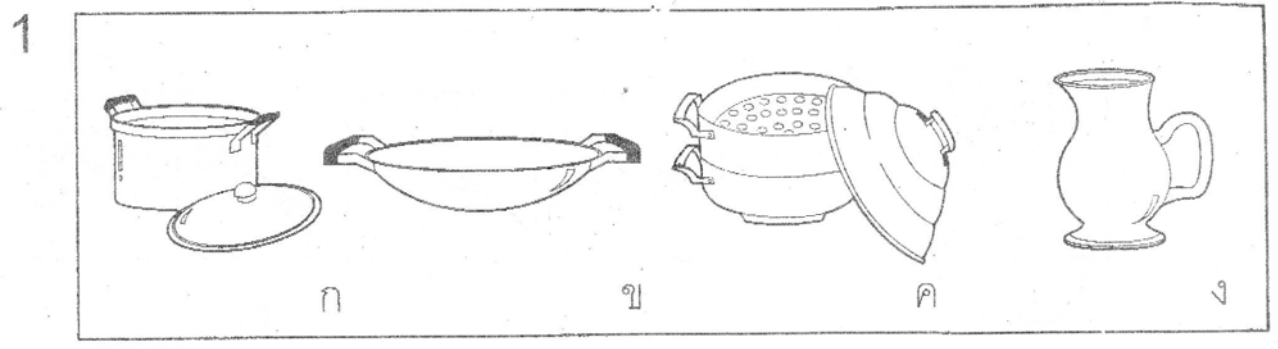
* ขายใบสมัคร - สำเนาจดหมาย 6-17 ก.พ. 49

- สำเนาประสานมิตร 14-17 ก.พ. 49

- สำเนาเกษตร 14-20 ก.พ. 49

กรุณาส่งใบสมัคร Intensive Course ด้วยนะคะ

จงขีด ✓ ภาพที่มีคุณสมบัติต่างจากภาพอื่น



คำสั่ง ให้เขียน X กับภาพที่เกิดขึ้นหลังสุด

1



ก



ข




ค

2



ก



ข



ค

3



ก



ข



ค

4




ก



ข























ค




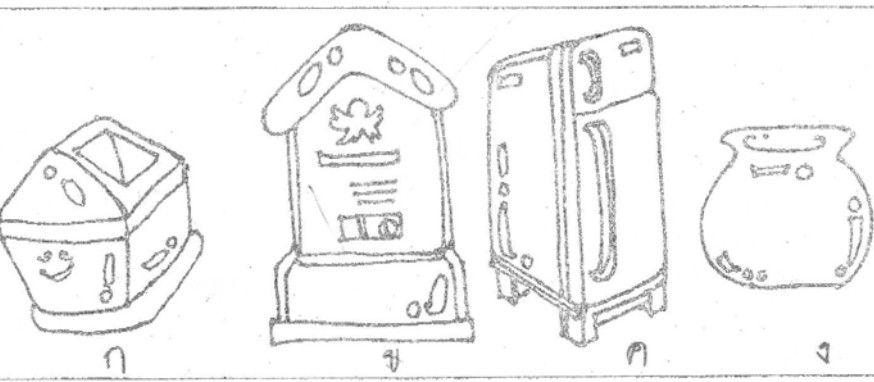

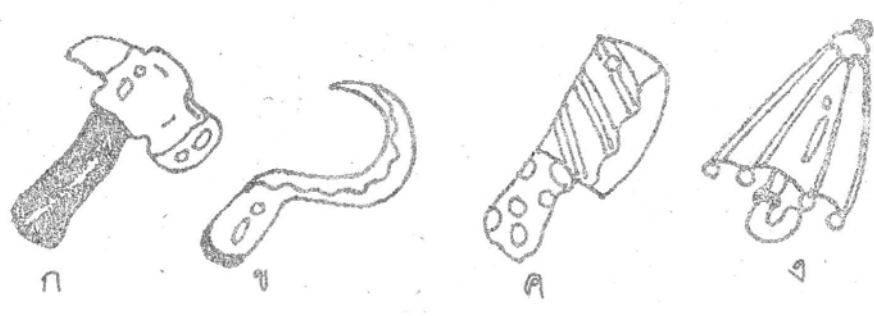
จง X ภาพที่แตกต่างจากภาพอื่น

- จุดประสงค์ 1. ให้เข้าใจถึงลักษณะของสัตว์
- 2. เรียนรู้ธรรมชาติของสัตว์













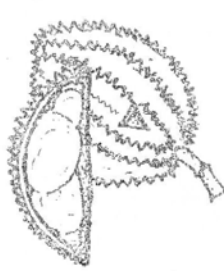

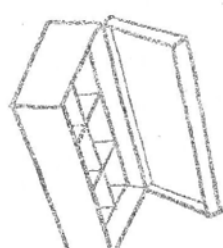



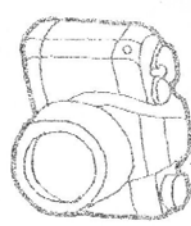





1.	 ก	 ข	 ค	 ง
2.	 ก	 ข	 ค	 ง
3.	 ก	 ข	 ค	 ง
4.	 ก	 ข	 ค	 ง
5.	 ก	 ข	 ค	 ง

ห. 1 = ข, ง, ค, ก ห. 2 = ง, ข, ค, ก, ค ห. 3 = ค, ค, ก, ข ห. 4 = ข, ข, ง, ค, ก





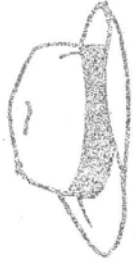

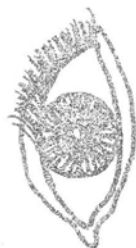




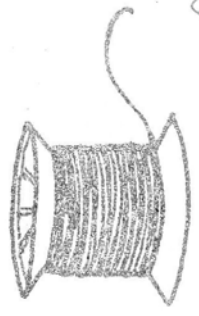








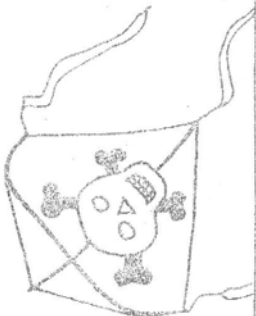

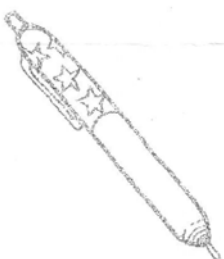


✓ ทับสิ่งของที่สัมพันธ์กับภาพข้างหน้า



ชุด / ภาพต่อภาพปริศนาเพื่อเสริมพัฒนาการ

<p>6.</p> 	<p>11.</p> 	<p>8.</p> 	<p>11.</p> 	<p>7.</p> 
<p>7.</p> 	<p>11.</p> 	<p>12.</p> 	<p>11.</p> 	<p>12.</p> 
<p>8.</p> 	<p>11.</p> 	<p>12.</p> 	<p>11.</p> 	<p>7.</p> 
<p>9.</p> 	<p>11.</p> 	<p>12.</p> 	<p>11.</p> 	<p>7.</p> 
<p>10.</p> 	<p>11.</p> 	<p>11.</p> 	<p>11.</p> 	<p>7.</p> 

จง ๐ ท่ออักษรใดที่มีเสียงพยัญชนะต้นเหมือนกันกับภาพซ้าย

<p>11.</p> 	<p>ก.</p> 	<p>ข.</p> 	<p>ค.</p> 	<p>ง.</p> 
<p>12.</p> 	<p>ก.</p> 	<p>ข.</p> 	<p>ค.</p> 	<p>ง.</p> 
<p>13.</p> 	<p>ค.</p> 	<p>ข.</p> 	<p>ค.</p> 	<p>ง.</p> 
<p>14.</p> 	<p>ก.</p> 	<p>ข.</p> 	<p>ค.</p> 	<p>ง.</p> 
<p>15.</p> 	<p>ก.</p> 	<p>ข.</p> 	<p>ค.</p> 	<p>ง.</p> 

1. เติมน้ำลงภาชนะใด ไม่นั่น

			ข
			ง

ก ค

2. น้ำซอใด เท่ากับภาพแรก

			ข
			ง

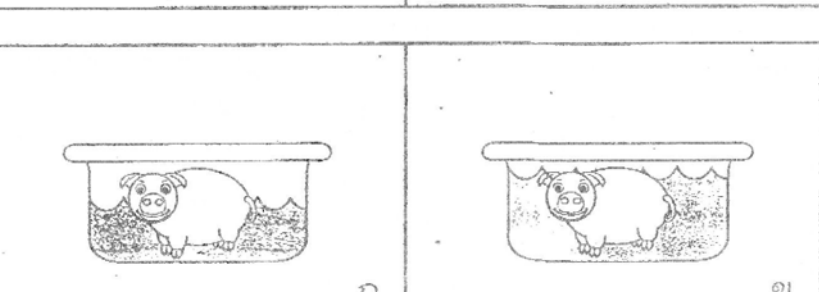
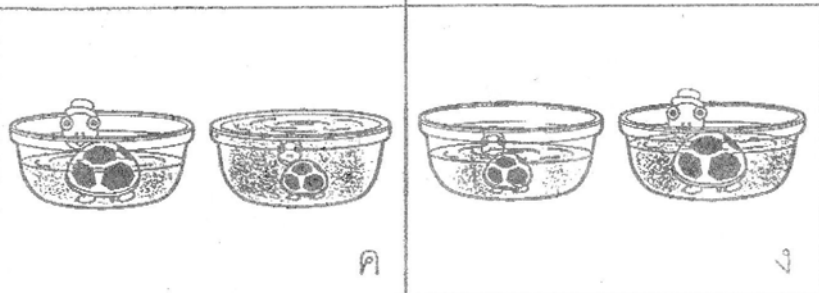
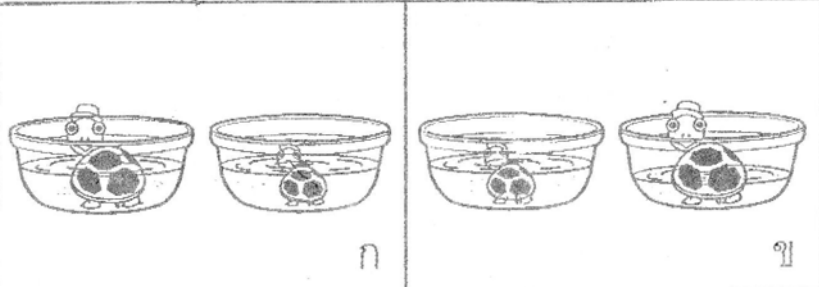
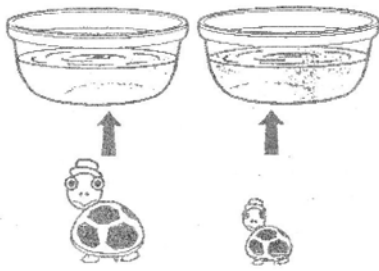
ก ค

3. นำน้ำในแก้วที่ 2 เทลงในแก้วที่มีขนาดเล็กกว่าระดับน้ำจะเป็นอย่างไร

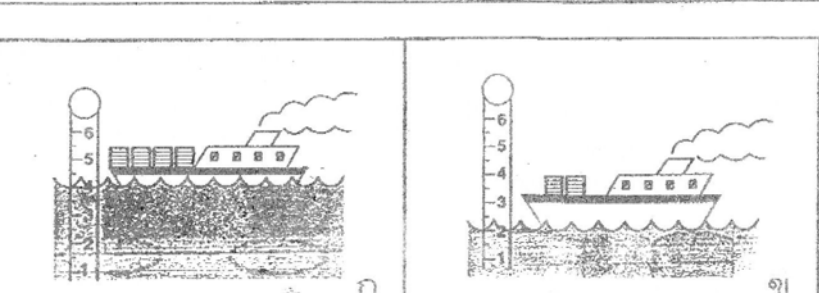
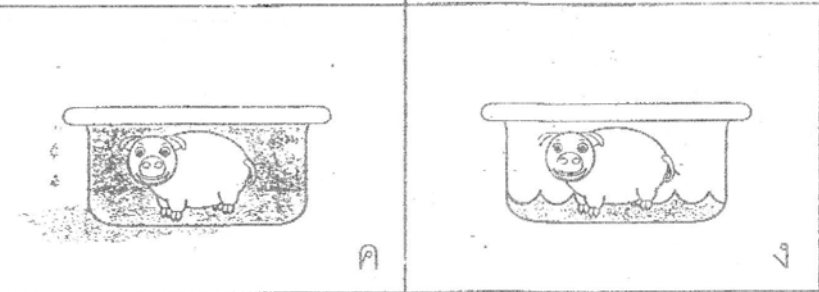
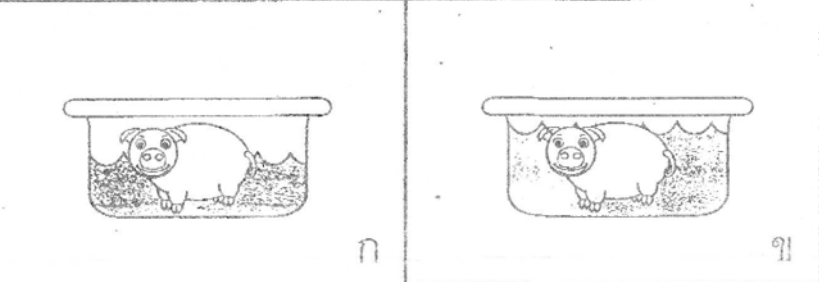

			ข
			ง

ก ค



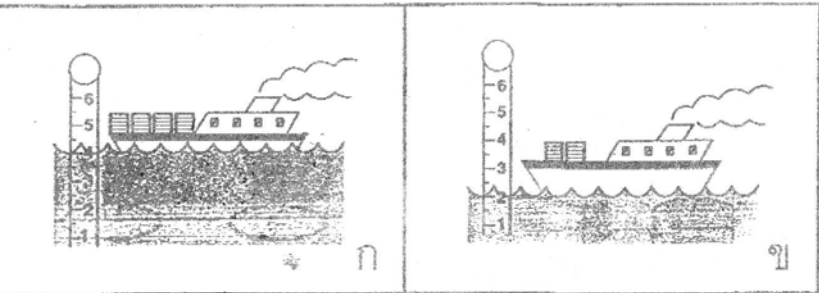
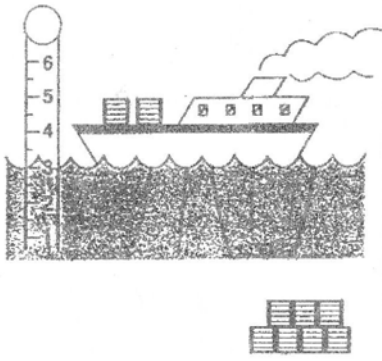
4 อ่างแก้ว 2 ใบ มีระดับน้ำเท่ากันน้ำเต้า 2 ตัวขนาดเล็กและใหญ่ ใส่ในอ่างแก้วอ่างละ 1 ตัว ระดับน้ำจะเป็นอย่างไร



5 อ่างน้ำมีน้ำอยู่ครึ่งอ่าง ถ้าหมูลงไปนอนอาบน้ำในอ่างระดับน้ำจะเป็นอย่างไร



6 ท่าเรือแห่งหนึ่งมีเรือบรรทุกสินค้าจอดอยู่ด้านหลังสินค้าใส่เรือจนเต็มลำ ระดับน้ำจะเป็นอย่างไร



ห.1 = ก ข ง ร ค ห.2 = ข บ ค ข ก ห.3 = ข ค ข ง ก ห.4 = ค ง ก ข ค
 ห.5 = ข ค ค ห.6 = ง ข ก

ชื่อ

.....

1.

2.

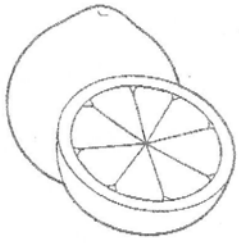


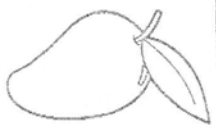

3.

4.




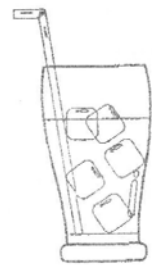

5.

จงขีด X ภาพที่มีคุณสมบัติเหมือนสิ่งที่กำหนดไว้ในช่องแรก

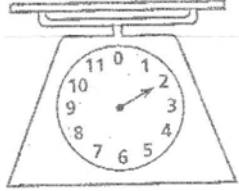


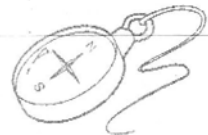

1

	 ก	 ข	 ค	 ง
---	--	--	---	--

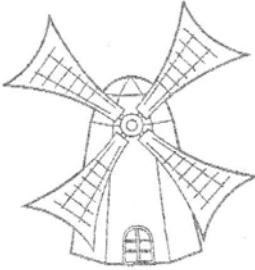




2

	 ก	 ข	 ค	 ง
---	--	--	---	--






3

	 ก	 ข	 ค	 ง
---	--	--	---	--

4

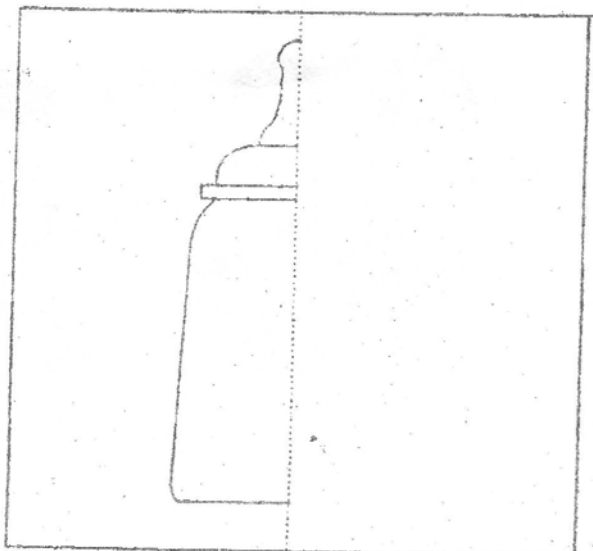
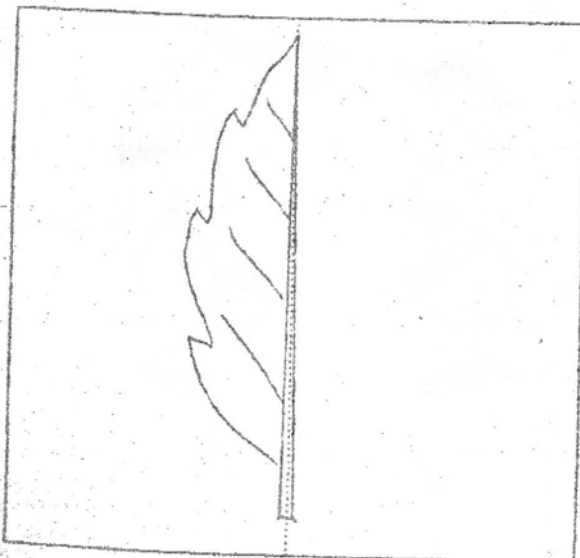
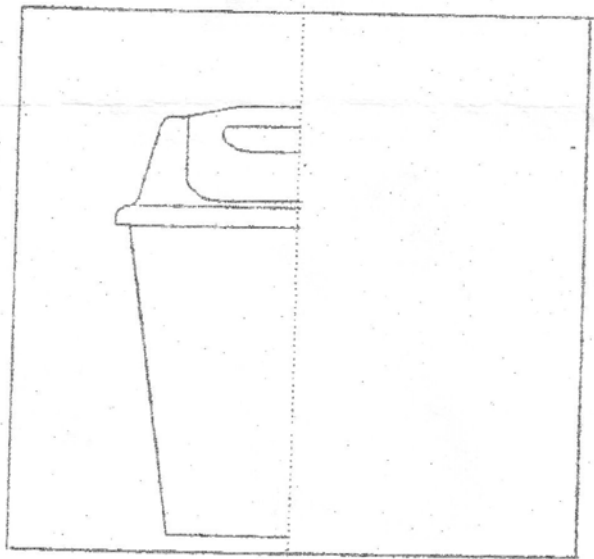
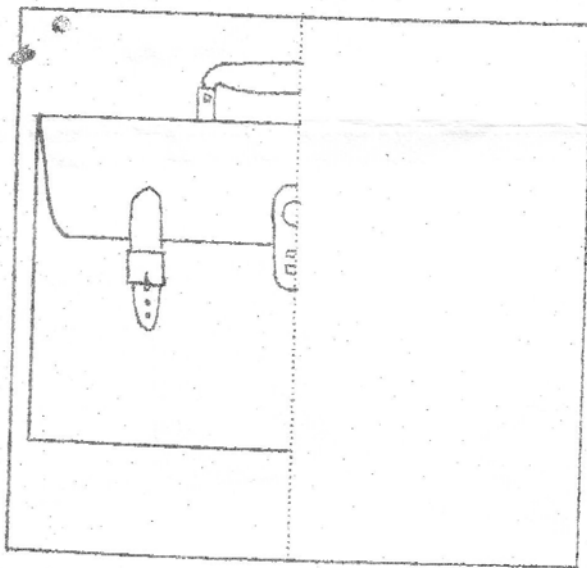
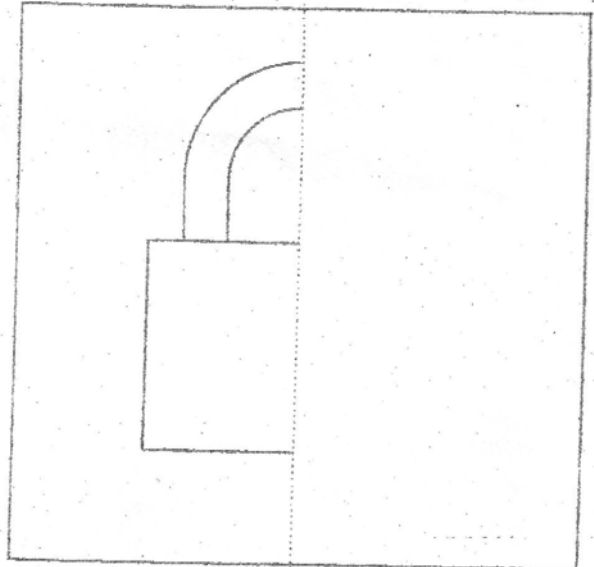
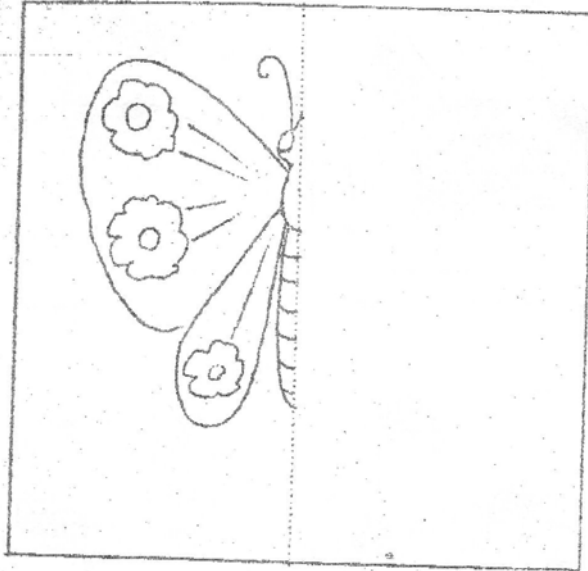
	 ก	 ข	 ค	 ง
---	--	--	---	--

5



	 ก	 ข	 ค	 ง
---	--	--	---	--



จงเติมภาพด้านขวาให้ภาพสมบูรณ์



















































คำสั่ง ให้เขียน ✓ กับภาพที่เกิดขึ้นก่อน

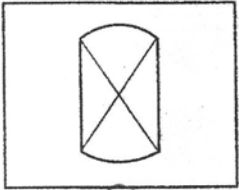
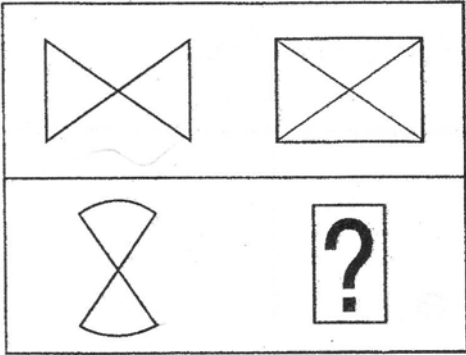


น. 1 = ก, ข, ค, ง, จ น. 2 = ค, ค, ง, ก, ง น. 3 = น. 4 = ข, ก, ข, ค

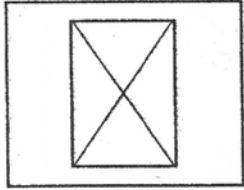
วง ○ รอบภาพที่ขาดหายไปจากช่องสี่เหลี่ยม

1	2	3	4
			
			
			
			
			
			
			
			
			
  <p>ก. ข.</p>	  <p>ก. ข.</p>  <p>ค.</p>	 <p>ก.</p>   <p>ข. ค.</p>	 <p>ก.</p>  <p>ข.</p>   <p>ค. ง.</p>

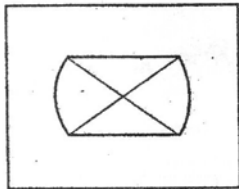
5



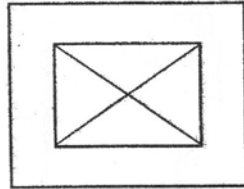
က



ခ

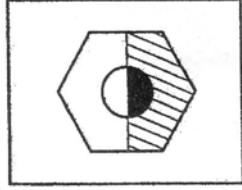
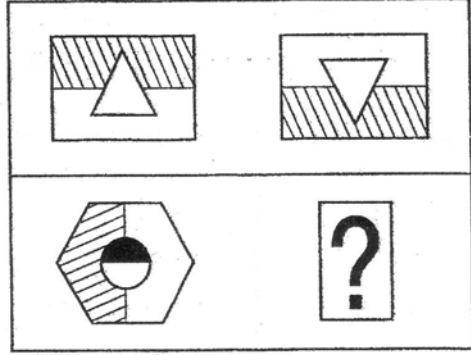


ဂ

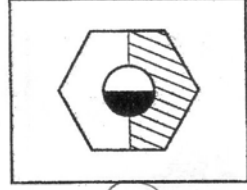


င

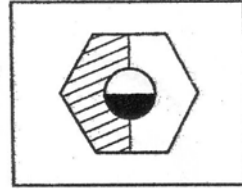
6



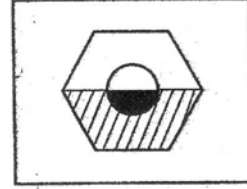
က



ခ

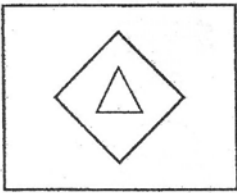
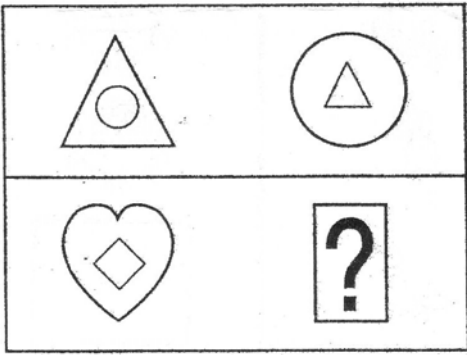


ဂ

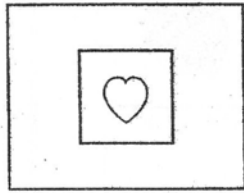


င

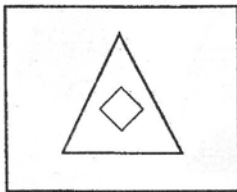
7



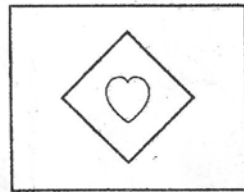
က



ခ

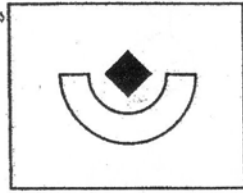
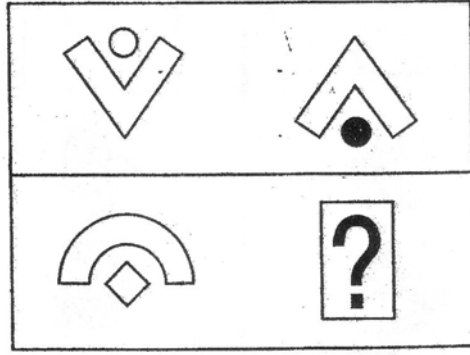


ဂ

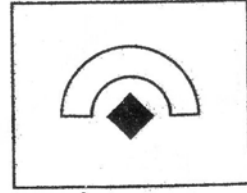


င

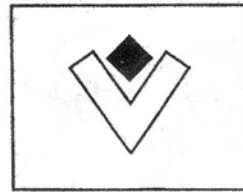
8



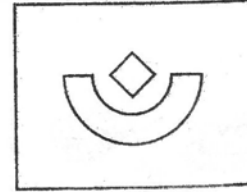
က



ခ



ဂ




























င



จง X ทั้บข้อที่ถูกต้อง

<p>1</p>	
<p>2</p>	
<p>3</p>	
<p>4</p>	
<p>5</p>	
<p>6</p>	
<p>7</p>	
<p>8</p>	

1.					
			ဂ.	ဃ.	က.
2.					
			ဂ.	ဃ.	က.
3.					
			ဂ.	ဃ.	က.
4.					
			ဂ.	ဃ.	က.
5.					
			ဂ.	ဃ.	က.

န. 1. ဗ, ခ, ဓ, ဇ 2. ဂ, င, ဇ, ဂ 3. ခ, ဂ, ဓ, ဂ, င, ဇ, ဇ, ဇ 4. ဂ, င, ခ, ဂ, ခ

การบ้าน

14-19 ม.ค. 49
















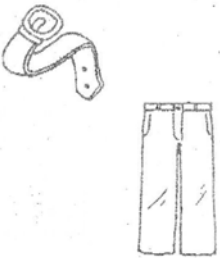









ชื่อ _____

ชั้น ค. _____

* * ข่าวสาร

วันเสาร์ที่ 28 ม.ค. วันลาหยุดที่ 29 ม.ค. 49 หยุดสอบตามรอบที่เรียนคือ
วันอังคาร, พก. สดบวันที่ 31 ม.ค. และ 2 ก.พ. 49 ค่ะ * *

จง ระบายสีภาพต่อไปนี้

1					
2					
3					
4					
5					

เขียนจุดแสดงจำนวนใน  ให้สัมพันธ์กัน

1

--	--	--	--	--	--

2.

--	--	--	--	--	--

3

--	--	--	--	--	--

4

--	--	--	--	--	--

5

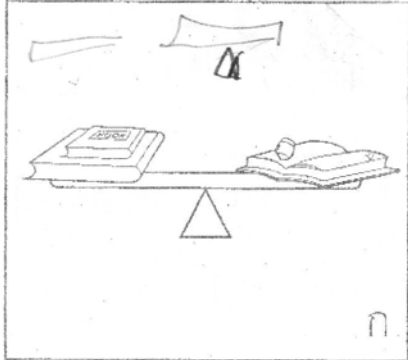
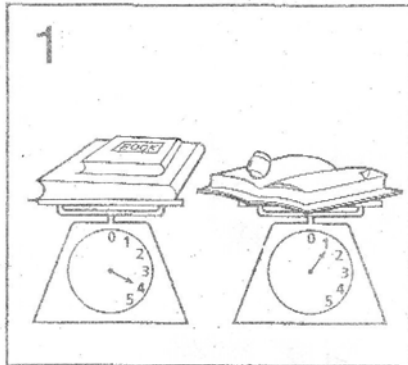
--	--	--	--	--	--

6

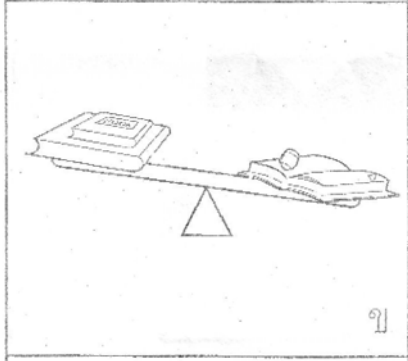
--	--	--	--	--	--

จงขีด ✓ ข้อที่มีน้ำหนักสัมพันธ์กับภาพในช่องแรก

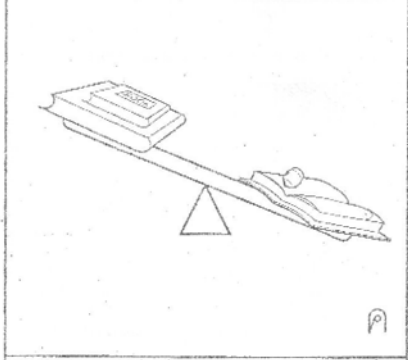
3



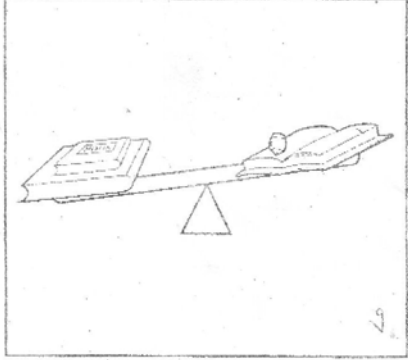
ก



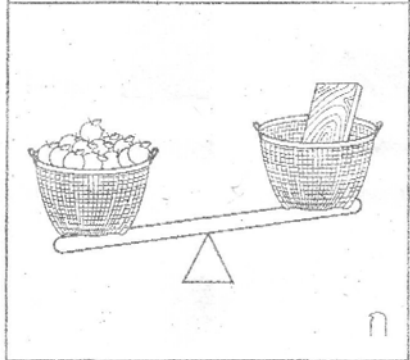

ข



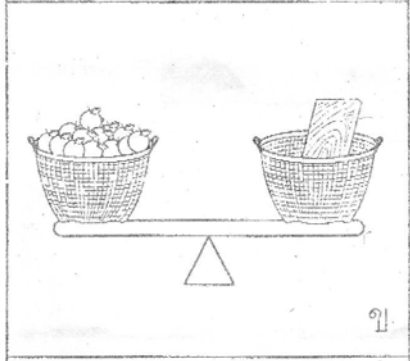
ค



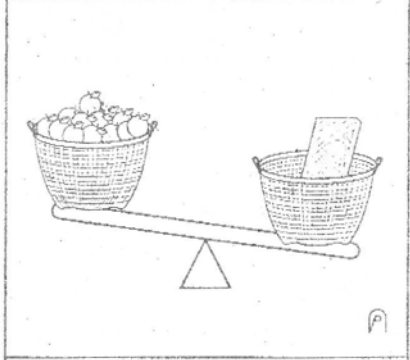
ง



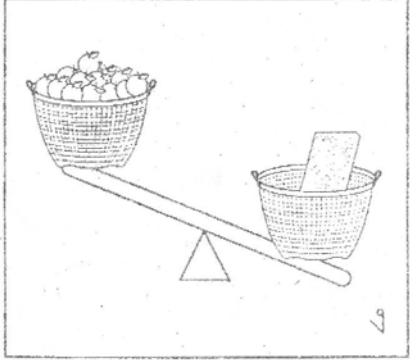
ก




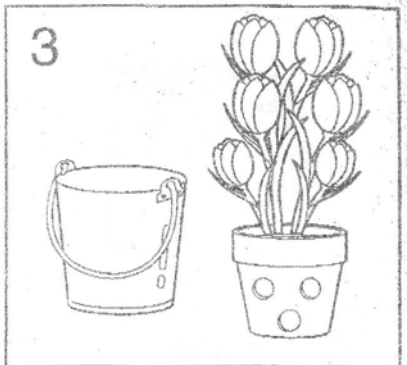
ข




ค




ง




ก



ข



ค





ง



ชุด / ภาพต่อเนื่อง โดยดูจากภาพตัวอย่าง




1.




A.



B.




C.



D.


2.



A.



B.

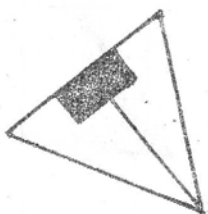
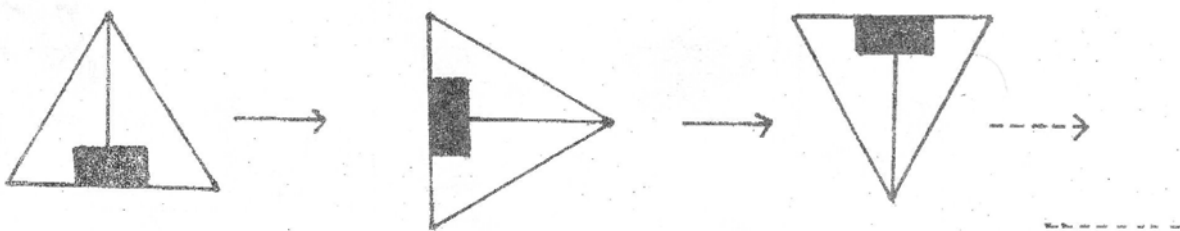


C.

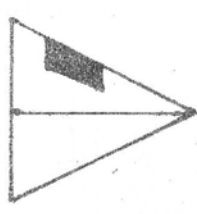


D.

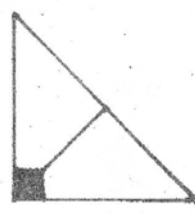
3.



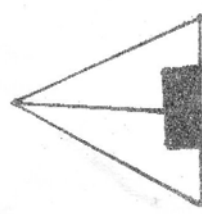
A.



B.



C.

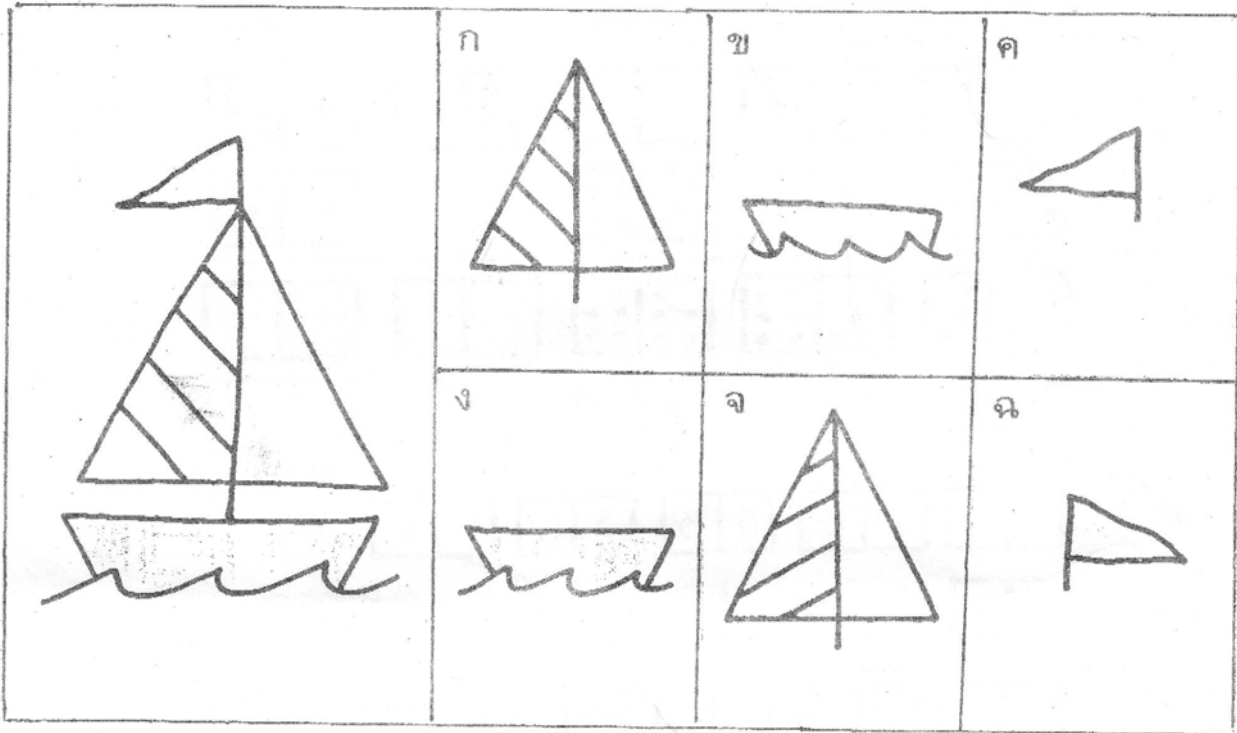


D.


ห.1 = 1, ค, 1, ค, 1 ห.2 = $\frac{1}{7}, \frac{2}{3}, \frac{3}{4}, \frac{3}{2}, \frac{4}{2}, \frac{6}{1}$ ห.3 = 3, ก, 1 ห.4 = C, B, D

หาส่วนประกอบของภาพด้านซ้ายมือ
พบแล้วจงขีด X ทับภาพถูกต้อง

1

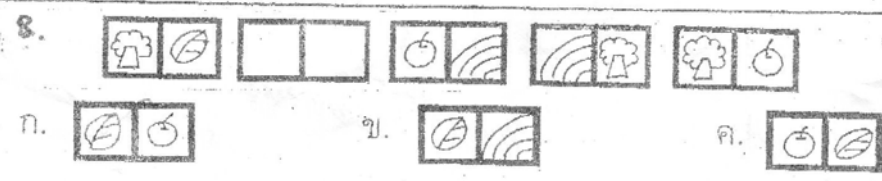

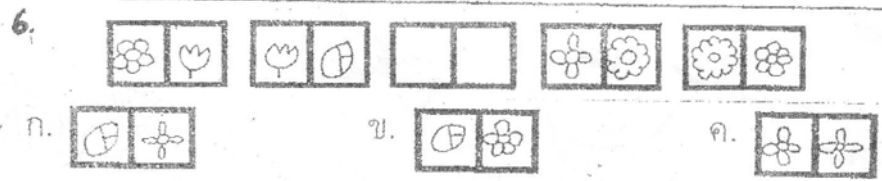
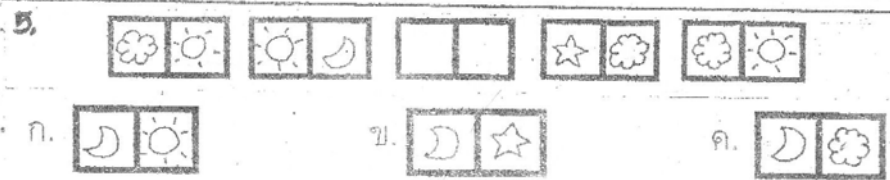
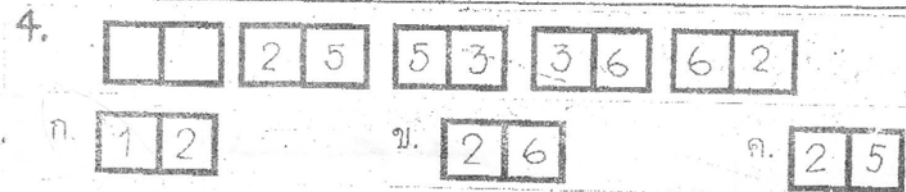
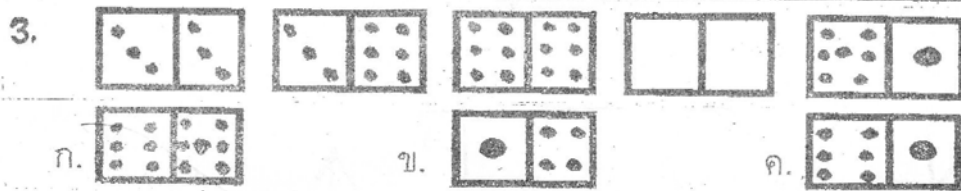
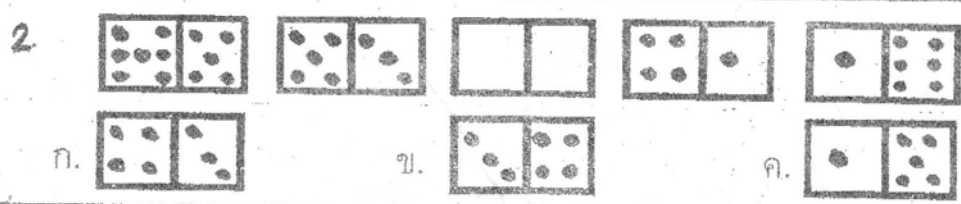
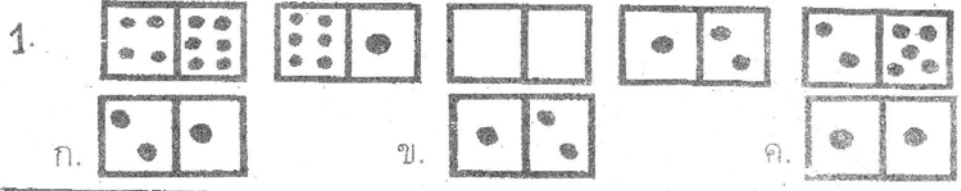


2



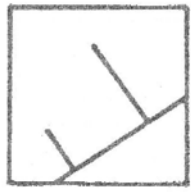
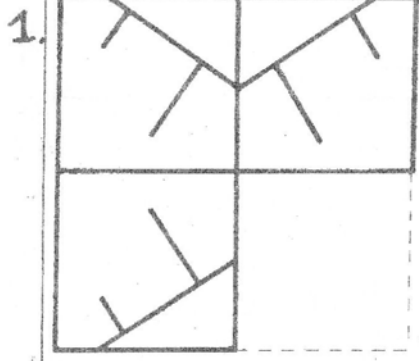
* * * สัปดาห์หน้าสอบ (ตามรอบที่เรียน) - เสาร์ที่ 29 ม.ค. เข้า 9.30-12.00 น. ปลาย 13.00-16.30 น.
 ลย้ายาตเรียนหะคะ ถัดต้องกรุเปลือน - พฤหัสบดีที่ 29 ม.ค. เข้า 9.30-12.00 น.
 รสบสอบกรุณาแจ้งคุณครุด้วยคะ - อังคารที่ 31, พฤษภ. 14.30 น. - 16.30 น.

① หน้าหน้าเขียน X หน้าข้อที่ถูกต้อง

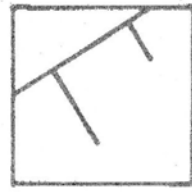


จัด / ทับตัวอักษรภาพที่หายไป

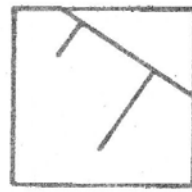
3.



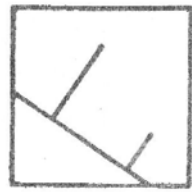
ก.



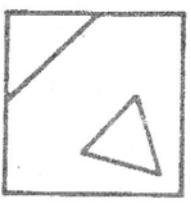
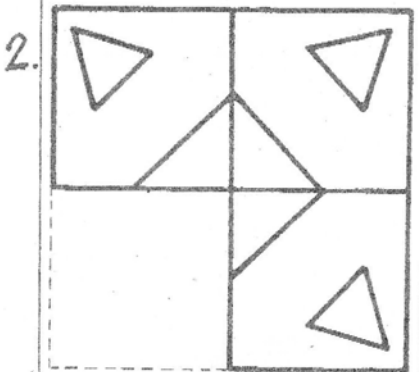
ข.



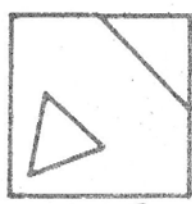
ค.



ง.



ก.



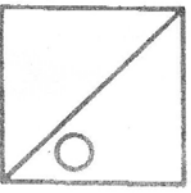
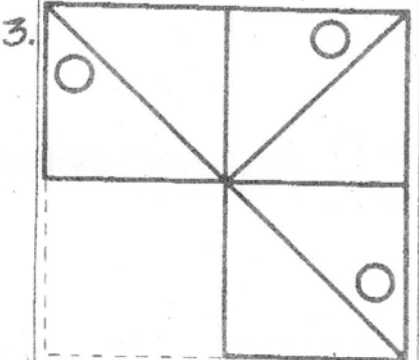
ข.



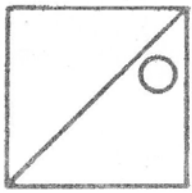
ค.



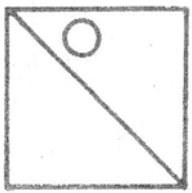
ง.



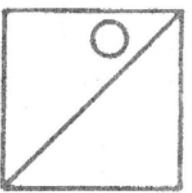
ก.



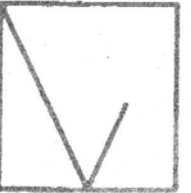
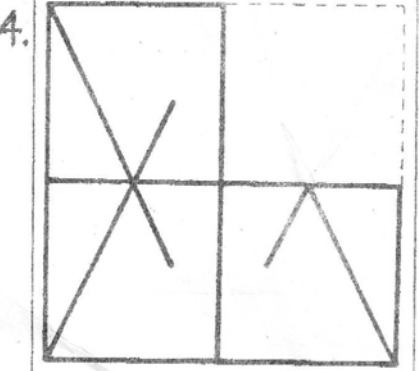
ข.



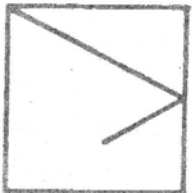
ค.




ง.




ก.




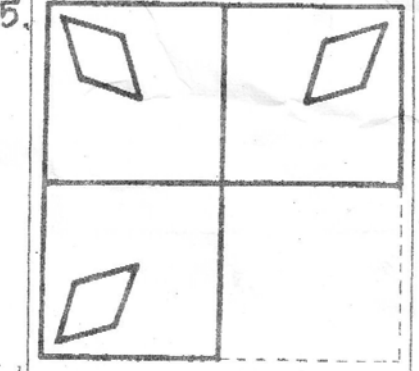
ข.




ค.




ง.




ก.



ข.

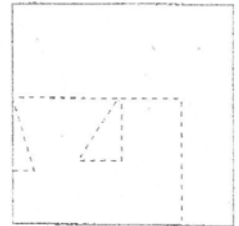
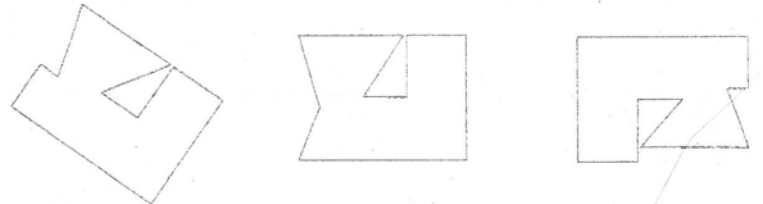
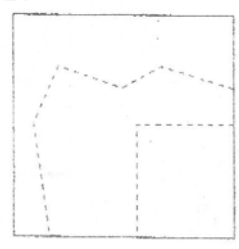
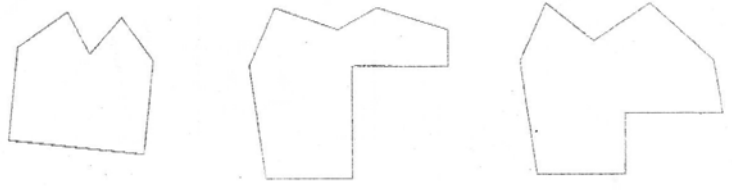
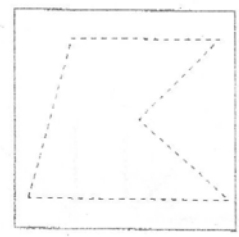
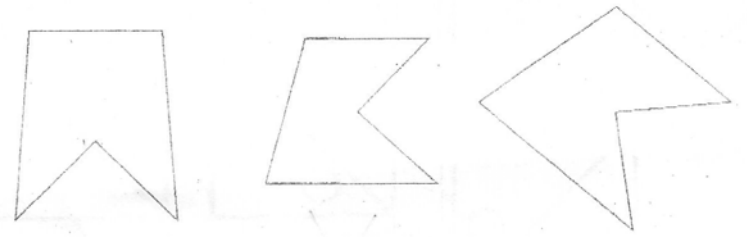
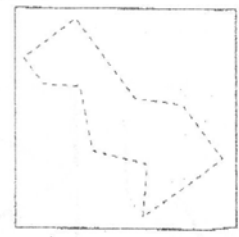

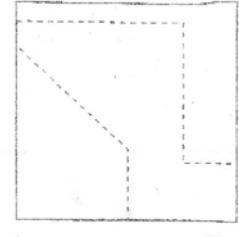
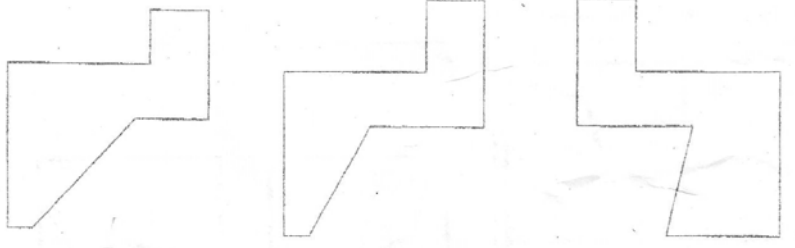


ค.



ง.

X ภาพชิ้นส่วนที่สามารถต่อกับภาพในช่องแรกได้

<p>1</p> 	 <p>ก ข ค</p>
<p>2</p> 	 <p>ก ข ค</p>
<p>3</p> 	 <p>ก ข ค</p>
<p>4</p> 	 <p>ก ข ค</p>
<p>5</p> 	 <p>ก ข ค</p>

น.1. 1=ก,ค,ง 2=ค,ง,ก น.2 ค,ข,ก,ก,ข,ก,ข,ก น.3. ง,ข,ก,ค,ค น.4. ก,ข,ค,ก,ก

การบ้าน (7-12 ม.ค. 49) ชื่อ

X กากบาท ห้ภาพที่นำมาเติมในช่องว่างได้ถูกต้อง ตามเหตุผลด้านบน

1

	ก	ข
	ค	ง

2

	ก	ข
	ค	ง










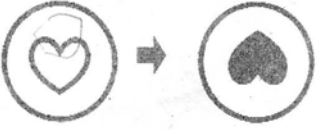





3

	ก	ข
	ค	ง

4

	ก	ข
	ค	ง



1  <hr/> 	 ก ข ค ง
2  <hr/> 	 ก ข ค ง
3  <hr/> 	 ก ข ค ง
4  <hr/> 	 ก ข ค ง
5  <hr/> 	 ก ข ค ง



1.



ก



ข



ค



ง

2.




ก



ข



ค

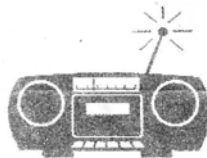


ง

3.



ก



ข




ค



ง

4.



ก



ข

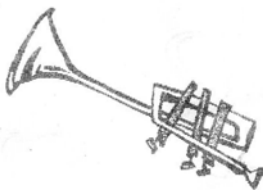


ค



ง

5.



ก



ข



ค



ง

การบ้าน





























































ชื่อ

ชั้น


วันที่ 15 - 19 ก.ค. 49

1


จุดมุ่งหมาย ฝึกทักษะการเรียงลำดับอนุกรม
คำสั่ง ให้เติมภาพลงในสองช่องท้ายให้ต่ออนุกรมกัน

1.								
2.								
3.								
4.								
5.								
6.								
7.								
8.								
9.								
10.								


1




2



3



4




อ่านเรื่องและตอบคำถาม

3

ลูกหมูสามตัวเป็นพี่น้องกัน ลูกหมูตัวที่ 1 ชอบทำอาหาร
ลูกหมูตัวที่ 2 ชอบล้างจาน ลูกหมูตัวที่ 3 ชอบอ่านหนังสือ ไม่มี
ลูกหมูตัวไหนชอบกวาดบ้านและถูบ้านเลย วันหนึ่งสกปรก ทำให้
ลูกหมูสามตัวไม่สบาย

วาดรูปจากเรื่อง

ชื่อเรื่อง _____



จง x ทับตัวอักษรใต้ที่ถูกต้อง

1. ในเรื่องนี้มีลูกหมูทั้งหมดกี่ตัว

ก. 1 ตัว

ข. 2 ตัว

ค. 3 ตัว

2. ลูกหมูตัวไหนชอบล้างจาน

ก. ตัวที่ 1

ข. ตัวที่ 2

ค. ตัวที่ 3

3. ลูกหมูตัวที่ 1 มีความสามารถในการทำอะไร

ก. แกะสลัก

ข. อาหาร

ค. จัดดอกไม้

4. ลูกหมูตัวที่ 3 ชอบทำอะไร

ก. อ่านหนังสือ

ข. นอนหลับ

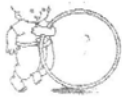
ค. เล่นกีฬา

5. ทำไมลูกหมูสามตัวจึงไม่สบาย

ก. ใส่เสื้อผ้าที่สกปรก

ข. กินอาหารไม่สะอาด

ค. อยู่บ้านที่สกปรก



อ่านคำกลอนต่อไปนี้แล้วตอบคำถามข้อ 6 - 10

วันหนึ่งเวลาเย็น	ฉันเดินเล่นผ่านสวนผัก
มีมากมายหลายอย่างนัก	นำชวนชักให้มาชม
คะน้าและผักชี	กะหล่ำปลี กะหล่ำปม
ผักทองคนนิยม	รับประทานได้ทุกวัน
ทำบัวลอยแกงบวด	ทำประกวดได้รางวัล
มีวิตามินหลายอย่างครัน	อวยประโยชน์แก่ร่างกาย



6. เหตุการณ์ในเรื่องนี้เกิดขึ้นเวลาใด

ก. เช้า	ข. เที่ยง	ค. เย็น
---------	-----------	---------
7. ข้อความนี้มีผักทั้งหมดกี่ชนิด

ก. 3 ชนิด	ข. 5 ชนิด	ค. 7 ชนิด
-----------	-----------	-----------
8. ผักชนิดใดนำมาทำขนมได้

ก. ผักทอง	ข. คะน้า	ค. ผักชี
-----------	----------	----------
9. ผักให้คุณค่าทางอาหารอะไรแก่ร่างกาย

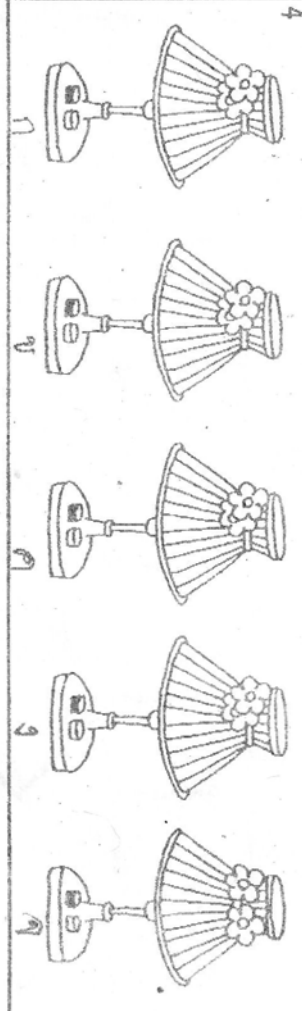
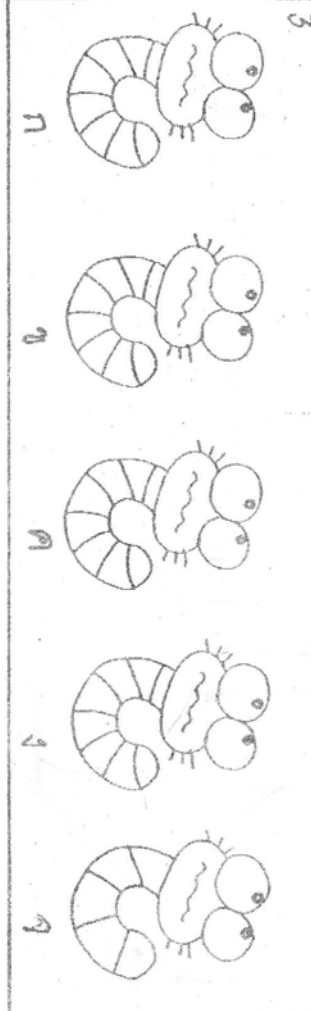

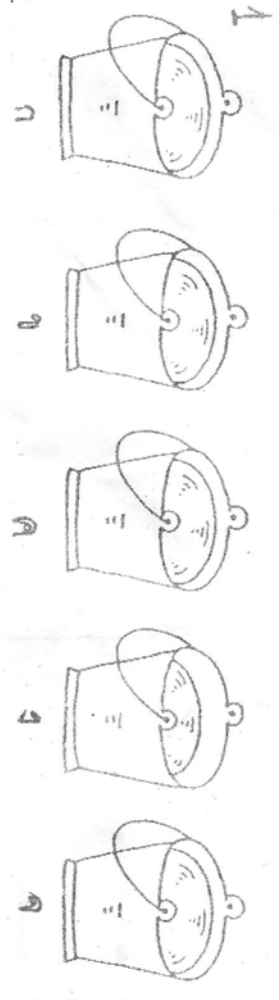
ก. คาร์โบไฮเดรต	ข. วิตามิน	ค. ไขมัน
-----------------	------------	----------
10. นักเรียนคิดว่าเพราะเหตุใดเด็กบางคนจึงไม่ชอบกินผัก

ก. เพราะผักมีรสขม
ข. เพราะผักมีรสจืด
ค. เพราะผักมีรสหวาน

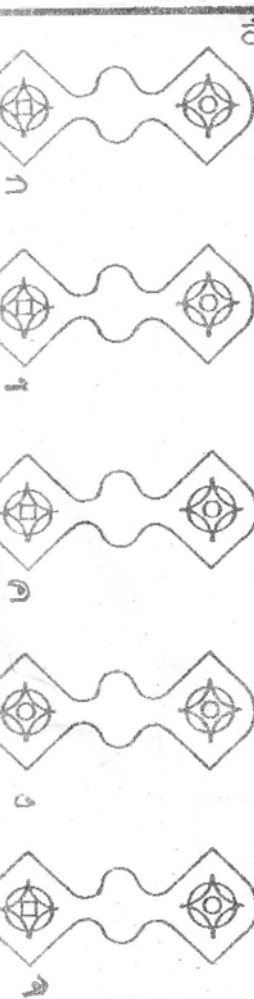
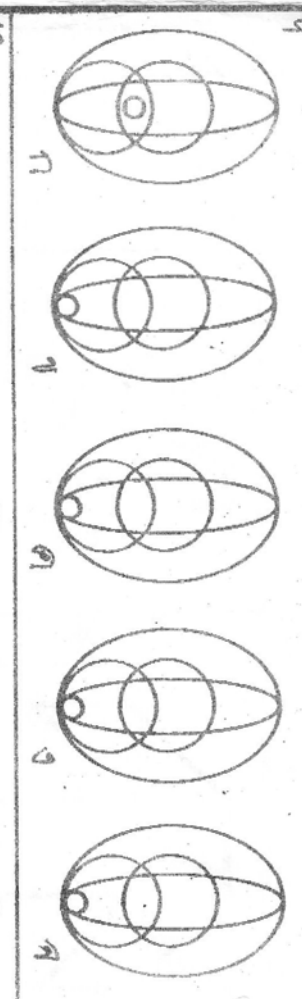
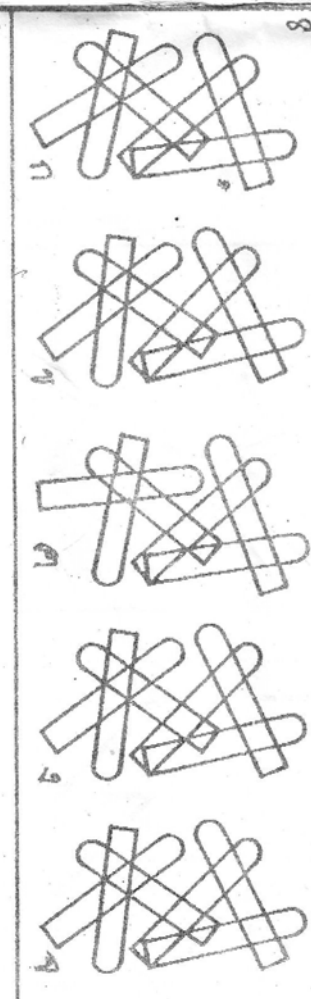
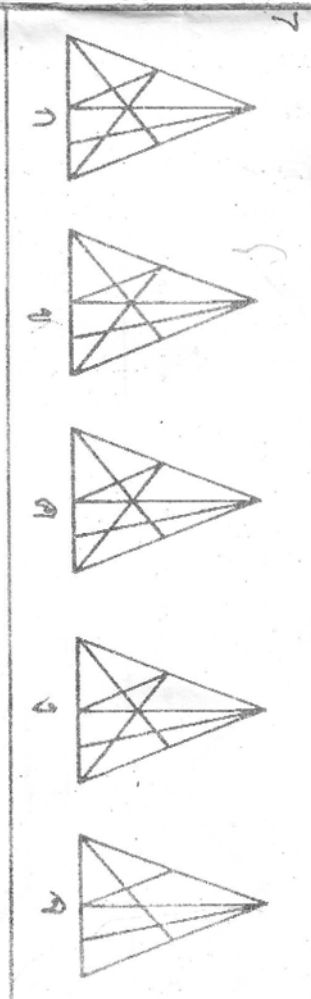

Key. น.1 1-๑๙ 2.๒๒ 3.๐๘ 4.๑๐ ๕.๑๖ 6.๑๐
 7. X X 8. X O 9. ๑๐ 10. Δ ●

น.2 1 = 4132 , 2 = 1423 , 3 = 1243 , 4 = 3214
 น.3 1 = ค , 2 = ข , 3 = ข , 4 = ก , 5 = ค
 น.4 6 = ค , 7 = ข , 8 = ก , 9 = ข , 10 = ก
 น.5 1 = ๑ , 2 = ค , 3 = ค , 4 = ค , ๕ = ข , 6 = ข , 7 = ค ; 8 = ๑ , 9 = ก , 10 = ง

11




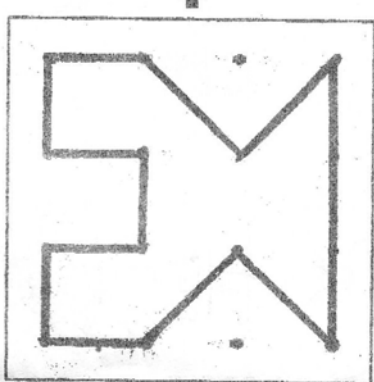

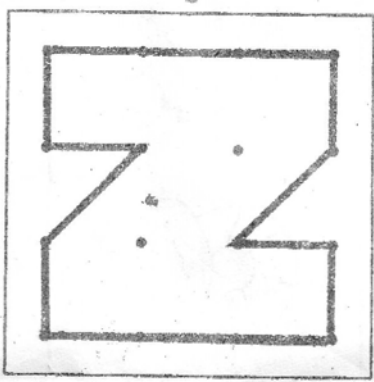



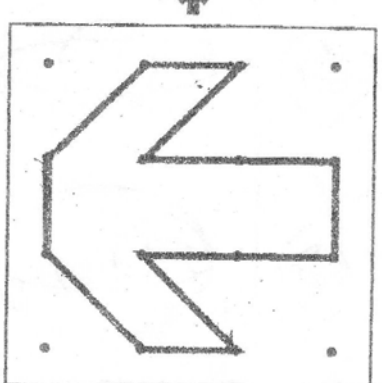

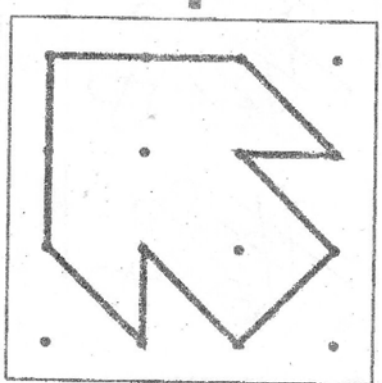

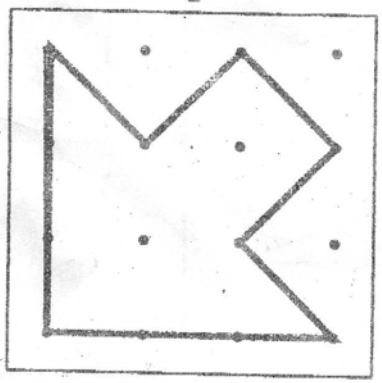
6



5

จงวาดจุดๆ ให้เหมือนตัวอย่างและนับจุดที่ใช้เชื่อมถึงกัน

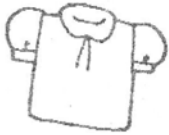
6





ให้กากบาทกับภาพที่แตกต่างไปจากกลุ่ม

1



ก



ข



ค



ง



จ

2



ก



ข



ค



ง



จ

3



ก



ข



ค

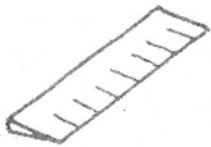


ง



จ

4



ก



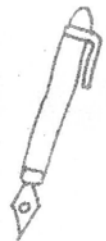
ข



ค

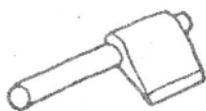


ง



จ

5



ก



ข



ค






ง







จ




วง ○ ล้อมภาพที่เกี่ยวข้องเติมช่องที่ขาด





1

	
?	




ก.  ข.  ค.  ง. 



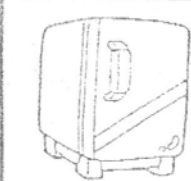

2

	?
	




ก.  ข.  ค.  ง. 





3

	
	?




ก.  ข.  ค.  ง. 





4

	
?	

ก.  ข.  ค.  ง. 

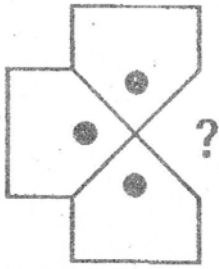
5

	?
	

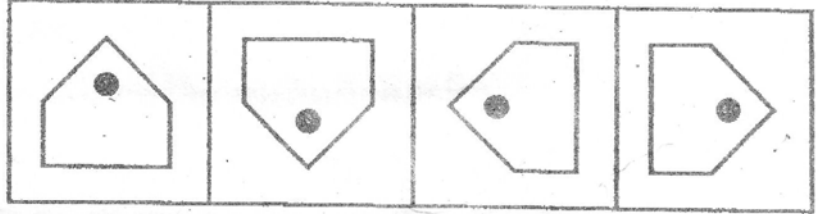
ก.  ข.  ค.  ง. 

วง O ล้อมภาพที่เติมช่องว่างได้ถูกต้อง

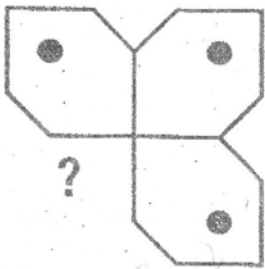
1



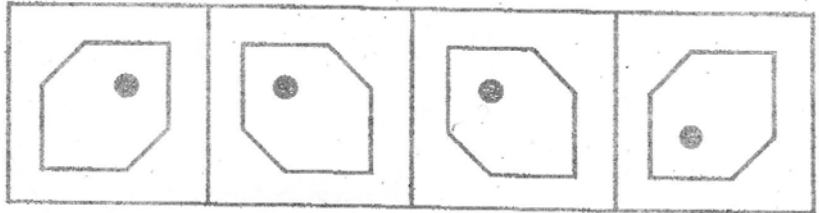
ก. ข. ก. ง.



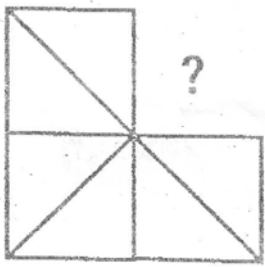
2



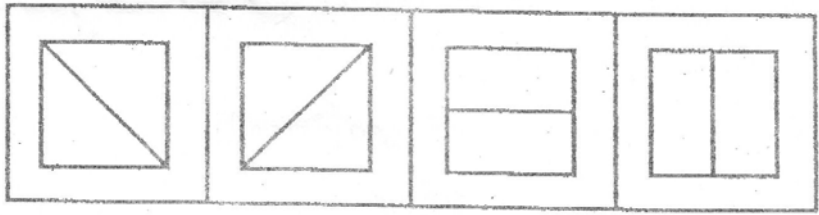
ก. ข. ก. ง.




3



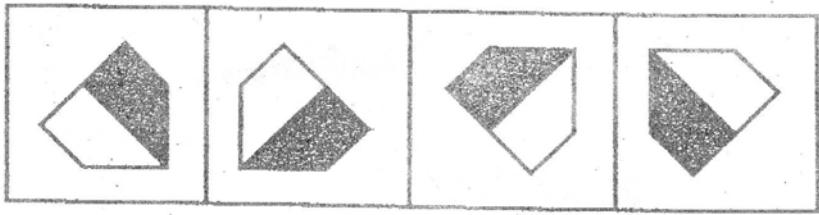
ก. ข. ก. ง.




4



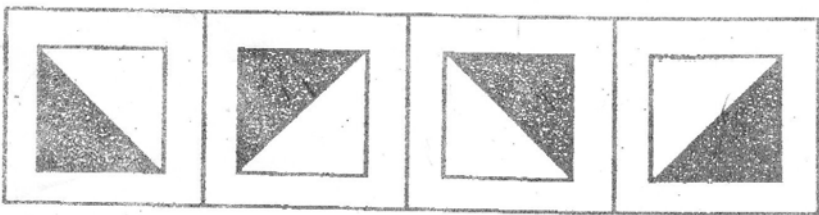
ก. ข. ก. ง.



5



ก. ข. ก. ง.





อ่านข้อความต่อไปนี้แล้วตอบคำถามข้อ 1 - 5 (ผู้ปกครองอ่านให้ฟัง)

“เมื่อเช้านี้เอง มีนกแก้วบินผ่านมาฝูงหนึ่ง เจ้าแก้วของฉัน ตะเกียกตะกายอยากออกจากกรง มันเคยหนีไปอยู่บนต้นชมพู ครั้งหนึ่งแล้วก็กลับมา คราวนี้พอฉันเปิดกรงจะเอากล้วยน้ำว่า ให้มันกิน มันบินหายลับไปเลย” พูดแล้วมานีก็ร้องไห้โฮ

ให้ x ทับศัพท์คำที่ถูกต้อง



1. เหตุการณ์ในเรื่องนี้เกิดขึ้นเวลาใด
ก. ตอนเช้ามืด ข. ตอนเช้า ค. ตอนเย็น
2. เจ้าแก้วคือสัตว์ชนิดใด
ก. นก ข. แมว ค. สุนัข
3. เจ้าแก้วเคยหนีไปอยู่ที่ไหนมาแล้ว
ก. ต้นขนุน ข. ต้นมะม่วง ค. ต้นชมพู
4. เจ้าแก้วชอบกินอะไร
ก. กล้วยน้ำว่า ข. มะละกอ ค. ไข่ต้ม
5. มานีร้องไห้เพราะเหตุใด
ก. มานีไม่สบาย
ข. มานีคิดถึงเพื่อนๆ
ค. นกแก้วของมานีบินหนีหายไป

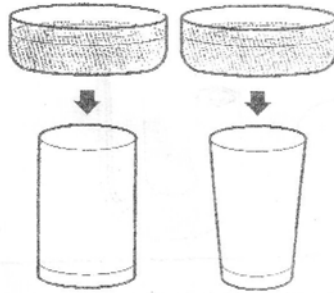
วาดรูปจากเรื่อง





ชื่อ _____

อ. _____


ขีด / หักคำตอบที่ถูกต้อง





1. นำน้ำในขัน 2 ใบ ซึ่งมีปริมาณเท่ากันใส่ในแก้ว 2 ใบที่มีขนาดเท่ากันแต่ต่างกันตรงกัน คือใบหนึ่งก้นลึกกว่า ระดับน้ำในแก้วจะเป็นอย่างไร



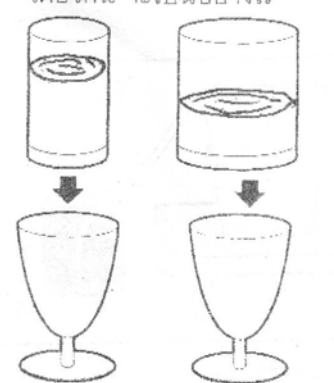
	
ก	ข
	
ค	ง





2. อ่างอาบน้ำมีน้ำอยู่ครึ่งอ่าง ถ้าเจ้าตุบจอมซน 2 ตัวนี้ ลงไปนอนอาบน้ำในอ่าง ระดับน้ำจะเป็นอย่างไร



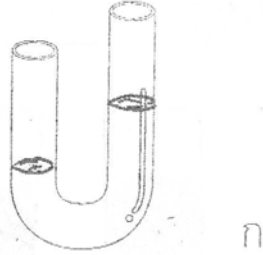
	
ก	ข
	
ค	ง

3. นำน้ำในแก้ว 2 ใบที่มีขนาดต่างกันแต่มีปริมาณน้ำเท่ากัน มาใส่ในแก้วที่มีขนาดและแบบเดียวกัน จะเป็นอย่างไร

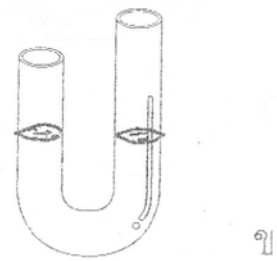


	
ก	ข
	
ค	ง

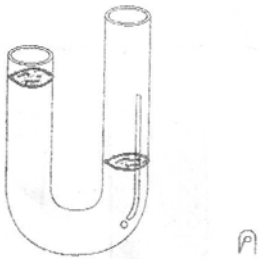
4. ถ้าเอาน้ำจากขวดเทลงในหลอดแก้วรูปตัว U ระดับน้ำจะเป็นอย่างไร



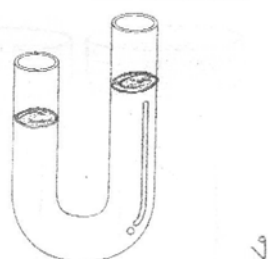
ก



ข

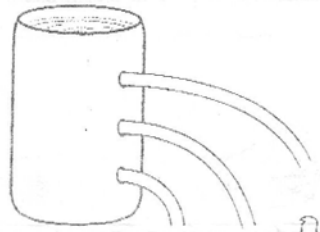
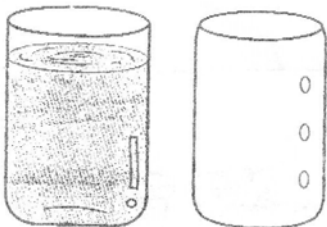


ค

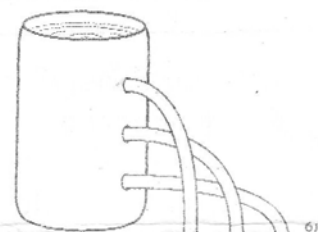


ง

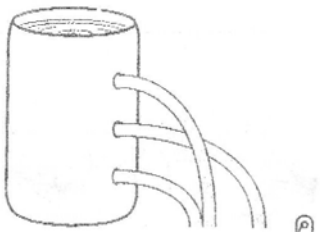
5. ถ้าเอาน้ำใส่กระป๋องที่เจาะรูไว้เรียงจากบนลงล่าง ขนาดรูเท่า ๆ น้ำที่ไหลออกจากรูจะมีลักษณะอย่างไร



ก



ข

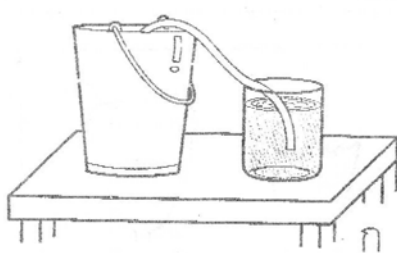
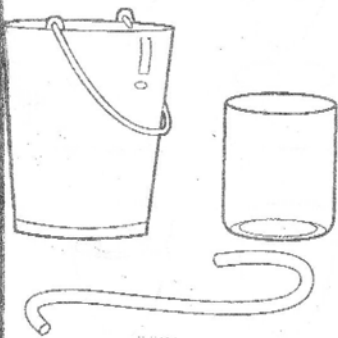


ค



ง

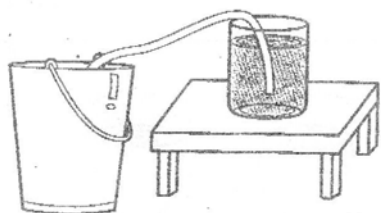
6. ถ้าต้องการจะถ่ายน้ำจากถังลงใส่ขวดโหลโดยใช้สายยาง ต้องวางถังและขวดในลักษณะใดจึงถ่ายได้สะดวกที่สุด



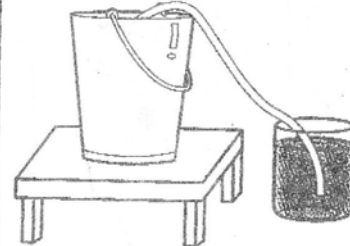
ก



ข









































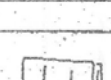






ค





















































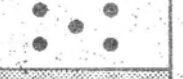








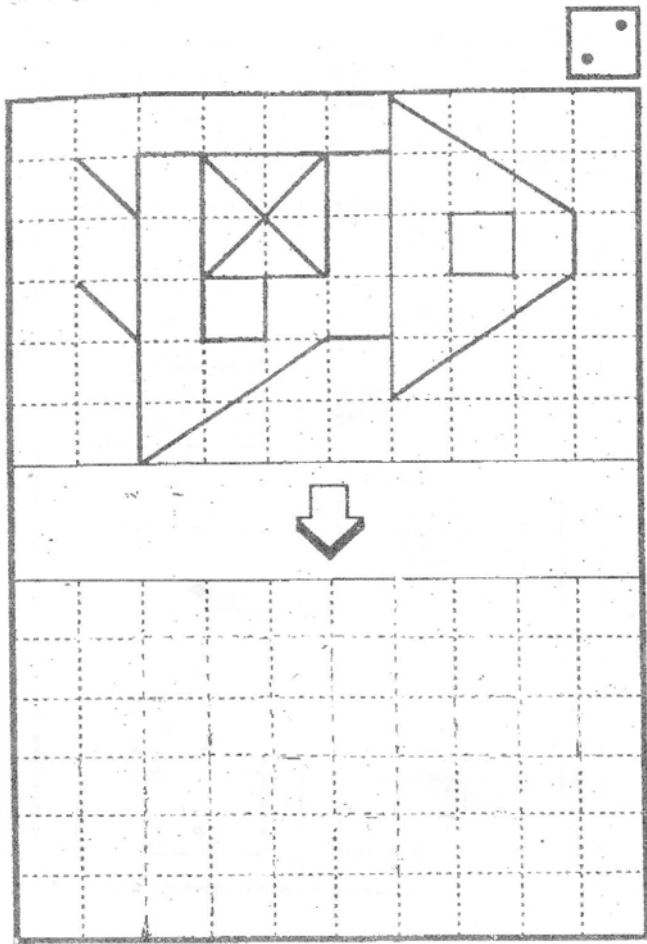
ง

key ๗.1 = ขงข ๗.2 = ขขง ๗.3 = ขคกคขขขคคค

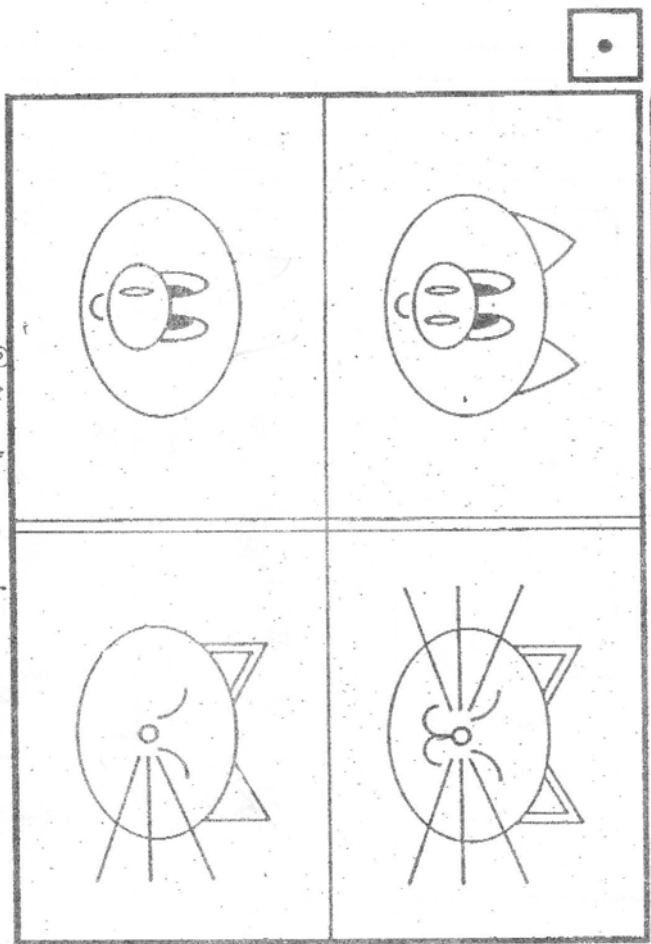
ชุด X ที่นำตอบที่ถูกต้อง

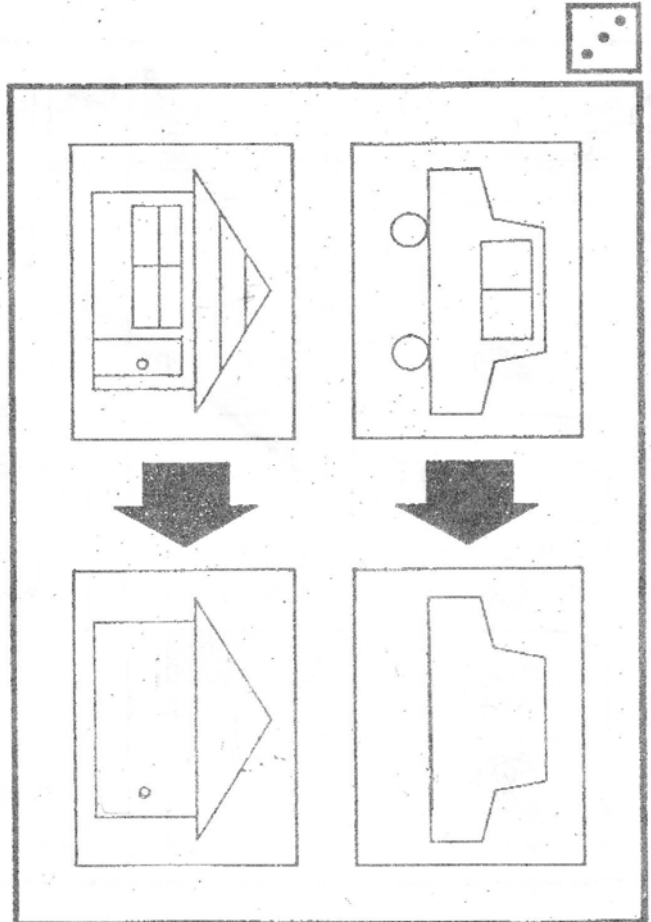
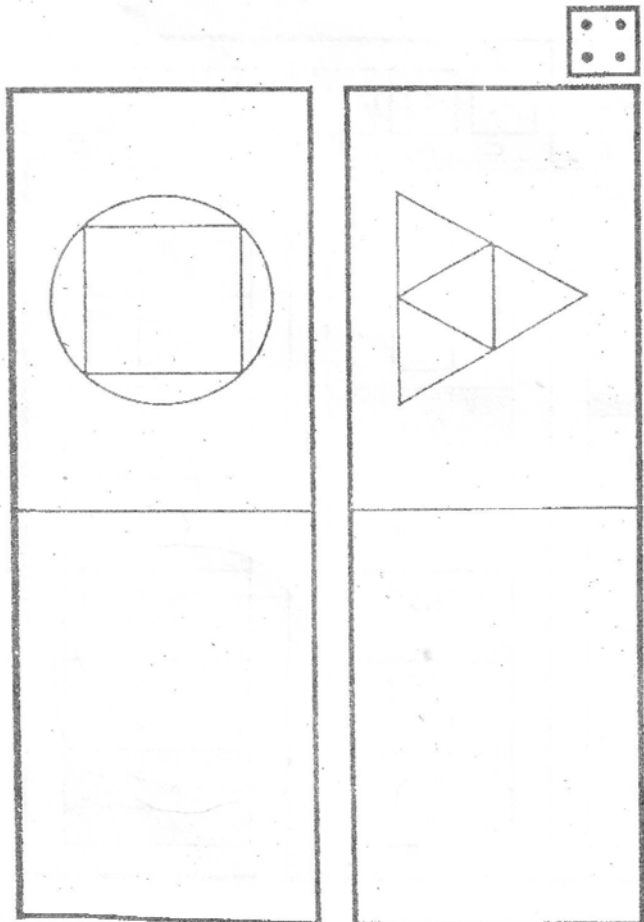
  	  	  	  	  
        	       	        	       	         




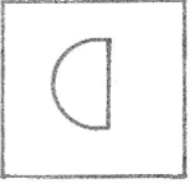
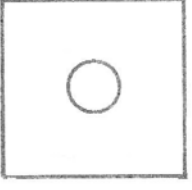




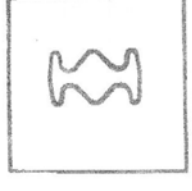


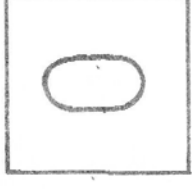
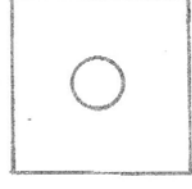

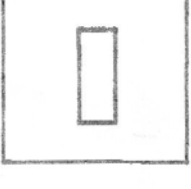
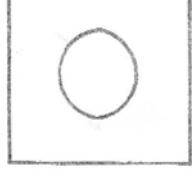
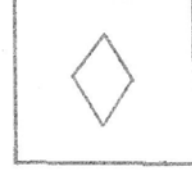


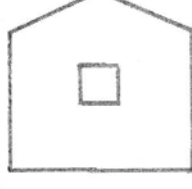
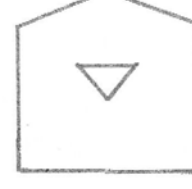

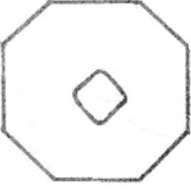
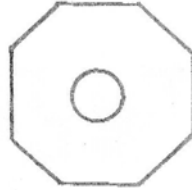

การวาดบ้านในช่องว่าง



การวาดหน้าแมว







จงกา X ทับภาพเต็มของภาพซ้ายมือ

① 	ก. 	ข. 	ค. 
② 	ก. 	ข. 	ค. 
③ 	ก. 	ข. 	ค. 
④ 	ก. 	ข. 	ค. 
⑤ 	ก. 	ข. 	ค. 
⑥ 	ก. 	ข. 	ค. 








จับเครื่องหมาย ✓ ได้ภาพต่อไปนี้






1. ภาพที่ออกเสียงพยัญชนะต้นเหมือนภาพในช่องซ้ายมือ

	 ...ก...	 ...ข...	 ...ค...	 ...ง...
---	--	--	--	--

2. ภาพที่ออกเสียงพยัญชนะต้นเหมือนภาพในช่องซ้ายมือ

	 ...ก...	 ...ข...	 ...ค...	 ...ง...
---	--	--	--	--






3. ภาพที่ออกเสียงคล้ายกับภาพในช่องซ้ายมือ

	 ...ก...	 ...ข...	 ...ค...	 ...ง...
---	--	--	--	--

4. ภาพที่ออกเสียงคล้ายกับภาพในช่องซ้ายมือ


	 ...ก...	 ...ข...	 ...ค...	 ...ง...
---	--	--	--	--





5. ภาพที่มีเสียงสระเหมือนกับภาพในช่องซ้ายมือ

	 ...ก...	 ...ข...	 ...ค...	 ...ง...
---	--	--	--	--

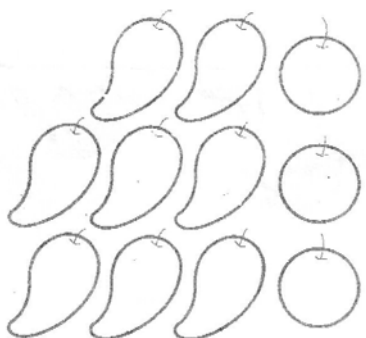
อ่านคำถามแต่ละข้อให้นักเรียนฟังแล้วให้ ✓ ทับข้อที่ถูกต้อง

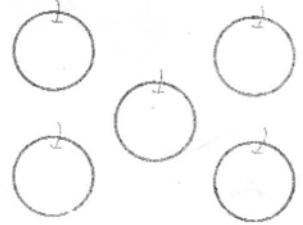
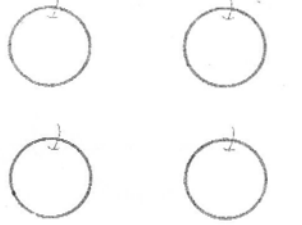
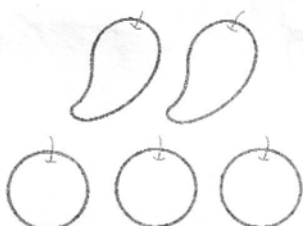
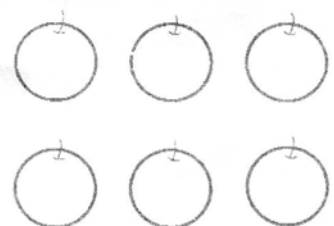
1 มีปลาอยู่ในอ่าง 3 ตัว
ออกลูกมาอีก 4 ตัว
มีปลาอยู่ในอ่างกี่ตัว




 ก	 ข
 ค	 ง





2 มีมะม่วงอยู่ 8 ผล
มีส้มอยู่ 3 ผล ต้องหาส้ม
มาเพิ่มอีกกี่ผลจึง
จะเท่ากับมะม่วง



 ก	 ข
 ค	 ง

3 ลุงเลี้ยงไก่ 7 ตัว
ขายไป 5 ตัว ลุงมีไก่กี่ตัว



 ก	 ข
 ค	 ง

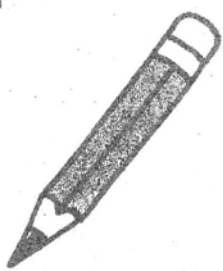







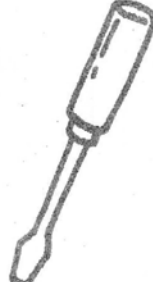

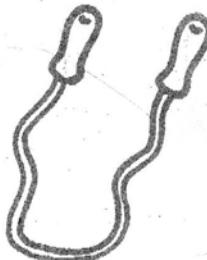



key น.1 = ขคขกคง
น.4 = คกค

น.2 = ขคขคขข

น.3 = คกขคง

* นร. ที่จบคอร์สคาทอลิกแล้ว ถ้าจะลงคอร์สต่อ ให้ติดต่อที่
ศูนย์การได้เลยคะ


ขีด ✓ กับภาพที่แตกต่างจากพวก

1	ก 	ข 	ค 	ง 
2	ก 	ข 	ค 	ง 
3	ก 	ข 	ค 	ง 
4	ก 	ข 	ค 	ง 

ชุด / ทั้บคำตออบที่ถกตออง

1 หนักที่สุด	ก 	ข 	ค 
2 หนักที่สุด	ก 	ข 	ค 
3 เบาที่สุด	ก 	ข 	ค 
4 เบาที่สุด	ก 	ข 	ค 

ชุด X ทักษะคำตอบที่ถูกต้อง

<p>1 มากที่สุด</p>	<p>ก </p>	<p>ข </p>	<p>ค </p>
<p>2 มากที่สุด</p>	<p>ก </p>	<p>ข </p>	<p>ค </p>
<p>3 น้อยที่สุด</p>	<p>ก </p>	<p>ข </p>	<p>ค </p>
<p>4 น้อยที่สุด</p>	<p>ก </p>	<p>ข </p>	<p>ค </p>

key น.1 ขขงค น.2 กกกค น.3 ขกคข
 น.4 ขคคคก น.5 ขกขขข



เขียนวงกลมล้อมรอบภาพต่อไปนี้

<p>1. ถ้าเราพูดว่า ผล หมายถึง ภาพใด</p>	<p>ก. ข. ค. ง.</p>
<p>2. ถ้าเราพูดว่า หวาน หมายถึง ภาพใด</p>	<p>ก. ข. ค. ง.</p>
<p>3. ถ้าเราพูดว่า เย็น หมายถึง ภาพใด</p>	<p>ก. ข. ค. ง.</p>
<p>4. คำที่พูดว่า ใหญ่ ตรงกันข้ามกับ คำและภาพใด</p>	<p>ก. ข. ค. ง.</p>
<p>5. คำที่พูดว่า สะอาด ตรงกัน ข้ามกับคำ และภาพใด</p>	<p>ก. ข. ค. ง.</p>



ขีดเครื่องหมาย ✓ ให้ภาพที่ถูกต้อง

1. เด็กที่ปฏิบัติตาม
กฎและระเบียบ
ของโรงเรียน




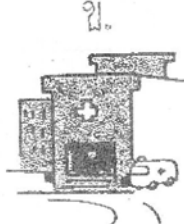

.....



.....

.....

2. สถานที่สำหรับ
เรียนหนังสือ



.....

.....

.....

.....


3. ผลไม้ที่มีรส-
เปรี้ยวที่สุด



.....

.....

.....



4. สัตว์ที่ชอบขัน
ตอนเช้าเสมอ




.....

.....

.....

.....

5. เราได้น้ำกะทิ
จากภาพใด




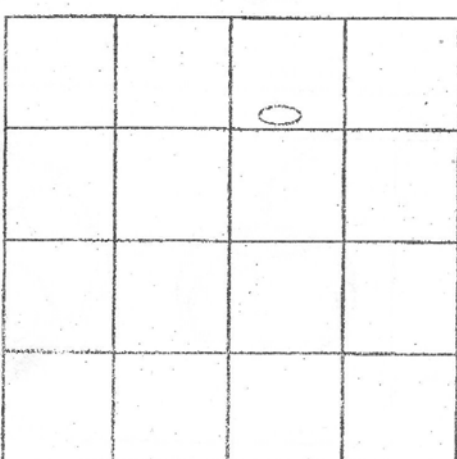
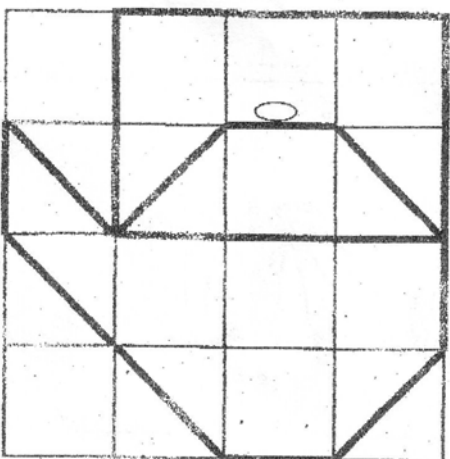


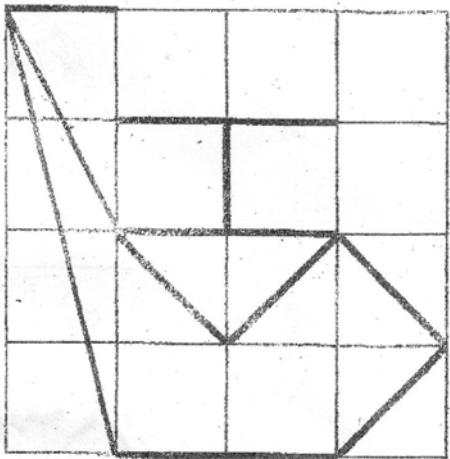


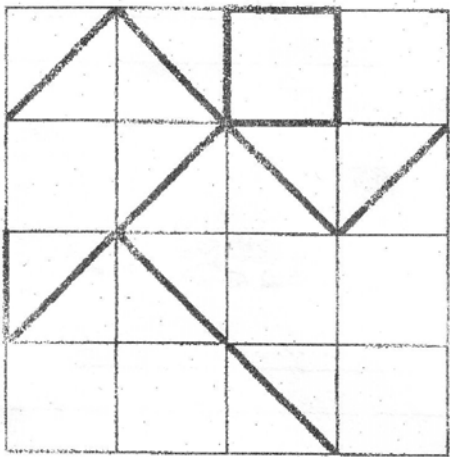

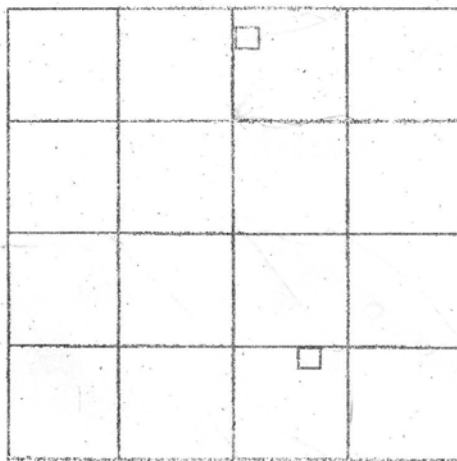
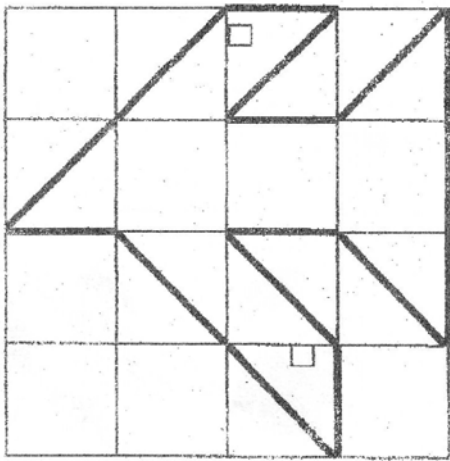
.....

.....

.....

.....

เขียนรูปให้เหมือนแบบ

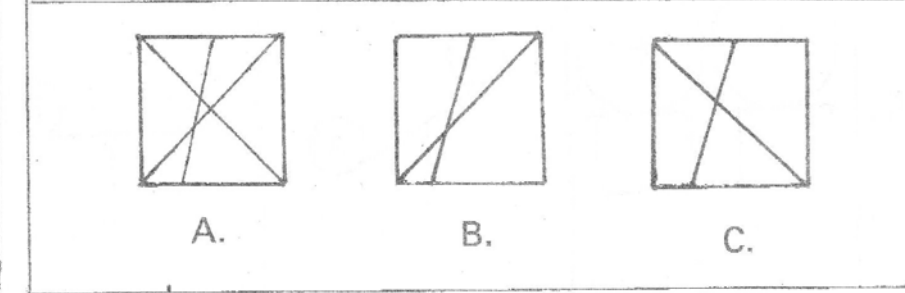
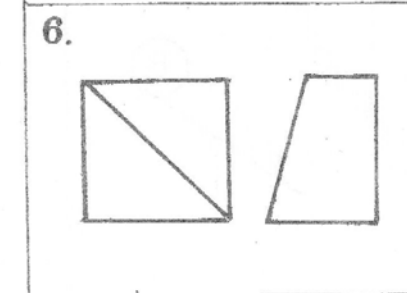
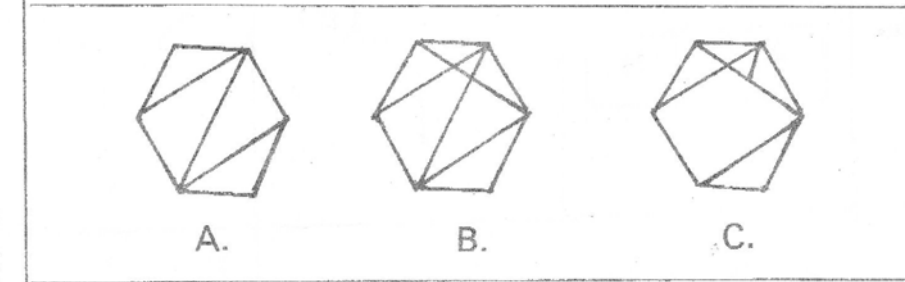
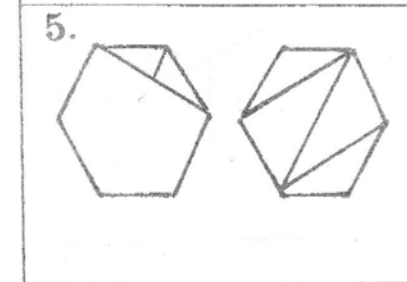
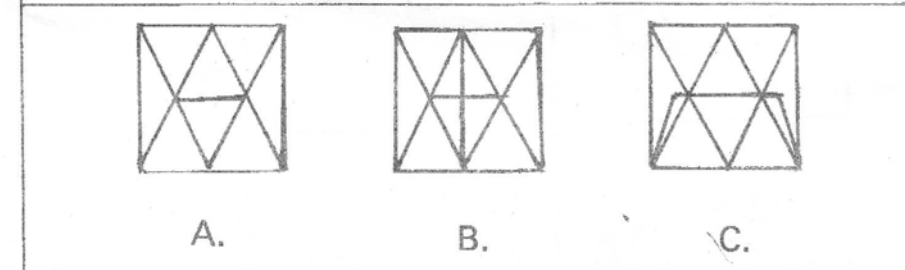
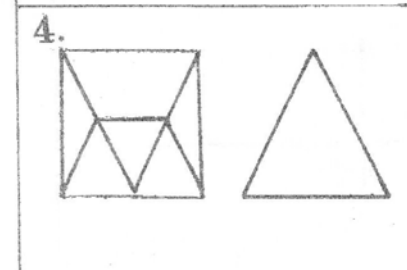
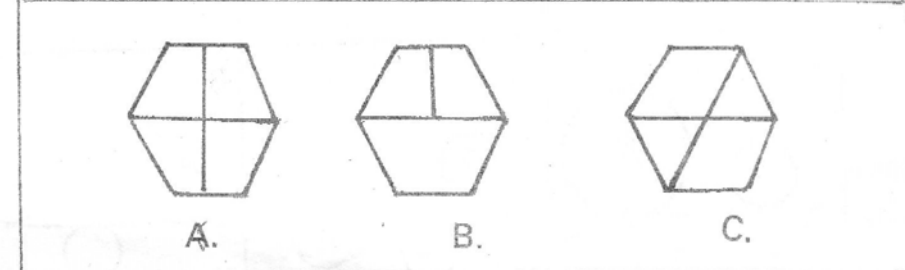
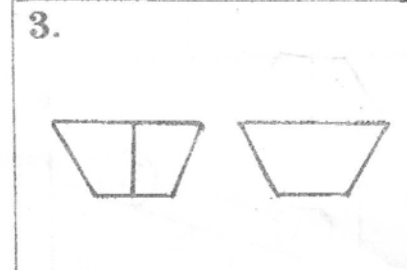
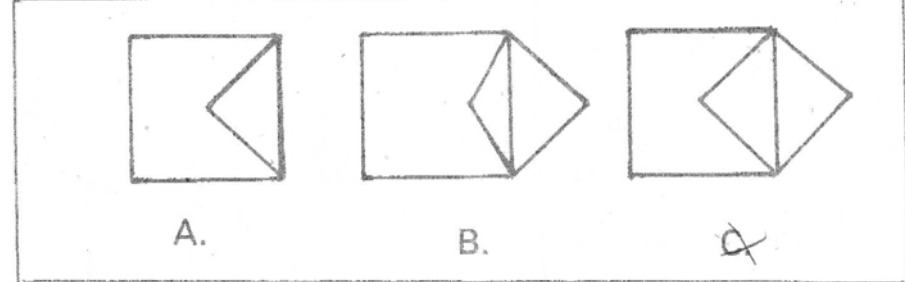
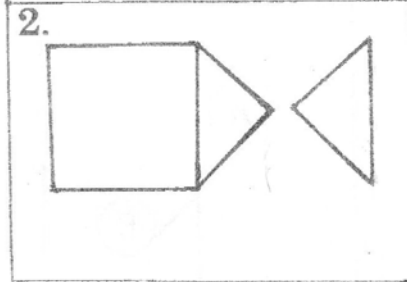
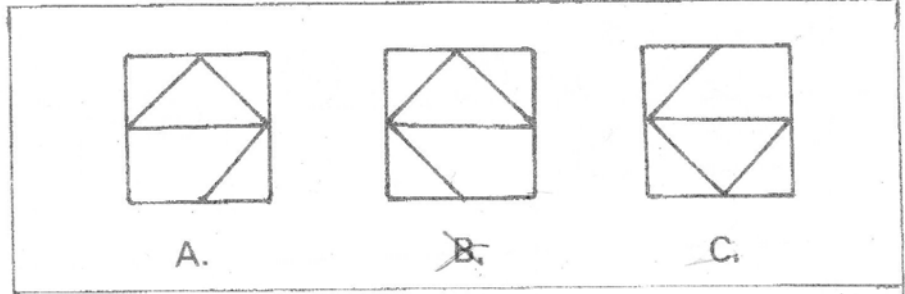
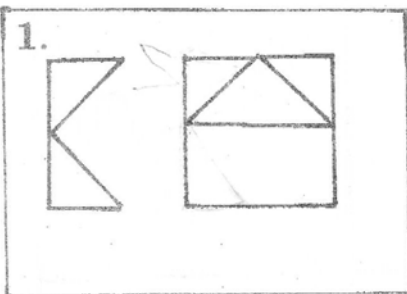


ชื่อ _____

อ. _____

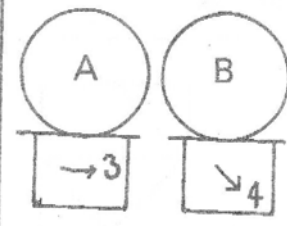
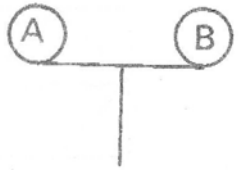
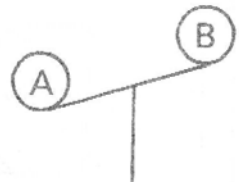
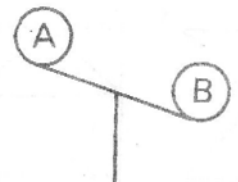
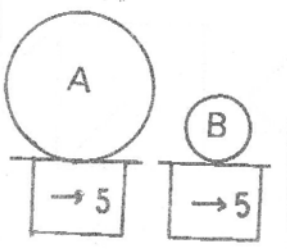
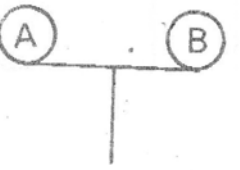
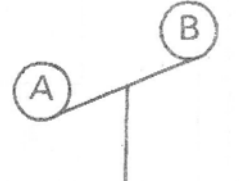
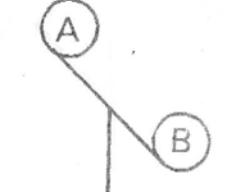
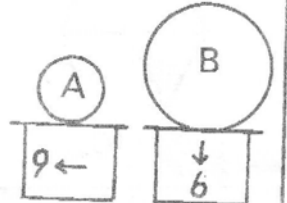
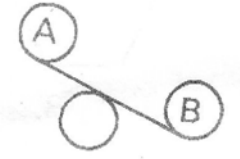
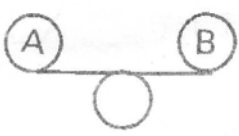
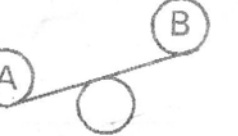
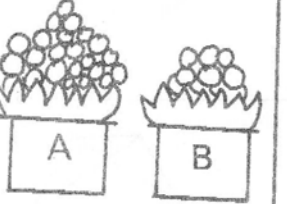
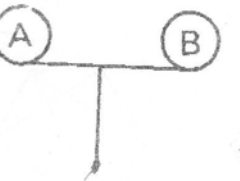
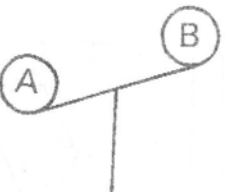
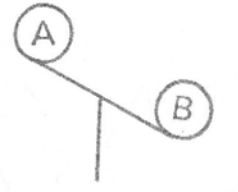
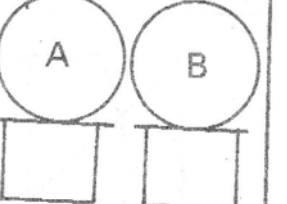
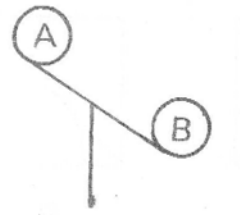
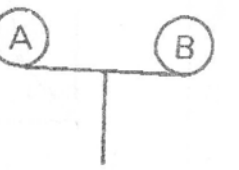
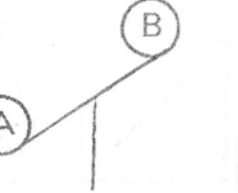
* 13-14 ม.ค. หยุดวันเด็ก

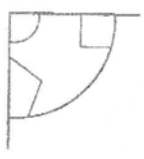
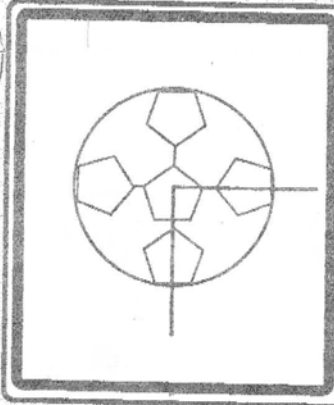
เมื่อนำภาพในช่องแรกมาซ้อนกัน จะได้ภาพในข้อใดให้ X



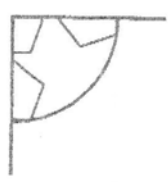
* นร. ที่ขาดสอน ให้มาสอบได้ วันเสาร์ ที่ 20 ม.ค. เวลา 13.00 - 14.30 น. รอบวันธรรมดา ประชุมวัน
 เชิญประชุมผู้ปกครอง วันที่ 20-21 ม.ค. ตามรอบที่เรียน เสาร์บ่าย หรือ อาทิตย์เช้า
 - เสาร์เช้า 10.30 - 12.00 น. - เสาร์บ่าย 13.00 - 14.30 น. - อาทิตย์เช้า 10.30 - 12.00 น.

จงหาความสัมพันธ์ของน้ำหนักที่กำหนดให้

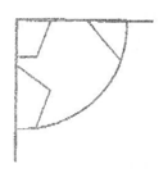
1.		A 	B 	C 
2.		A 	B 	C 
3.		A 	B 	C 
4.		A 	B 	C 
5.		A 	B 	C 



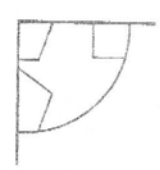
ก




ข



ค



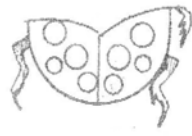
ง



ก



ข



ค



ง



ก



ข



ค



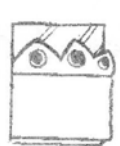
ง




ก



ข



ค



ง

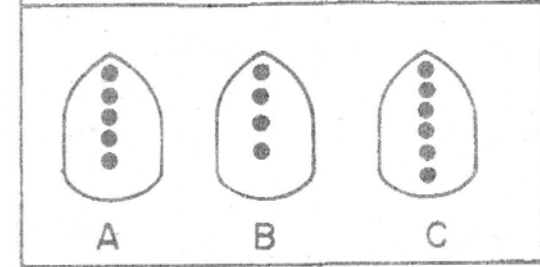
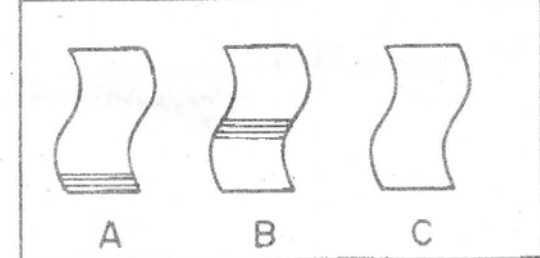
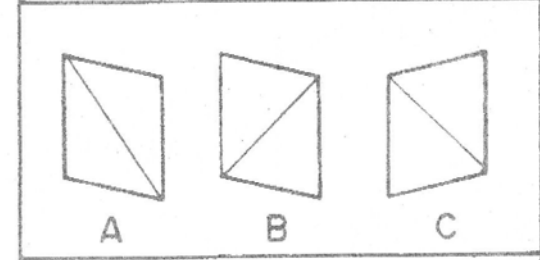
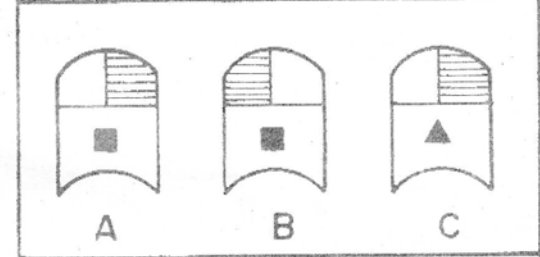
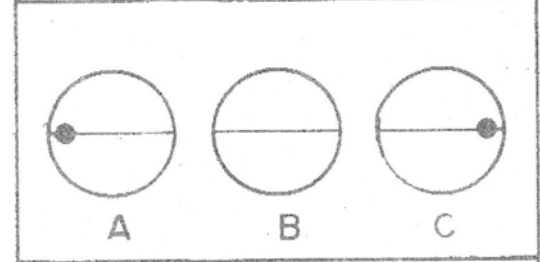
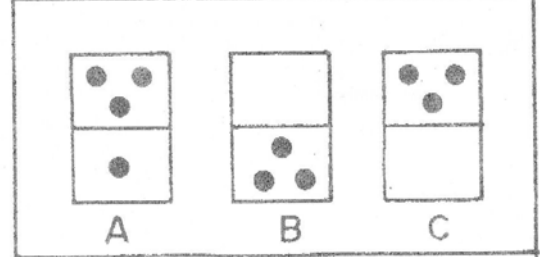
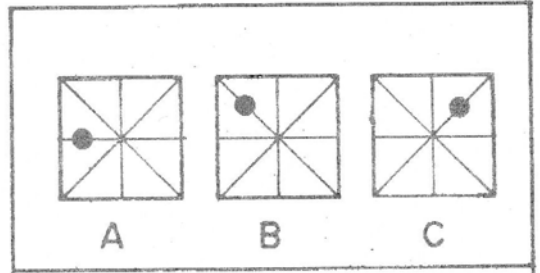
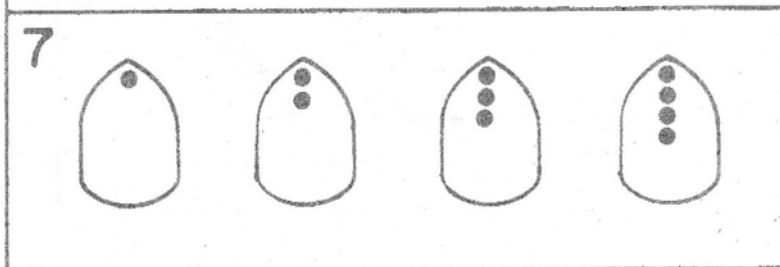
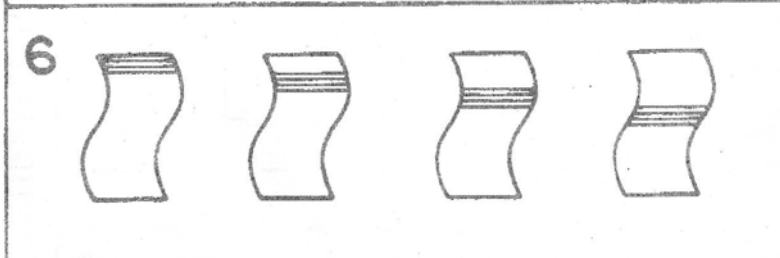
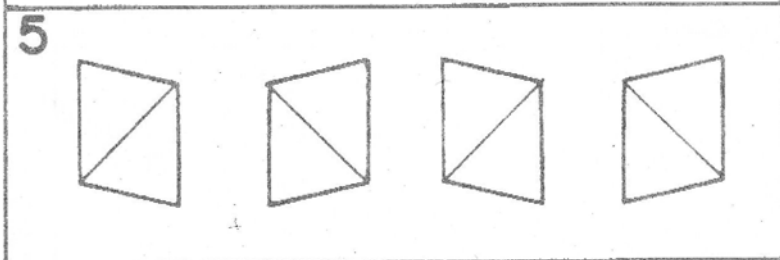
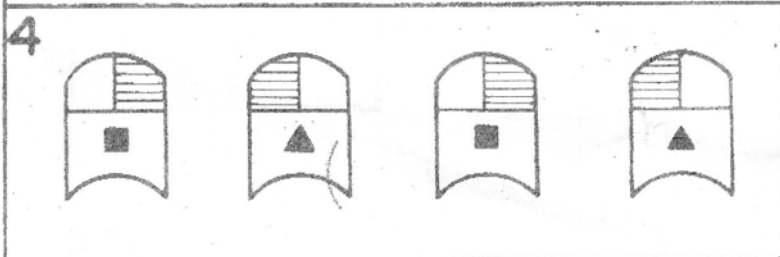
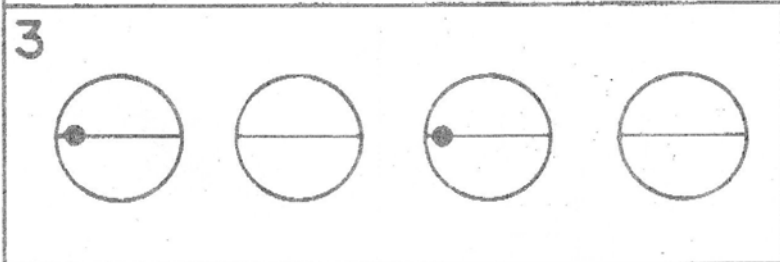
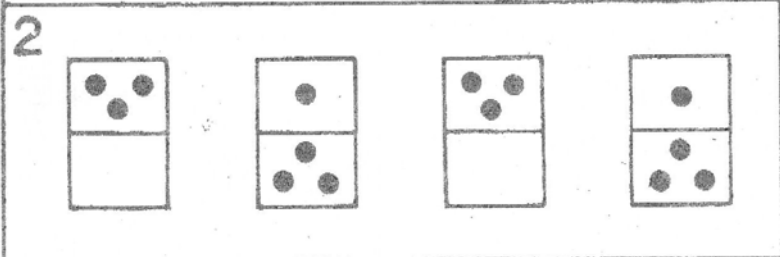
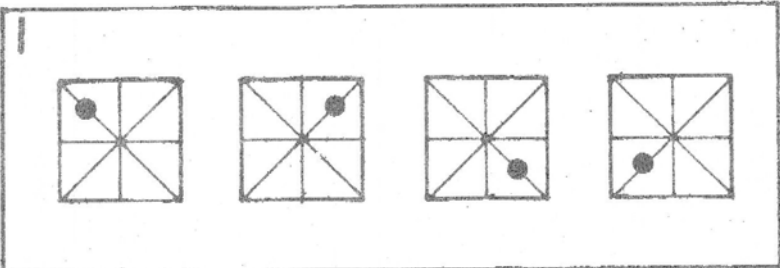
จุดมุ่งหมาย ฝึกการสังเกต

คำสั่ง X (กากบาท) ภาพที่มีความสัมพันธ์กับภาพข้างหน้า

จง X ทับข้อที่ถูกต้อง

1		<p>ก ข ค</p>
2		<p>ก ข ค</p>
3		<p>ก ข ค</p>
4		<p>ก ข ค</p>
5		<p>ก ข ค ง</p>
6		<p>ก ข ค ง</p>

จงหาภาพต่อเนื่องจากภาพซ้ายมือ



key น.1 = BCBABC


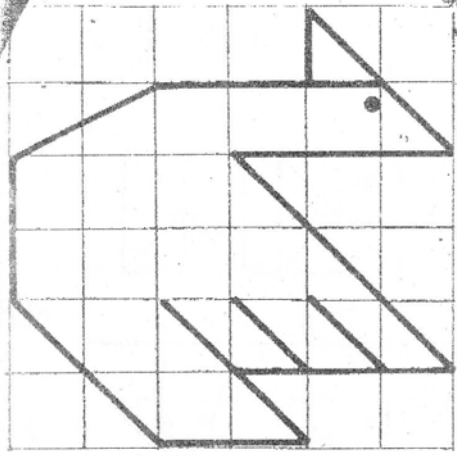

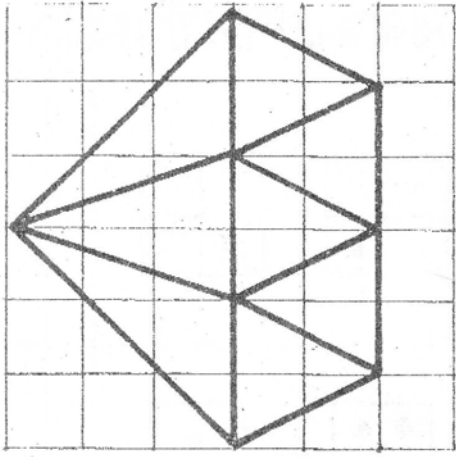
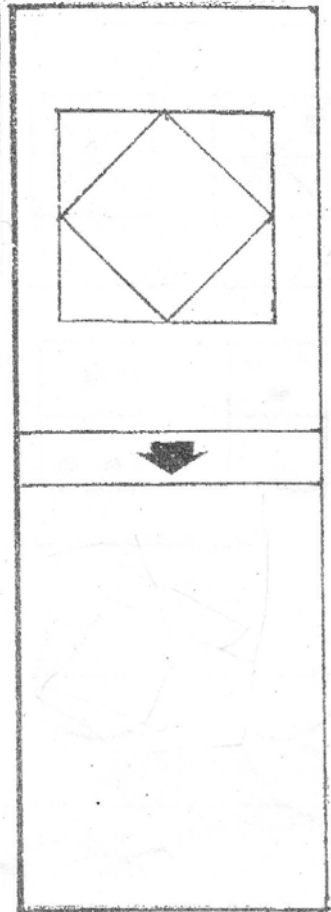
น.2 = CACBB

น.3 = ขงงง

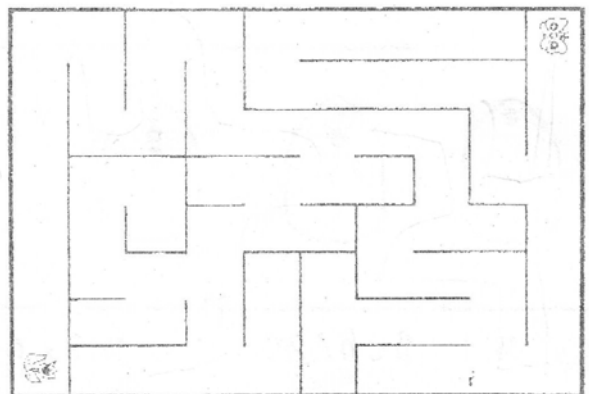
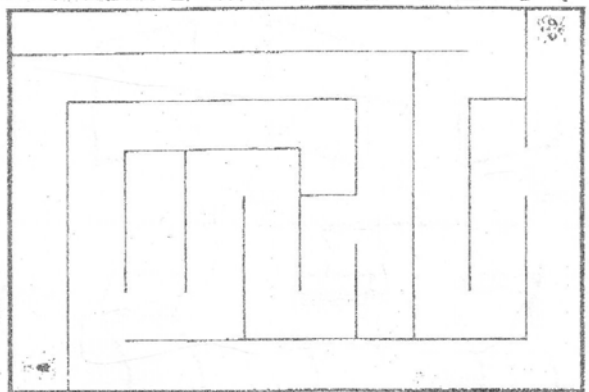
น.4 = ขกกดก

น.5 = BCABBA



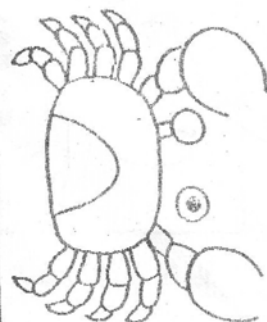
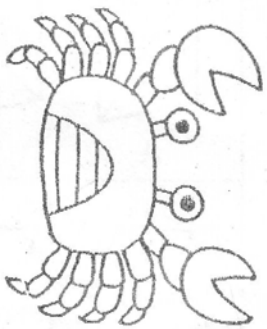
ลากเส้นให้เหมือนแม่แบบ



ลากเส้นทาวออก










ต่อเติมภาพให้เหมือนของจริง










เติมภาพและขีดเขียนทับภาพที่ถูกต้อง








0

			_____		
ก 					
ข 					









1

			_____		
ก 					
ข 					




2

			_____		
ก 					
ข 					

3

			_____		
ก 					
ข 					
ค 					

4




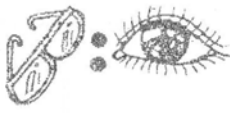


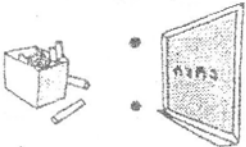




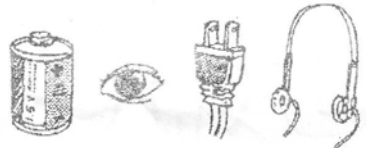
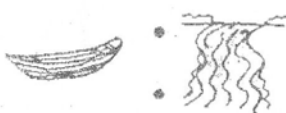

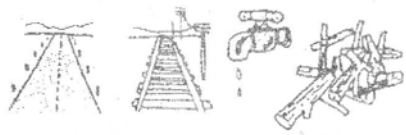






			_____			
ก 						
ข 						
ค 						

🐝 ขอเชิญผู้ปกครองครอบครัวสมาชิก ประชุมเรื่องผลสอบ

รอบ เสาร์ 29 ต.ค. หน้า 10.30 - 12.00 น.
บ่าย 15.00 - 16.30 น.

รอบ อาทิตย์ 29 ต.ค. 10.30 - 12.00 น.
รอบ 9-พ (พ.จ. 2 พ.ย) 14.00 - 15.30 น.

X ภาพที่สัมพันธ์กัน

<p>ตัวอย่าง</p> 		 <p>ก ข ค ง</p>
<p>1.</p> 		 <p>ก ข ค ง</p>
<p>2.</p> 		 <p>ก ข ค ง</p>
<p>3.</p> 		 <p>ก ข ค ง</p>
<p>4.</p> 		 <p>ก ข ค ง</p>
<p>5.</p> 		 <p>ก ข ค ง</p>
<p>6.</p> 		 <p>ก ข ค ง</p>

นำตัวเลขมาเติมลงในช่อง □ ให้มีความสัมพันธ์กัน โดยดูจากภาพตัวอย่าง



1. □

2. □ □

3. □

4. □ □

5. □

6. □ □

7. □

8. □

9. □ □

10. □

11. □ □

12. □

<p>A. * ตัวอย่าง ในข้ออื่นๆ คลังแม่</p> 2	<p>B.</p> □	<p>C.</p> □	<p>D.</p> □	<p>E.</p> □	<p>F.</p> □
<p>G.</p> □	<p>H.</p> □	<p>I.</p> □	<p>J.</p> □	<p>K.</p> □	<p>L.</p> □

key

น.1 = ชกกคช
 น.2 = 1กขชกข

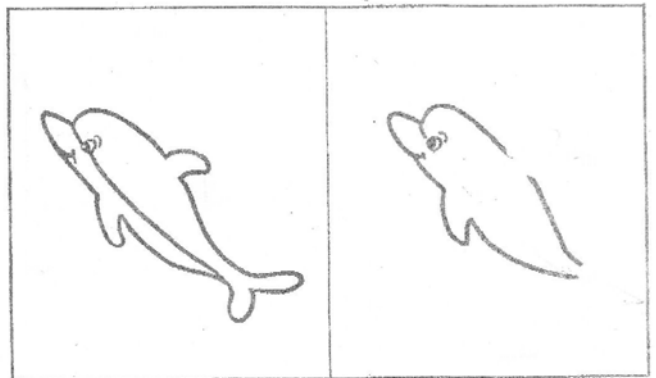
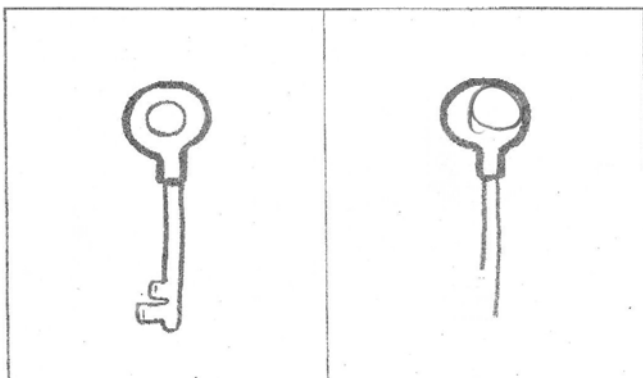

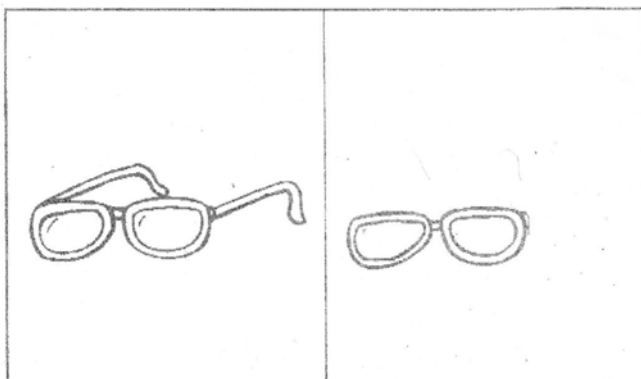

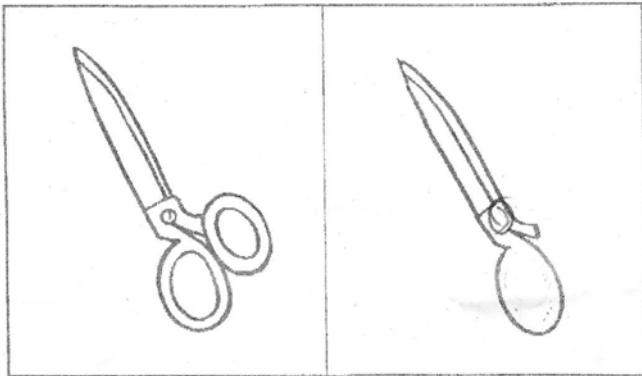


น.3 = 1,9,4,3,6,7,8,10,11,5,12



- จุดมุ่งหมาย 1. ฝึกทักษะการสังเกต
2. ฝึกทักษะการเขียน



คำสั่ง เต็มเส้นให้เหมือนภาพข้างหน้า



ชื่อ _____


ด. _____



เขียนวงกลมล้อมรอบภาพที่ถูกต้อง

1

วันเพ็ญ
เดือนสิบสอง
หมายถึงภาพใด



ก



ข



ค



ง

2

สิ่งที่มีมักจะเกิด
หลังฝนตก



ก



ข



ค



ง

3

อาชีพที่เกี่ยวข้อง
กับโรงเรียน



ก



ข



ค



ง

4

สิ่งที่ผู้หญิง
ชอบใช้ แต่ผู้ชาย
ไม่ใช้



ก



ข



ค



ง

5

ถ้าเราพูดว่า
วงและงา หมายถึง
เกี่ยวข้องกับภาพใด



ก



ข

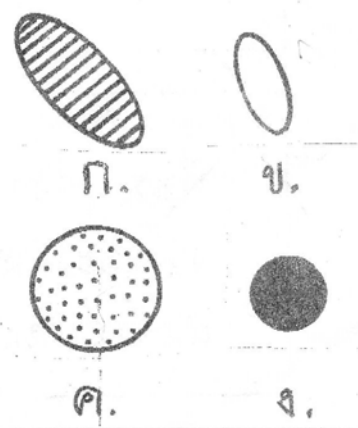
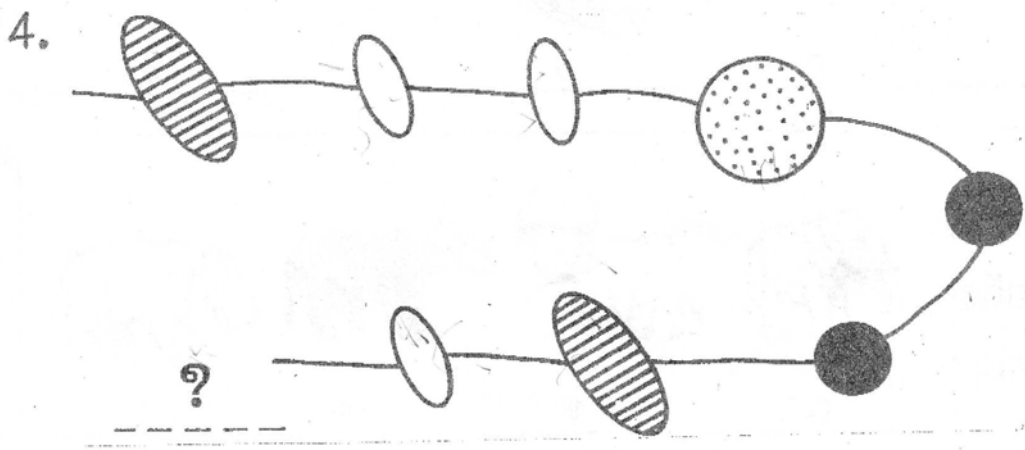

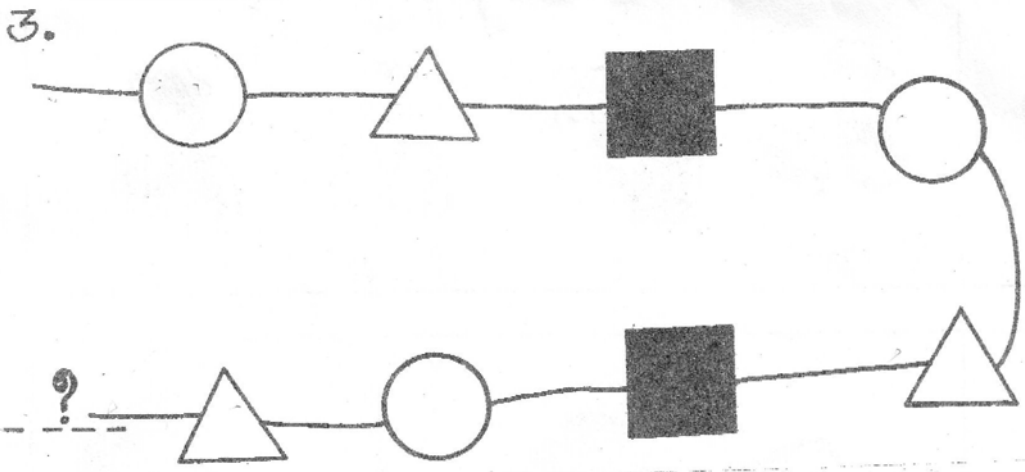

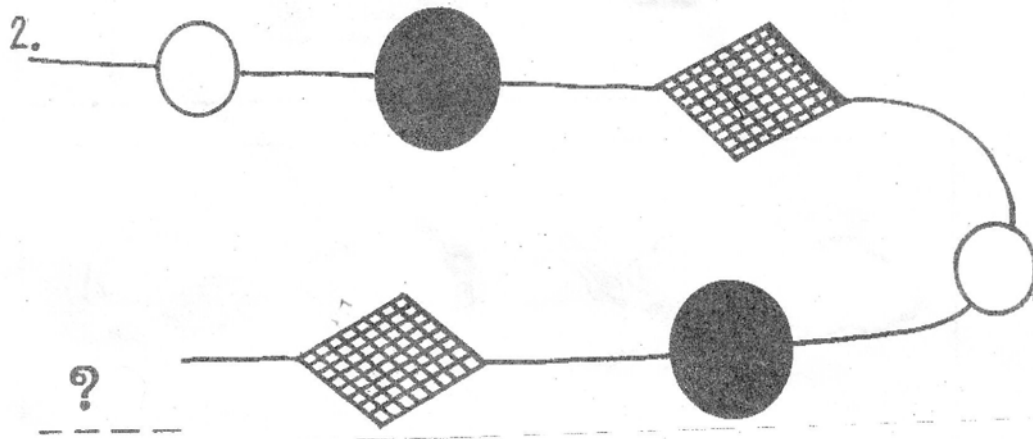
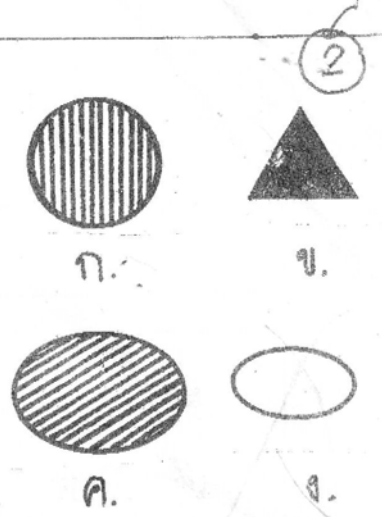
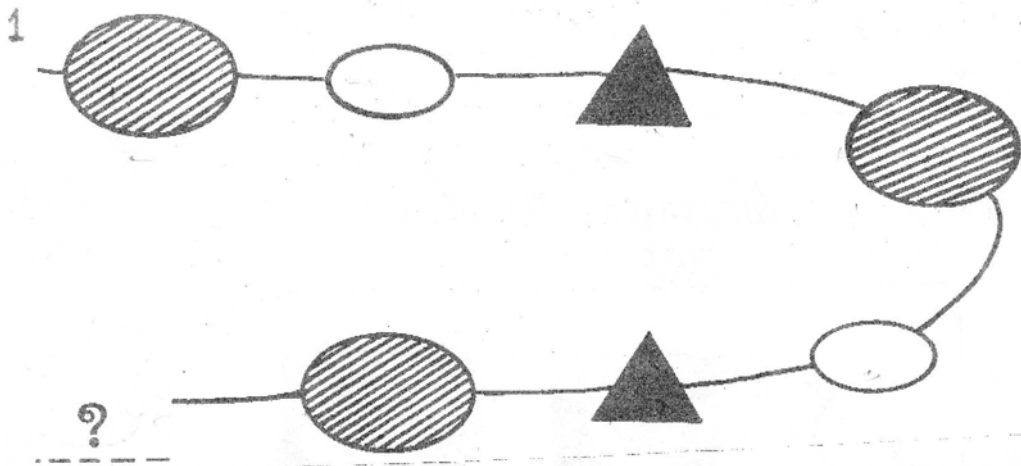


ค



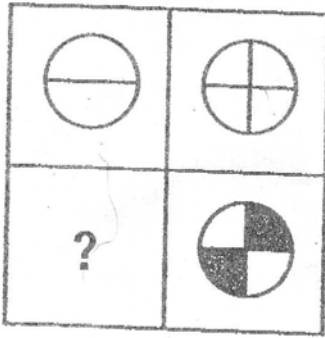
ง

จงขีด / ทับภาพที่หายไป

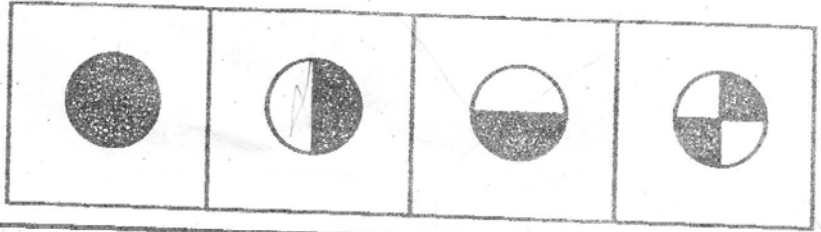


กา X ทับภาพที่เติมช่องว่างได้ถูกต้อง _____

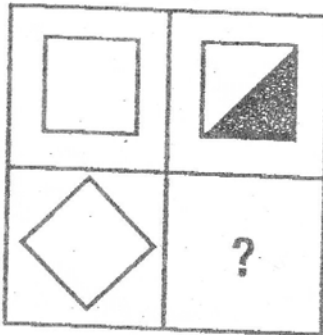
1



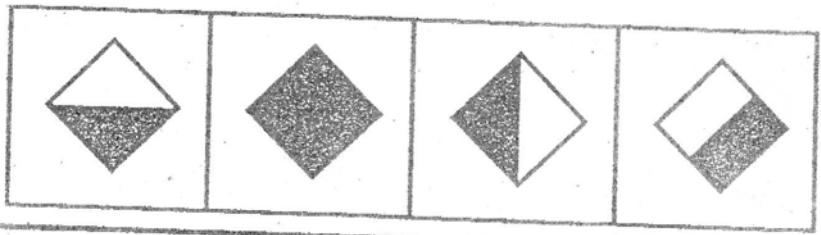
ก. ข. ค. ง.



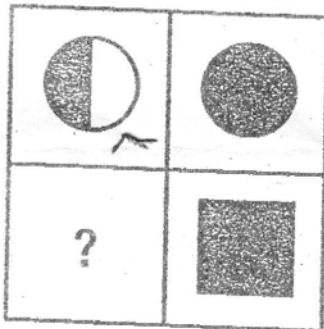
2



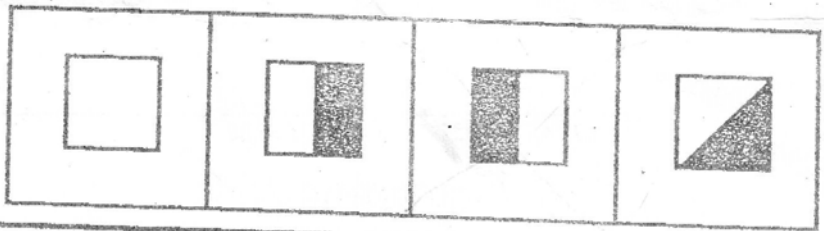
ก. ข. ค. ง.



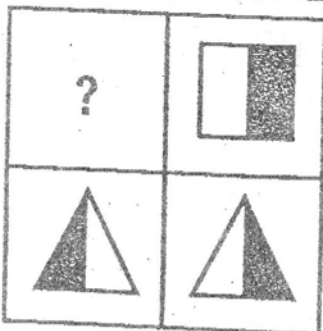
3



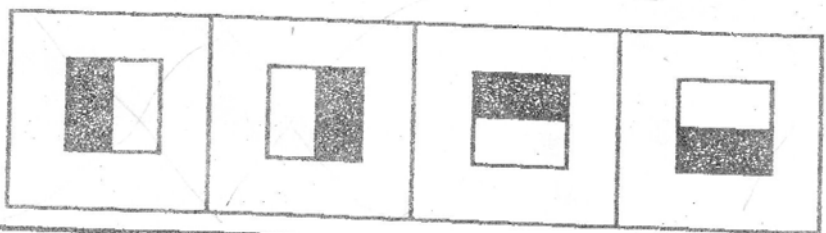
ก. ข. ค. ง.



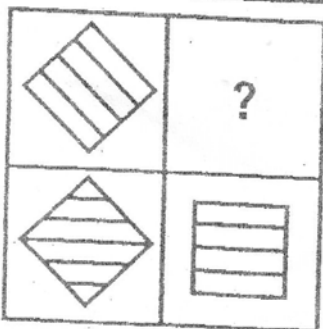
4



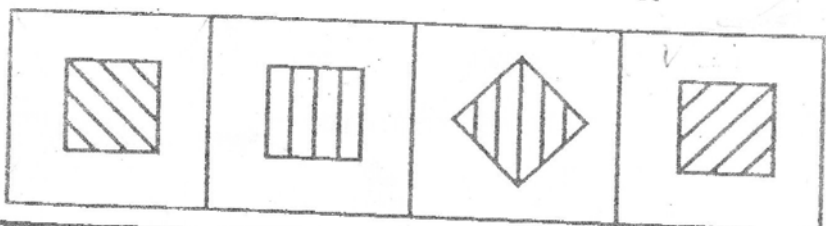
ก. ข. ค. ง.



5




ก. ข. ค. ง.



อ่านเรื่อง และตอบคำถาม

ลูกหมูสามตัวเป็นพี่น้องกัน ลูกหมูตัวที่ 1 ชอบทำอาหาร
ลูกหมูตัวที่ 2 ชอบล้างจาน ลูกหมูตัวที่ 3 ชอบอ่านหนังสือ ไม่มี
ลูกหมูตัวไหนชอบกวาดบ้านและถูบ้านเลย บ้านจึงสกปรก ทำให้
ลูกหมูสามตัวไม่สบาย



วาดรูป

ตั้งชื่อเรื่อง

จง ๐ ตวงสักหรืคำตลขบที่ถูทลอง

1. ในเรื่องนี้มีลูกหมูทั้งหมดกี่ตัว

ก. 1 ตัว

ข. 2 ตัว

ค. 3 ตัว

2. ลูกหมูตัวไหนชอบล้างจาน

ก. ตัวที่ 1

ข. ตัวที่ 2

ค. ตัวที่ 3

3. ลูกหมูตัวที่ 1 มีความสามารถในการทำอะไร

ก. แกะสลัก

ข. อาหาร

ค. จัดดอกไม้

4. ลูกหมูตัวที่ 3 ชอบทำอะไร

ก. อ่านหนังสือ

ข. นอนหลับ

ค. เล่นกีฬา

5. ทำไมลูกหมูสามตัวจึงไม่สบาย

ก. ใส่เสื้อผ้าที่สกปรก

ข. กินอาหารไม่สะอาด

ค. อยู่บ้านที่สกปรก

key หน้า 1 ค ข ข ค ก

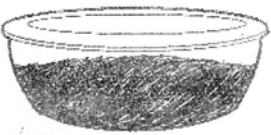

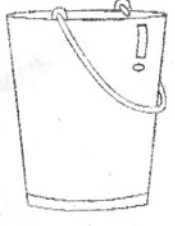
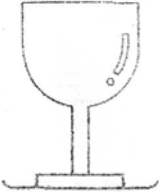
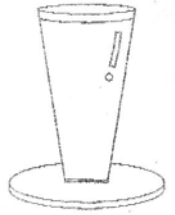
หน้า 2 ง ข ข ข

หน้า 3 ค ง ค ก ก

หน้า 4 ค ข ข ก ค

ขีด / ทิ้งคำตลบที่ถูกตอง

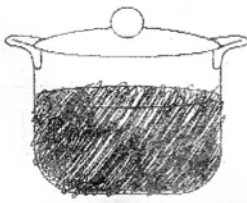



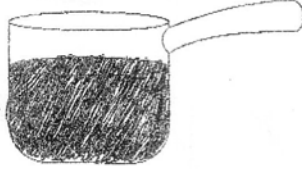
1. เทน้ำลงภาชนะใด ไม่ล้น

ก ข

ค ง




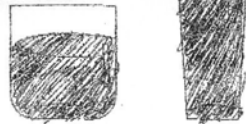


2. น้ำซอใด เท่ากับภาพแรก

ก ข

ค ง


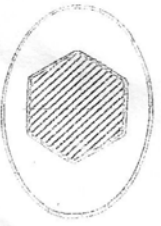


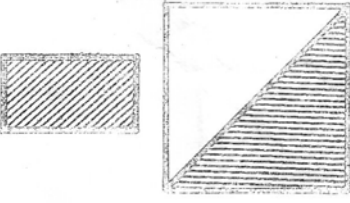

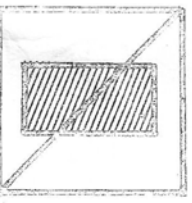

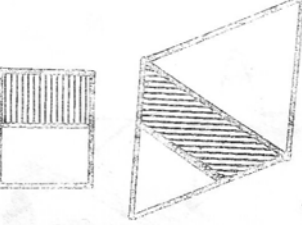
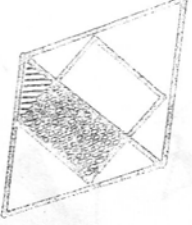
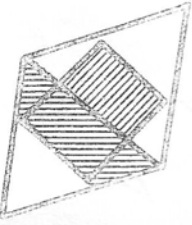
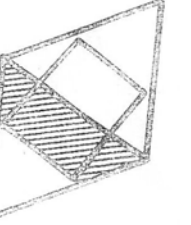
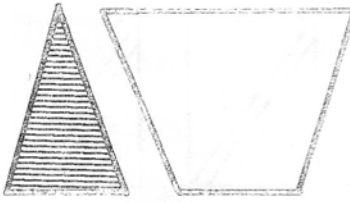

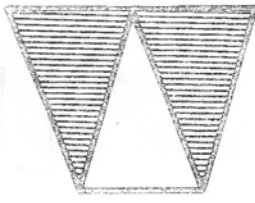
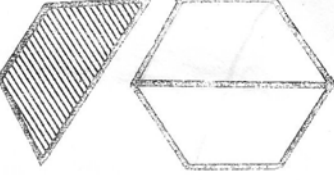
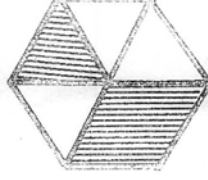
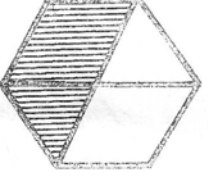
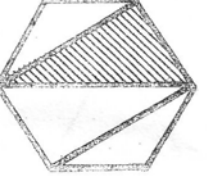

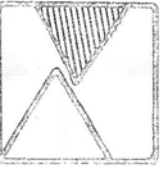


3. นำน้ำในแก้วที่ 2 เทลงในแก้วที่มีขนาดเล็กกว่าระดับน้ำจะเป็นอย่างไร

ก ข

ค ง

องศา X ทับภาพที่สองภาพซ้ายมือรวมกัน

<p>1</p> 	<p>ก.</p> 	<p>ข.</p> 	<p>ค.</p> 
<p>2</p> 	<p>ก.</p> 	<p>ข.</p> 	<p>ค.</p> 
<p>3</p> 	<p>ก.</p> 	<p>ข.</p> 	<p>ค.</p> 
<p>4</p> 	<p>ก.</p> 	<p>ข.</p> 	<p>ค.</p> 
<p>5</p> 	<p>ก.</p> 	<p>ข.</p> 	<p>ค.</p> 
<p>6</p> 	<p>ก.</p> 	<p>ข.</p> 	<p>ค.</p> 

จงกา X ทับภาพที่ต่อเนื่องจากภาพซ้ายมือ

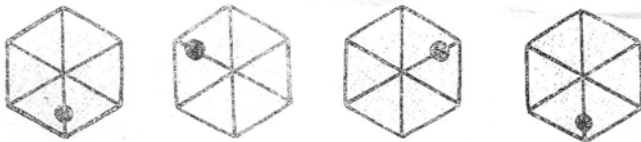
1



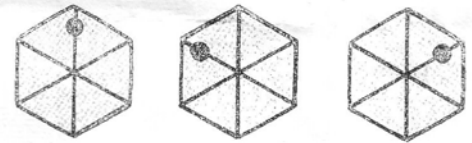
ก. ข. ค.




2



ก. ข. ค.



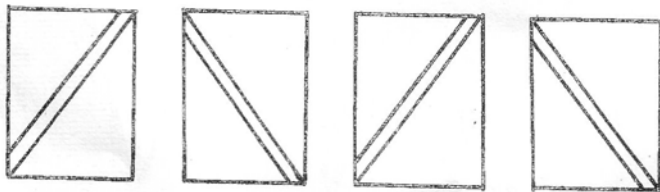
3



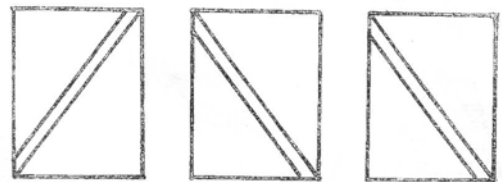
ก. ข. ค.



4



ก. ข. ค.



5



ก. ข. ค.



6

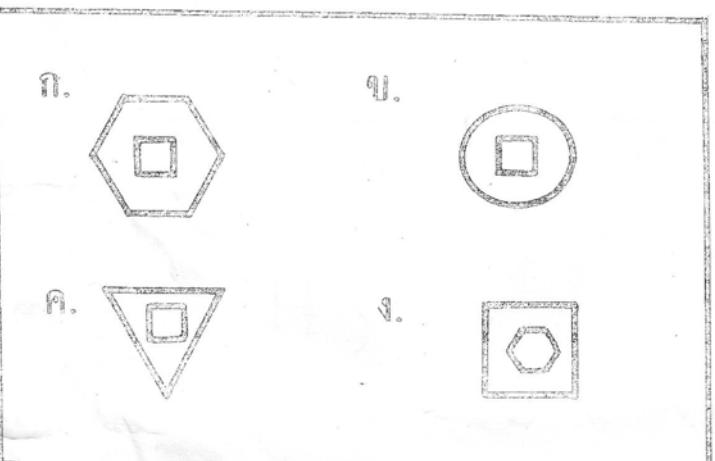



ก. ข. ค.

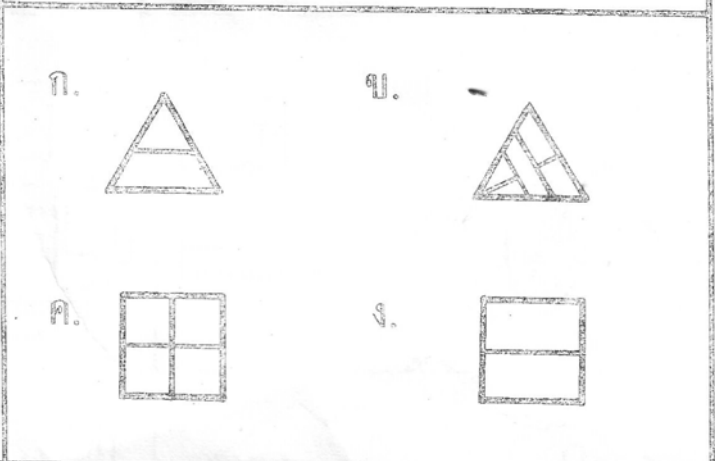
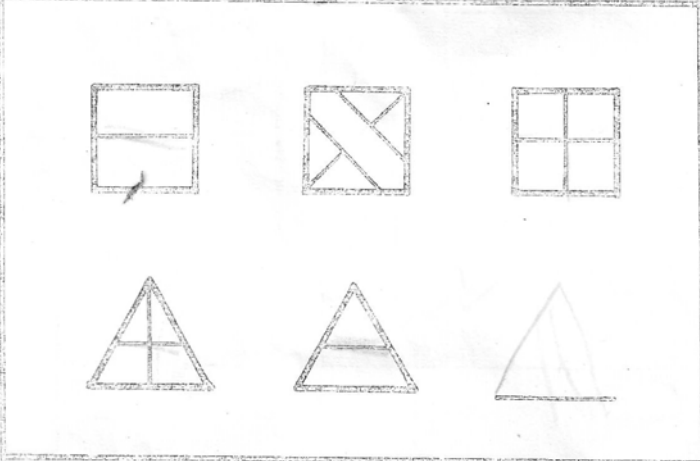


จง X ทับภาพที่หายไป

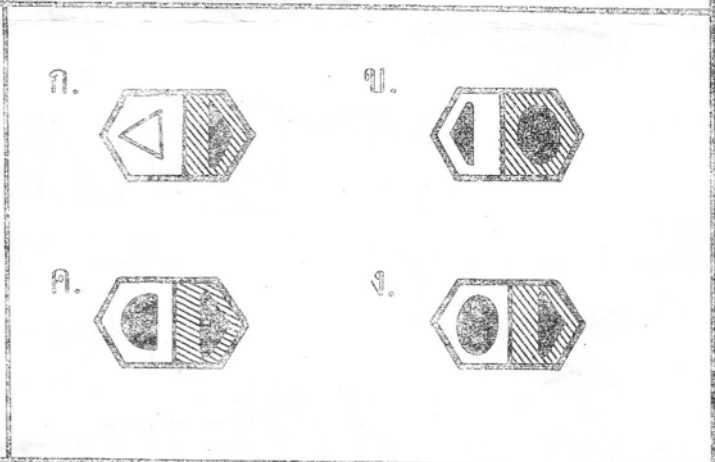
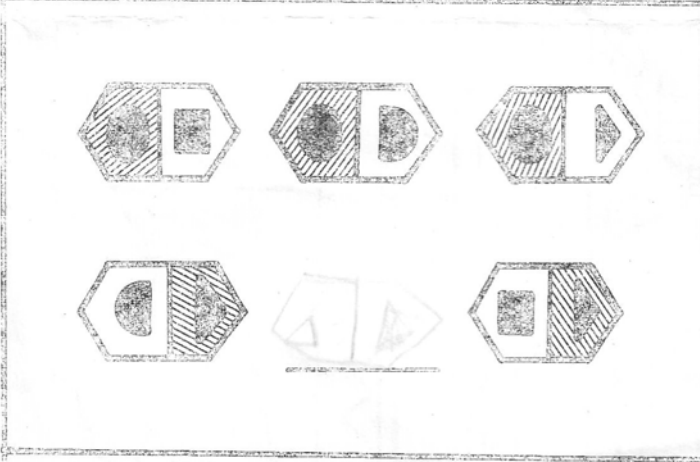
1.



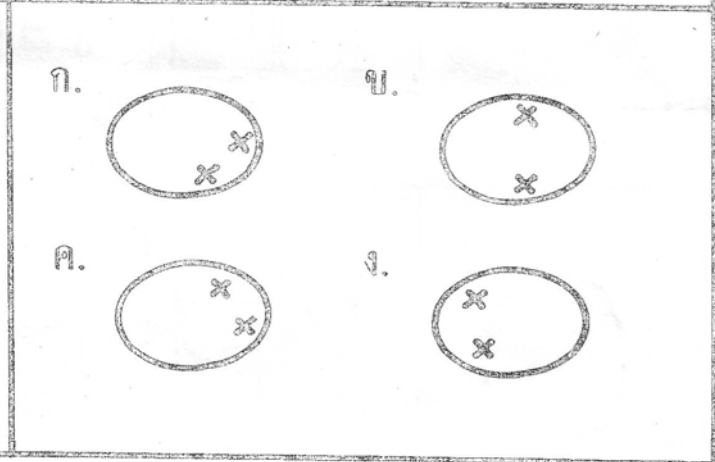

2.



3.







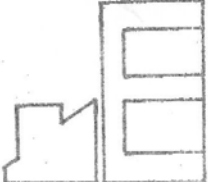
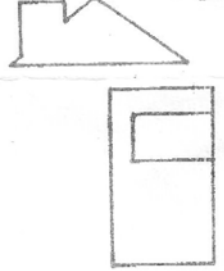
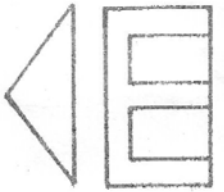
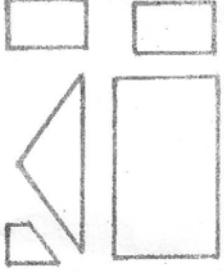
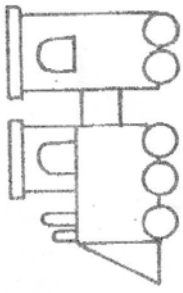
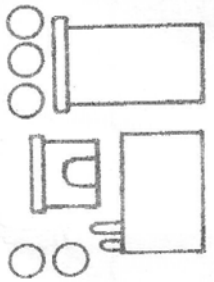
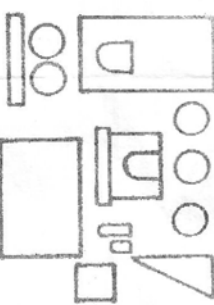
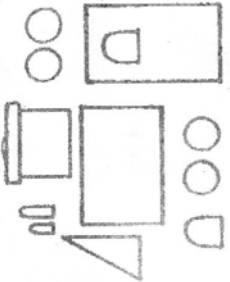
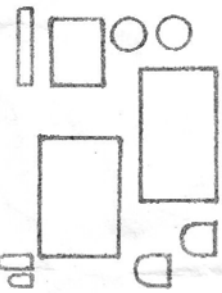
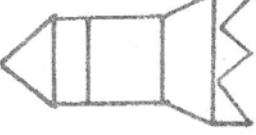
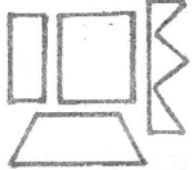









4.



key น.1 = 4 2 น.2 = ขคก น.3 = กคขกขข
 น.4 = คขคกคค น.5 = กขงค น.6 = คขขขข

ภาพข้อใดที่รวมกันได้เท่ากับภาพในข้อแรก แล้ว

<p>1</p> 	<p>ก</p> 	<p>ข</p> 	<p>ค</p> 	<p>ง</p> 
<p>2</p> 	<p>ก</p> 	<p>ข</p> 	<p>ค</p> 	<p>ง</p> 
<p>3</p> 	<p>ก</p> 	<p>ข</p> 	<p>ค</p> 	<p>ง</p> 
<p>4</p> 	<p>ก</p> 	<p>ข</p> 	<p>ค</p> 	<p>ง</p> 
<p>5</p> 	<p>ก</p> 	<p>ข</p> 	<p>ค</p> 	<p>ง</p> 