



ข้อสอบ ครั้งที่ 7 ชุดที่ 1

ฟังข้อความ แล้ว ✕ ทับข้อที่ถูกต้องที่สุด

1. "ในครัวมีเตา กระทะ ตะหลิว หม้อ ทัพพี มีด เขียง จาน ช้อน"

1. สิ่งเหล่านี้เป็นพวกอะไร

1	2	3
เครื่องปรุง	เครื่องครัว	เครื่องเขียน

2. "เสื้อ กระโปรง ถุงเท้า เป็นสิ่งที่ใช้กับร่างกายของเรา"

2. สิ่งเหล่านี้เป็นพวกอะไร

1	2	3
เครื่องตกแต่ง	เครื่องประดับ	เครื่องแต่งกาย

3. "บ้านของสุดาเลี้ยงเปิด ไก่ หมู สุนัข และแมวไว้ มันเป็นประโยชน์มากมาย"

3. สัตว์เหล่านี้เป็นพวกอะไร

1	2	3
สัตว์เลี้ยง	สัตว์ปีก	สัตว์แสนรู้

4. "ชาวนา ชาวสวน ชาวไร่ ปลูกพืชผักผลไม้ให้เราได้รับประทานกันตลอดปี"

4. คนเหล่านี้มีอาชีพที่เรียกว่าอะไร

1	2	3
กรรมกร	เกษตรกร	ชาวประมง

5. "เวลาแดดจัดหรือฝนตก เราไม่ควรออกไปวิ่งเล่น เพราะจะทำให้ไม่สบายได้"

5. ข้อความนี้เป็นข้อความประเภทใด

1	2	3
คำเตือน	คำถาม	คำสั่ง

6. "นายแดงถูกจับได้ว่าขโมยของแม่ค้า และยอมรับผิดแต่โดยดี แต่ต่อมาเกิดความกลัว จึงกลับใจไม่ยอมรับว่าตนขโมย"

6. นายแดงกลับใจ หมายความว่าอย่างไร

1	2	3
นายแดงเปลี่ยนใจ	นายแดงกลุ้มใจ	นายแดงเสียใจ

7. คุณป้าบอกหลานว่าจะขงีบสักนิตหนึ่ง ถ้าเห็นว่านานเกินไปให้เรียกด้วย"

7. คุณป้าจะทำอะไร

1	2	3
นอนหลับ	เดินเล่น	สวดมนต์

8. "ฝนเริ่มลงเม็ดปรอยๆ หนูแหวนก้าวเท้าขึ้นเพื่อจะไปให้ถึงบ้านโดยไม่เปียกฝน"

8. หนูแหวนเดินอย่างไร

1	2	3
อดทน	เร่งรีบ	ระวัง

9. "จุ่มกลับจากโรงเรียน คุณแม่เตรียมขนมถ้วยฟูของโปรดไว้ให้รับประทาน"

9. ของโปรดคืออะไร

1	2	3
ของชอบ	ของราคาแพง	ของเล่น

10. "คุณป้าถูกเพื่อนบ้านส่งเสียงดังรบกวนบ่อยๆ เข้า ชักฉุน จึงไปแจ้งตำรวจ"


10. คุณป้าแจ้งตำรวจเพราะรู้สึกอย่างไรกับเพื่อนบ้าน

1	2	3
เหม็น	ปวดศีรษะ	โกรธ


ฟังเรื่อง แล้วตอบคำถามข้อ 11 - 15

“วันหนึ่ง คุณพ่อพาหนูนิดไปเที่ยวชายทะเล หาดทรายสวยงาม มีต้นมะพร้าวเป็นทิวแถว หนูนิดอยากไปเดินและเล่นน้ำทะเล จึงขออนุญาตคุณพ่อ พ่อหนูนิดเดินลงไปยังชายหาด ขณะนั้นเป็นเวลาน้ำลง หนูนิดเห็นขยะ ถุงพลาสติก เศษขวดแตก และอื่นๆ อีกมากตลอดแนวชายฝั่งทะเล หนูนิดคิดว่า ถ้ามีคนไปเล่น น้ำเวลาน้ำขึ้นและไปเหยียบขวดแตกเหล่านี้เข้า เขาจะเป็นอย่างไร หนูนิดจึงกำลง เก็บเศษขยะไปทิ้งถังขยะ ทำให้บริเวณนั้นสวยงามขึ้นอีกมาก

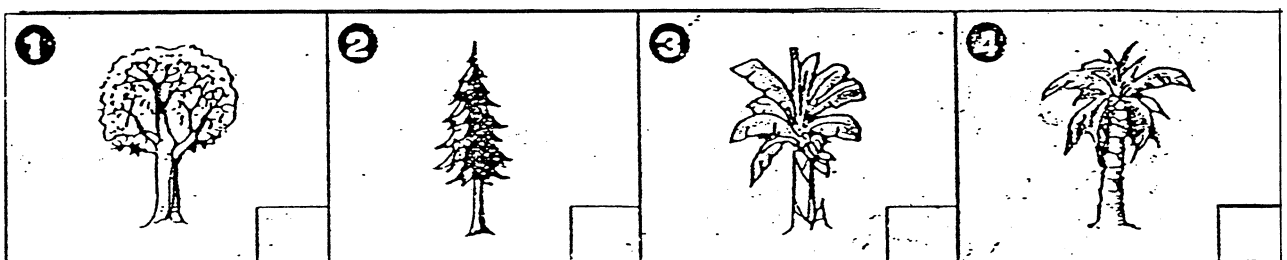
11. หนูนิดไปเที่ยวที่ไหน



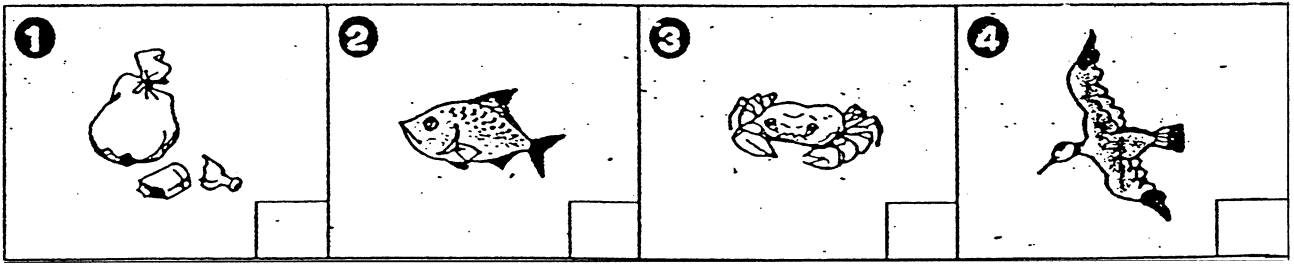
12. หนูนิดไปกับใคร



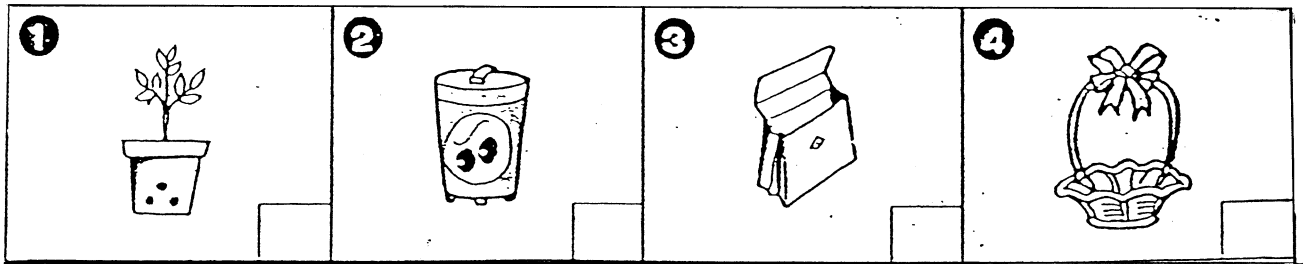
13. ชายทะเลมีต้นอะไรมาก



14. หนูนิดเห็นอะไรที่ขายทะเล



15. หนูนิดเก็บเศษขยะไปทิ้งที่ใด



ฟังเรื่องต่อไปนี้ แล้ว ✕ ทับข้อที่ถูกต้องที่สุด

หญ้าที่สูงที่สุดในโลกคือต้นไผ่ ต้นไผ่เป็นพืชที่ชอบขึ้นในแถบร้อนชื้น เป็นต้นไม้ที่มีลำต้นเป็นปล้อง ข้างในกลวง และเนื้อไม้อ่อน สามารถนำมาใช้ประโยชน์ได้หลายอย่าง ในสภาพดินฟ้าอากาศที่ชุ่มชื้นมักจะงอกเร็วมาก ประมาณ 2 ฟุตต่อวัน ส่วนที่ออกมาเป็นหน่อไม้ที่เรานำมารับประทานเป็นอาหารได้

16. ข้อความนี้กล่าวถึงพืชชนิดใด

1 ต้นกล้วย	2 ต้นหญ้า	3 ต้นไผ่
---------------	--------------	-------------

17. ข้อใด ไม่ใช่ ลักษณะของไผ่

1 ลำต้นเป็นปล้อง	2 เป็นไม้เนื้อแข็ง	3 ชอบอากาศร้อนชื้น
---------------------	-----------------------	-----------------------

18. ส่วนของต้นไผ่ที่เรานำมารับประทานเรียกว่าอะไร

1 หน่อไม้	2 ยอดไผ่	3 แขนงไผ่
--------------	-------------	--------------

19. ข้อความดังกล่าว พูดถึงเรื่องใดมากที่สุด

1 ลักษณะของต้นไผ่	2 การงอกของไผ่	3 วิธีการปลูกต้นไผ่
----------------------	-------------------	------------------------

20. ต้นไผ่ชอบอากาศอย่างไร

1 แห้งแล้ง	2 หนาวเย็น	3 ร้อนชื้น
---------------	---------------	---------------

ตอบคำถามต่อไปนี้ให้ถูกต้อง

"ฝนเป็นเด็กมีมารยาทงาม เดินผ่านผู้ใหญ่ก็ก้มหลังผ่านทุกครั้ง"

21. ถ้านักเรียนพบคุณป้า นักเรียนจะทำอย่างไร

1	2	3
พูด "สวัสดี"	ไหว้ แล้วพูด "สวัสดีค่ะ"	พูด "สวัสดีค่ะ"

22. ฝนเวลาเดินผ่านผู้ใหญ่มักจะทำอะไร

1	2	3
เดินก้มหน้า	เดินก้มศีรษะ ผ่านไป	เดินก้มหลังผ่านไป

23. เมื่อนักเรียนเดินชนเพื่อน นักเรียนจะพูดว่า ...

1	2	3
"ขอโทษค่ะ"	"ขอโทษ"	"ขอบคุณค่ะ"

24. เมื่อนักเรียนได้รับของแจกจากเพื่อน นักเรียนจะพูดว่า ...

1	2	3
"ขอบใจค่ะ"	"ขอบคุณค่ะ"	"ขอบพระคุณมากค่ะ"

25. ถ้านักเรียนอยากจะตอบคำถามของคุณครูในห้องเรียน นักเรียนจะทำอย่างไร

1	2	3
ยกมือ ขออนุญาต	พูดขึ้นมาเลย	ยืนขึ้น

26. การซื้ออาหารตอนกลางวัน ควรปฏิบัติอย่างไร

1	2	3
เข้าแถว ตามลำดับก่อน-หลัง	แย่งกันเข้าซื้อ	แซงคิวคนอื่นเข้าไปซื้อ เพราะช้า

27. สิ่งของเมื่อเล่นแล้ว ควรปฏิบัติอย่างไร

1	2	3
เก็บไว้ที่เดิม	ทิ้งไว้ให้แม่เก็บ	วางรวมๆ ไว้มุมห้อง

28. สิ่งที่อยู่รอบๆ ตัวเราเรียกว่าอะไร

1 บ้าน	2 โรงเรียน	3 สิ่งแวดล้อม
-----------	---------------	------------------

29. ถ้าเราขาดสิ่งใดต่อไปนี้จะตายทันที

1 น้ำ	2 อากาศ	3 อาหาร
----------	------------	------------

30. ทิศที่พระอาทิตย์ขึ้น คือทิศอะไร

1 ทิศเหนือ	2 ทิศตะวันออก	3 ทิศตะวันตก
---------------	------------------	-----------------

31. ข้อใดเป็นหน้าที่ของนักเรียน

1 ทำงานประกอบอาชีพ	2 ตั้งใจศึกษาเล่าเรียน	3 ประกอบอาหาร
-----------------------	---------------------------	------------------

32. เมื่อพบคุณครู นักเรียนควรปฏิบัติอย่างไร

1 ไหว้	2 โบกมือ	3 ยืนตรง
-----------	-------------	-------------


33. แถบตรงกลางของธงชาติไทยมีสีอะไร

1 สีขาว	2 สีแดง	3 สีน้ำเงิน
------------	------------	----------------

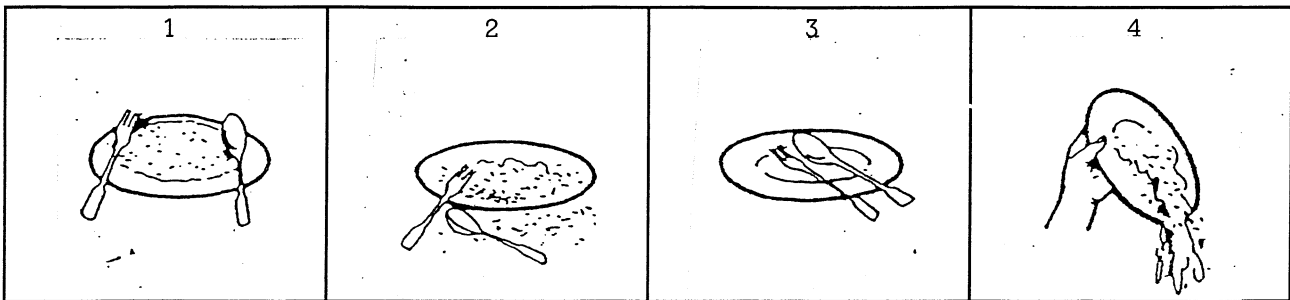
34. "คุณแม่พาเราไปเยี่ยมคุณตา" คุณตาคือใคร

1 พ่อของพ่อเรา	2 แม่ของพ่อเรา	3 พ่อของแม่เรา
-------------------	-------------------	-------------------

35. เราได้นมสำหรับดื่มจากสัตว์อะไร



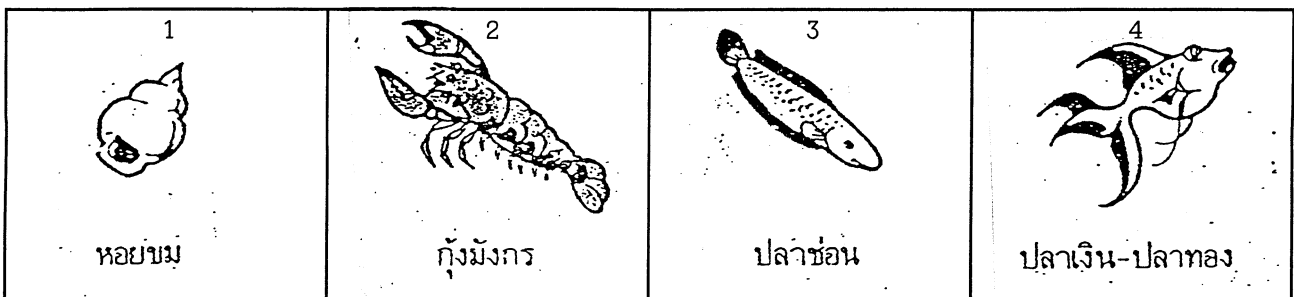
36. ภาพใดคือการรับประทานข้าวอย่างประหยัด




37. ข้อใดเป็นสัตว์น้ำจืด




38. ข้อใดเป็นสัตว์น้ำเค็ม



39. แรงลมช่วยให้สิ่งนี้ลอยอยู่ได้

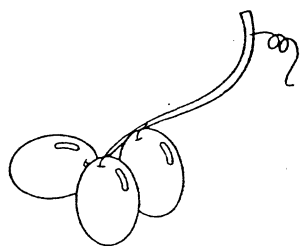



40. ผ้าชิ้นใดจะแห้งเร็วที่สุด




41

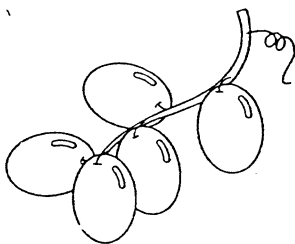
อุงุ่นพวงหนึ่งมี 10 ลูก
 ให้นำไป 3 ลูก
 ให้นำไป 3 ลูก
 เหลือไว้กินเองกี่ลูก



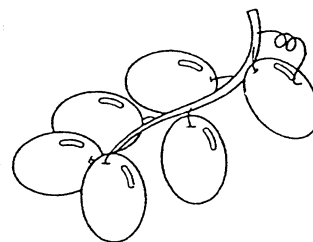
ก



ข





ค




ง

42


ฉันมีลูกโป่ง 3 ใบ
 เพื่อนให้มาอีก 4 ใบ
 ทำแตกไป 2 ใบ
 เหลือลูกโป่งกี่ใบ




ก



ข



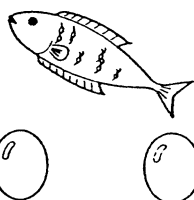

ค




ง

43


แม่ซื้อไข่มา 5 ฟอง ปลา 2 ตัว
 และมะเขือ 3 ผล เอาปลา ไข่
 และมะเขือมาทำกับข้าวกิน
 อย่างละ 2 ยังคงมีกับข้าว
 เหลืออีกจำนวนเท่าไร




ก



ข








ค



ง

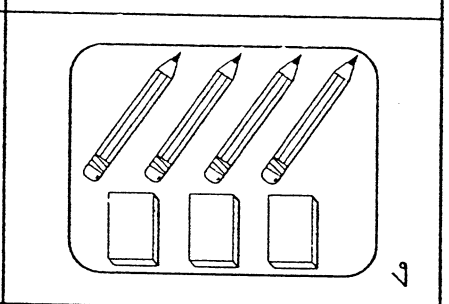
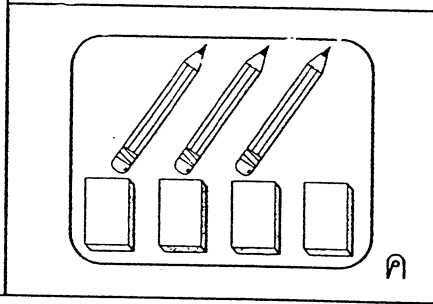
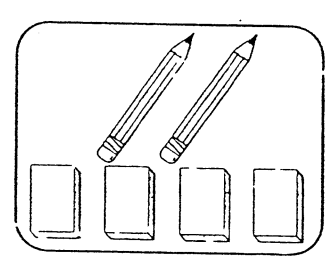
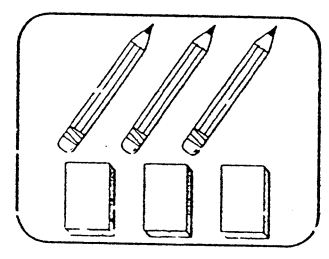
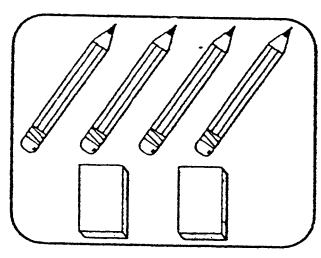
44

มีถ้วยกาแฟ 5 ใบ มีช้อนอยู่ 3 คัน ทำด้วยแตกไป 3 ใบ แล้วซื้อช้อนมาเพิ่ม 4 คัน จะมีถ้วย + ช้อน ทั้งหมดเท่าไร



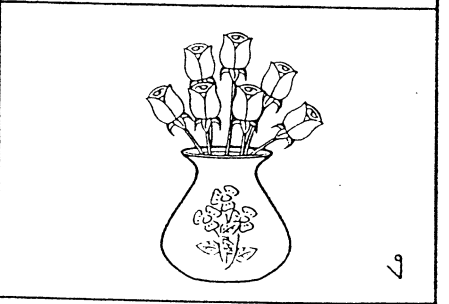
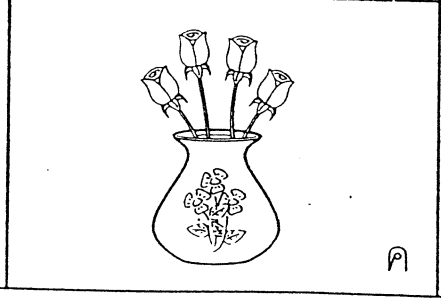
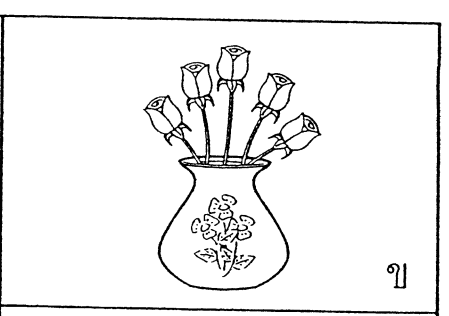
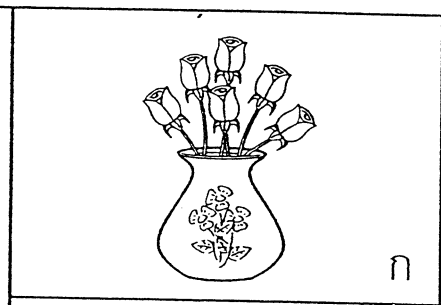
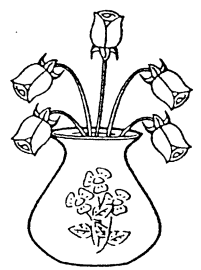
45

ในกล่องดินสอมีดินสอ 4 แท่ง มียางลบ 2 ก้อน เอาดินสอออกไปเหลา 1 แท่งและเอายางลบมาใส่อีก 2 ก้อนในกล่อง จะมีดินสอและยางลบเท่าไร



46

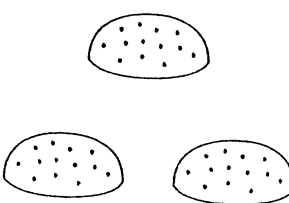
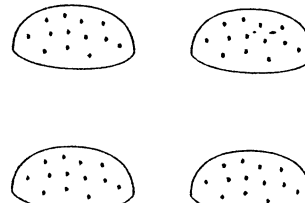
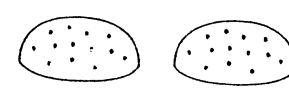
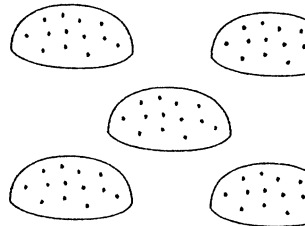
แจกันมีดอกไม้ 5 ดอก เอาดอกไม้เยียวออกไป 4 ดอก แล้วซื้อใหม่ 5 ดอก ในแจกันจะมีดอกไม้กี่ดอก



47


น้องมีขนม 3 ชิ้น
แม่ให้มาอีก 2 ชิ้น
น้องมีขนมกี่ชิ้น

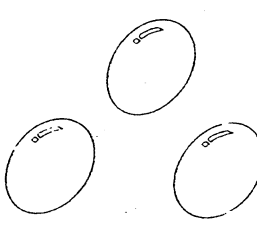
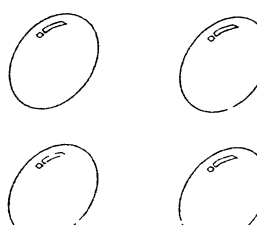
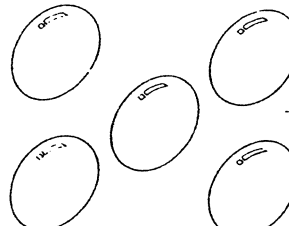
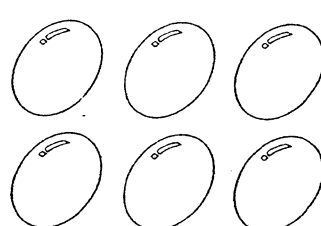


 <p>ก</p>	 <p>ข</p>
 <p>ค</p>	 <p>ง</p>

48

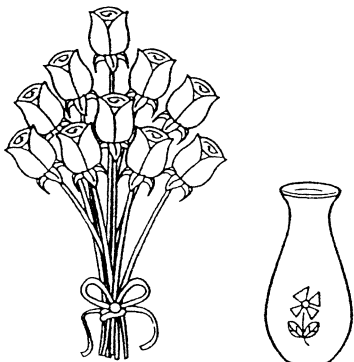
เปิดออกไข่มา 8 ฟอง
ฟักเป็นตัว 4 ฟอง
ยังไม่ฟักอีกกี่ฟอง



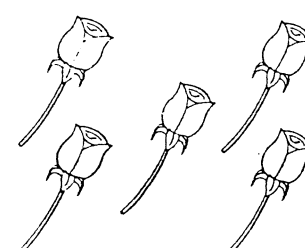



 <p>ก</p>	 <p>ข</p>
 <p>ค</p>	 <p>ง</p>

49



มีดอกไม้ 10 ดอก
จัดใส่แจกัน 6 ดอก
จะเหลือกี่ดอก




 <p>ก</p>	 <p>ข</p>
 <p>ค</p>	 <p>ง</p>

50


มีปลาอยู่ในอ่าง 3 ตัว
ออกลูกมาอีก 4 ตัว
มีปลาอยู่ในอ่างกี่ตัว




ก



ข



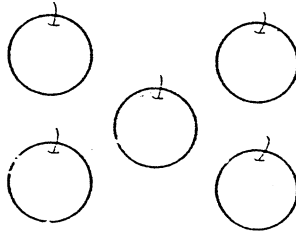
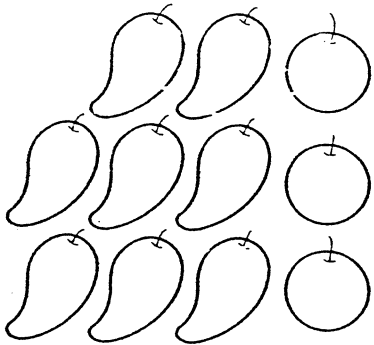
ค



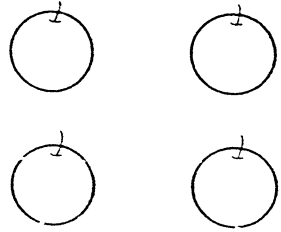
ง

51

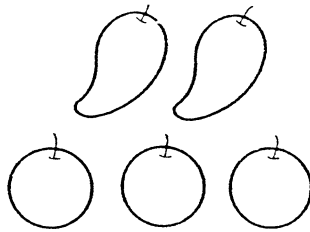
มีมะม่วงอยู่ 8 ผล
มีส้มอยู่ 3 ผล ต้องหาส้ม
มาเพิ่มอีกกี่ผลจึง
จะเท่ากับมะม่วง



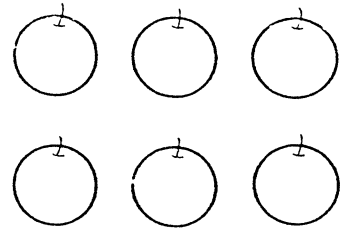
ก



ข





ค




ง

52


ลุงเลี้ยงไก่ 7 ตัว
ขายไป 5 ตัว ลุงมีไก่กี่ตัว



ก



ข



ค



ง