



ข้อสอบ ครั้งที่ 6 ชุดที่ 1

ฟังเรื่องแล้วตอบคำถามให้ถูกต้อง

เข้าตรู่ของวันอาทิตย์ น้องบีตื่นแต่เช้า มองออกไปทางหน้าต่าง เห็นต้นไม้มากมาย เช่น มะม่วง มะยม ชมพู่ หลังจากน้องบีแปรงฟัน อาบน้ำ และแต่งตัวแล้ว คุณพ่อก็พาน้องบีไปเดินเล่นหน้าบ้าน เจ้าแต้มก็เห่าและวิ่งตามไปด้วย ที่หน้าบ้านมีดอกไม้หลายอย่าง เช่น ดอกกุหลาบ ดอกทานตะวัน ดอกเข็ม คุณพ่อชี้ให้น้องบีดู แล้วถามชื่อดอกไม้ นั้น น้องบีก็ตอบได้หมด คุณพ่อจึงชมว่าน้องบีเก่งมาก ที่รู้จักดอกไม้ในบ้านทุกชนิด

1. ในบ้านน้องบี มีต้นไม้อะไรบ้าง

1 มะยม, ชมพู่	2 ขนุน, ทุเรียน	3 มังคุด, ลำไย
------------------	--------------------	-------------------

2. ดอกไม้อะไรบ้างในบ้านน้องบีมีหนามที่ลำต้น

1 ดอกเข็ม	2 ดอกกุหลาบ	3 ดอกทานตะวัน
--------------	----------------	------------------

3. ใครไปดูดอกไม้บ้าง

1 พ่อ, แม่	2 น้องบี	3 พ่อ, น้องบี
---------------	-------------	------------------

4. เจ้าแต้มคืออะไร

1 แมว	2 กระต่าย	3 สุนัข
----------	--------------	------------

5. น้องบีไปดูดอกไม้ในวันใด

1 วันจันทร์	2 วันพุธ	3 วันอาทิตย์
----------------	-------------	-----------------

ฟังเรื่องแล้วตอบคำถามให้ถูกต้อง

คุณแม่ถามหนูเป็โอเหลอว่า จะไปตลาดกับคุณแม่หรือไม่
 หนูเป็โอเหลอตอบว่าไม่ไปคะ เพราะหนูเป็โอเหลอกำลังเพลิตเพลิน
 กับการเล่นตุ๊กตาที่เพิ่งได้รับมาใหม่ แต่หนูเป็โอเหลอขอความกรุณาให้คุณแม่
 ชื้อขนมมาฝากหนูเป็โอเหลอด้วย

6. คุณแม่กำลังจะไปไหน

1 ทำงาน	2 ตลาด	3 ไปซื้อของเล่น
------------	-----------	--------------------

7. เพราะเหตุใดหนูเป็โอเหลอจึงไม่ไปกับคุณแม่

1 ห่วยเล่น	2 ทำการบ้าน	3 หิวขนม
---------------	----------------	-------------

8. หนูเป็โอเหลอเป็นใคร

1 แม่ว	2 เด็กชาย	3 เด็กหญิง
-----------	--------------	---------------


9. ในเรื่องนี้ มีตัวละครกี่ตัว

1 ๑ ตัว	2 ๒ ตัว	3 ๓ ตัว
------------	------------	------------

10. เหตุการณ์ในข้อใดเกิดขึ้นก่อนข้ออื่น

1 คุณแม่ไปตลาด	2 คุณแม่ซื้อขนม	3 หนูเป็โอเหลอเล่นตุ๊กตา
-------------------	--------------------	-----------------------------

11. เรียงลำดับเหตุการณ์ แล้วใส่หมายเลข 1 - 4 ให้ถูกต้อง




12. เรียงลำดับเหตุการณ์ แล้วใส่หมายเลข 1 - 4 ให้ถูกต้อง






13. เรียงลำดับเหตุการณ์ แล้วใส่หมายเลข 1 - 4 ให้ถูกต้อง



14. เรียงลำดับเหตุการณ์ แล้วใส่หมายเลข 1 - 4 ให้ถูกต้อง



15. เรียงลำดับเหตุการณ์ แล้วใส่หมายเลข 1 - 4 ให้ถูกต้อง



ฟังข้อความแล้ว ตอบคำถาม ข้อ 16 - 30 ให้ถูกต้อง

16. "แดงชอบรับประทาน ปลา ปู กุ้ง และหอย"

สัตว์ที่เป็นอาหารที่แดงชอบรับประทานอาศัยอยู่ที่ไหน

1 บนบก	2 ในน้ำ	3 ทั้งในน้ำและบนบก
-----------	------------	-----------------------

17. "แดงสอบคณิตศาสตร์ได้ 28 คะแนน ภาษาไทยได้ 30 คะแนน

ส.ป.ช. ได้ 25 คะแนน" วิชาอะไรที่แดงสอบได้คะแนนมากที่สุด

1 คณิตศาสตร์	2 ภาษาไทย	3 ส.ป.ช.
-----------------	--------------	-------------

18. "นก เป็ด ไก่ ออกไข่ให้เรารับประทาน" เป็ดเป็นสัตว์ประเภทใด

1 สัตว์บก	2 สัตว์น้ำ	3 สัตว์ครึ่งบกครึ่งน้ำ
--------------	---------------	---------------------------

19. "คุณพ่อกำลังพรวนดิน เพื่อเตรียมที่ไว้ปลูกผัก" สิ่งใดที่คุณพ่อปลูก

1 มะละกอ	2 ดอกกะหล่ำ	3 มะพร้าว
-------------	----------------	--------------

20. "อู๊ดและแอ๊ดเป็นฝาแฝดเกิดวันเดียวกัน" อู๊ดและแอ๊ดเป็นอะไรกัน

1 เพื่อนสนิท	2 พี่น้อง	3 พ่อแม่
-----------------	--------------	-------------

21. "ปัจจุบันชาวไร่ ชาวนา จะใช้ปุ๋ยและยาฆ่าแมลงกับพืชผักมาก จนเกิดอันตรายกับผู้รับประทาน" ข้อใดคือเหตุผลสำคัญที่ทำให้คุณพ่อปลูกผักรับประทานเอง

1 เพื่อจะได้รับประทานผักสด	2 เพื่อเป็นการประหยัด	3 เพื่อจะได้ปลอดภัย จากสารพิษ
-------------------------------	--------------------------	-------------------------------------

22. "เมื่อเป้าอายุได้ 9 ปี บิดาก็เสียชีวิต" ข้อใดถูกต้องตามข้อความนี้

1	2	3
พ่อของเป้าตาบอด	พ่อของเป้าตาย	ตาของเป้าตาย

23. "เหลือบเป็นแมลงรูปร่างคล้ายแมลงวัน แต่ตัวโตกว่า" เหลือบและแมลงวันเหมือนกันในเรื่องใด

1	2	3
ขนาด	รูปร่าง	ที่อยู่

24. "สัตว์ที่มี 6 ขา เรียกว่าแมลง เช่น ยุง มด ส่วนสัตว์ที่มี 8 ขา เรียกว่าแมง เช่น แมงดา แมงมุม" สัตว์ในข้อใดแตกต่างจากสัตว์ในข้ออื่น

1	2	3
มด	ผึ้ง	แมงมุม

25. "ถ้าปล่อยให้ยุงกัด อาจทำให้ป่วยเป็นโรคมาเลเรีย หรือไข้เลือดออก" ข้อความต่อไปนี้ ข้อใดเป็นจริง

1	2	3
ยุงนำเชื้อมาเลเรียมาสู่คน	คนที่ยุงกัด อาจเป็นโรคไข้เลือดออก	โรคมาเลเรียเป็นโรคที่ไม่มีทางป้องกันได้

26. "ครอบครัวของนิต มีลูก 3 คน นิตมีพี่ชาย 1 คน และมีน้ำสาว 1 คน" นิตเป็นลูกคนที่เท่าไร

1	2	3
คนโต	คนกลาง	คนสุดท้อง

27. "พ่อเป็นชาวประมง พี่ชายและฉันก็เป็นชาวประมง" ทุกคนในข้อความนี้ เกี่ยวข้องเป็นอะไรกัน

1	2	3
พ่อแม่	พ่อลูก	ญาติสนิท

28. "พ่อของมานะออกเรือไปในทะเลหลังพระอาทิตย์ตก กลับมาพร้อมปลาเต็มลำเรือ" พ่อของมานะมีอาชีพอะไร

1	2	3
ค้าขายของทะเล	เลี้ยงปลา	จับปลา

29. "สัตว์แสนรู้ที่คนนำไปแสดงให้คนดู มีหลายชนิด เช่น ช้าง ปลาโลมา ลิง ฯลฯ" สัตว์บกขนาดใหญ่ที่คนนำไปแสดงให้คนดู คือสัตว์อะไร


1	2	3
ลิง	ปลาโลมา	ช้าง

30. "วันอาทิตย์ครอบครัวของเรา ชอบออกไปเที่ยว เพื่อสูดอากาศบริสุทธิ์" สถานที่ใดที่ครอบครัวของเราชอบไปเที่ยว

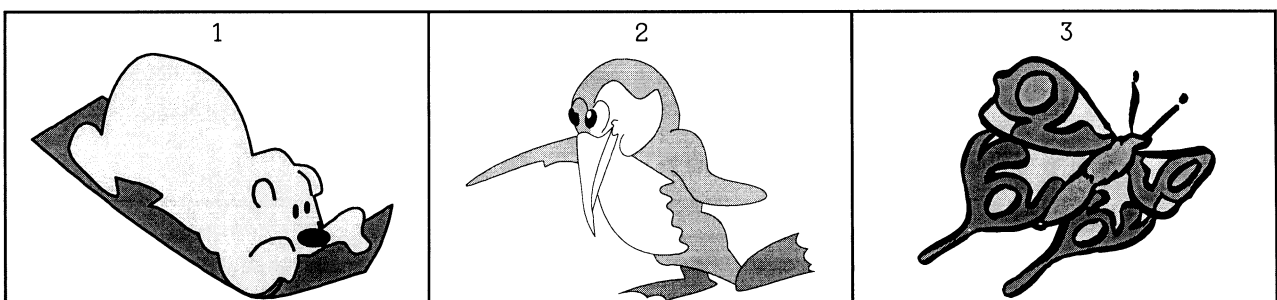
1	2	3
ห้างสรรพสินค้า	ต่างจังหวัด	ต่างประเทศ

ฟังข้อความแล้ว ✕ ทับภาพที่ไม่มีในเรื่อง ให้ถูกต้อง


31. ที่บ้านของดำเลี้ยงเปิด ลูกไก่ และปลา



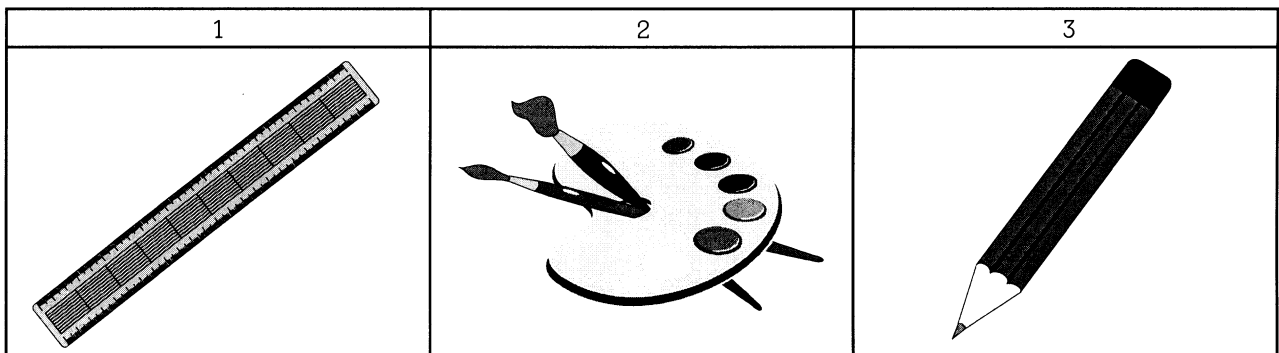
32. เจ้าหมีอยากจะบินได้ นกจึงแนะนำให้ไปหาลูกโป่งมาผูกเอา เจ้าลิงหัวเราะฮึๆ



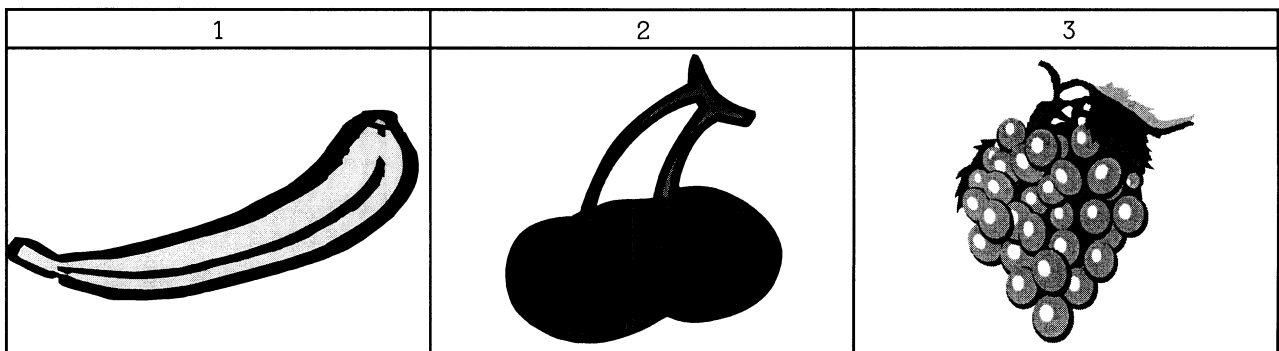
33. การกินท็อปปี้ ขนมเค้ก ช็อกโกแลต ทำให้ฟันผุ



34. เด็กน้อยรีบจัดสมุด ดินสอ ใส่กระเป๋า แต่ก็ลืมไม้บรรทัดจนได้



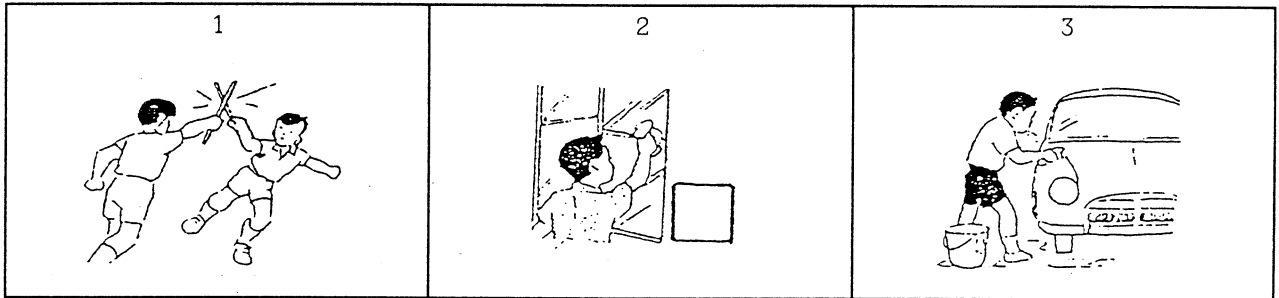
35. คุณแม่ชอบซื้อกล้วย มะละกอ และองุ่น มาให้ฉันกินเสมอ



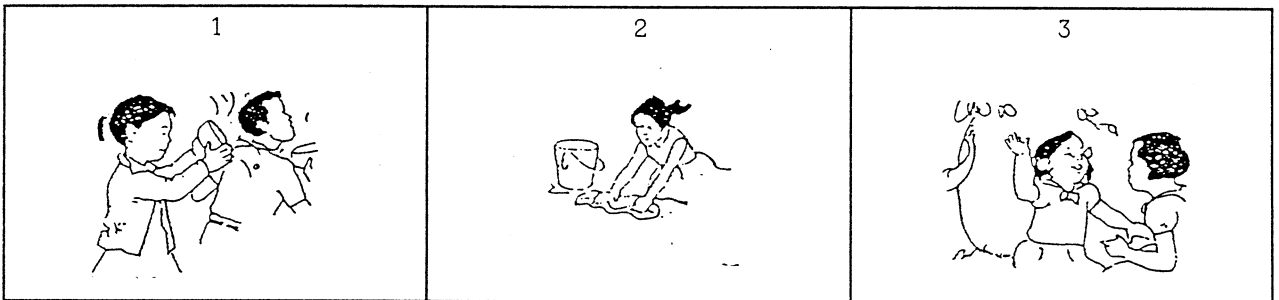
ฟังเรื่องแล้วตอบคำถามให้ถูกต้อง

บ้านนี้มีลูก 2 คน มานะเป็นพี่ มานีเป็นน้อง ทั้งสองคนเป็นเด็กดี พ่อของเขาเป็นครูสอนหนังสือ ตอนเช้ามานะจะช่วยงานบ้าน โดยเช็ดรถให้คุณพ่อ ส่วนมานีจะช่วยคุณแม่บ้าน ส่วนคุณแม่ก็จะเตรียมอาหารสำหรับลูกๆ

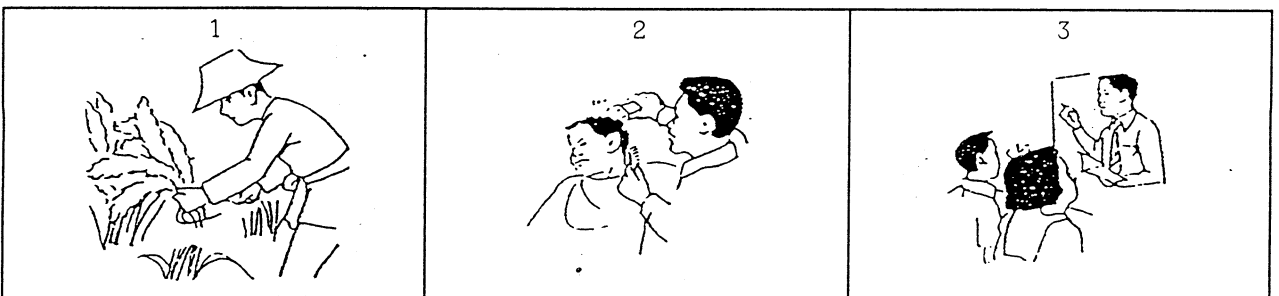
36. ทุกวันมานะมีหน้าที่ทำอะไร




37. มานีมีหน้าที่ช่วยทำอะไร



38. พ่อของมานะและมานีมีอาชีพอะไร



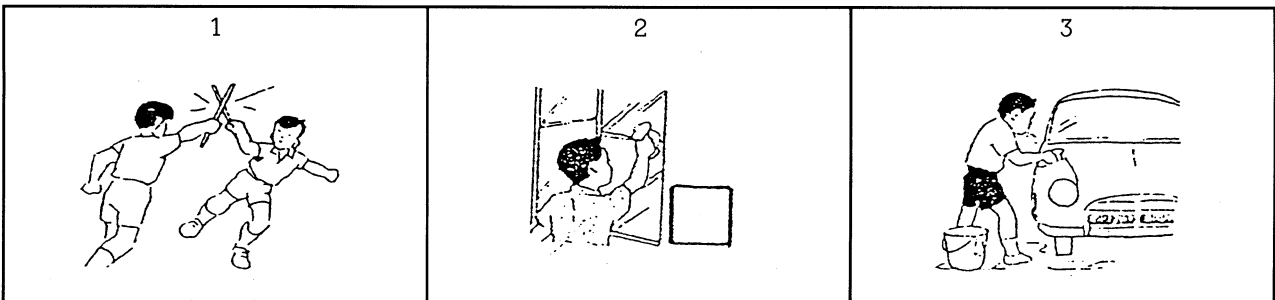
39. แม่ของมานีทำอะไรเมื่ออยู่บ้าน



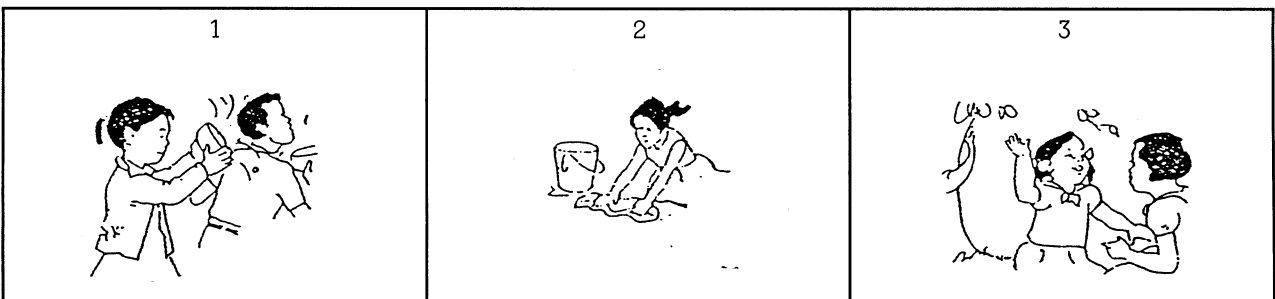
ฟังเรื่องแล้วตอบคำถามให้ถูกต้อง

บ้านนี้มีลูก 2 คน มานะเป็นพี่ มานีเป็นน้อง ทั้งสองคนเป็นเด็กดี พ่อของเขาเป็นครูสอนหนังสือ ตอนเช้ามานะจะช่วยงานบ้าน โดยเช็ดรถให้คุณพ่อ ส่วนมานีจะช่วยคุณแม่ถูบ้าน ส่วนคุณแม่ก็จะเตรียมอาหารสำหรับลูก ๆ

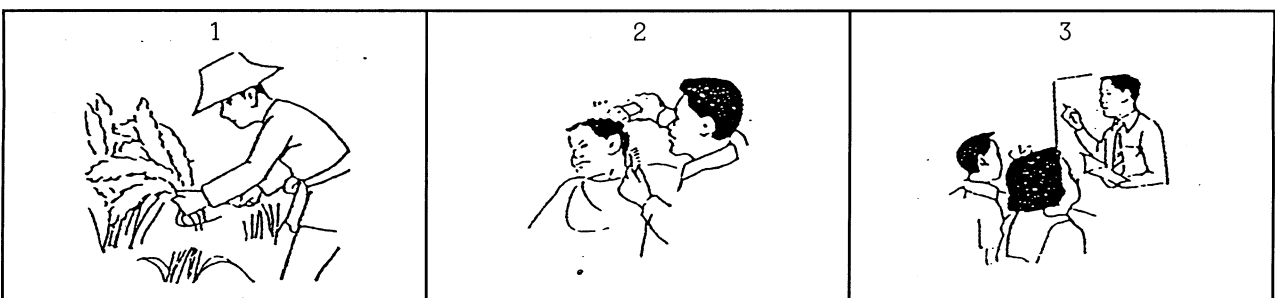
36. ทุกวันมานะมีหน้าที่ทำอะไร




37. มานีมีหน้าที่ช่วยทำอะไร



38. พ่อของมานะและมานีมีอาชีพอะไร



39. แม่ของมานีทำอะไรเมื่ออยู่บ้าน



ฟังข้อความต่อไปนี้แล้ว ✕ ทับข้อที่เกี่ยวข้อง ให้ถูกต้อง

40. "แม่ใช้ฉันทามหาหุม หมา และไก่" แม่เลี้ยงสัตว์กี่ชนิด

1 สองชนิด	2 สามชนิด	3 สี่ชนิด
--------------	--------------	--------------

41. "บ้านของเรามีกระต่ายสิบตัว กระรอกหนึ่งตัว ไก่ห้าตัว" เรามีสัตว์อะไรมากที่สุด

1 กระต่าย	2 กระรอก	3 ไก่
--------------	-------------	----------

42. "มังคุด ละมุด น้อยหน่า มีรสหวานอร่อย" สิ่งที่มีรสหวานอร่อยเป็นอะไร

1 ขนม	2 ผลไม้	3 ผักสด
----------	------------	------------

43. "ซูใจสอบได้ที่หนึ่ง ซูใจรีบวิ่งไปบอกคุณแม่"

นักเรียนคิดว่า คุณแม่ของซูใจจะรู้สึกอย่างไร

1 ดีใจ	2 เสียใจ	3 ตกใจ
-----------	-------------	-----------

จง ✕ ทับข้อที่ถูกต้องที่สุด

44. ข้อใดทำให้โรงเรียนสกปรก

1 ขีดเขียนตามฝาผนังห้อง	2 นำขยะทิ้งลงถังขยะ	3 แต่งกายผิดระเบียบ
----------------------------	------------------------	------------------------

45. อุบัติเหตุเกิดขึ้นจากสาเหตุใด

1 ความระมัดระวัง	2 ความประมาท	3 ความไม่สามัคคี
---------------------	-----------------	---------------------


46. การข้ามถนนควรทำอย่างไร

1 วิ่งข้ามเวลาไม่มีรถวิ่ง	2 ข้ามบริเวณสะพานลอย	3 ข้ามตามเพื่อน
------------------------------	-------------------------	--------------------

จง ✕ ทับข้อที่เป็นคำตอบที่ถูกต้อง


47. แม่มีดินสอ 8 แท่ง ทำหายไป 2 แท่ง ที่เหลือนำไปแบ่งให้ลูก 2 คน

คนละเท่าๆ กัน จะได้คนละกี่แท่ง



1	2	3

48. ป้าซื้อช้อนมา 8 คัน ซื้อส้อมมา 4 คัน ต้องซื้อส้อมมาเพิ่มอีกกี่คัน จึงจะครบคู่



1	2	3

49. ฉันทิ้งแมวไว้ 5 ตัว น้องเลี้ยงกระต่ายไว้ 6 ตัว ต่อมากระต่ายตายไป 2 ตัว คงเหลือแมวและกระต่ายอย่างละกี่ตัว




1	2	3

50. ลุงเลี้ยงแม่ไก่ไว้ 5 ตัว แต่ละตัวจะออกไข่วันละ 1 ฟอง 3 วันต่อมาลุงจะได้ไข่กี่ฟอง



1	2	3


51. พี่เลี้ยงปลาไว้ 10 ตัว แบ่งให้เพื่อนไป 4 ตัว ขณะนี้พี่เหลือปลากี่ตัว



1	2	3

52. แม่มีส้มอยู่ 5 ผล ต้องการแบ่งให้เด็ก 2 คน คนละ 5 ผล

จะต้องซื้อส้มมาเพิ่มอีกกี่ผล จึงจะแบ่งได้พอดี



1	2	3