

ข้อสอบ ครั้งที่ 5 ชุดที่ 1

ฟังเรื่องแล้วตอบคำถามให้ถูกต้อง

วิชา และ อารี เป็นนักเรียนห้องเดียวกัน อารีเก่งภาษาไทย วิชาบอกว่าภาษาไทยยากมาก เขาชอบวิชาเลขมากกว่า อารีจึงช่วยสอนวิชาทำการบ้านภาษาไทย วิชาชอบใจอารี

1. วิชาและอารีเกี่ยวข้องกันอย่างไร

1 เป็นเพื่อนกัน	2 เป็นพี่น้องกัน	3 เป็นญาติกัน
--------------------	---------------------	------------------

2. ใครเรียนภาษาไทยเก่ง

1 มานี	2 อารี	3 วิชา
-----------	-----------	-----------

3. ใครบอกว่าภาษาไทยยาก

1 วิชา	2 อารี	3 เดชา
-----------	-----------	-----------

4. ใครชอบเรียนวิชาเลข

1 อารี	2 มานี	3 วิชา
-----------	-----------	-----------

5. อารีสอนวิชาทำอะไร

1 การบ้านเลข	2 การบ้านภาษาไทย	3 การทำแปลงผัก
-----------------	---------------------	-------------------

ฟังเรื่องแล้วตอบคำถามให้ถูกต้อง

เสียงเจ้าโต้งชั้นเจ็อยแจ้วบอกเวลาใกล้รุ่ง แม่ลูกชั้นล้างหน้าแล้วติดไฟ
หุงข้าว จากนั้นจึงปลุกชิดกับชมให้ตื่นเพื่อเตรียมตัวไปนากับพ่อ แม่บอกชิดว่า
ก่อนไปนาให้พาเจ้าเผือกกับเจ้าทวยไปกินหญ้าก่อน ส่วนชมอย่าลืมให้ข้าวเปลือก
กับเจ้าโต้งด้วย

6. "เจ้าโต้ง" คือสัตว์ชนิดใด

1 ไก่	2 เปิด	3 นก
----------	-----------	---------

7. ครอบครัวนี้ประกอบอาชีพอะไร

1 ทำสวน	2 ทำไร่	3 ทำนา
------------	------------	-----------

8. "เจ้าเผือกกับเจ้าทวย" ควรเป็นชื่อของสัตว์ชนิดใด

1 ควาย	2 ไก่	3 เปิด
-----------	----------	-----------

9. สัตว์ชนิดใดที่ไม่ได้กล่าวถึงในเรื่องนี้

1 ไก่	2 ควาย	3 เปิด
----------	-----------	-----------

10. ครอบครัวนี้มีทั้งหมดกี่คน

1 4 คน	2 5 คน	3 6 คน
-----------	-----------	-----------

ฟังเรื่องแล้วตอบคำถามให้ถูกต้อง

ลูกหมูสามตัวเป็นพี่น้องกัน ลูกหมูตัวที่ 1 ชอบทำอาหาร ลูกหมูตัวที่ 2 ชอบล้างจาน ลูกหมูตัวที่ 3 ชอบอ่านหนังสือ ไม่มีลูกหมูตัวไหนชอบกวาดบ้าน และถูบ้านเลย บ้านจึงสกปรก ทำให้ลูกหมูสามตัวไม่สบาย

11. ในเรื่องนี้มีลูกหมูทั้งหมดกี่ตัว

1 ไก่	2 เปิด	3 นก
----------	-----------	---------

12. ลูกหมูตัวไหนชอบล้างจาน

1 ตัวที่ 1	2 ตัวที่ 2	3 ตัวที่ 3
---------------	---------------	---------------

13. ลูกหมูตัวที่ 1 มีความสามารถในการทำอะไร

1 แกะสลัก	2 อาหาร	3 จัดดอกไม้
--------------	------------	----------------

14. ลูกหมูตัวที่ 3 ชอบทำอะไร

1 อ่านหนังสือ	2 นอนหลับ	3 เล่นกีฬา
------------------	--------------	---------------

15. ทำไมลูกหมูสามตัวจึงไม่สบาย

1 ใส่เสื้อผ้าที่สกปรก	2 กินอาหารไม่สะอาด	3 อยู่บ้านที่สกปรก
--------------------------	-----------------------	-----------------------

ฟังเรื่องแล้วตอบคำถามให้ถูกต้อง

วันเด็กปีนี้พ่อกับแม่พาเก่งไปเที่ยวสวนสัตว์ เก่งซื้อถั่วฝักยาวให้ยีราฟ
ซื้อขนมปังให้ปลา ซื้อกล้วยให้ลิง พ่อกับแม่พาเก่งเดินดูสัตว์อีกมากมายหลายชนิด
พอเก่งเหนื่อย แม่ก็พามาที่นั่งพักตัดต้นมะขาม

16. เก่งไปเที่ยวสวนสัตว์ในวันใด

1 วันเสาร์	2 วันอาทิตย์	3 วันปิดเทอม
---------------	-----------------	-----------------

17. อาหารของยีราฟคืออะไร

1 กล้วย	2 อ้อย	3 ถั่วฝักยาว
------------	-----------	-----------------

18. ลิงชอบกินอะไร

1 แตงกวา	2 กล้วย	3 ขนมปัง
-------------	------------	-------------

19. เก่งซื้ออะไรให้ปลากิน

1 ขนมเค้ก	2 ขนมชั้น	3 ขนมปัง
--------------	--------------	-------------

20. แม่พาเก่งมานั่งพักเหนื่อยที่ได้ต้นไม้ชนิดใด

1 ต้นมะขาม	2 ต้นมะม่วง	3 ต้นขนุน
---------------	----------------	--------------

ฟังเรื่องแล้วตอบคำถามให้ถูกต้อง

ปานเป็นเด็กที่เตี้ย เวลาเข้าแถวโดยเรียงลำดับจากเตี้ยสุดไปหาสูงสุด ปานจะเข้าแถวอยู่ลำดับที่ 17 ของห้อง และนักเรียนในห้องมีทั้งหมด 30 คน

21. มีคนเตี้ยกว่าปานจำนวนกี่คน

1	2	3
16 คน	15 คน	14 คน

22. มีคนสูงกว่าปานกี่คน

1	2	3
11 คน	13 คน	15 คน

23. การเข้าแถวมีลักษณะอย่างไร

1	2	3
เตี้ยสุดไปหาสูงสุด	สูงสุดไปหาเตี้ยสุด	สลับกัน

24. นักเรียนในห้องมีกี่คน

1	2	3
30 คน	25 คน	35 คน

25. ปานเข้าแถวลำดับที่เท่าไรของห้อง

1	2	3
17	18	19

ฟังเรื่องแล้วตอบคำถามให้ถูกต้อง

คุณพ่อคุณแม่ไปรับคุณตาคุณยายที่บ้าน พี่ๆ และฉันก็มาด้วย
 เรารับประทานอาหารขนมเค้กด้วยกัน มีเค้กจำนวน 8 ชิ้น พอดีกับพวกเราทุกคน
 แล้วพวกเราก็ช่วยกันทำความสะอาดร่วมกัน คุณตาให้รางวัลพวกเราหลานๆ
 ทั้งหมดเป็นเงิน 400 บาทพอดี

26. คุณตาคุณยายมีหลานกี่คน

1	2	3
2 คน	3 คน	4 คน

27. พวกเราทานขนมเค้กรวมกันได้ทั้งหมดกี่ชิ้น

1	2	3
หนึ่งชิ้น	สี่ชิ้น	แปดชิ้น

28. ข้อใดแสดงให้เห็นว่า เด็กๆ มีความสามัคคีกัน

1	2	3
ทำความสะอาด	ทำขนมเค้ก	ไปรับคุณตาคุณยาย


29. คุณตาให้เงินหลานรวมกันทั้งหมดเป็นเงินกี่บาท

1	2	3
100	200	400

30. เมื่อรับประทานอาหารกลางวันเสร็จ ควรปฏิบัติอย่างไร







1	2	3
แปรงฟัน	ขัดเล็บ	ล้างมือ

จากภาพตอบคำถาม ข้อ 31 - 34



31

นักเรียนนับ แล้วเติมตัวเลขที่ถูกต้องลงในช่อง

	<input type="text"/>		<input type="text"/>
	<input type="text"/>		<input type="text"/>
	<input type="text"/>		<input type="text"/>

32. จากภาพสิ่งของใดมีมากที่สุด





1 ถุง	2 ท้อพี	3 ดาว
----------	------------	----------

33. จำนวนสิ่งของใดมีน้อยที่สุด





1 มด	2 รองเท้า	3 ไอศกรีม
---------	--------------	--------------

ข้อ 35 - 45 ให้นักเรียนขีดเครื่องหมาย X ภาพที่เป็นคำตอบที่ถูกต้อง





35. เรานำดอกของพืชมารับประทาน

1	2	3	4
1 	2 	3 	4 


36. ดอกไม้ที่ถือเป็นลักษณะของวันแม่

1	2	3	4
1 	2 	3 	4 

37. เรารักษาตนเองให้ปลอดภัยจากการข้ามถนน

1	2	3	4
1 	2 	3 	4 

38. ใครทำงานที่สถานีตำรวจ



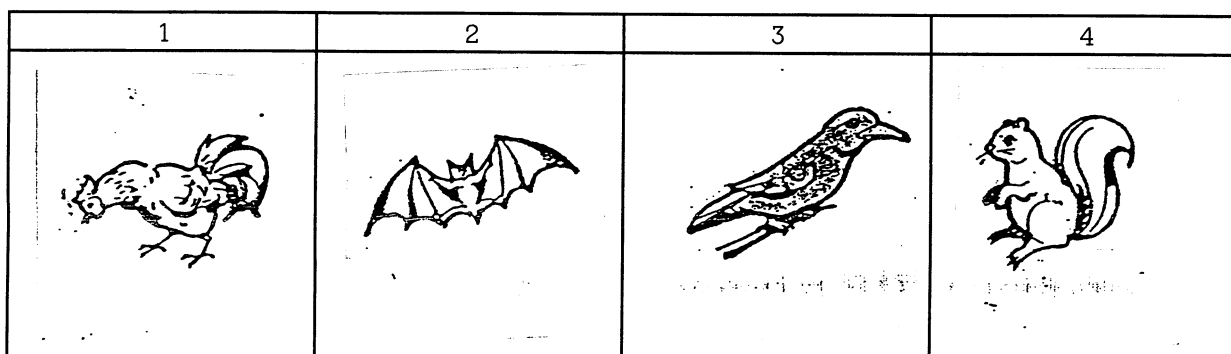
39. เหตุการณ์ใดที่ถือว่าเป็นเหตุการณ์เริ่มแรก




40. เดือนแรกของปี คือเดือนอะไร

1	2	3	4
ธันวาคม	มกราคม	มีนาคม	พฤษภาคม


41. สัตว์ที่ออกหากินเวลากลางคืน




42. ใหญ่ที่สุด




43. อายุน้อยที่สุด




44. เร็วที่สุด



45. แข็งแรงที่สุด





46. จากรูปภาพ สัตว์ตัวใดมีความสูงมากที่สุด

1 ยีราฟ	2 ฮิปโป	3 ลิง
------------	------------	----------

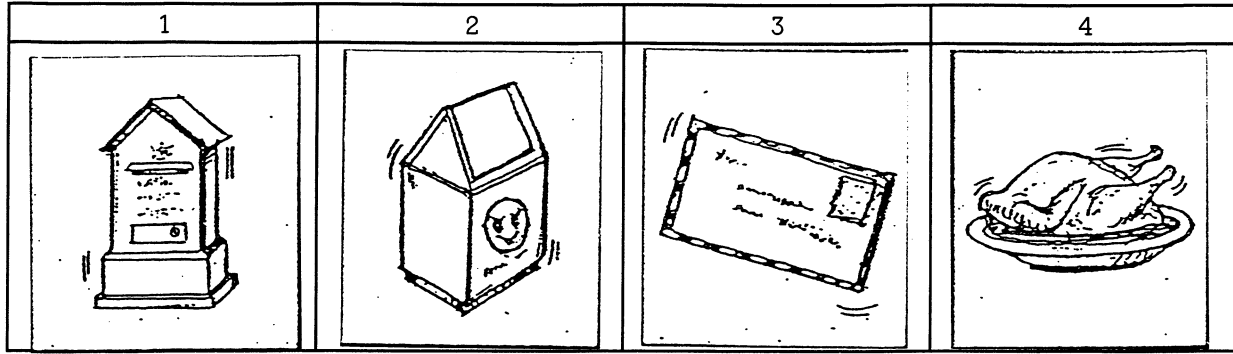
47. สัตว์ชนิดใดที่มีความสูงรองมาจากยีราฟ

1 ยีราฟ - ลิง	2 ยีราฟ - กระต่าย	3 ฮิปโป - ลิง
------------------	----------------------	------------------

48. สัตว์ชนิดใดที่มีความสูงรองมาจากยีราฟ

1 ฮิปโป	2 กระต่าย	3 ลิง
------------	--------------	----------

49. บุรุษไปรษณีย์ ทำหน้าที่จัดส่งอะไร



50. ครูมีอาชีพหลัก ทำอะไร

