



ข้อสอบ ครั้งที่ 3 ชุดที่ 1

ฟังเรื่องแล้วตอบคำถามให้ถูกต้อง

นิตตื่นนอนแต่เช้า แปรงฟัน ล้างหน้า แล้วแต่งตัวด้วยเสื้อและกระโปรง นักเรียนตัวใหม่ แล้วจึงรับประทานอาหารเช้า แม่บอกว่าก่อนทานข้าวควรล้างมือให้สะอาด หลังทานข้าวแล้วก็ต้องแปรงฟันให้สะอาด ฟันจะได้ไม่ผุ

1. นิตน่าจะเป็นเด็กผู้หญิงเพราะอะไร

1 สวมเสื้อ	2 สวมกระโปรง	3 ตื่นนอนแต่เช้า
---------------	-----------------	---------------------

2. หลังจากตื่นนอนแล้ว นิตทำอะไรก่อน

1 แต่งตัว	2 ทานข้าว	3 แปรงฟัน
--------------	--------------	--------------

3. ก่อนทานข้าวควรทำอะไรก่อน

1 ล้างหน้า	2 ล้างมือ	3 ล้างจาน
---------------	--------------	--------------

4. เหตุใดจึงต้องแปรงฟันหลังทานข้าว

1 ป้องกันฟันผุ	2 ให้ปากหอม	3 เพื่อให้ยิ้มสวย
-------------------	----------------	----------------------

5. เราควรแปรงฟันเวลาใดบ้าง

1 ทุกครั้งที่ทานขนม	2 ก่อนนอนและหลังอาหาร	3 ตื่นนอนตอนเช้า และก่อนเข้านอน
------------------------	--------------------------	---------------------------------------

6. ถ้าหนู ไม่ทำ ตามที่แม่บอก นักเรียนคิดว่าหนูจะเป็นอย่างไร

1 ต้องถูกตี	2 ต้องปวดฟัน	3 ต้องหยุดเรียน
----------------	-----------------	--------------------

7. ข้อใดแสดงถึงความสามัคคี

1 วิ่งไล่จับกลางสนาม	2 ช่วยกันทำความสะอาด ห้องเรียน	3 ดวงใจกวาดห้องเรียน เป็นประจำ
-------------------------	--------------------------------------	--------------------------------------

ฟังเรื่องต่อไปนี้แล้วตอบคำถาม ข้อ 8 - 12

หนูเกื้อเอื้อเพื่อ	ใส่เสื้อผ้าลายเสือ
ชอบนั่งบนเสื่อ	ดูเรือชนเกลื่อ
วันหนึ่งมีเพื่อน	มาเยียนบ้านเกื้อ
เธอแกงมะเขือ	ใส่เนื้อหอมจัง
แกงเดือดล้นเปื้อน	แม่เตือนระวัง
ร้อนเหลือเหยื่อปลั่ง	เกือบหลังลงแกง
แม่ทำขนมเป็อง	สีเหลืองสลับแดง
เนื้อเป็องหอยแครง	แดงโมแดงเรือ
เพื่อนต่างเลื่อมใส	เคลื่อนไหวมาเพื่อ
ขอชิมไม่เบื่อ	ต่างเชื่อฝีมือ

8. ใครมาเยี่ยมเยียนหนูเกื้อ

1 คุณลุง คุณป้า	2 คุณปู่ คุณย่า	3 เพื่อน ๆ
--------------------	--------------------	---------------

9. อาหารชนิดใดที่หนูเกื้อทำให้เพื่อนรับประทาน

1 แกงเนื้อใส่มะเขือ	2 ขนมเป็อง	3 แดงโม
------------------------	---------------	------------

10. ข้อใดตรงกับลักษณะนิสัยของหนูเกื้อ

1 ซุกซน	2 เอื้อเฟื้อ	3 ดูเหมือนเสื่อ
------------	-----------------	--------------------

ฟังเรื่องแล้วตอบคำถามให้ถูกต้อง

1. นิดน่าจะเป็นเด็กผู้หญิงเพราะอะไร

1 สวมเสื้อ	2 สวมกระโปรง	3 ตื่นนอนแต่เช้า
---------------	-----------------	---------------------

2. หลังจากตื่นนอนแล้ว นิดทำอะไรมาก่อน

1 แต่งตัว	2 ทานข้าว	3 แปรงฟัน
--------------	--------------	--------------

3. ก่อนทานข้าวควรทำอะไรก่อน

1 ล้างหน้า	2 ล้างมือ	3 ล้างจาน
---------------	--------------	--------------

4. เหตุใดจึงต้องแปรงฟันหลังทานข้าว

1 ป้องกันฟันผุ	2 ให้ปากหอม	3 เพื่อให้ยิ้มสวย
-------------------	----------------	----------------------

5. เราควรแปรงฟันเวลาใดบ้าง

1 ทุกครั้งที่ทานขนม	2 ก่อนนอนและหลังอาหาร	3 ตื่นนอนตอนเช้า และก่อนเข้านอน
------------------------	--------------------------	---------------------------------------

6. ถ้าหนูไม่ทำตามแม่บอก นักเรียนคิดว่าหนูจะเป็นอย่างไร

1 ต้องถูกตี	2 ต้องปวดฟัน	3 ต้องหยุดเรียน
----------------	-----------------	--------------------

7. ข้อใดแสดงถึงความสามัคคี

1 วิ่งไล่จับกลางสนาม	2 ช่วยกันทำความสะอาด ห้องเรียน	3 ดวงใจกวาดห้องเรียน เป็นประจำ
-------------------------	--------------------------------------	--------------------------------------

ฟังเรื่องต่อไปนี้แล้วตอบคำถาม ข้อ 8 - 12

8. ใครมาเยี่ยมเยียนหนูเกื้อ

1 คุณลุง คุณป้า	2 คุณปู่ คุณย่า	3 เพื่อน ๆ
--------------------	--------------------	---------------

9. อาหารชนิดใดที่หนูเกื้อทำให้เพื่อนรับประทาน

1 แกงเนื้อใส่มะเขือ	2 ขนมเบื้อง	3 แตงโม
------------------------	----------------	------------

10. ข้อใดตรงกับลักษณะนิสัยของหนูเกื้อ

1 ซุกซน	2 เอื้อเฟื้อ	3 ดูเหมือนเลื้อ
------------	-----------------	--------------------

11. หนูเกือบทำอะไรเมื่อมีเวลาว่าง

1 ทำอาหาร	2 นั่งดูเรือชนเกลื่อ	3 ช่วยแม่ขายแตงโม
--------------	-------------------------	----------------------

12. ข้อใดมีความหมายตรงกับคำว่า "เลื่อมใส"

1 เห็นชอบด้วย	2 ไม่เชื่อถือ	3 ไม่ยินดี
------------------	------------------	---------------


จงเติมหมายเลขลำดับเหตุการณ์ให้ถูกต้อง

13



ก

14




ก



ข




ข



ค



ค



ง



ง

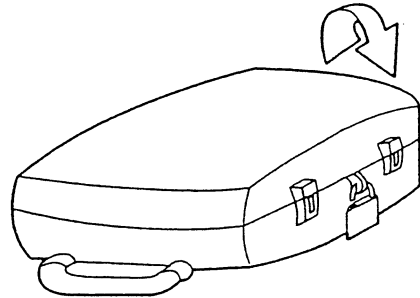
จงเติมหมายเลขลำดับเหตุการณ์ให้ถูกต้อง

15



ก

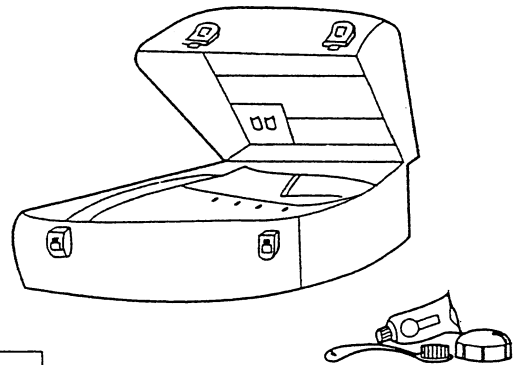
16



ก



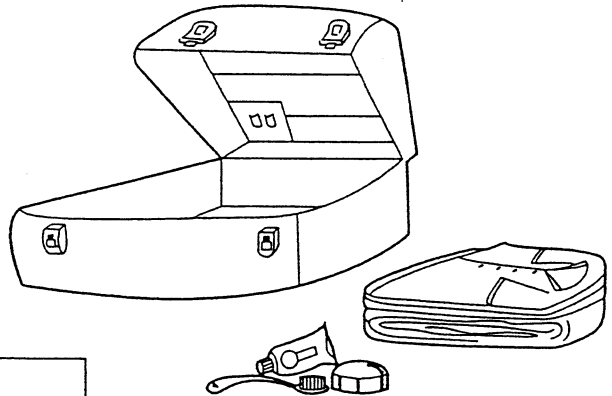
ข




ข



ค



ค




ง

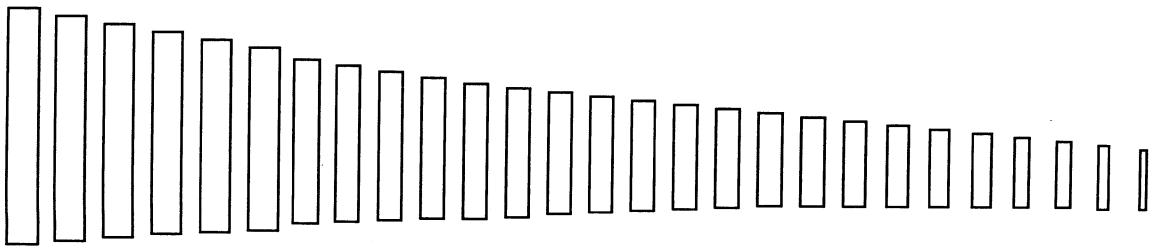


ง

17. ภาพใดเป็นฤดูร้อน



ดูภาพแล้วตอบคำถาม ข้อ 18 - 19




18. ทางด้านซ้ายมือของนักเรียนเป็นอย่างไร

1	2	3
อยู่ในระยะไกล	อยู่ในระยะใกล้	เสาไฟฟ้าต้นเล็กเกินไป

19. ทางด้านขวามือของนักเรียนเป็นอย่างไร

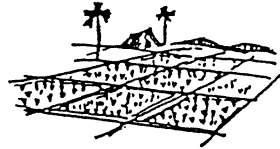

1	2	3
อยู่ในระยะใกล้	อยู่ในระยะไกล	เสาไฟฟ้าต้นเล็กเกินไป

20. ข้อใดเป็นพยัญชนะต้นของรูปภาพต่อไปนี้



1	2	3
ผ ป ก	ป ก ผ	ก ผ ป

21. ภาพใดเป็นพยัญชนะต้นของรูปภาพต่อไปนี้




1	2	3
หม น ง	ง หม น	น หม ง

ฟังเรื่องต่อไปนี้ แล้วตอบคำถาม ข้อ 22 - 24


เรื่องวัวจอมเกียจคร้าน

ชาวนาเลี้ยงวัวเอาไวไถนา เมื่อกินหญ้าอิ่มแล้ว วัวจะนอนหลับได้ต้นไม้
ไม่ยอมไถนา ชาวนาเจ้าของวัวจึงบ่นออกมาดั่งๆ ว่า "จะขายวัว แล้วนำเงินไปซื้อ
รถไถนาจะดีกว่า" วัวได้ยินเช่นนั้น จึงรีบขยันไถนา


22. ชาวนาเลี้ยงอะไรไว้ไถนา



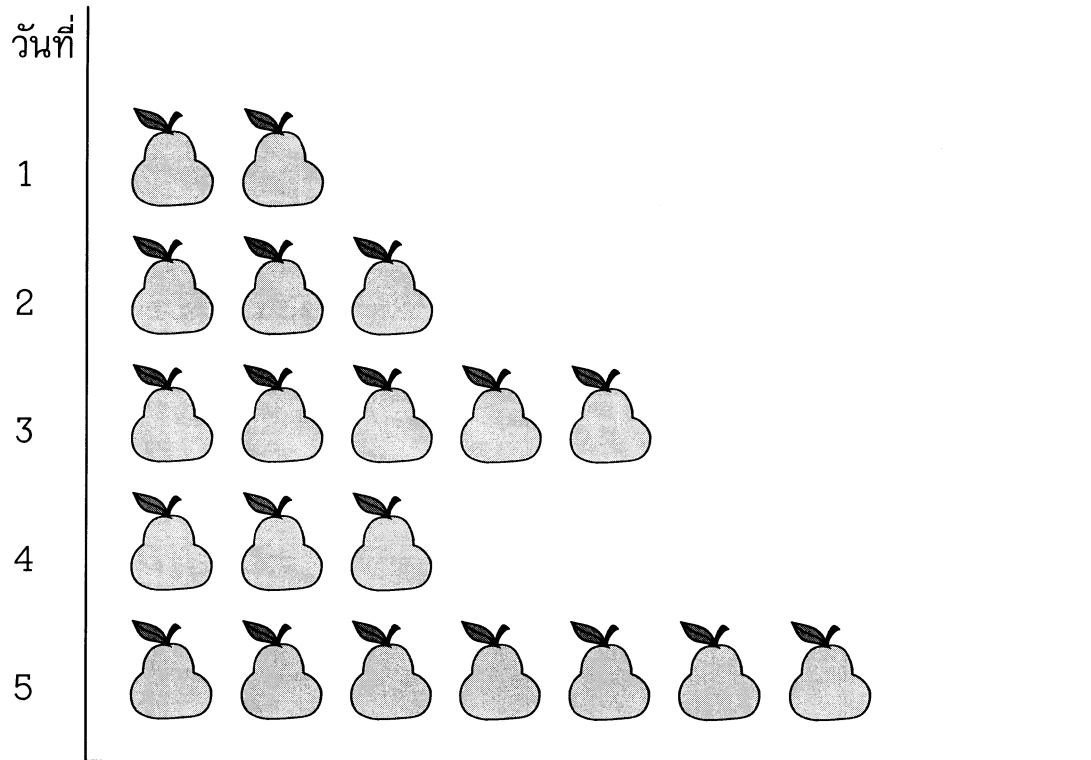
23. ชาวนาจะซื้ออะไรมาแทนวัว




24. วัวชอบนอนหลับที่ไหน



ดูตารางต่อไปนี้ แล้วตอบคำถามให้ถูกต้อง



 = ส้มโอ 2 ผล

25. ตารางกราฟนี้น่าจะเป็นเรื่องใด

1 การปลูกส้มโอ	2 การขายส้มโอ	3 การกินส้มโอของฉัน
-------------------	------------------	------------------------

26. วันใดขายส้มโอได้มากที่สุด

1 วันที่ 1	2 วันที่ 3	3 วันที่ 5
---------------	---------------	---------------

27. วันใดขายได้น้อยที่สุด

1 วันที่ 1	2 วันที่ 2 กับ 4	3 วันที่ 5
---------------	---------------------	---------------

28. วันใดขายได้เท่ากัน

1 วันที่ 1 กับ 5	2 วันที่ 3 กับ 4	3 วันที่ 2 กับ 4
---------------------	---------------------	---------------------

29. วันที่ 5 ขายส้มโอได้มากกว่า วันที่ 1 อยู่กี่ผล

1 5 ผล	2 10 ผล	3 15 ผล
-----------	------------	------------

30. วันที่ 1 กับ วันที่ 2 ขายส้มโอได้แตกต่างไปจากวันที่ 4 อยู่กี่ผล

1 2 ผล	2 3 ผล	3 4 ผล
-----------	-----------	-----------