



ข้อสอบ ครั้งที่ 12

## ฟังเรื่องแล้วตอบคำถามให้ถูกต้อง

ครอบครัวของก้อยชอบออกกำลังกาย ทุกวันในตอนเช้า พ่อจะพาแม่ และลูกๆ ไปวิ่งที่รอบๆ สระน้ำในหมู่บ้าน กลับจากวิ่งก็รีบอาบน้ำ แต่งตัว กินข้าว และไปโรงเรียน ตอนเย็นกลับมาตาและยายจะออกไปเดินเล่นที่สวนหย่อมของหมู่บ้าน พี่แดงก็พาก้อยไปปั่นจักรยานเล่น การออกกำลังกายทำให้คนในครอบครัวของก้อยแข็งแรงและมีสุขภาพจิตดี

1. ครอบครัวของก้อยน่าจะมีสมาชิกกี่คน

1	2	3
4 คน	5 คน	6 คน

2. เด็กๆ ออกไปปั่นจักรยานในเวลาใด

1	2	3
เช้า	กลางวัน	เย็น

3. คำว่า "สุขภาพจิตดี" ในที่นี้น่าจะหมายถึงข้อใด

1	2	3
รำเริงแจ่มใส	เศร้าหมอง	เป็นโรคง่าย

ตอบคำถามต่อไปนี้ให้ถูกต้อง
----------------------------

4. ข้อใดเป็นการแสดงออกของวัฒนธรรมไทย

1 การส่งจูบ	2 การบ้ายบาย	3 การสวัสดี
----------------	-----------------	----------------

5. คำในข้อใดมีตัวสะกดในแม่ กน

1 นับ	2 เชิญ	3 หญิง
----------	-----------	-----------

6. คำในข้อใดไม่มีตัวสะกด

1 เสีย	2 สาย	3 สวย
-----------	----------	----------

7. คำในข้อใดมีวรรณยุกต์ เอก

1 แจ้ว	2 จ๋า	3 น้ำ
-----------	----------	----------

8. คำในข้อใดใช้สระเสียงสั้น

1 เขื่อนปูน	2 มีเงิน	3 เตาไป
----------------	-------------	------------

9. คำในข้อใดใช้เสียงยาว

1 ลำไย	2 ชาหมู	3 ทะหลิว
-----------	------------	-------------

10. ถ้าชายคู่กับหญิง แล้วชื่อนจะคู่กับอะไร

1 ตะเกียบ	2 ล้อม	3 หลอด
--------------	-----------	-----------

เขียนประโยคประกอบรูปภาพต่อไปนี้ให้ถูกต้อง

11.



12.



13.




14.



---

---

15.



---

---

16.



---

---


17.




18.



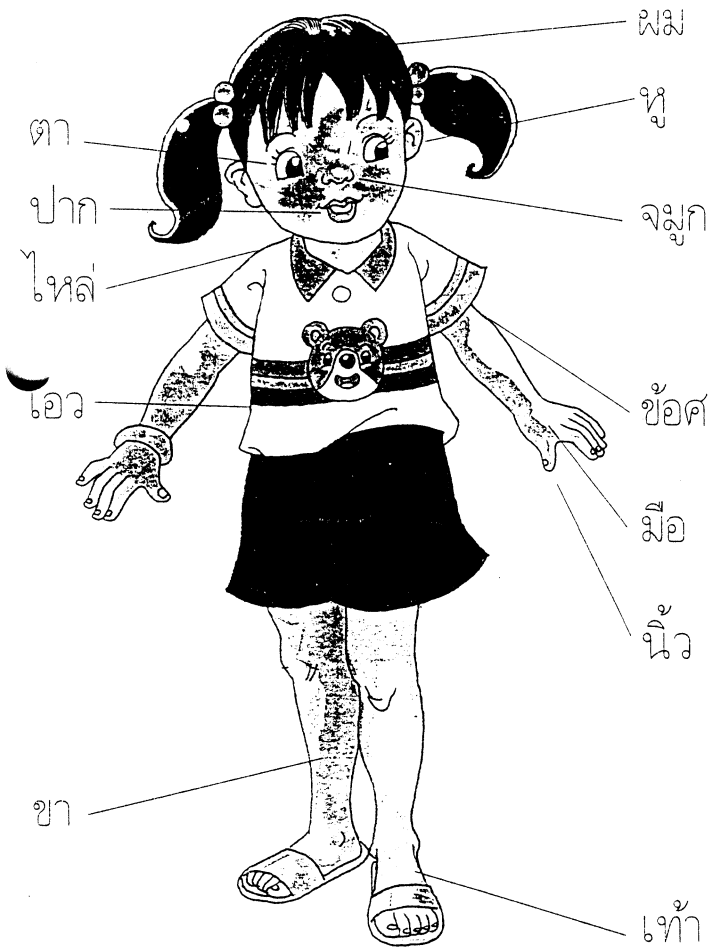
19.



20.



**ดูรูปส่วนประกอบของร่างกายที่เป็นคู่  
แล้วเขียนลงในช่องว่างให้ถูกต้อง**



**21.**

---



---

**22.**

---



---

**23.**

---



---

**24.**

---



---

**25.**

---



---

**26.**

---



---

ตอบคำถามต่อไปนี้ให้ถูกต้อง
----------------------------

27. เปิด 2 ตัว มดแดง 2 ตัว รวมมีกี่ขา

1	2	3
12 ขา	16 ขา	18 ขา

28. ไข่ไก่ 1 โหล มี 12 ฟอง ถ้าแม่ทอดไข่ไป  $\frac{1}{2}$  โหล จะเหลือไข่กี่ฟอง

1	2	3
1 ฟอง	3 ฟอง	6 ฟอง

29. น้ำขวดหนึ่งบรรจุได้ 3 ลิตร ถ้าน้ำ 3 ขวด จะบรรจุได้กี่ลิตร

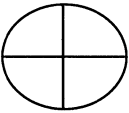
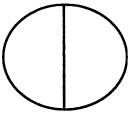
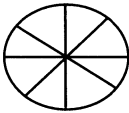
1	2	3
3 ลิตร	6 ลิตร	9 ลิตร

30. ถ้าฉันมีดอกกุหลาบ 12 ดอก มัดเป็นกำ กำละ 4 ดอก ฉันจะมัดได้กี่กำ

1	2	3
3 กำ	4 กำ	6 กำ

31. ขนมไว้พระจันทร์ชิ้นหนึ่ง จะแบ่งให้เพื่อน 8 คน คนละเท่าๆ กัน

ฉันต้องตัดขนมอย่างไร

1	2	3
		

32. สินค้าในข้อใดที่มีการซื้อขายด้วยการวัดการวัดความยาว

1	2	3
ทองคำ	ข้าวเหนียว	สายยาง

33. นิดใช้สมุดไป 13 เล่ม ยังเหลืออีก 18 เล่ม เดิมนิดมีสมุดกี่เล่ม

1	2	3
5 เล่ม	31 เล่ม	13 เล่ม

34. ป้าจิวนับไข่ในลังทีละ 4 ฟอง นับไป 5 ครั้ง จะได้ไข่กี่ฟอง

1 9 ฟอง	2 19 ฟอง	3 20 ฟอง
------------	-------------	-------------

35. [ 36 30 24 18 12 ] เลขชุดนี้มีการนับอย่างไร

1 นับเพิ่มทีละ 6	2 นับลดทีละ 6	3 นับลดทีละ 5
---------------------	------------------	------------------




36. ลูกมีอายุ 16 ปี พ่อมีอายุเป็น 2 เท่าของลูก พ่อมีอายุเท่าไร

1 30 ปี	2 31 ปี	3 32 ปี
------------	------------	------------




37. ครึ่งหนึ่งของ 52 คือเท่าไร

1 26	2 25	3 27
---------	---------	---------




ดูรูปภาพที่กำหนดให้ แล้วตอบคำถาม ข้อ 38 - 42


 จูเท่ากับ   
 จูเท่ากับ 




38. ความจุของ  เท่ากับข้อใด

<p>1</p> 	<p>2</p> 	<p>3</p> 
---	--	---

39. ความจุของ  เท่ากับข้อใด

<p>1</p> 	<p>2</p> 	<p>3</p> 
--	--	--

40. ความจุของ  เท่ากับข้อใด

<p>1</p> 	<p>2</p> 	<p>3</p> 
--	--	--

41. ความจุของ



กับ



รวมกันเท่ากับจำนวน



ข้อใด

1	2	3
14	15	16

41. ความจุของ



เท่ากับข้อใด

1 	2 	3 
-------	-------	-------

ดูภาพแล้วตอบคำถาม



น้ำเปล่า



น้ำร้อน



น้ำแข็ง

43. น้ำในแก้วใด อยู่ในอุณหภูมิห้องปกติ

1 น้ำเปล่า	2 น้ำร้อน	3 น้ำแข็ง
---------------	--------------	--------------

44. ทำอย่างไรจึงทำให้น้ำร้อนเดือด

1 นำไปตากแดด	2 นำไปวางไว้ใกล้เตา	3 นำไปต้ม
-----------------	------------------------	--------------

45. น้ำในแก้วใดมีอุณหภูมิต่ำ

1 น้ำเปล่า	2 น้ำร้อน	3 น้ำแข็ง
---------------	--------------	--------------

46. น้ำในแก้วใดมีไอน้ำมาเกาะ

1 น้ำเปล่า	2 น้ำร้อน	3 น้ำแข็ง
---------------	--------------	--------------

47. น้ำในแก้วใดมีอุณหภูมิต่ำ

1 น้ำเปล่า	2 น้ำร้อน	3 น้ำแข็ง
---------------	--------------	--------------

48. ถ้าวางแก้วที่มีน้ำแข็งเอาไว้ 1 วัน น้ำในแก้วนั้นจะเป็นกลายเป็นอะไร

1 น้ำเปล่า	2 น้ำร้อน	3 น้ำแข็ง
---------------	--------------	--------------

49. ถ้านำแก้วน้ำเปล่าไปแช่ในช่องฟรีซของตู้เย็น จะเกิดอะไรขึ้น

1 น้ำกลายเป็นน้ำร้อน	2 น้ำกลายเป็นน้ำแข็ง	3 ยังคงเหมือนเดิม
-------------------------	-------------------------	----------------------

50. ถ้าวางแก้วน้ำเปล่าทิ้งไว้ 7 วัน จะเกิดอะไรขึ้น

1 น้ำระเหยทั้งหมด	2 น้ำกลายเป็นน้ำร้อน	3 น้ำกลายเป็นน้ำแข็ง
----------------------	-------------------------	-------------------------

