



แนวข้อสอบเข้า ป. 1 สาธิตเกษตร

[ชุดที่ 1 (12 ชุด) + ชุดที่ 2 (10 ชุด)]



ข้อสอบ ครั้งที่ 1 ชุดที่ 1

## ฟังเรื่องแล้วตอบคำถามให้ถูกต้อง

ตุ้มเลี้ยง หมา แมว กระจ่าง เขาให้แมวหมากินอาหารเม็ด ให้กระจ่างกินหญ้าชน  
ต่อมากกระจ่างออกลูกมาอีก 2 ตัว

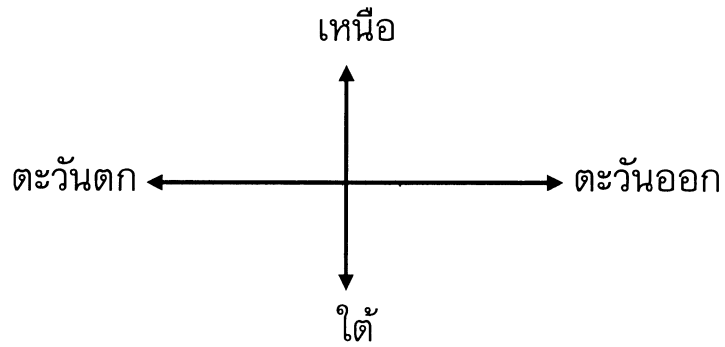
1. ในเรื่องนี้มีสัตว์ชนิดใดมากที่สุด

1 หมา	2 แมว	3 กระจ่าง
----------	----------	--------------

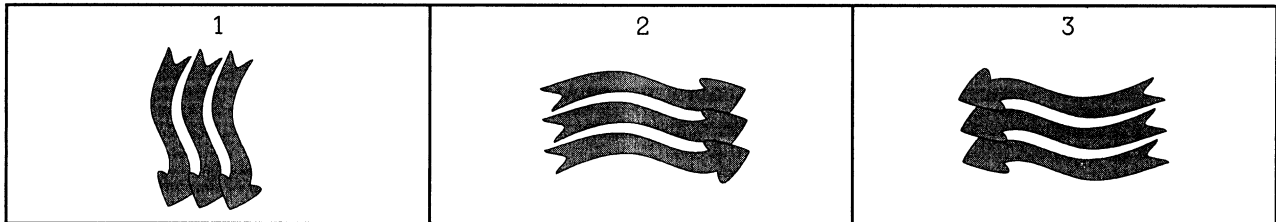
2. ข้อใด ไม่ใช่ อาหารของสัตว์ในเรื่องนี้

1 อาหารเม็ด	2 ปลา	3 หญ้าชน
----------------	----------	-------------

## ดูรูปทิศ แล้วตอบคำถามให้ถูกต้อง




3. ถ้าลมพัดจากตะวันออกไปตะวันตก ควรเป็นรูปใด



4. เช้า ๆ ถ้าเปิดหน้าต่างแล้วมองเห็นดวงอาทิตย์ ด้านหลังจะเป็นทิศใด

1	2	3
ทิศเหนือ	ทิศตะวันตก	ทิศตะวันออก

## ดูแผนภูมิการเก็บแอปเปิ้ล แล้วตอบคำถามให้ถูกต้อง



5. วันใดเก็บแอปเปิ้ลได้มากที่สุด

1 วันที่ 1	2 วันที่ 2	3 วันที่ 3
---------------	---------------	---------------

6. วันที่ 3 เก็บแอปเปิ้ลได้มากกว่าวันที่ 2 อยู่เท่าใด

1 2 ผล	2 4 ผล	3 6 ผล
-----------	-----------	-----------


7. วันที่ 2 เก็บแอปเปิ้ลได้น้อยกว่าวันที่ 1 อยู่เท่าใด

1 3 ผล	2 2 ผล	3 1 ผล
-----------	-----------	-----------

## ฟังเรื่องแล้วตอบคำถามให้ถูกต้อง

จุก โกะะ แกละ ได้รับขนมจากพี่อ้อย ดังนี้

จุกได้ขนมถ้วยฟู	10	ชิ้น
โกะได้ขนมตาล	7	ชิ้น
แกละได้ขนมข้าวต้มมัด	6	ชิ้น



เด็กทั้งสามคนพากันขอบคุณพี่อ้อย แล้วไปกินขนมด้วยกันที่ใต้ต้นพิกุล

8. แกละได้ขนมต่างไปจากจุกเท่าไร

1 6 ชิ้น	2 16 ชิ้น	3 4 ชิ้น
-------------	--------------	-------------

9. ใครได้ขนมมากกว่าโกะอยู่ 3 ชิ้น

1 พี่อ้อย	2 จุก	3 แกละ
--------------	----------	-----------

10. ถ้าจะให้แกละมีขนมเท่ากับโกะ ควรเพิ่มขนมเท่าไร

1 1 ชิ้น	2 2 ชิ้น	3 3 ชิ้น
-------------	-------------	-------------

11. ข้อใดกล่าวถูกต้อง

1 จุกมีขนมมากกว่า ของโกะกับแกละรวมกัน	2 ถ้าเพิ่มขนมให้จุก 3 ชิ้น จะเท่ากับของโกะกับแกละ รวมกัน	3 เด็กทั้ง 3 คนได้ขนมรวมกัน เป็น 22 ชิ้น
---	---	--

## ตอบคำถามต่อไปนี้ให้ถูกต้อง

12. บทกลอนนี้หมายถึงข้อใด

ฉันเป็นดอกไม้                      ใช้ในวันพ่อ  
สีเหลืองไฉน                      ไม่เท่าตัวฉัน

1	2	3
ดอกมะลิ	ดอกดาวเรือง	ดอกพุทธรักษา

13. ประเทศไทยมีศาสนาใดเป็นศาสนาประจำชาติ

1	2	3
ศาสนาพุทธ	ศาสนาคริสต์	ศาสนาอิสลาม

14. บทกลอนนี้หมายถึงข้อใด

ฉันเป็นสถานที่                      คสี่คล้ายคดี  
ทุกซ์ร้อนเร็ววี                      พากันแจ้งความ

1	2	3
โรงพยาบาล	สถานีตำรวจ	โรงเรียน

## ฟังเรื่องแล้วตอบคำถามให้ถูกต้อง

พ่อของฉันเป็นพ่อค้า มีอาชีพค้าขาย บางวันขายดี แต่บางวันก็ขายไม่ดี ยิ่งถ้าฝนตกวันใด วันนั้นอาจจะขายไม่ได้ แต่พ่อก็ไม่ย่อท้อ พ่อนึกถึงในหลวง พ่อเก็บรูปในหลวงไว้ในกระเป๋าเล็กๆ เพื่อนึกถึงคำว่า "เศรษฐกิจพอเพียง" เป็นหลัก

15. คำว่า "เศรษฐกิจพอเพียง" หมายถึงข้อใด

1 พออยู่พอกิน	2 ร่ำรวยหรูหรา	3 กู้หนี้ยืมสิน
------------------	-------------------	--------------------

16. คำว่าไม่ย่อท้อ หมายถึงข้อใด

1 อดทน	2 มีความสุข	3 กล้าหาญ
-----------	----------------	--------------

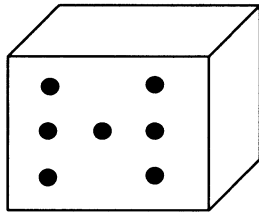
17. อะไรเป็นสาเหตุให้พ่อขายของไม่ได้

1 แดดร้อน	2 ฝนตก	3 ลมพายุ
--------------	-----------	-------------

18. บุคคลในข้อใดปฏิบัติตามหลักเศรษฐกิจพอเพียง

1 ครอบครัวของนก ใช้จ่ายอย่างประหยัด	2 ครอบครัวของนิต นัดกินเลี้ยงกันเสมอ	3 ครอบครัวของหน้อย ชอบไปเที่ยวต่างประเทศ
---	--	--

## ดูรูปภาพ แล้วตอบคำถามให้ถูกต้อง



ตัวอย่าง ลูกเต๋ามีด้านตรงกันข้าม รวมกันแล้วมี 7 แห่ง

19. ถ้าลูกเต๋ามีจุด 4 จุดด้านหน้า ด้านหลังจะมีกี่จุด

1	2	3
2 จุด	3 จุด	4 จุด


20. จากข้อ 19. รวมลูกเต๋าทังด้านหน้าและด้านหลังเป็นกี่จุด

1	2	3
6 จุด	8 จุด	12 จุด

21. ถ้าแก้วน้ำเต็มปริ่ม มีลูกเต๋ายู่ 7 ลูก เมื่อเอาลูกเต๋้ออก แล้วเติมน้ำลงไป ให้เต็มเหมือนเดิม จำนวนน้ำที่เติมลงไปจะเป็นอย่างไร

1	2	3
น้อยกว่าลูกเต๋า	มากกว่าลูกเต๋า	เท่ากับลูกเต๋า

## รูปภาพ แล้วตอบคำถามให้ถูกต้อง



22. ข้อใดเป็นพัฒนาการของแมลงในลำดับขั้นที่ 2

1	2	3
ดักแด้	ไข่	หนอน

23. ข้อใดคือตัวเต็มวัย

1	2	3
หนอน	แมลง	ดักแด้

24. ถ้าแมลงนี้เป็นหนอนไหม หนอนไหมจะกินอะไร

1	2	3
ใบผักบุ้ง	ใบกุหลาบ	ใบหม่อน

25. เราได้เส้นไหมมาจากข้อใด

1	2	3
ไข่	ดักแด้	ผีเสื้อ

26. ประเทศไทยนิยมเลี้ยงไหมกันมากที่สุดที่ใด

1	2	3
ภาคตะวันออกเฉียงเหนือ	ภาคใต้	ภาคกลาง