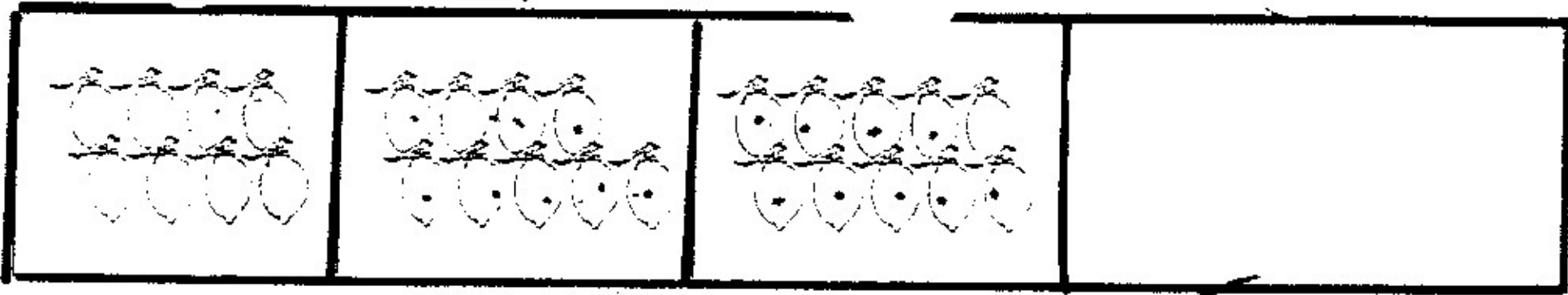
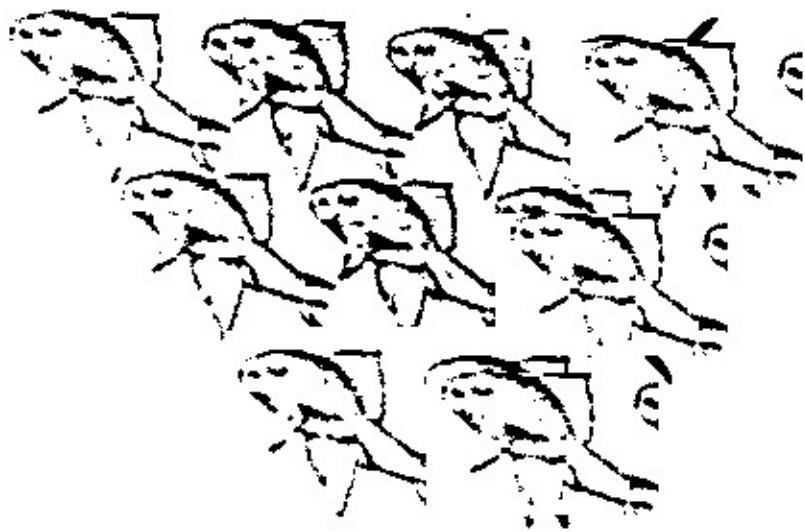



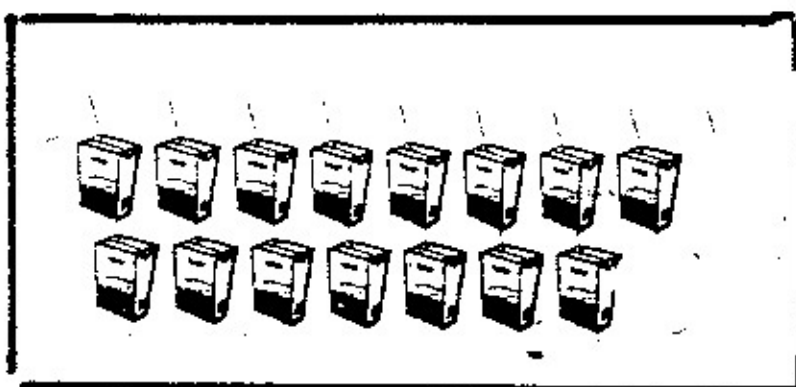
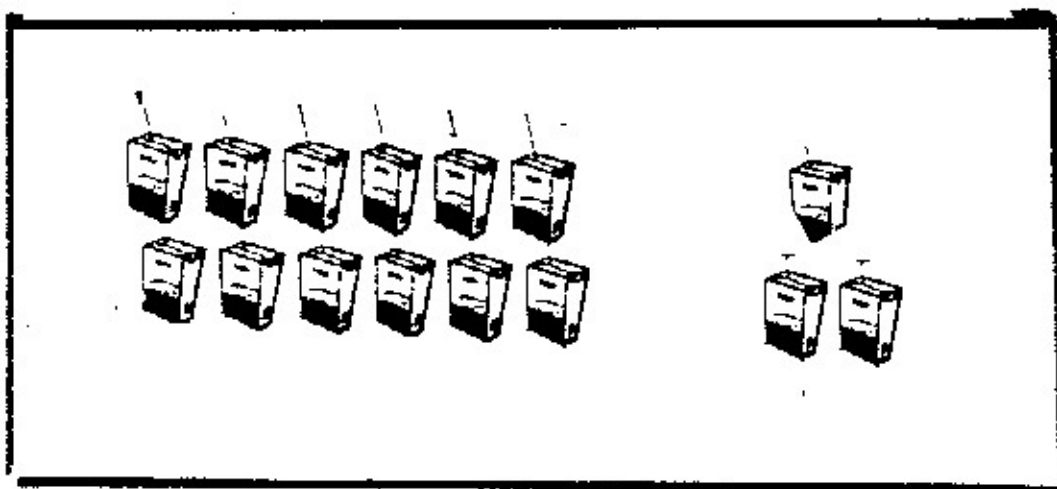
ในช่องที่ 4 ควรมีภาพมะพร้าวจำนวนเท่าไร ถึงจะเรียงจำนวน
ต่อเนื่องกับภาพมะพร้าวในช่องอื่นๆ ได้



ในบ่อมีปลา 9 ตัว ผนตกมาปลาว่ายเข้าหนีไป 3 ตัว
ในบ่อเหลือปลากี่ตัว

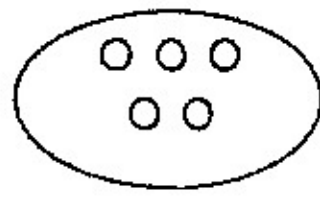
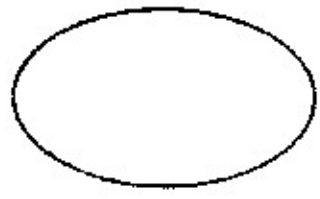


พีมีนม 12 กล่อง เพื่อนให้มาอีก 3 กล่อง พีมีนมรวมกันกี่กล่อง



1. เติมตัวเลข

ตัวอย่าง



$$0 + 5 = 5$$

1

$$3 + \underline{\quad} = 7$$

2

$$\underline{\quad} + 4 = 8$$

3

$$7 + \underline{\quad} = 8$$

4

$$5 + \underline{\quad} = 10$$

5

$$\underline{\quad} + 3 = 5$$

6

$$2 + \underline{\quad} = 4$$

7

$$\underline{\quad} + 4 = 5$$

8

$$\underline{\quad} + 6 = 6$$


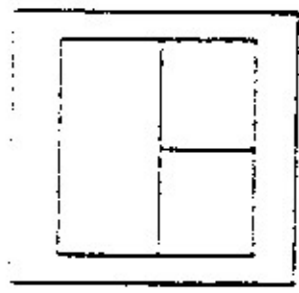
9

$$9 + 1 = \underline{\quad}$$

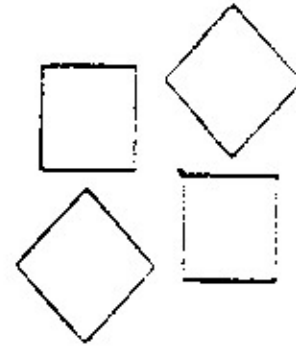
10

$$5 + \underline{\quad} = 9$$

ให้นักเรียนทำเครื่องหมาย X ทับภาพที่เกิดจาก
การแยกภาพในกรอบซ้ายมือ



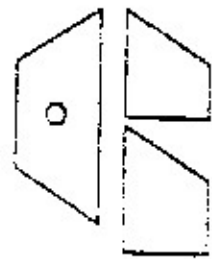
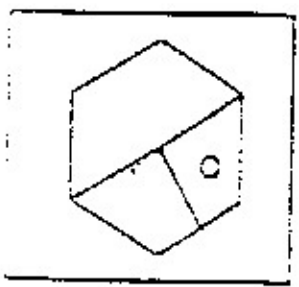
ก.



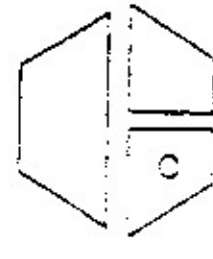
ข.



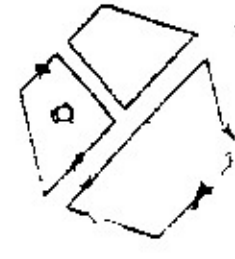
ค.



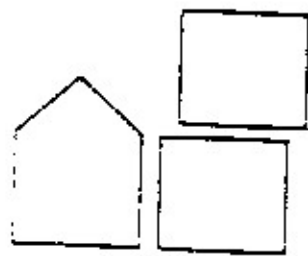
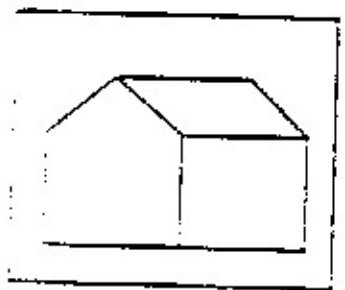
ก.



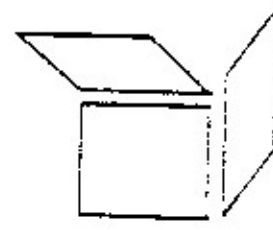
ข.



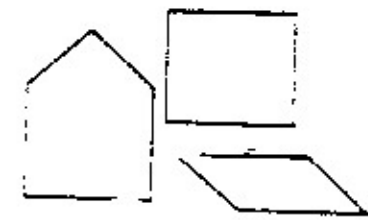
ค.



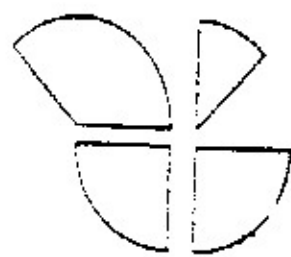
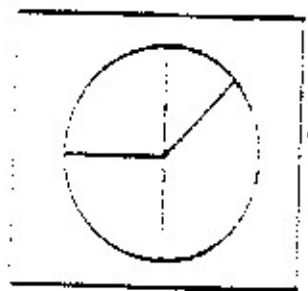
ก.



ข.



ค.



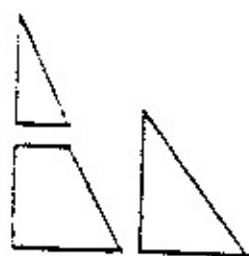
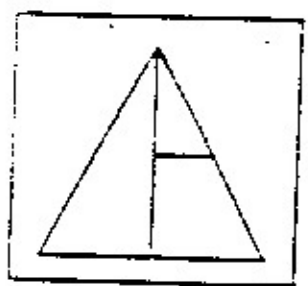
ก.



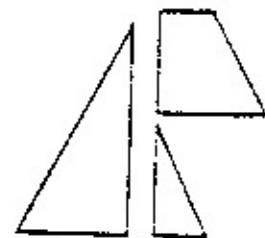
ข.



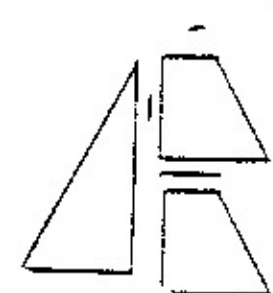
ค.



ก.




ข.




ค.

ให้ น.ร.ใส่หมายเลข 1 - 4 ลงใน □ ที่มีขนาดเต็ยสุด


ไปหาสูงสุด และสั้นสุดไปหายาวที่สุด



--	--	--	--



--	--	--	--

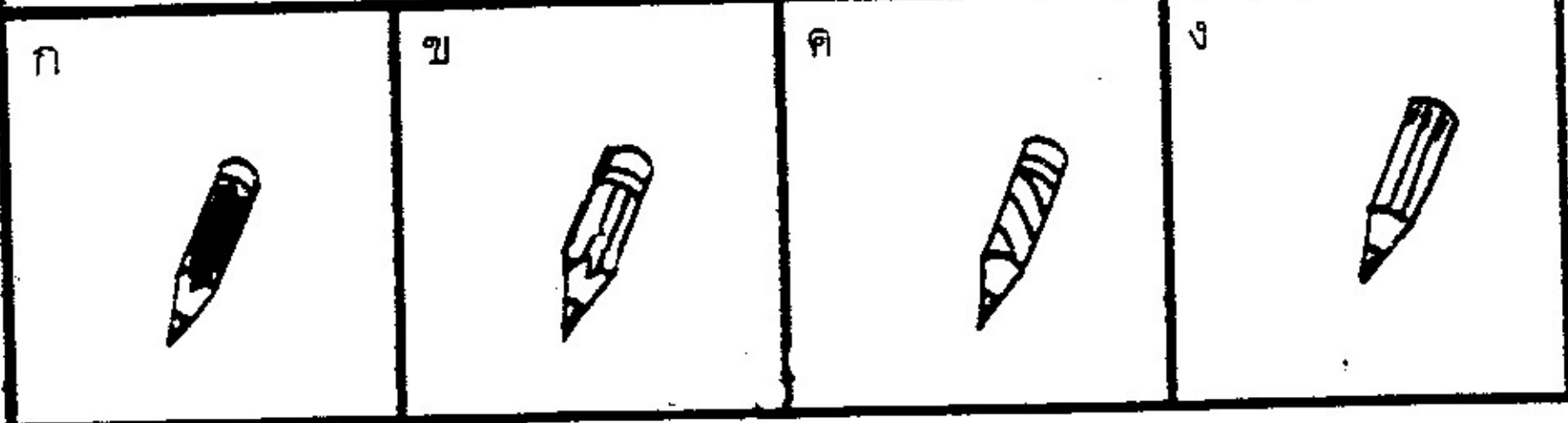



--	--	--	--

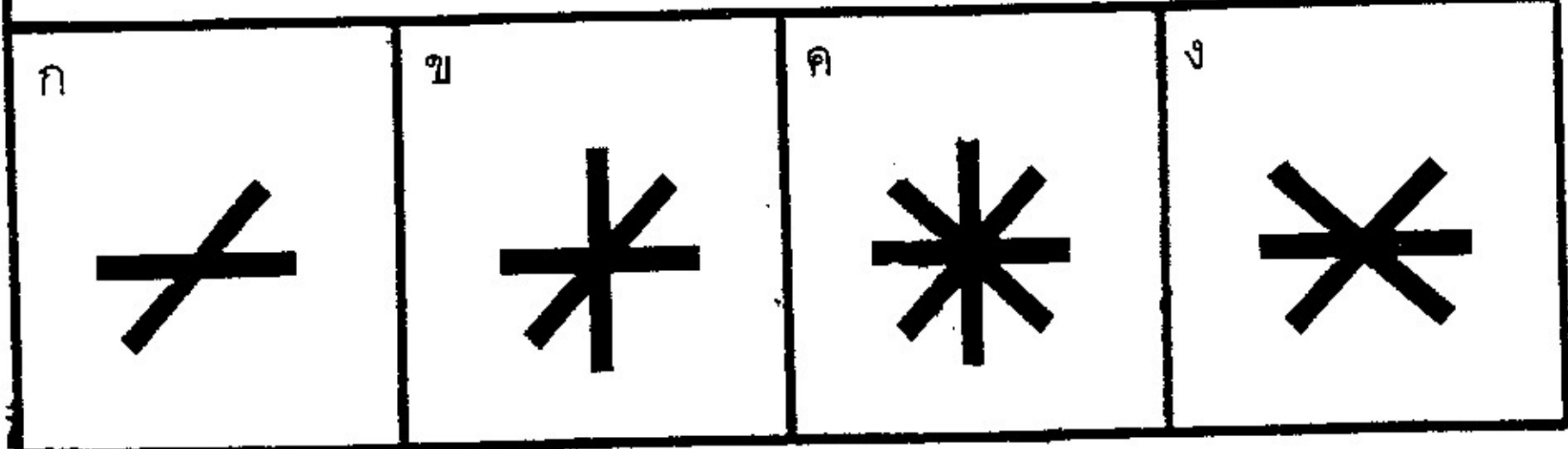
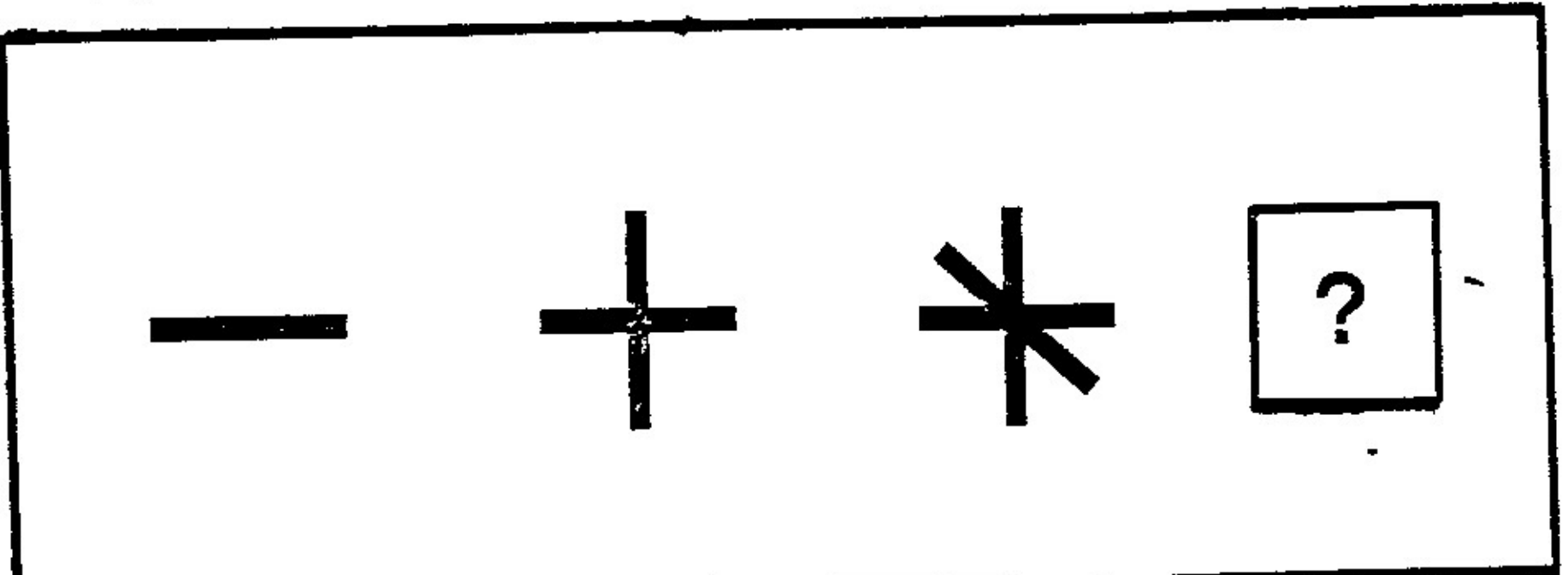


--	--	--

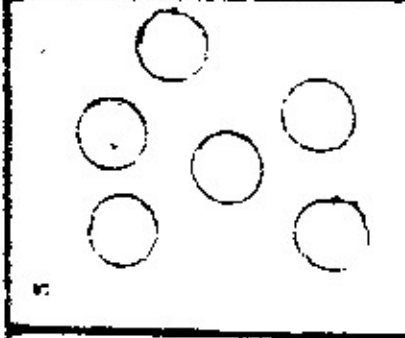
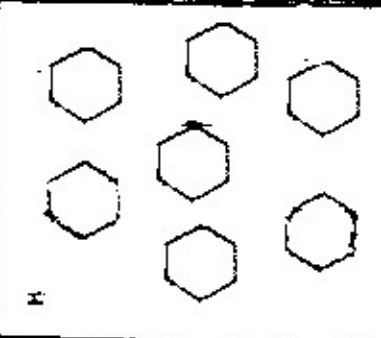
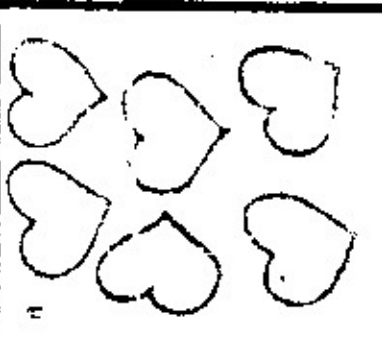
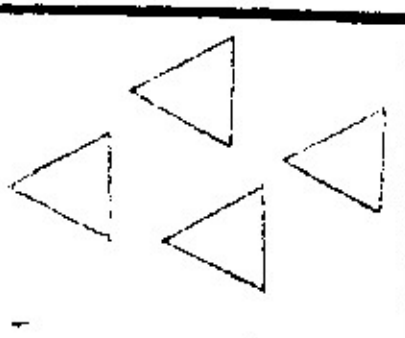

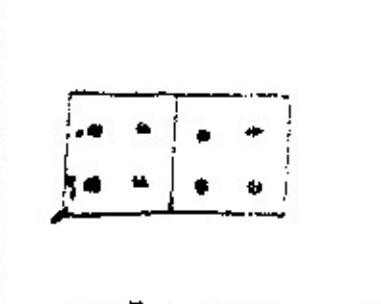

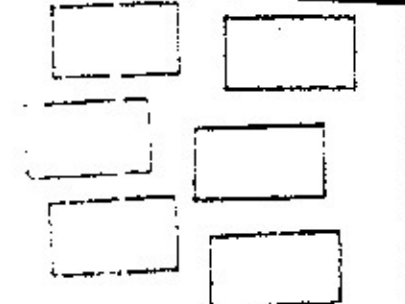

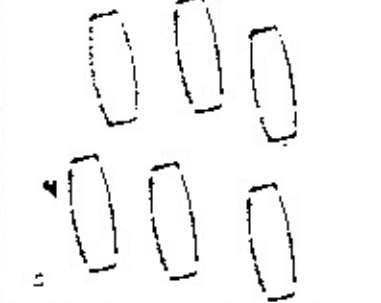
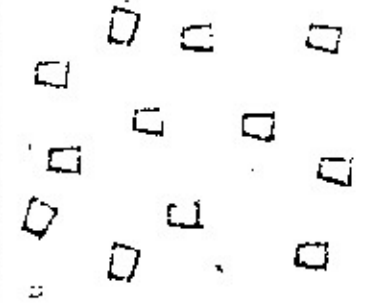
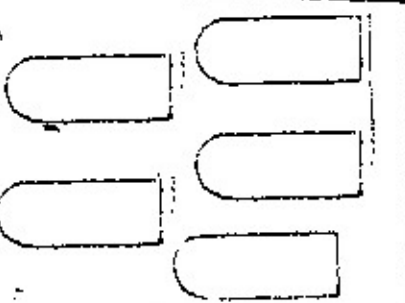


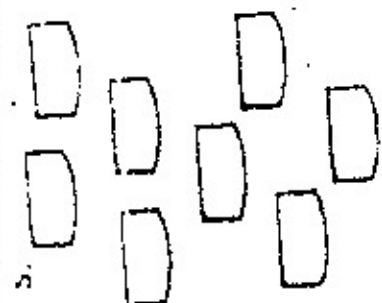



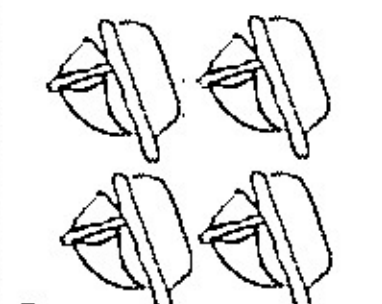

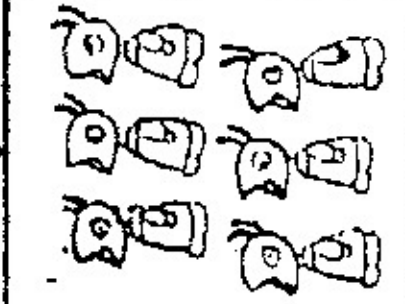


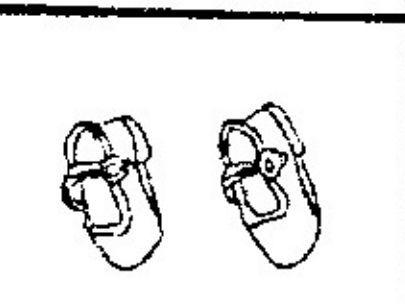

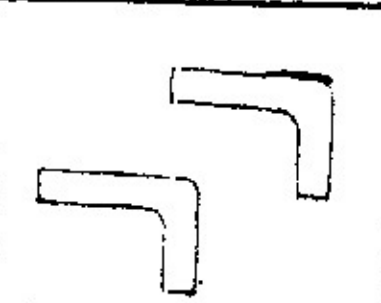


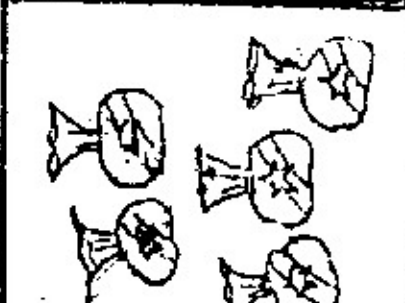
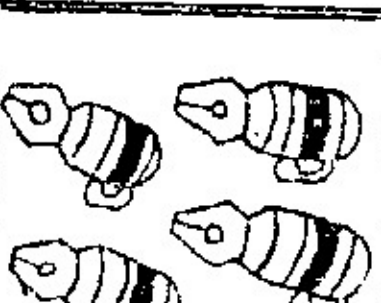


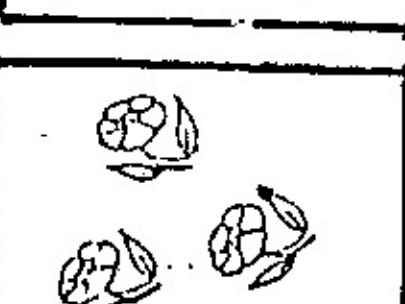



1



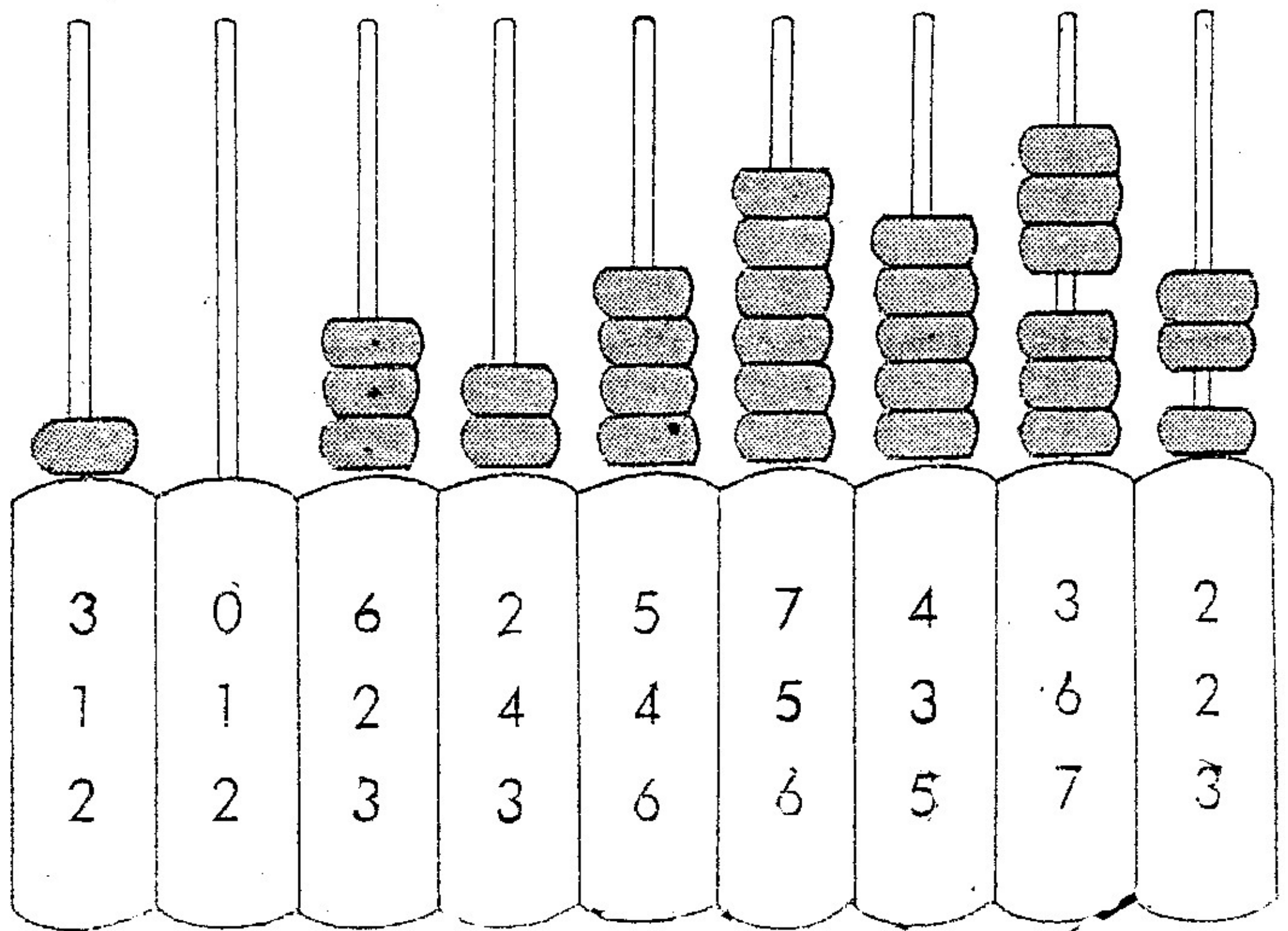
2



ให้นักเรียน x ทับภาพที่มีจำนวนเท่ากับภาพแรก

ให้ น.ร. คำตอบตามที่ภาพกำหนด



ให้นักเรียนเรียงลำดับจากน้อยไปมาก

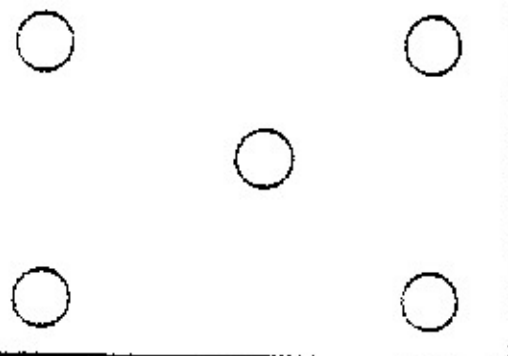
5 1 3 0 4 2

--	--	--	--	--	--

เติมจำนวนให้ถูกต้อง

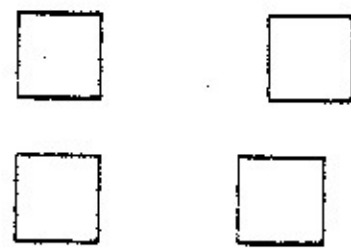
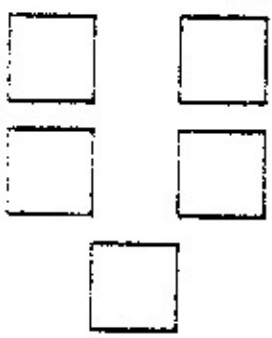
3

4



๗

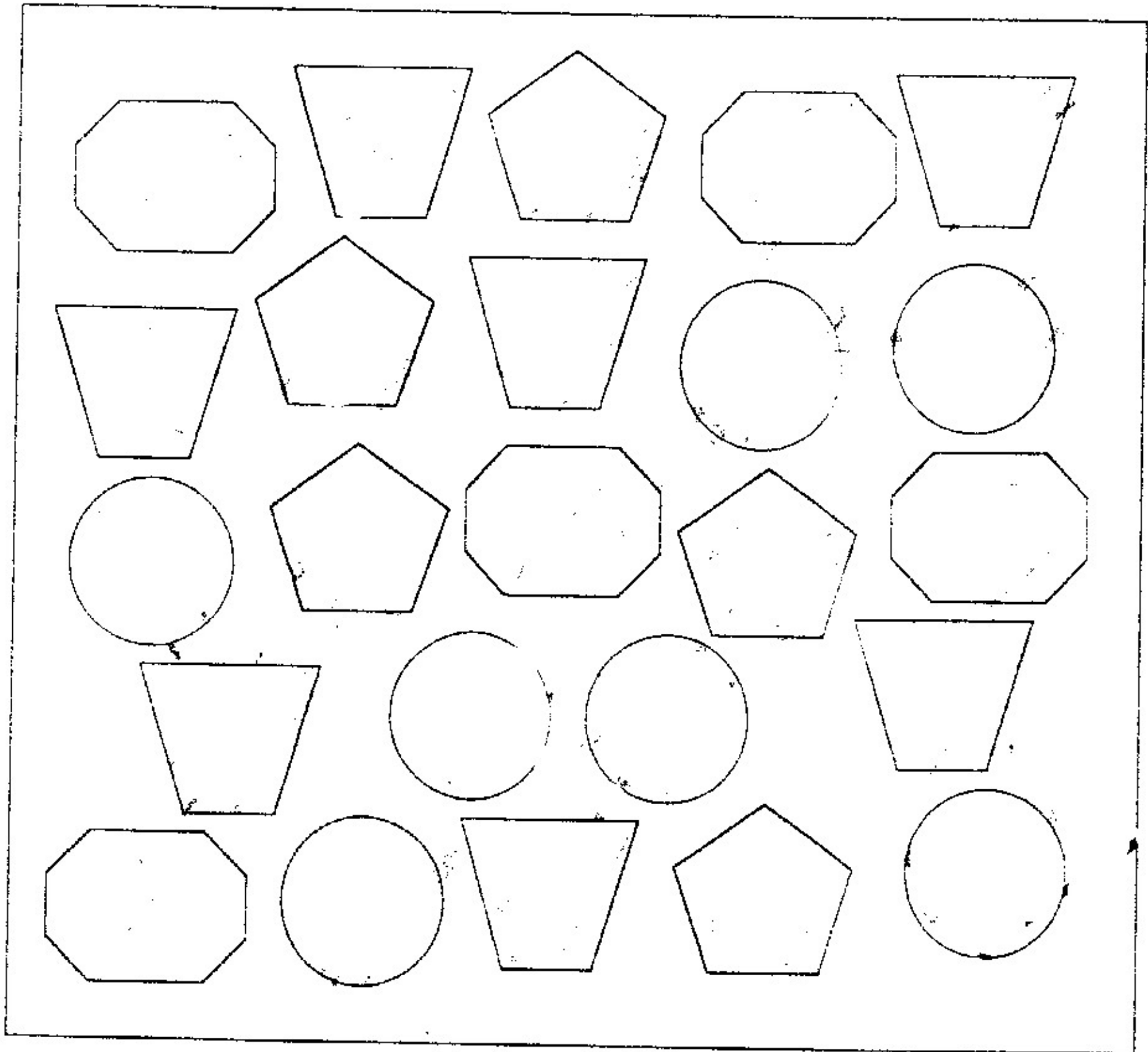
๘



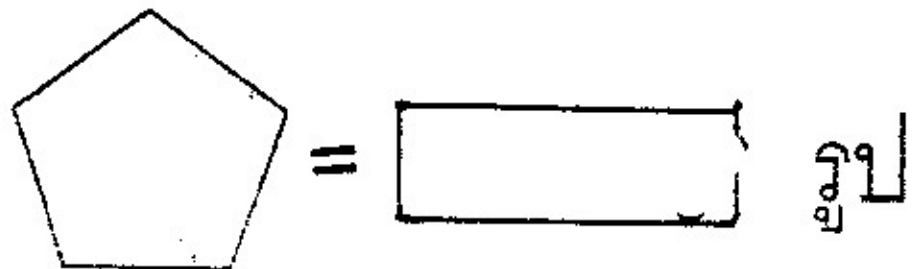
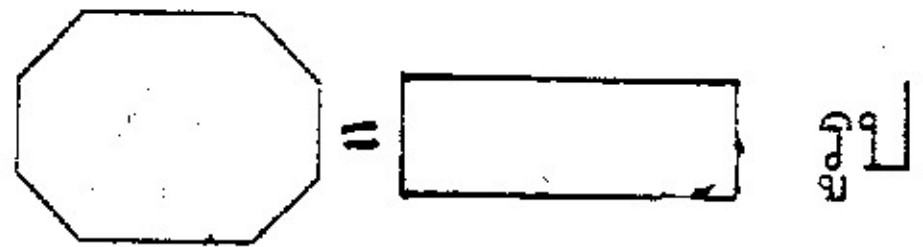
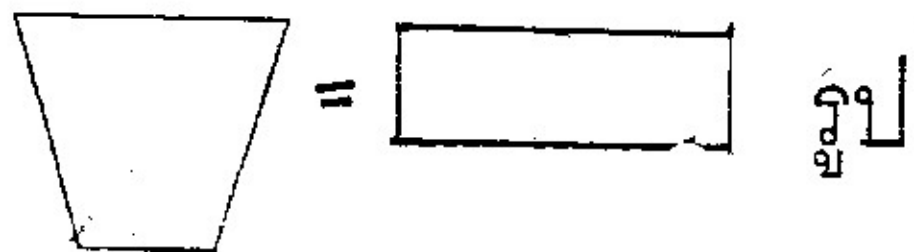
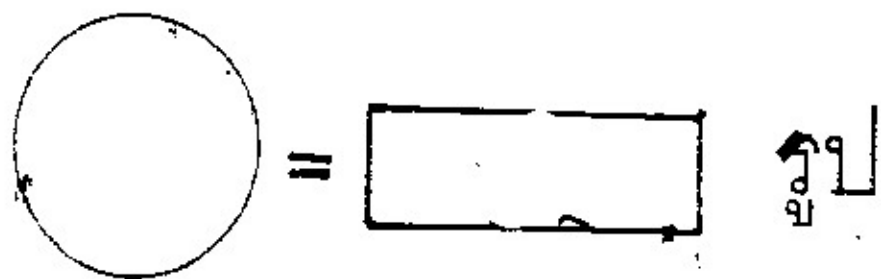
8

10

ให้ น.ร.ดูภาพแล้วเติมคำตอบ








ในภาพนี้มีรูป



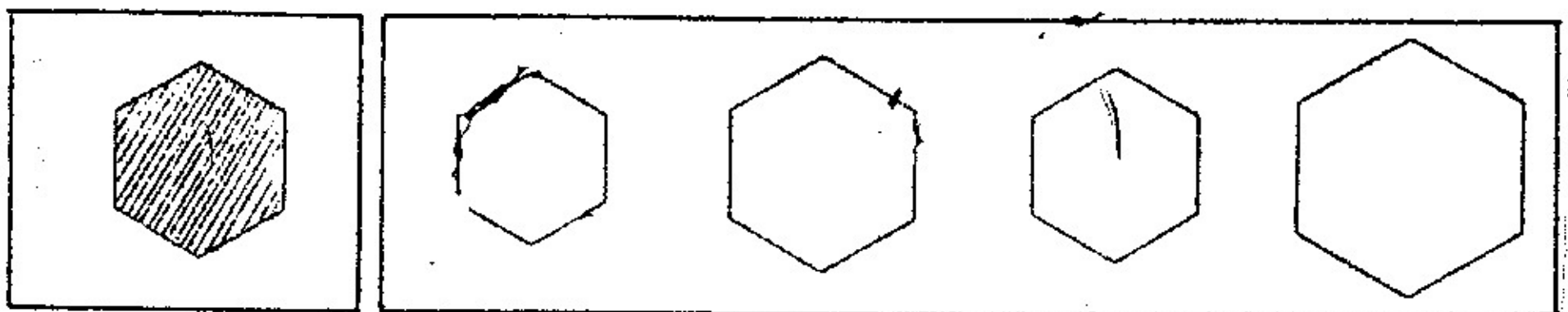
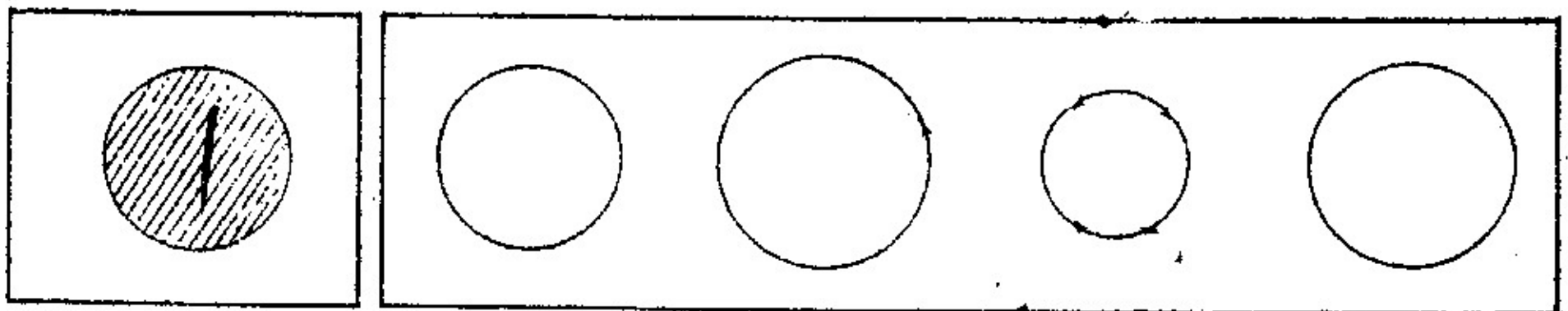
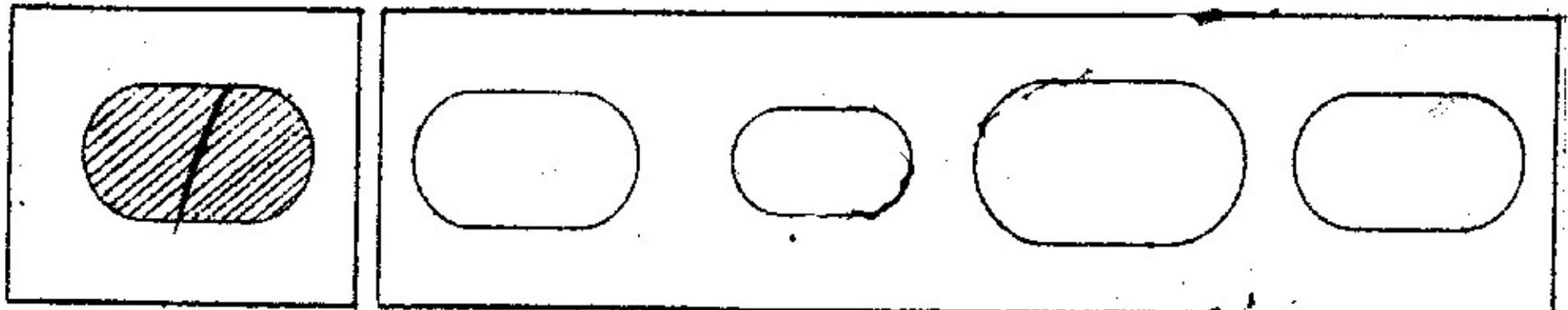
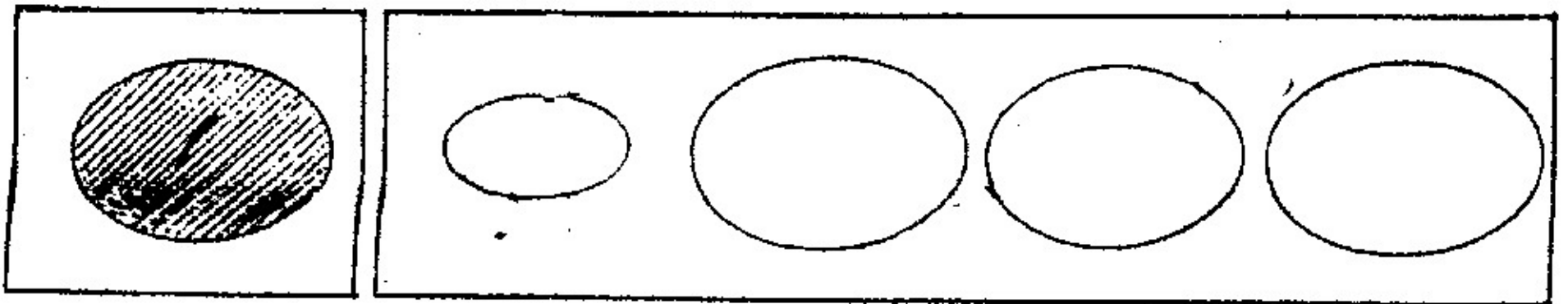
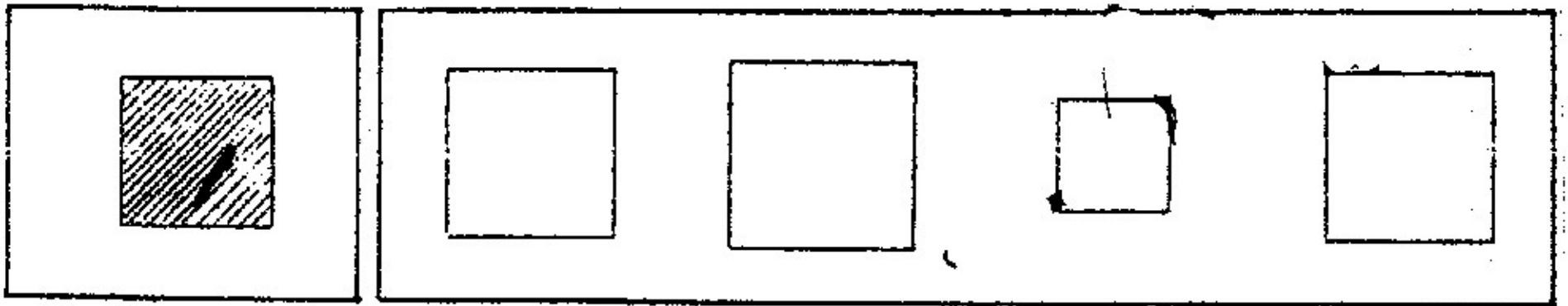
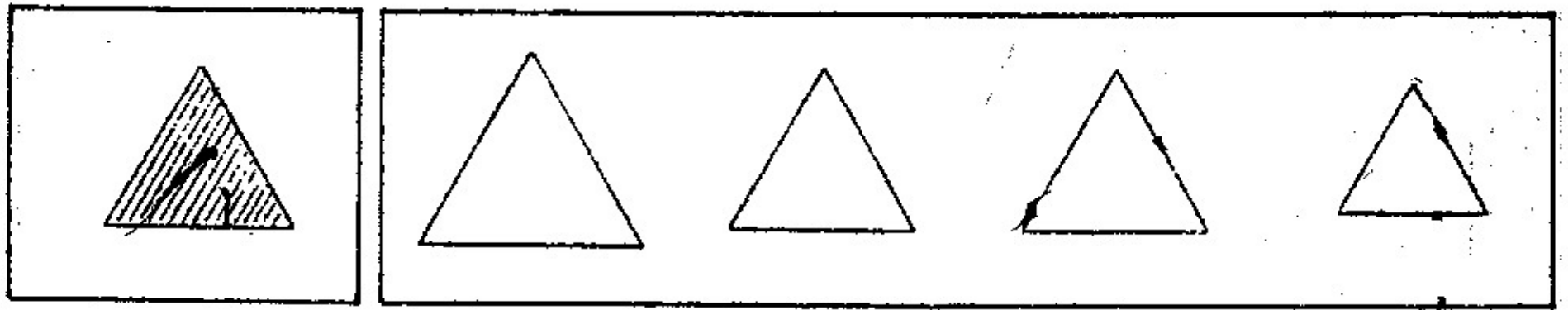
เขียนหมายเลขเรียงตามลำดับเหตุการณ์ก่อนหลัง

โดยใช้หมายเลข 1 - 6





จง X กับภาพที่เล็กกว่าภาพที่กำหนดให้



พ่อพาทองแดง ทองม้วน ทองเอก สามพี่น้องไปดู
 ช้างที่บ้านลุงแก้ว พ่อว่าไม่ต้องไปแย่งเขาดู เรามาที่หลังก็ดู
 ที่หลัง ทองแดงพูดว่าช้างตัวโต ถ้าเลี้ยงช้างต้องหาหญ้าและ
 ใบไม้ให้มันกิน ทองม้วนจะไม่เลี้ยงช้าง ถ้าช้างดูเขาก็แย้
 ทองเอกพูดว่า ถ้าเลี้ยงช้างก็จะเล่นกับมันพ่อว่าช้างช่วยคน
 ทำงานได้ คนต้องทำงาน คนทำงานก็จะเป็นคนดี



แม่



พ่อ



ป้าแก้ว



ลุงแก้ว



ทองคำ



ทองแดง



ทองพลู



ทองม้วน



ทองเอก

1. พ่อพาเด็กๆ ไปดูช้างที่ใด

สวนสัตว์	บ้านลุงแก้ว	ในป่า
----------	-------------	-------

2. ที่พ่อพูดว่าไม่ต้องไปแย่งเขาดู เรามาที่หลังก็ดูที่หลัง พ่อสอนเรื่องใดให้ลูก

มีความมานะ	รู้จักเสียสละ	ความมีระเบียบวินัย
------------	---------------	--------------------

3. พ่อบอกว่าคนต้องทำงาน คนที่ทำงานได้จะเป็นคนอย่างไร

คนขยัน	คนดี	คนรวย
--------	------	-------

4. ช้างเพศใดมีงาช้าง


ช้างตัวผู้	ช้างตัวเมีย	ทั้งตัวผู้และตัวเมีย
------------	-------------	----------------------

5. เราเรียกคนเลี้ยงช้างว่าอย่างไร



พ่อช้าง	ควาญช้าง	ลูกช้าง
---------	----------	---------

ฟังคำสั่งและปฏิบัติตาม


1) ขีดกากบาทภาพแมว ขีดเส้นใต้ภาพหมา วงกลมรอบไก่



2) ลากเส้นตรง จากแก้ว ผ่านหมวก ตรงไปยังถุงเท้า



3) เขียนวงกลม รอบหนังสือ ขีด X ทับดินสอ และขีด ✓ ที่หนังสือเล่มบน



1. ข้อใดเป็นประโยชน์ของการออกกำลังกาย

ทำให้ร่างกายโตเร็ว	ทำให้ร่างกายอ้วนขึ้น	ทำให้ร่างกายแข็งแรง
--------------------	----------------------	---------------------

2. เมื่อคุณลงมาเยี่ยมที่บ้านเราควรปฏิบัติอย่างไร

ยกมือไหว้	กล่าวคำสวัสดี	ถามว่ามีธุระอะไร
-----------	---------------	------------------

3. ใครมีอายุมากที่สุด

ตา	แม่	น้ำ
----	-----	-----

4. เพื่อให้บ้านร่มรื่นน่าอยู่ควรปฏิบัติอย่างไร

ตัดต้นไม้	ปลูกต้นไม้	ขุดสระรอบบ้าน
-----------	------------	---------------

5. ข้อใดเป็นมารยาทไม่พึงกระทำ

พูดเสียงดัง	เล่นเงียบๆ	เดินเบาๆ
-------------	------------	----------

ยาย : แต่งมาหายายหน่อยลูก

แดง : มาแล้วจ๊ะยาย

ยาย : วันนี้ทำไมไม่ไปโรงเรียนล่ะ

แดง : วันนี้โรงเรียนหยุดจ๊ะ

ยาย : มายายจะถักเปียให้ ผมยุ่งเชียว

แดง : หนูไปหีบหวีก่อนนะจ๊ะยาย

ยาย : อย่าลืมหาขางรัดผมมาด้วยนะ

แดง : จ๊ะวันนี้หนูจะผูกโบสีขาวด้วย

1. ใครพูดกับใคร

ยายพูดกับแดง	ยายพูดกับแดง	แดงพูดกับแดง
--------------	--------------	--------------

2. ทำไมวันนี้แดงจึงไม่ไปโรงเรียน

เพราะฝนตก	โรงเรียนหยุด	เพราะไม่สบาย
-----------	--------------	--------------

3. ยายจะทำอะไรให้แดง

หีบหวี	ป้อนข้าว	ถักเปีย
--------	----------	---------

4. โบของแดงคืออะไร

สีแดง	สีดำ	สีขาว
-------	------	-------

แมวน้ำชอบกินปลา แมวชอบกินหนู นกชอบกินหนอน

1. สัตว์อะไรชอบกินปลา

แมวน้ำ	แมว	นก
--------	-----	----

2. อาหารของนกคืออะไร

หญ้า	หนอน	ผัก
------	------	-----

ป้อมอ่านหนังสือนิทานทุกวันศุกร์ ชักผ้าวันเสาร์
และไปเรียนวาดภาพในวันอาทิตย์

1. ป้อมชอบทำอะไรในวันอาทิตย์

อ่านนิทาน	ชักผ้า	วาดภาพ
-----------	--------	--------

2. ป้อมทำงานบ้านวันใด

วันศุกร์	วันเสาร์	วันอาทิตย์
----------	----------	------------

ป้าแหวนมีร้านขายเสื้อผ้า กระโปรง กางเกง ป้าแหวน
 เลี้ยงหมาแสนรู้ชื่อ ก้ามปู ก้ามปูจะนั่งสงขา ทำท่าไหว้คนที่ซื้อ
 ของ ให้เขาหัวเราะ ป้าแหวนเป็นคนพูดจาดี พูดไพเราะ ยิ้มแย้ม
 นอบน้อมกับผู้ซื้อ ป้าแหวนจึงขายของดี ป้าแหวนสอนอาหวาน
 ให้พูดไพเราะ ยิ้มแย้มกับคนซื้อของที่เอาเงินมาให้เรา อาหวานทำ
 ตามป้าแหวนสอน จึงขายของได้มาก โดยไม่ต้องมีเจ้าก้ามปู

1. ก้ามปูเป็นชื่อของอะไร

แมว	สุนัข	ตุ๊กตา
-----	-------	--------

2. ป้าแหวนมีอาชีพอะไร

คุณครู	พยาบาล	ค้าขาย
--------	--------	--------

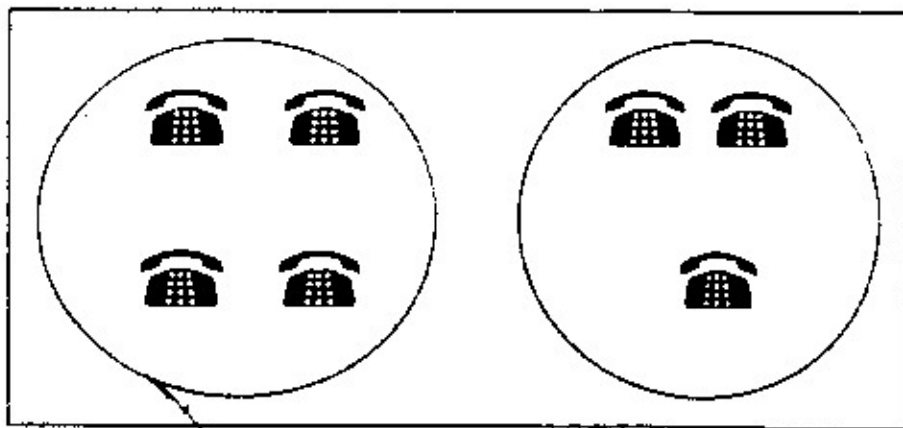
3. การที่อาหวานพูดจาไพเราะยิ้มแย้มกับลูกค้า ทำให้เกิดผลคืออย่างไร

ลูกค้าชอบใจมาซื้อ ของมากขึ้น	ลูกค้ารำคาญ	ไม่มีคนเข้ามา ซื้อของ
---------------------------------	-------------	--------------------------

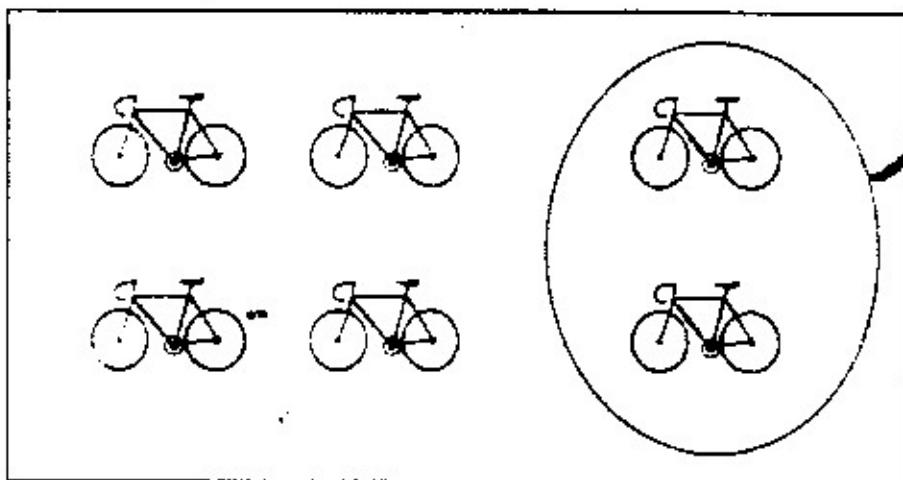
4. อา หมายถึงใคร

พี่ของพ่อ	น้องของพ่อ	พ่อของพ่อ
-----------	------------	-----------

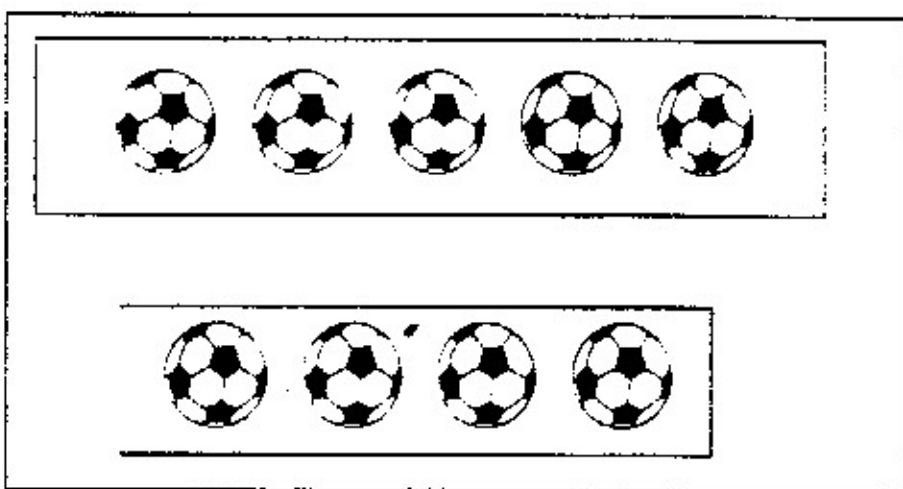
ให้ น.ร. ใส่เครื่องหมาย (+ , -) แลเติมคำตอบ



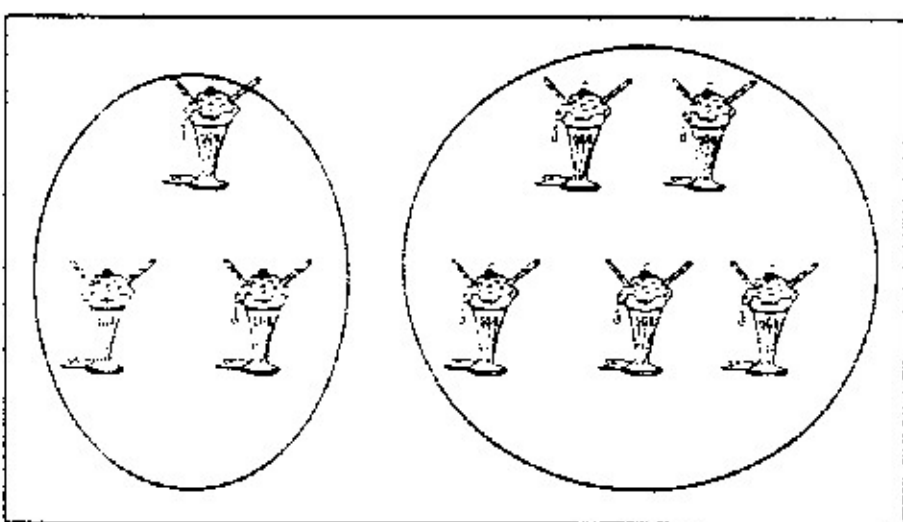
$$4 \quad 3 =$$



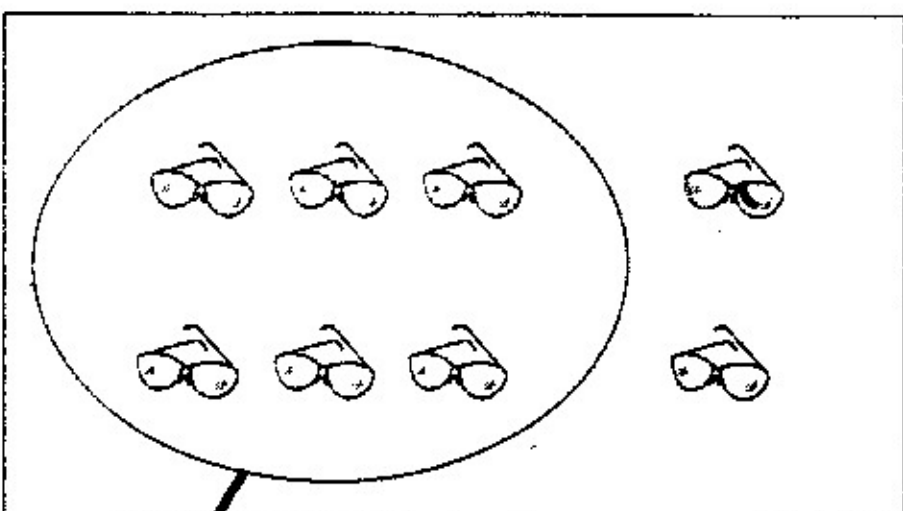
$$6 \quad 2 :$$



$$5 \quad 4 =$$




$$3 \quad 5 =$$



$$8 \quad 6 =$$

ให้นักเรียนนับจำนวนภาพสิ่งที่คุณกำหนดให้



=

ภาพ




=

ภาพ




=

ภาพ



=


ภาพ




=

ภาพ


1.




II.



III.




IV.

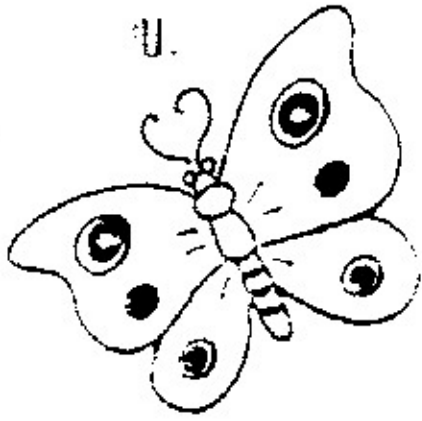


2.

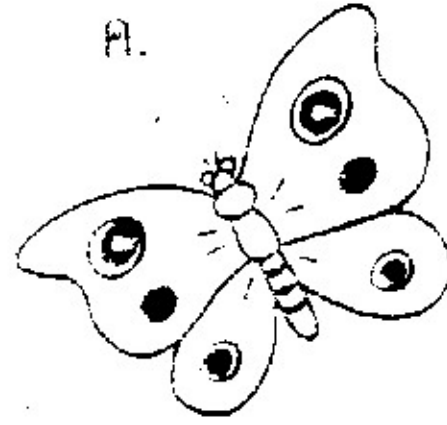
I.



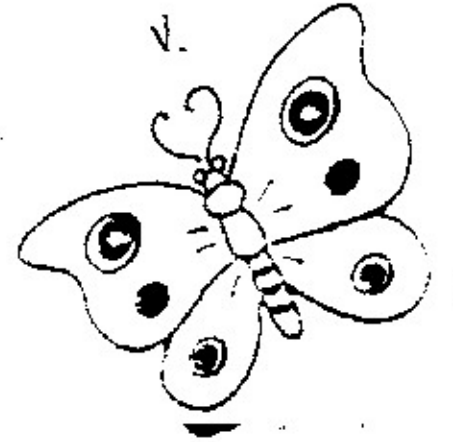
II.



III.



IV.




3.

I.




II.



III.



IV.



4.

I.



II.



III.



IV.



5.

I.



II.



III.



IV.



6.

I.



II.























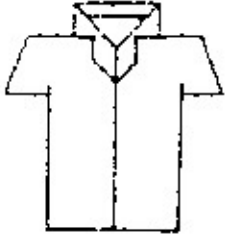

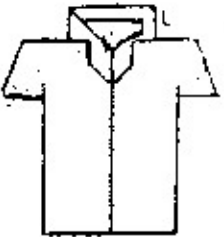
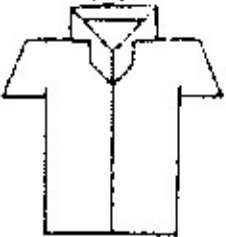
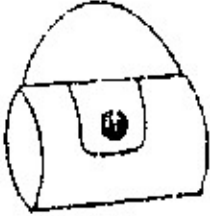
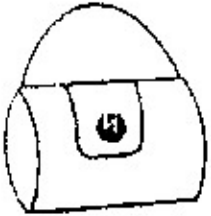
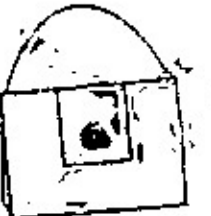
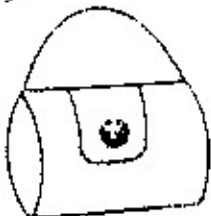
III.



IV.



เขียน X กับภาพที่แตกต่างจากภาพอื่น

1	2	3	4
			
			
			
			
			
			
			

1. ถ้าตาของนักเรียนเจ็บ จะมีปัญหาต่อเรื่องใดมากที่สุด

การมองเห็น	การได้ยิน	การนอนหลับ
------------	-----------	------------

2. นิ้วไหนยาวที่สุด

นิ้วชี้	นิ้วกลาง	นิ้วนาง
---------	----------	---------

3. ข้อใดแสดงว่าเรามีน้ำหนักเพิ่มขึ้น

เสื้อผ้าสวมประจำหลวม	เสื้อผ้าสวมประจำคับ	เสื้อผ้าสวมประจำพอดีตัว
----------------------	---------------------	-------------------------

4. คนเราควรรับประทานอาหารวันละกี่มือ

1 มือ	2 มือ	3 มือ
-------	-------	-------

5. ถ้านักเรียนไม่ล้างมือก่อนหยิบอาหารจะเป็นอย่างไร

โต๊ะสกปรก	ปากเลอะเทอะ	เชื้อโรคเข้าปาก
-----------	-------------	-----------------

นารีไปเที่ยวเขาดินกับคุณพ่อในวันหยุด นารีเห็น ช้าง ลิง
 ชะนี เสือ และสัตว์อื่นๆ ช้างชูงวงไปมารับกล้วยจากผู้คน
 ลิงและชะนีห้อยโหนไปตามกิ่งไม้ เสือถูกขังอยู่ในกรงเหล็ก

1. นารีไปเที่ยวกับคุณพ่อในวันอะไร

วันจันทร์	วันศุกร์	วันอาทิตย์
-----------	----------	------------

2. นารีต้องการดูอะไร ที่เขาดินมากที่สุด

ต้นไม้ต่างๆ	สัตว์ต่างๆ	กรง สัตว์ต่างๆ
-------------	------------	----------------

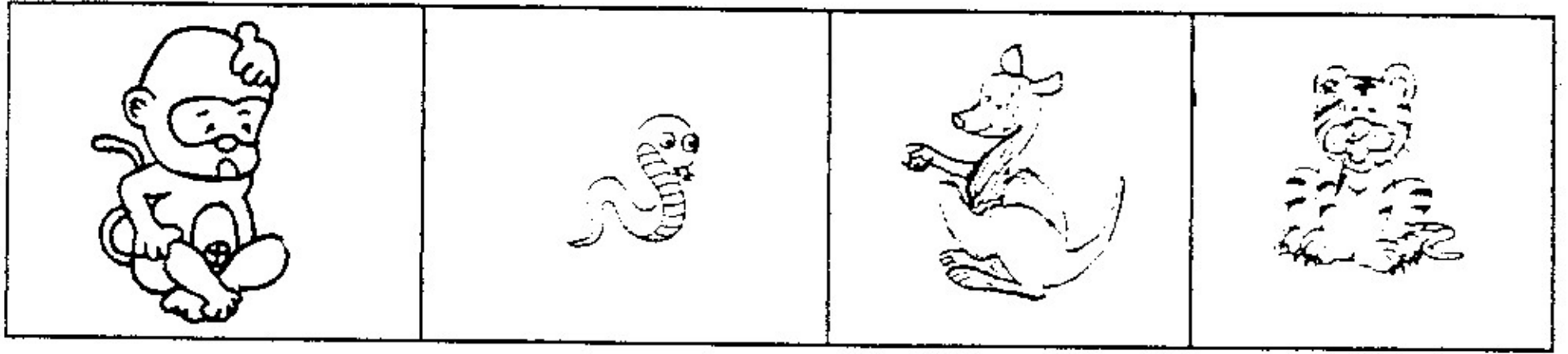
3. สัตว์อะไร ที่ดูร้ายที่สุด

ชะนี	ลิง	เสือ
------	-----	------


4. ช้างใช้อะไร จับอาหารเข้าปาก

มือ	งา	งวง
-----	----	-----


สัตว์ชนิดใดเคลื่อนที่โดยการกระโดด




2 สัตว์ชนิดใดชอบกินอ้อย



3 สัตว์ชนิดใดมีขาและมีหนวด



4 สัตว์น้ำชนิดใดที่ตัวผู้เลี้ยงลูกไว้ที่ท้อง



5 สัตว์ชนิดใดอยู่ได้ทั้งบนบกและในน้ำ

