

1. ในภาพมีสัตว์ทั้งหมดกี่ตัว

5 ตัว	6 ตัว	12 ตัว
-------	-------	--------

2. กระจ่างและยีราฟมีขาเหมือนกันกี่ขา


4 ขา	6 ขา	8 ขา
------	------	------


3. นกฝูงหนึ่งมี 8 ตัว ถูกนายพรานยิงตกไป 2 ตัวจะเหลือนกกี่ตัว


10 ตัว	6 ตัว	4 ตัว
--------	-------	-------


4. จากภาพสัตว์ชนิดใดต่างจากพวก

กระจ่าง	ยีราฟ	นก
---------	-------	----












п.




т.




р.



к.



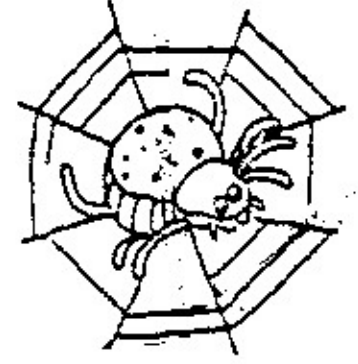
п.



т.



п.



к.



п.



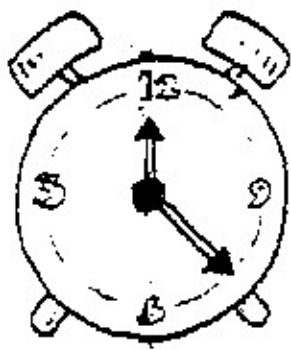
т.



п.



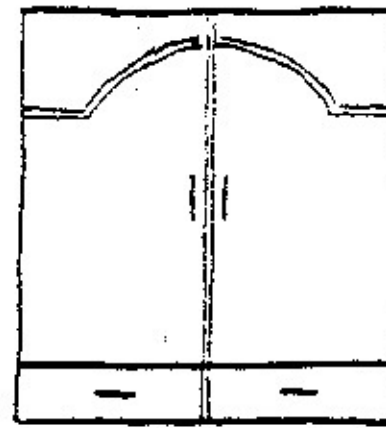
к.




п.



т.



п.



к.



п.



т.



п.



к.



п.



т.



п.




к.




п.




т.




р.




к.



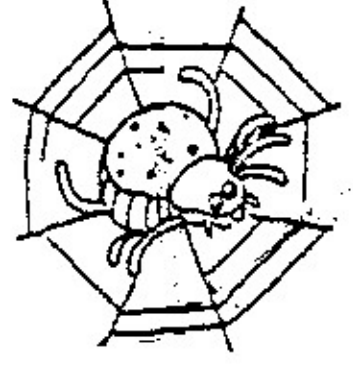
п.



т.



п.



к.



п.




т.



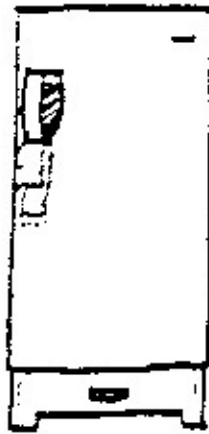
п.



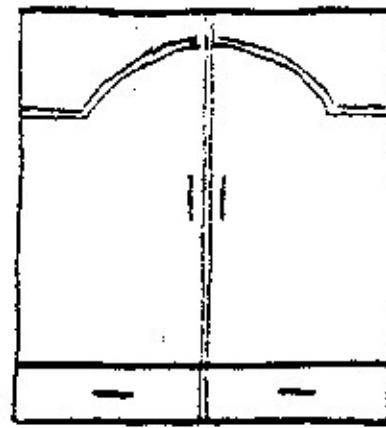
к.




п.



т.



п.




к.



п.



т.



п.



к.



п.



т.

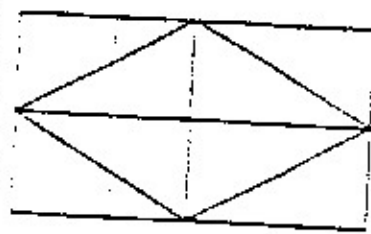
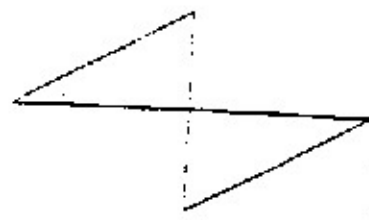


п.

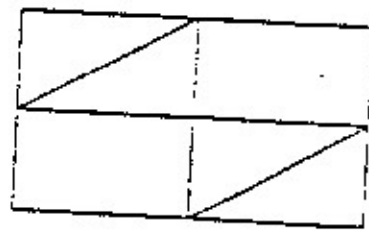


к.

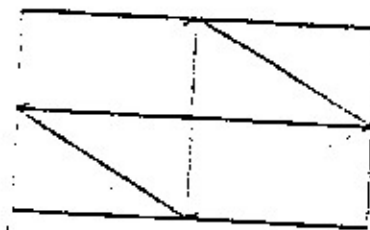
จงทำเครื่องหมาย X ทับภาพที่มีภาพด้านซ้ายมือ
 ซ่อนอยู่ โดยมีขนาดและทิศทางของภาพเหมือนภาพ ทางซ้าย



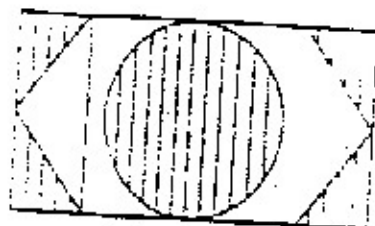

ก.




ข.




ค.



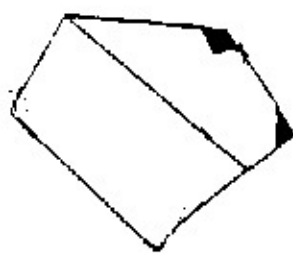
ก.



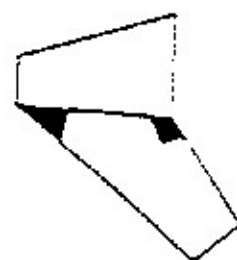
ข.



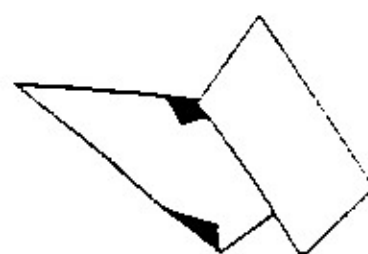
ค.




ก.




ข.




ค.



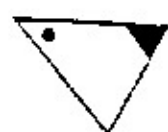
ก.



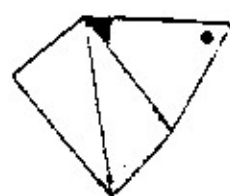
ข.



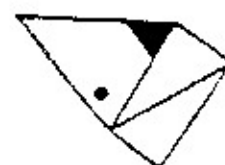
ค.



ก.



ข.



ค.

จังหวัดชลบุรี เป็นจังหวัดในภาคกลาง อยู่ทางชายฝั่งทะเล
ตะวันออกของประเทศไทย มีสถานที่ท่องเที่ยวหลายแห่ง ที่มี
ชื่อเสียงได้แก่ ชายหาดบางแสน มีสวนสัตว์เปิดอยู่ที่เขาเขียว
ประเพณีได้แก่วิ่งวัววิ่งควาย

1. จังหวัดชลบุรี เป็นจังหวัดอยู่ในภาคใด

ภาคใต้	ภาคกลาง	ภาคเหนือ
--------	---------	----------

2. สถานที่ท่องเที่ยวของจังหวัดที่มีชื่อเสียงได้แก่ข้อใด

ชายหาดหัวหิน	ชายหาดบางแสน	ชายหาดเกาะเสม็ด
--------------	--------------	-----------------

3. จังหวัดชลบุรีมีสวนสัตว์เปิดอยู่ที่ใด

เขาเขียว	เขาใหญ่	เขาดิน
----------	---------	--------

4. ประเพณีตามข้อใดเป็นประเพณีของจังหวัดชลบุรี

วิ่งแข่ง	วิ่งวัววิ่งควาย	วิ่งช้าง
----------	-----------------	----------

1. ธงชาติไทย มี 3 สี ก็แถบ

3 แถบ	4 แถบ	5 แถบ
-------	-------	-------

2. สัญลักษณ์ วันท้อ คือดอกไม้อะไร

ดอกมะลิ	ดอกพุทธรักษา	ดอกบัว
---------	--------------	--------

3. ดาวดวงใดมีสิ่งที่มีชีวิตอาศัยอยู่

ดวงอาทิตย์	โลก	ดวงจันทร์
------------	-----	-----------

4. เมื่อเรากระหายน้ำ เราควรทำอย่างไร


ทานน้ำ	กินน้ำ	ดื่มน้ำ
--------	--------	---------

5. ดอกไม้ชนิดใด ที่เราถือว่ามีความสำคัญในวันไหว้ครู

ดอกมะลิ	ดอกเข็ม	ดอกบัว
---------	---------	--------

นกน้อยหาเพื่อน

นกน้อยตัวหนึ่ง อายากมีเพื่อน ก็ขอแม่บินไปดูว่าเพื่อนอยู่ที่ไหนบ้าง นกน้อยบินออกจากรังแต่เช้าตรู่ บินไปได้สักครู่ เห็นนกกระสากำลังกินปลาอยู่ก็ขอเป็นเพื่อนด้วย นกกระสาก็ตกลง นกน้อยก็บินต่อไปเห็นเต่าและกบกำลังคุยกันก็ขอเป็นเพื่อนอีก เมื่อบินต่อไปก็พบม้า ช้าง ลิง หนู เสือ ควาย กำลังเล่นอย่างสนุกสนาน จึงขอเป็นเพื่อนอีก จนเย็น นกน้อยบินกลับรังและไปเล่าให้แม่ฟังว่ามีเพื่อนหลายตัว



ที่อยู่ของนกเรียกว่าอะไร

เล้า	รัง	บ้าน
------	-----	------

2. นกพบสัตว์ชนิดใดเป็นตัวแรก

นกกระสา	เต่า	กบ
---------	------	----

3. ในเรื่องมีสัตว์กี่ตัว

9 ตัว	10 ตัว	11 ตัว
-------	--------	--------

4. นกบินกลับรังเวลาใด

เช้า	กลางวัน	เย็น
------	---------	------

5. นักเรียนสามารถไปดูสัตว์หลายชนิดได้ที่ใด

สวนสนุก	สวนสัตว์	ป่า
---------	----------	-----

อะไรเอ่ย ตัวฉันเป็นไม้
ไล่ฉันเป็นถ่าน หัวฉันเป็นยาง

ต้นไม้

ปากกา

ดินสอ

2.

อะไรเอ่ย ทุกคนต้องมี
แต่มีแล้วทุกคนต้องลืม

ตา

แว่น

หู

3.

อะไรเอ่ย หลังคาติด
อยู่กับตัว มีหัวผลุบโผล่

เต้า

กุ่ม

งู

อะไรเอ่ย เป็นพี่น้องกัน ไปไหน
ไปด้วยกัน แต่มองกันไม่เห็น

กระจก

เงา

ฝาแฝด

ที่บ้านของฉันมีแต่สุนัขตัวผู้ วันหนึ่งฉันอยากได้สุนัขตัวเมียสักตัว ฉันจึงไปขอสุนัขจากคนแถวๆนั้นมาเลี้ยง เป็นสุนัขตัวน้อยๆ มันมีขนสีขาวนวล ฉันจึงตั้งชื่อมันว่า สีนวล สีนวลชนมาก มันชอบกัดรองเท้าของฉัน พอฉันทำท่าจะตี มันก็แกล้งทำเป็นนอนหลับ

1. สีนวลคือชื่อของอะไร

แม่	สุนัข	นก
-----	-------	----

2. ฉันได้สีนวลมาเลี้ยงได้อย่างไร

ขอมมาจากเพื่อนบ้าน	เก็บมาจากข้างถนน	เพื่อนบ้านให้
--------------------	------------------	---------------

3. สีนวลมีนิสัยอย่างไร

ชอบนอน	ซุกซน	คุร้าย
--------	-------	--------


4. สีนวลชอบกัดอะไร

ผ้าเช็ดเท้า	กางเกง	รองเท้า
-------------	--------	---------


5. สีนวลทำอย่างไรจึงรอดพ้นจากการถูกทำโทษ

แกล้งทำเป็นนอนหลับ	หนีไปแอบอยู่ใต้โต๊ะ	วิ่งไปหาแม่
--------------------	---------------------	-------------

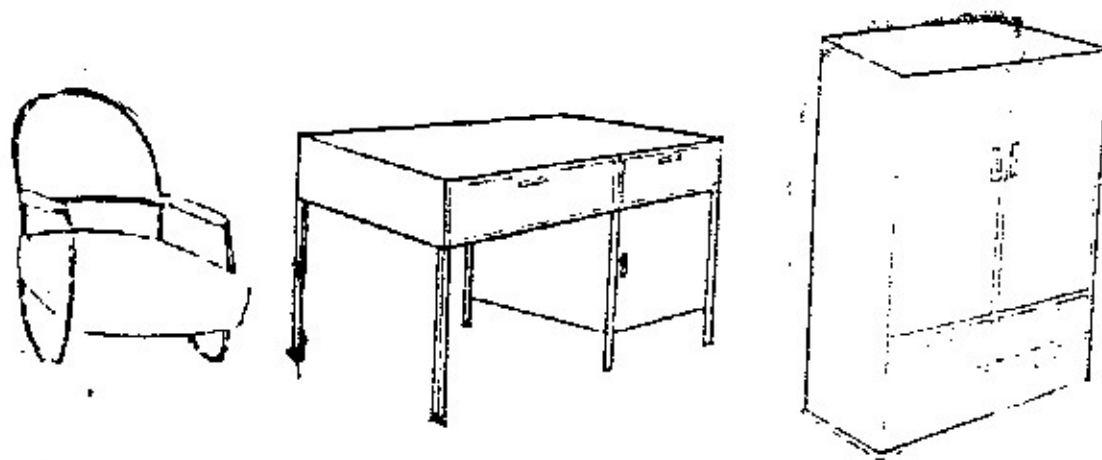
1) วงกลมรอบเปิด อ้อมได้ไข่ ไปพันรอบคอเต่า




2) ลากเส้นตรงจาก \triangle อ้อมเหนือ \square ตรงไปยัง \circ



3) เขียนวงกลม \circ รอบเก้าอี้ อ้อมใต้โต๊ะ ไปยังตู้



4) คุณแม่เลี้ยงสัตว์ไว้ 3 ตัว มีหมา แมว กระจ่าง ในตอนเย็น
คุณปู่จะพาสัตว์ทั้ง 3 ตัวไปเดินเล่น คุณปู่เลี้ยงสัตว์อะไรบ้าง



นึกกับหน้อยไปเที่ยวสวนสัตว์ นึกซ้อกล้วยให้ลิงกิน หน้อยซ้ออ้อยให้
ช้างกิน

1. นึกซ้ออะไรให้สัตว์กิน

ผัก	ผลไม้	หญ้า
-----	-------	------

เช้าวันเสาร์ แม่ไปเที่ยวสวนผลไม้ตลอดวัน ซ้อมังคุด และ องุ่นกลับบ้าน
บ้านในตอนเย็น

1. แม่ไปซ้อผลไม้ที่ไหน

ตลาด	ในสวน	ในห้างสรรพสินค้า
------	-------	------------------

2. แม่ไปเที่ยวสวนในวันใด

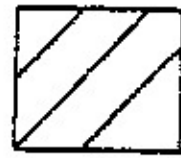
วันศุกร์	วันเสาร์	วันอาทิตย์
----------	----------	------------

ในวันอาทิตย์พ่อชอบดูมวย ส่วนแม่พาหนูไปว่ายน้ำ


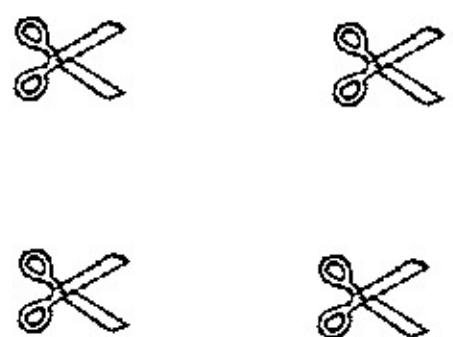

1. วันอาทิตย์แม่พาหนูไปไหน


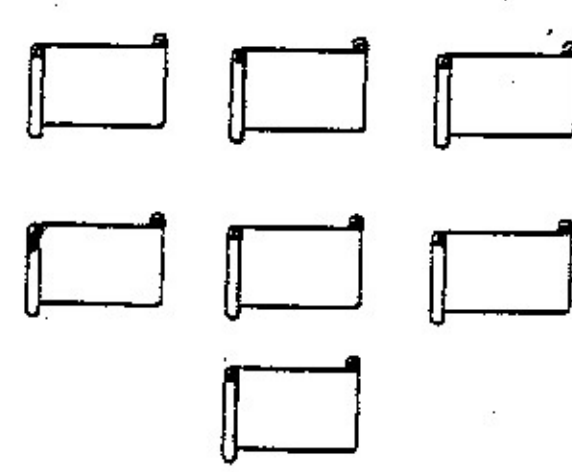

ไปสวนสัตว์	ดูมวย	ไปเล่นกีฬา
------------	-------	------------


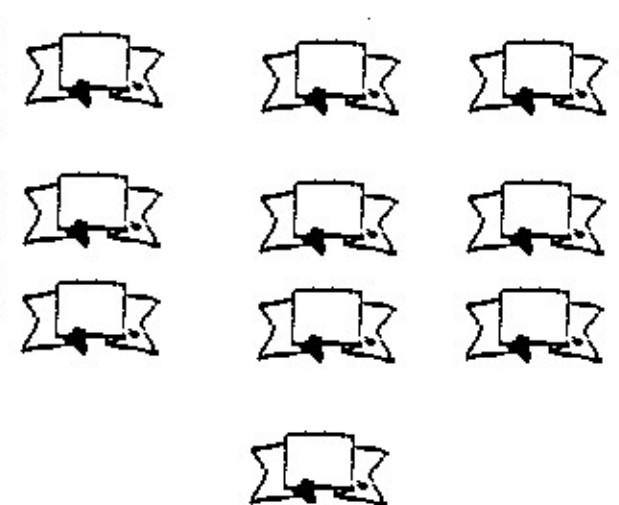
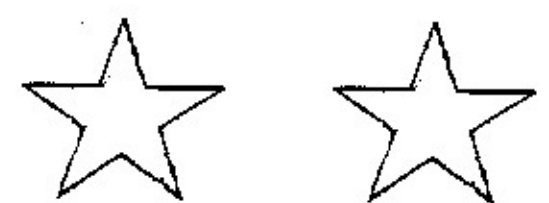
ให้นักเรียนทำเครื่องหมาย


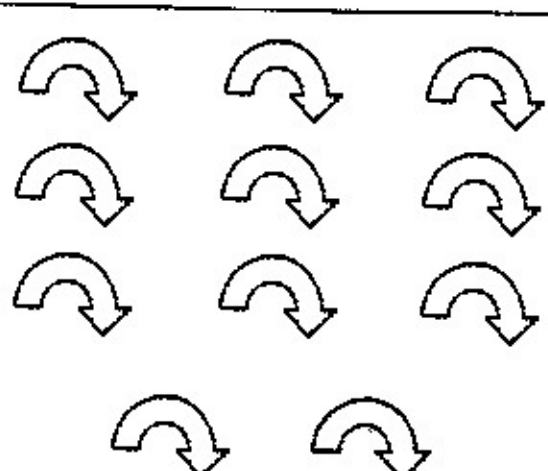



ลงในรูปภาพที่เป็นจำนวนคู่

		
---	---	---



		
---	--	---

		
---	--	---

		
---	--	---

1. เขียนตัวเลข แล้วเขียนเครื่องหมาย = หรือ \neq

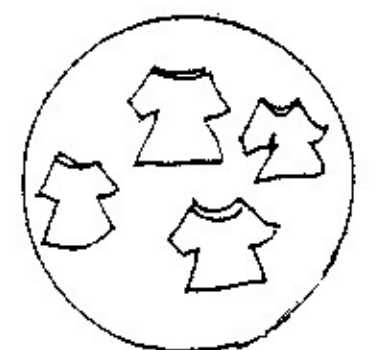
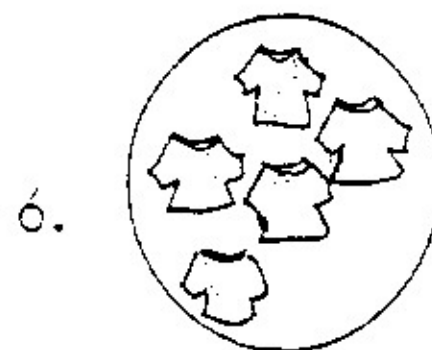
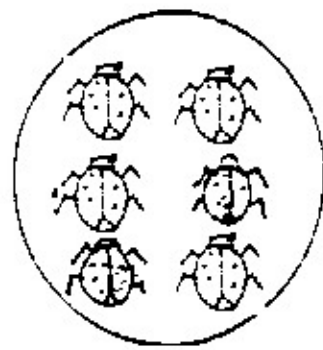
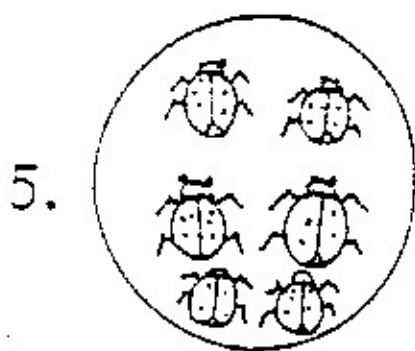


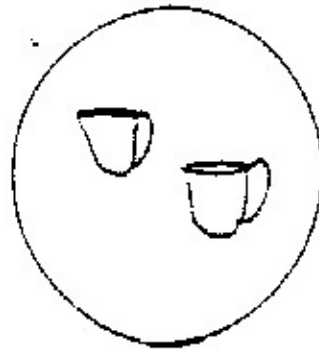
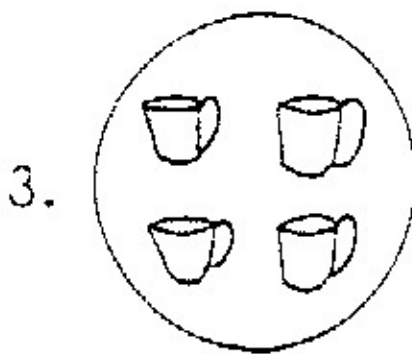
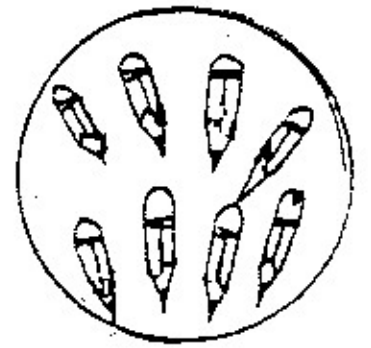
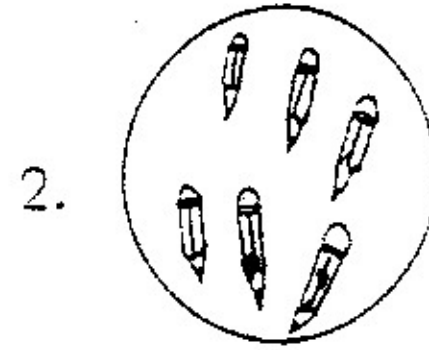
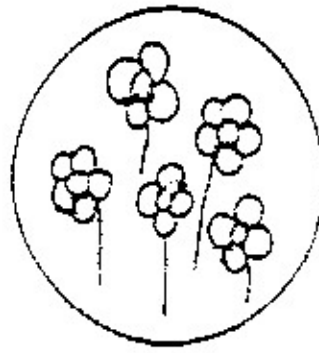
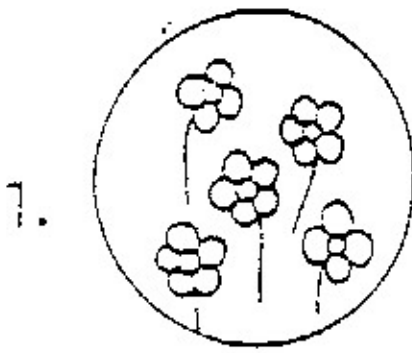
ตัวอย่าง



3 = 3



4 \neq 3



1) มีฟุตบอลอยู่รวม 8 ลูก



ให้เพื่อนไป 3 ลูก

เหลือฟุตบอลกี่ลูก

$$8 - 3 =$$

2) มีไอศกรีม 3 ถ้วย



พี่ซื้อมาให้อีก 2 ถ้วย

รวมมีไอศกรีมกี่ถ้วย

$$3 + 2 =$$

3) มีไข่ไก่ และ ไข่เป็ด



รวม 9 ฟอง ไข่เป็ด 3 ฟอง

เป็นไข่ไก่กี่ฟอง

$$9 - 3 =$$

4) มีดอกไม้ 7 ดอก



เหี่ยวไป 2 ดอก เหลือ









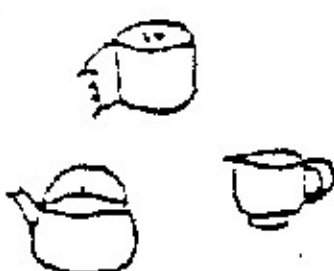











ดอกไม้กี่ดอก

$$7 - 2 =$$

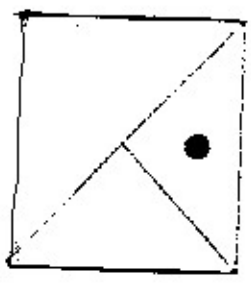
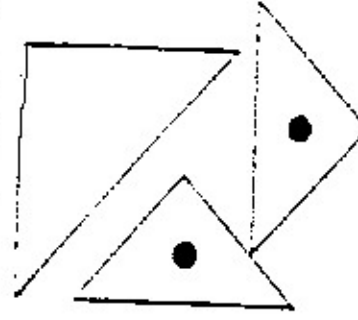
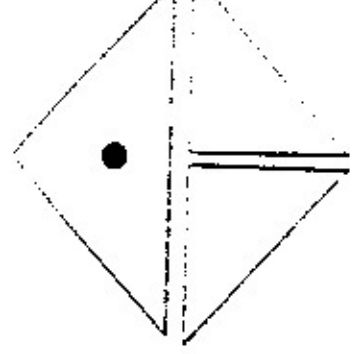
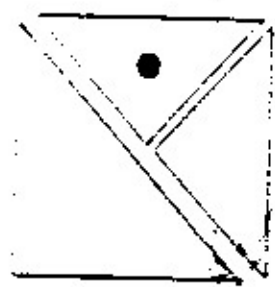


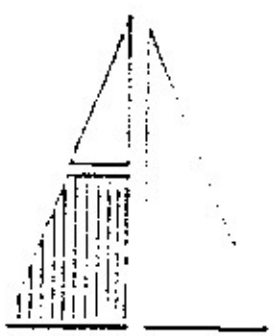

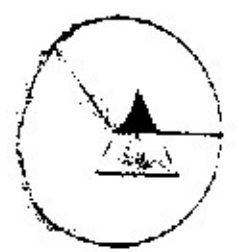

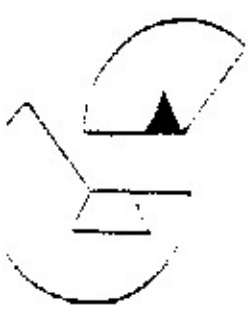

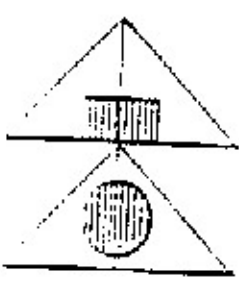
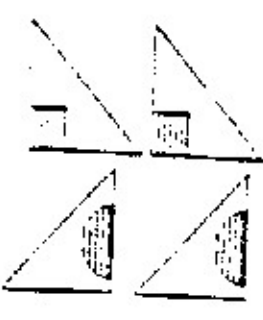
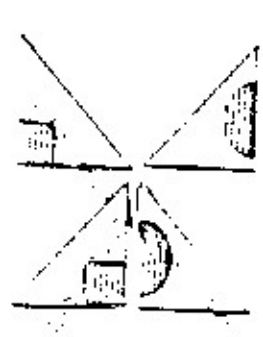
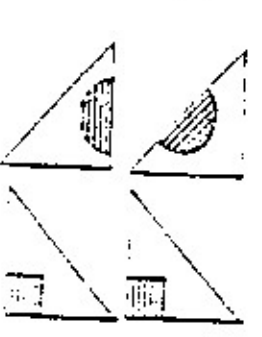


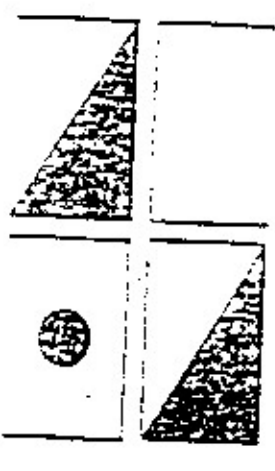

ให้ น.ร. หาภาพที่ขาดหายไปแล้ว X ทับภาพนั้นให้ถูกต้อง

ภาพที่กำหนดให้มี 4 ภาพดังนี้



1				
2				
3				
4				
5				

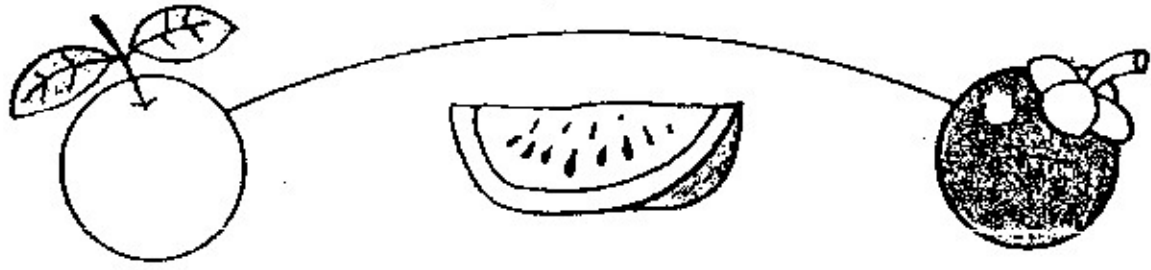




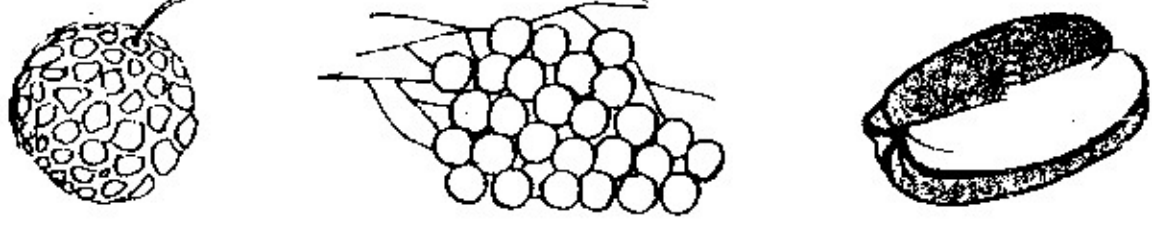

X ทับภาพที่เกิดจากการแยกภาพในกรอบซ้ายมือ


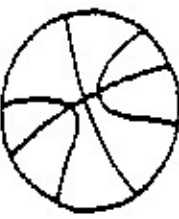




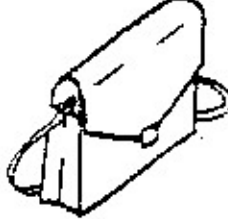
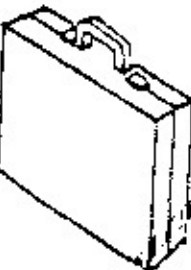

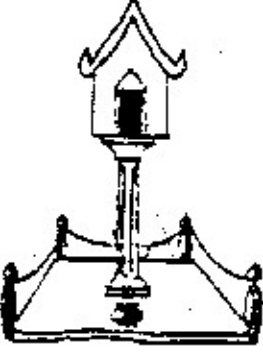













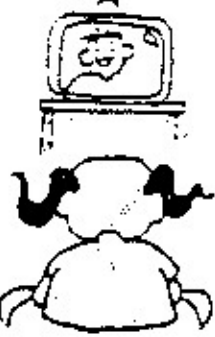
<p>1.</p> 	<p>ก.</p> 	<p>ข.</p> 	<p>ค.</p> 
<p>2.</p> 	<p>ก.</p> 	<p>ข.</p> 	<p>ค.</p> 
<p>3.</p> 	<p>ก.</p> 	<p>ข.</p> 	<p>ค.</p> 
<p>4.</p> 	<p>ก.</p> 	<p>ข.</p> 	<p>ค.</p> 
<p>5.</p> 	<p>ก.</p> 	<p>ข.</p> 	<p>ค.</p> 

จุดประสงค์ ฝึกการฟัง และจำประโยคสั้น ๆ ง่าย ๆ

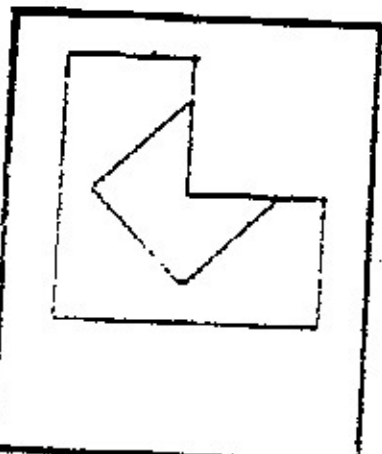
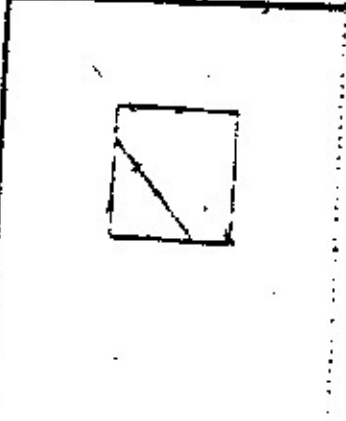
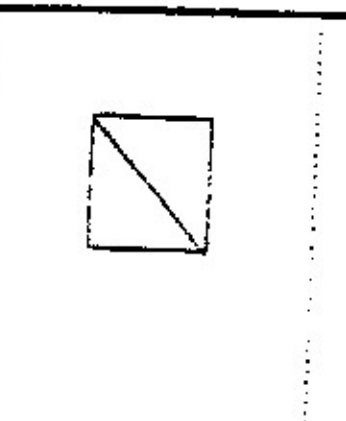
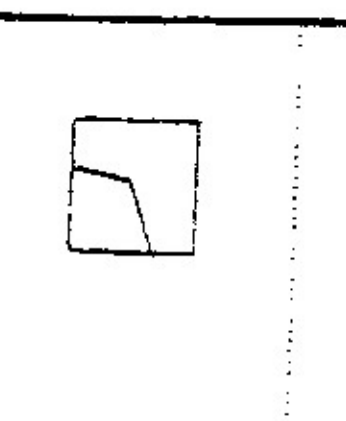
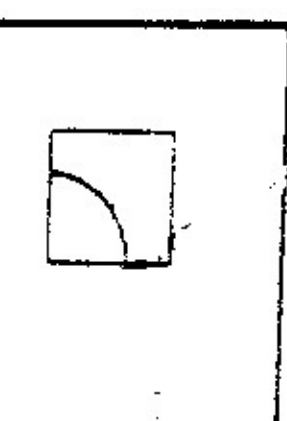
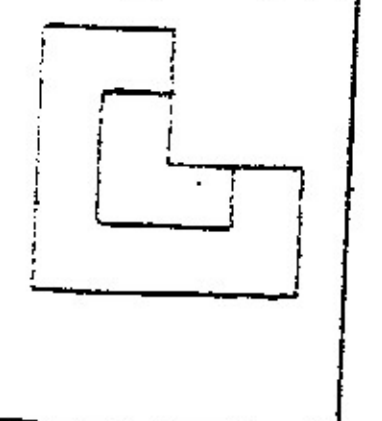
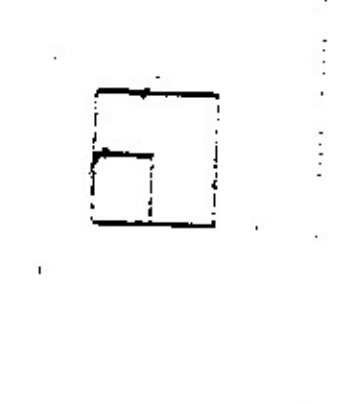
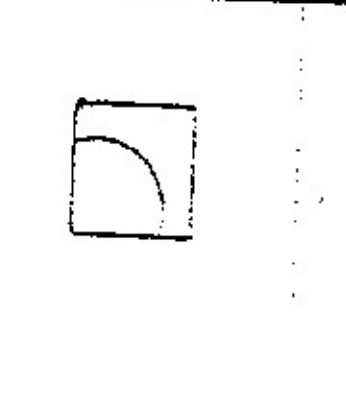
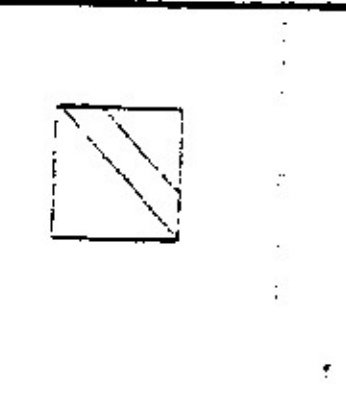
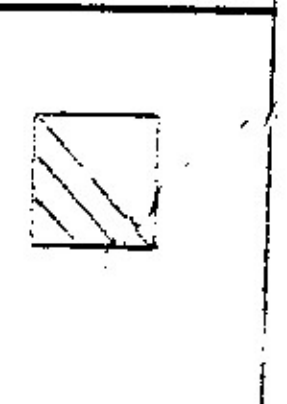
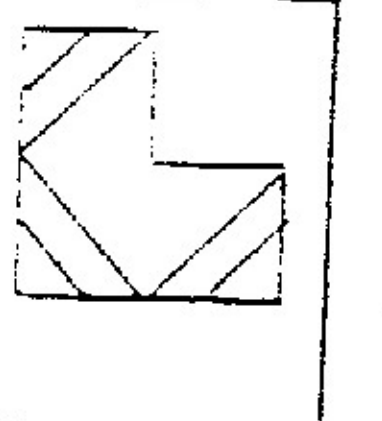
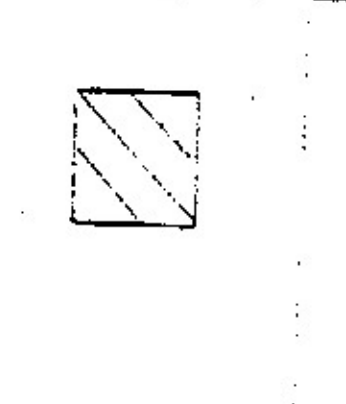
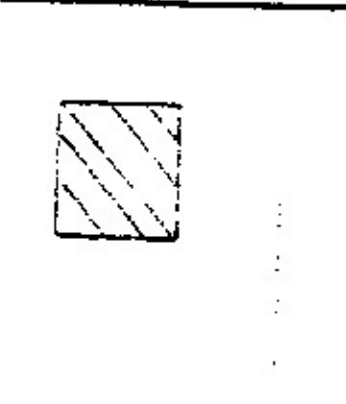
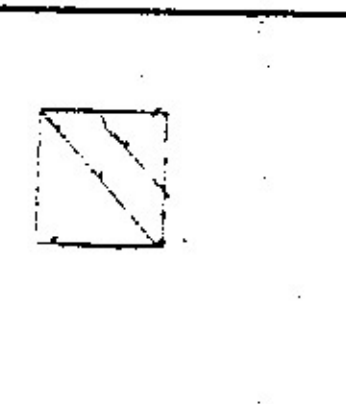


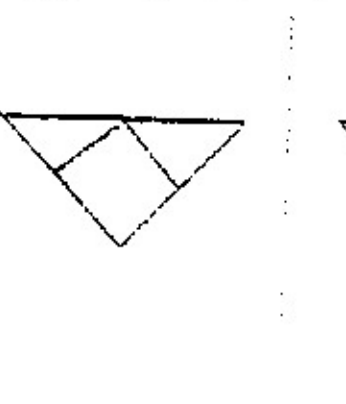
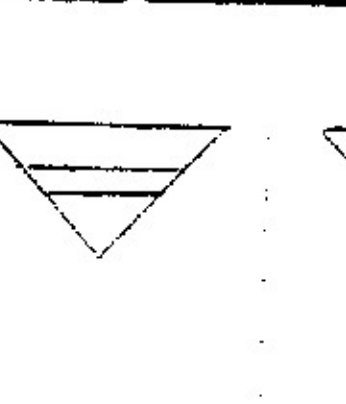
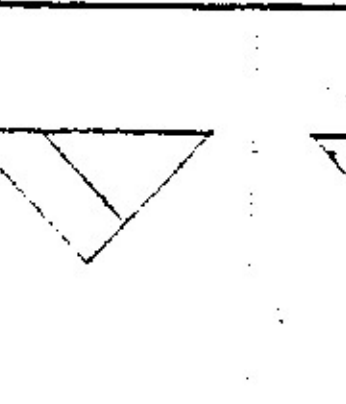
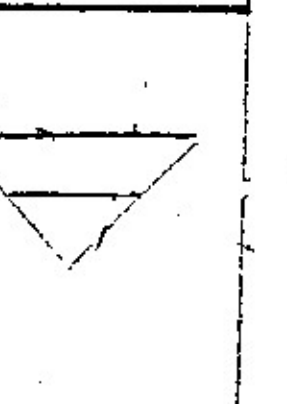
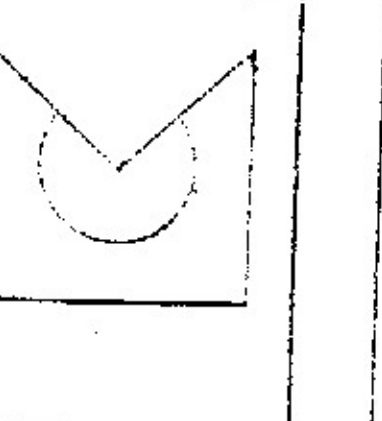
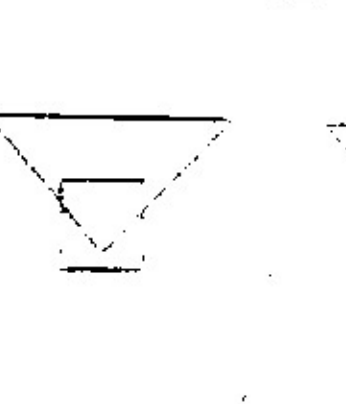
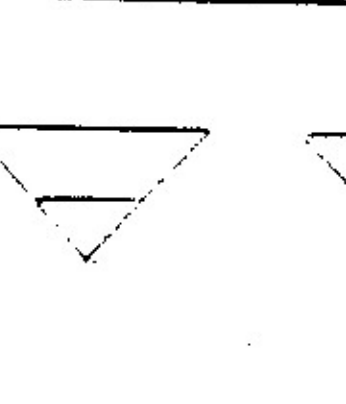
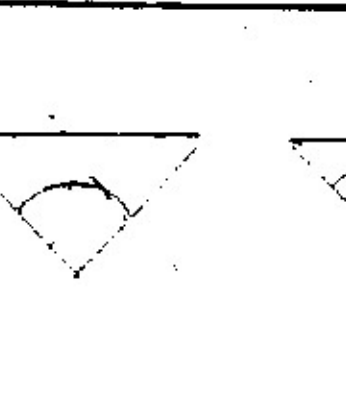
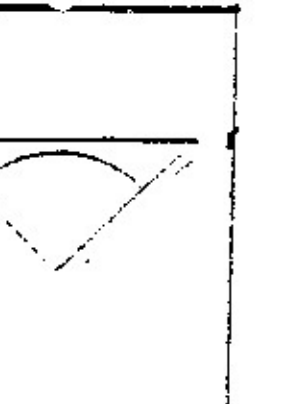
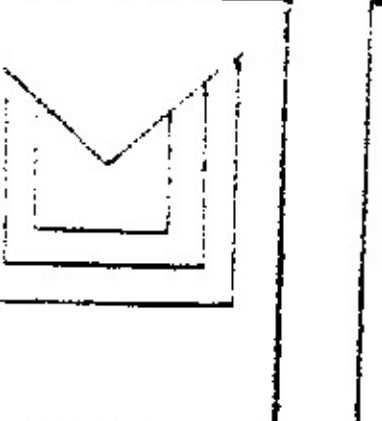
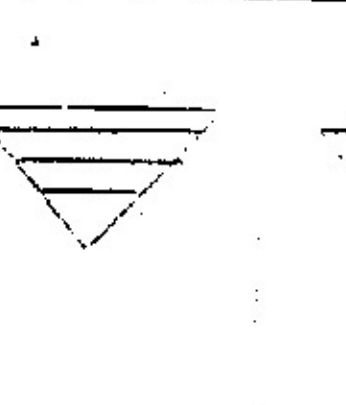
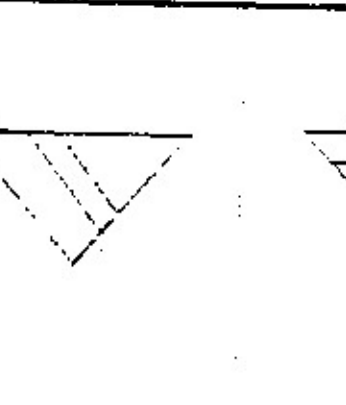
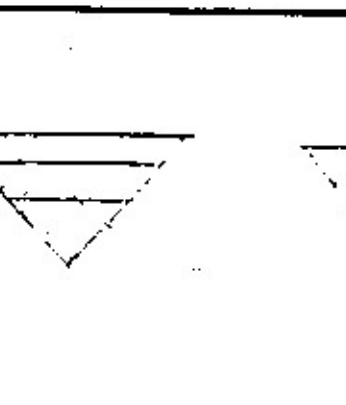
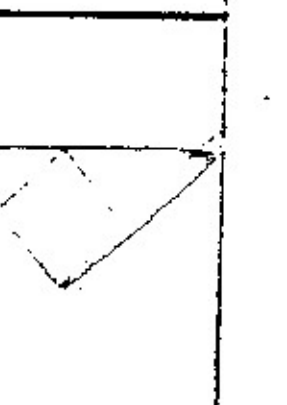
กิจกรรม ให้นักเรียนลากเส้น หรือเขียนวงกลม ตามคำสั่งของครูแต่ละข้อ

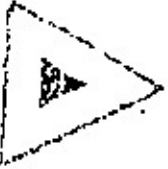
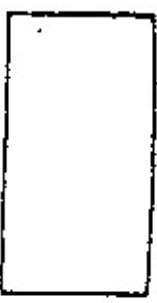










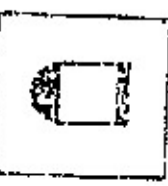
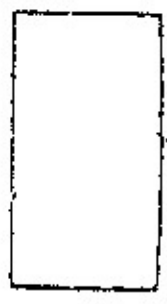

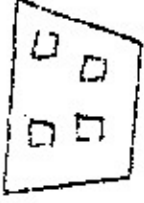



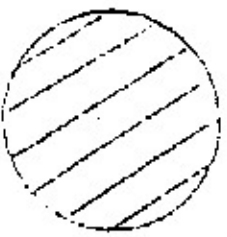


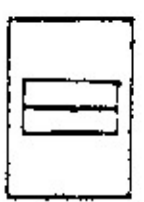
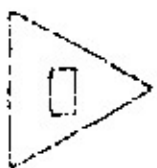



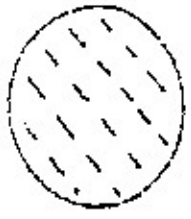







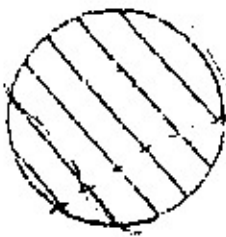
ตัวอย่าง

ลากเส้นจากส้ม ไปหามังคุด	
๑ วงกลมรอบกะหล่ำปลี	
๒ ลากเส้นจากทุเรียน ไปหาเงาะ	
๓ ลากเส้นจากถั่ว ผ่านผักคะน้าไปที่พริก	
๔ ลากเส้นจากดอกบัวลอย ใต้กุหลาบไปที่ดอกมะลิ	
๕ วงกลมล้อมรอบน้อยหน้า ลำไย มะเฟือง	
๖ ลากเส้นจากใบไม้ข้าม เหนือกิ่งไม้ไปที่ดอกไม้อื่น	

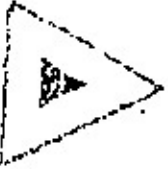
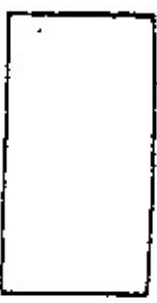










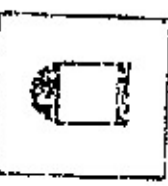
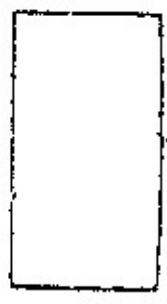

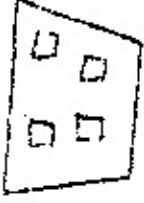



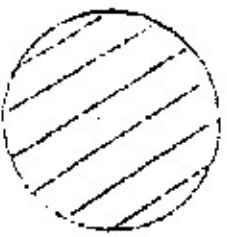


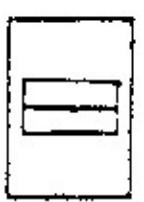
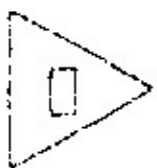



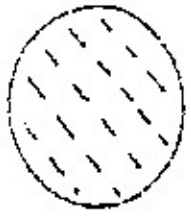







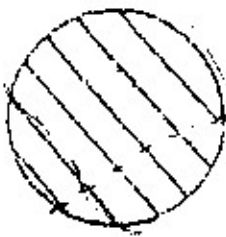
 <p>1.</p>	 <p>2.</p>	 <p>3.</p>	 <p>4.</p>
 <p>1.</p>	 <p>2.</p>	 <p>3.</p>	 <p>4.</p>
 <p>1.</p>	 <p>2.</p>	 <p>3.</p>	 <p>4.</p>
 <p>1.</p>	 <p>2.</p>	 <p>3.</p>	 <p>4.</p>
 <p>1.</p>	 <p>2.</p>	 <p>3.</p>	 <p>4.</p>
 <p>1.</p>	 <p>2.</p>	 <p>3.</p>	 <p>4.</p>

X ทับภาพที่สัมพันธ์กับภาพทางซ้ายมือ

	A.	B.	C.	D.
1. 				
2. 				
3. 				
4. 				
5. 				
6. 				

โรงเรียนอนุบาลนครราชสีมา

โรงเรียนอนุบาลนครราชสีมา