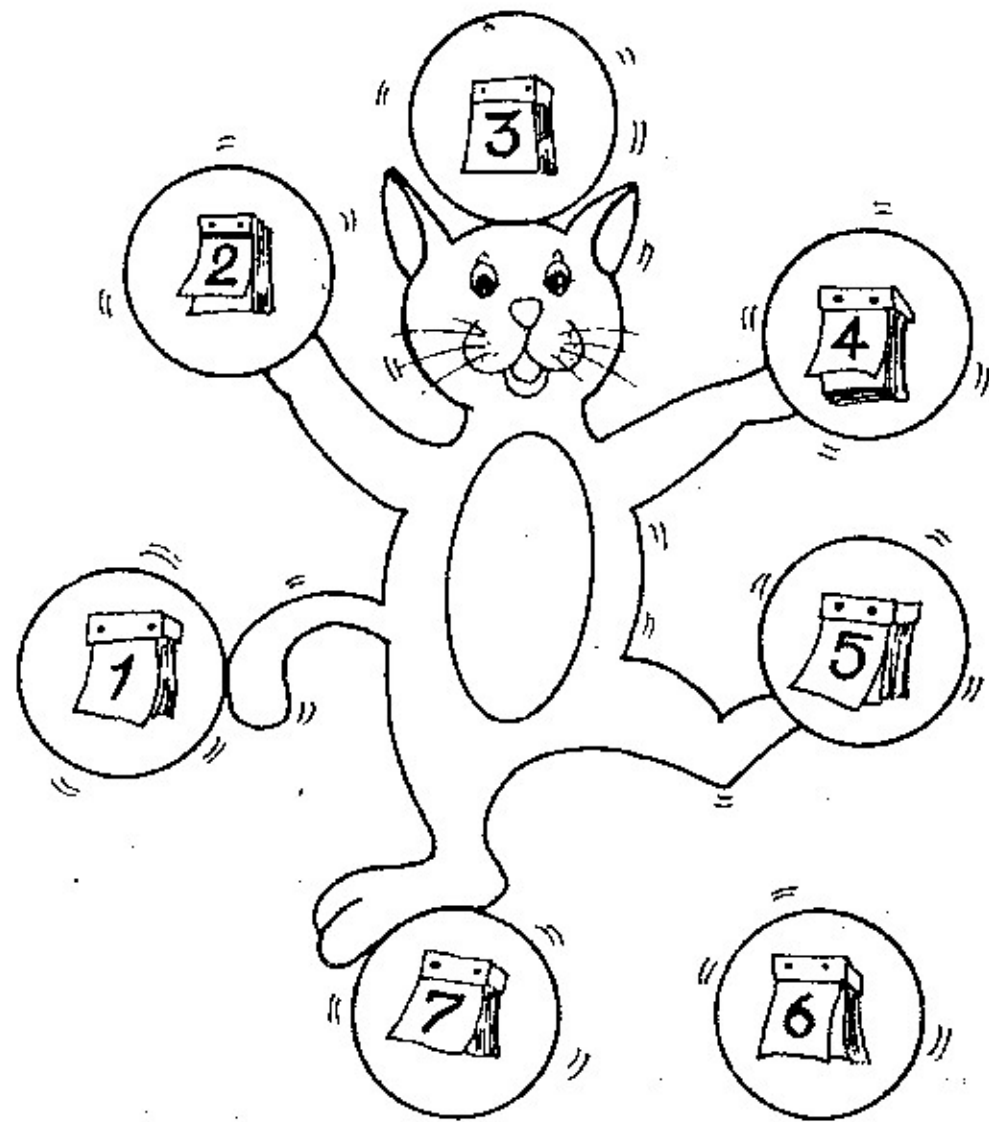


..... จงเติมคำตอบให้ถูกต้อง


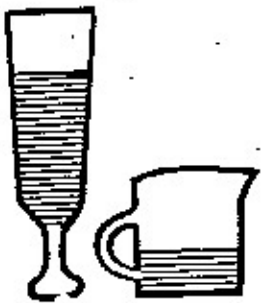


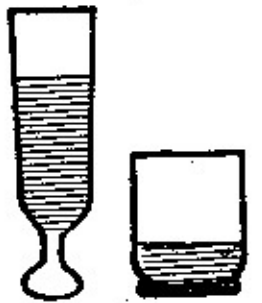






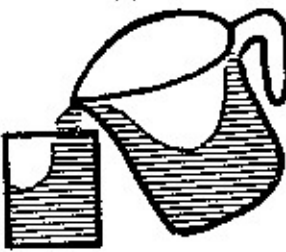










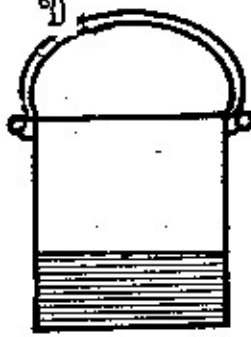


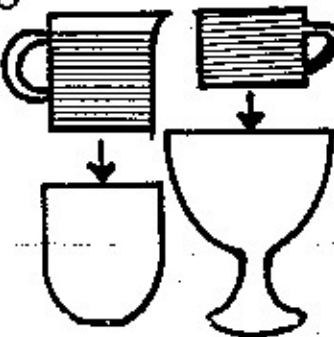




1. วันนี้ คือ .....
2. เดือนนี้ คือ .....
3. พ.ศ. นี้ คือ .....
4. เดือนที่ผ่านมา คือ .....
5. เดือนหน้า คือ .....
6. เมื่อกว่านี้ คือ .....
7. พรุ่งนี้ คือ .....
8. เดือนแรกของปี คือ .....
9. เดือนสุดท้าย คือ .....
10. วันแรกของสัปดาห์ คือ .....
11. วันท้ายสุด คือ .....



### 3. เติมช่องว่างให้ถูกต้อง

- 1) สัปดาห์หนึ่งมี ..... วัน
- 2) วันแรกของสัปดาห์คือวัน .....
- 3) วันสุดท้ายของสัปดาห์คือวัน .....
- 4) วันหยุดประจำของสัปดาห์คือวัน .....
- 5) วันแรกของสัปดาห์ที่เราไปโรงเรียนคือวัน .....
- 6) ถ้าวันนี้เป็นวันพุธ พรุ่งนี้จะเป็นวัน .....
- 7) ถ้าวันนี้เป็นวันเสาร์ เมื่อวานนี้เป็นวัน .....
- 8) วันที่สามของสัปดาห์คือวัน .....
- 9) เราไปโรงเรียนในวัน .....
- 10) สองสัปดาห์มี ..... วัน

ให้นักเรียนขีด ✕ ทับข้อที่มีความสัมพันธ์ของปริมาณของน้ำในภาพแรก

1		ก 	ข 	ค 	ง 
2		ก 	ข 	ค 	ง 
3		ก 	ข 	ค 	ง 
4		ก 	ข 	ค 	ง 
5		ก 	ข 	ค 	ง 
6		ก 	ข 	ค 	ง 

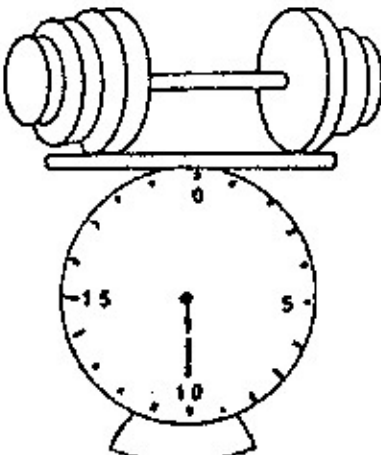
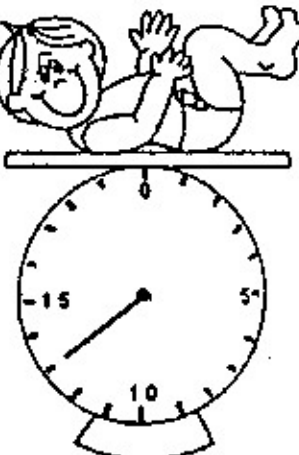

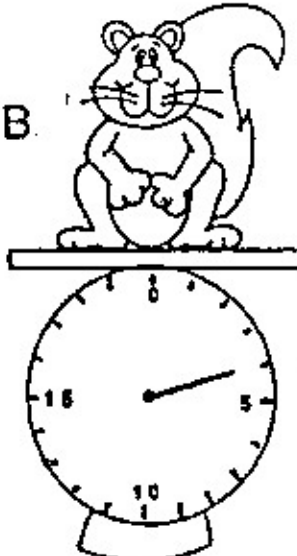
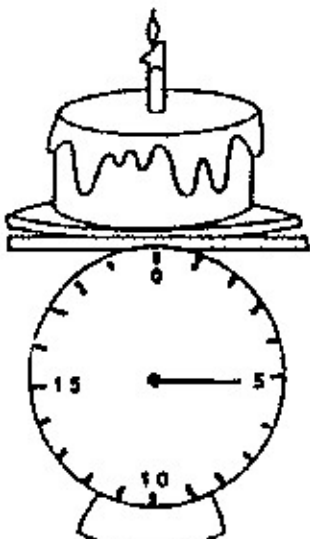

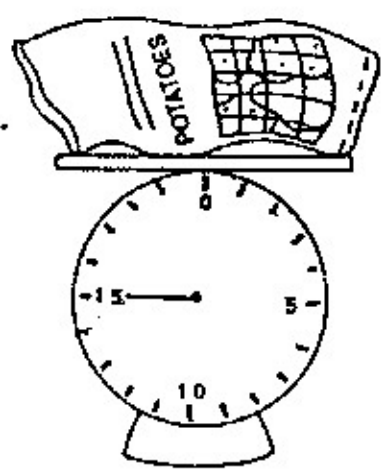


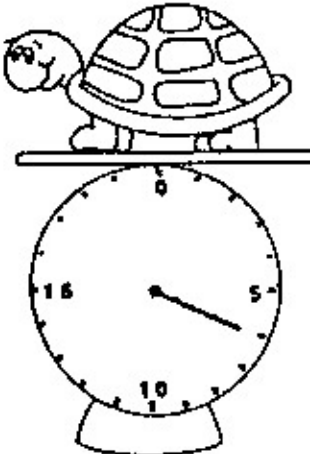
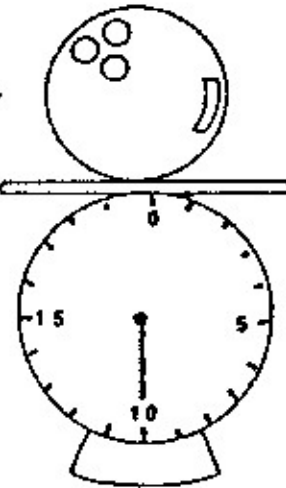


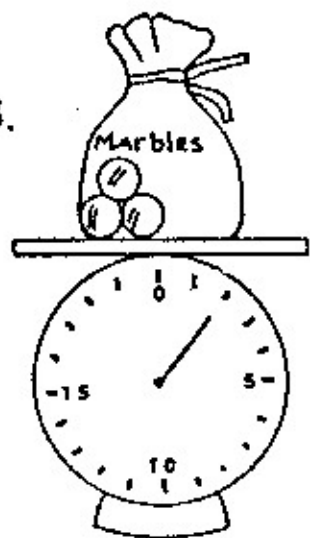
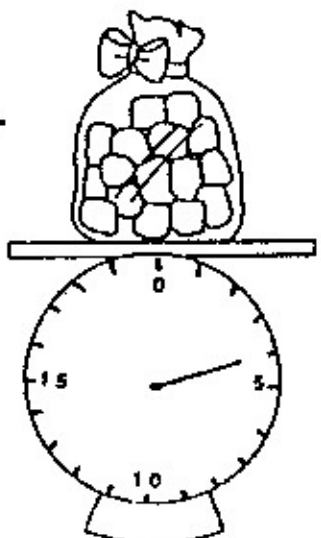

Name \_\_\_\_\_

Using Applications: Reading Scales

Read the scales.

Which weighs **more**? วัตถุใดมีน้ำหนักมากกว่า.

Circle the correct answer for each problem below.

<p>1.</p> <p>A. </p> <p>B. </p>	<p>2.</p> <p>A. </p> <p>B. </p>
<p>3.</p> <p>A. </p> <p>B. </p>	<p>4.</p> <p>A. </p> <p>B. </p>
<p>5.</p> <p>A. </p> <p>B. </p>	<p>6.</p> <p>A. </p> <p>B. </p>
<p>7.</p> <p>A. </p> <p>B. </p>	<p>8.</p> <p>A. </p> <p>B. </p>

11 วันแม่ตรงกับวันที่เท่าไร เดือนอะไร

12 วันเสาร์ที่ 2 ของเดือนมกราคม เป็นวันอะไร

13 ดวงอาทิตย์ขึ้นทางทิศอะไร

14 ผู้ปลูกข้าวให้เรากินเรียกว่า

15 ลิงของ ! โหลมีกี่ชิ้น

16 เลขจำนวนที่มากที่สุดของนาฬิกาคือ

17 เดือนที่มีจำนวนวันน้อยสุด คือเดือนอะไร

18 ลัปดาห์หนึ่งมีวันหยุด กี่วัน

19 บอกชื่อผลไม้ที่รู้จักมา 5 ชนิด

20 บอกชื่ออวัยวะของคนมา 5 ชื่อ

เขียน ✕ ทับภาพที่ตรงกับคำตอบ

1. เมื่อได้รับของขวัญ เราจะรู้สึกอย่างไร




2. เมื่อไปวัด เราจะพบใคร



3. เมื่อเป็นหวัด เราควรไปหาใคร



4. บรูซไปรษณีย์ เขาทำอะไร



5. อยู่บ้าน เราควรทำอะไร



เขียน ✓ ทับภาพที่ตรงกับคำตอบ

1. ถ้าพบผู้ใหญ่ควรทำอย่างไร



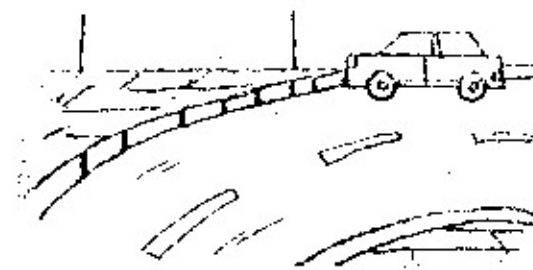
2. คำนอนตอนเข้าควรทำสิ่งใดก่อน



3. การคิมน้ำควรทำอย่างไร



4. เมื่อต้องการทิ้งขยะควรทิ้งที่ใด



5. การซื้ออาหารควรทำอย่างไร



เดือน ธันวาคม 2530

อาทิตย์	จันทร์	อังคาร	พุธ	พฤหัสบดี	ศุกร์	เสาร์
		1	2	3	4	5 วันเฉลิม พระชนม์พรรษา
6	7	8	9	10 วันพระบาทสมเด็จพระ บรมชนกาธิเบศร	11	12
13	14	15	16	17	18	19
20	21	22	23	24	25	26
27	28	29	30	31 วันสิ้นปี		

2. ให้นักเรียนดูปฏิทินแล้วตอบคำถามให้ถูกต้อง

1. ปฏิทินเดือนนี้เป็นเดือนอะไร มีกี่วัน ตอบ \_\_\_\_\_
2. วันที่ 1 ตรงกับวันอะไร ตอบ \_\_\_\_\_
3. วันที่ 5 ของเดือนนี้เป็นวันสำคัญอะไร ตอบ \_\_\_\_\_
4. วันที่ 10 ของเดือนนี้เป็นวันสำคัญอะไร ตอบ \_\_\_\_\_
5. เดือนนี้มีวันอังคาร กี่วัน วันอะไรบ้าง ตอบ \_\_\_\_\_
6. วันสิ้นเดือนตรงกับวันอะไร ตอบ \_\_\_\_\_
7. เดือนนี้มีวันศุกร์กี่วัน ตอบ \_\_\_\_\_
8. วันสิ้นปี ตรงกับวันที่เท่าไร ตอบ \_\_\_\_\_
9. วันอาทิตย์แรกของเดือนนี้ตรงกับวันที่เท่าไร ตอบ \_\_\_\_\_
10. ปฏิทินนี้ตรงกับ พ.ศ.อะไร ตอบ \_\_\_\_\_


ปริศนาคำทาย

ขนฟูน่ารัก ร้องทัก เหมือนๆ




ดูร้ายนักหนา อยู่ในป่าใหญ่

ตัวฉันแอบซ่อน นอนอยู่บนเรือน  
พอใครมาเยือน ร้องทัก จู..จู




อาศัยในเล้า ขันปลุกยามเช้า  
ให้เราตื่นนอน



ประโยชน์มากมี เนื้อ นมฉันนี่  
กินแล้วแข็งแรง



ร่างกายโตใหญ่ คนใช้ลากซุง



ออกลูกเป็นไข่ หึ่งไว้ในรัง

แปดตีนเดินมา หลังคามุงกระเบื้อง








แบบทดสอบความรู้รอบตัว 5 (ให้เวลาทำ 20 นาที)

ให้นักเรียนตอบคำถามต่อไปนี้

① เราเรียกน้องของพ่อว่าอะไร	ตอบ _____
② เราเรียกพี่ของแม่ว่าอะไร	ตอบ _____
③ เราหิ้งเศษกระดาษที่ไหน	ตอบ _____
④ เราใส่แหวนที่ไหน	ตอบ _____
⑤ เวลาไม่สบายเราต้องไปหาใคร	ตอบ _____
⑥ ใครเป็นคนปลูกข้าวให้เรากิน	ตอบ _____
⑦ เราเรียนหนังสือที่ไหน	ตอบ _____
⑧ จงบอกชื่อปลา มา 2 ชนิด	ตอบ _____
⑨ ใครเอาจดหมายมาส่งเรา	ตอบ _____
⑩ จงบอกชื่อนก มา 2 ชื่อ	ตอบ _____
⑪ เราไปทำบุญที่ไหน	ตอบ _____
⑫ เราใส่สร้อยที่ไหน	ตอบ _____
⑬ จงบอกชื่อสัตว์น้ำ มา 2 ชนิด	ตอบ _____
⑭ จงบอกชื่อผลไม้ มา 2 ชนิด	ตอบ _____

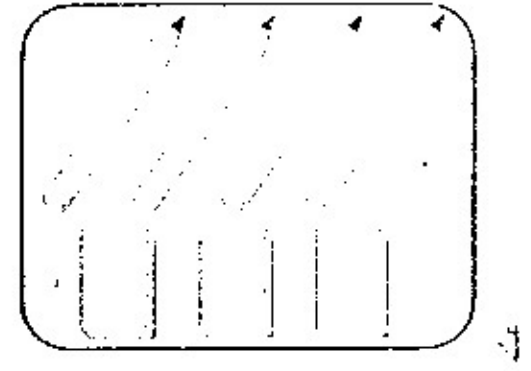
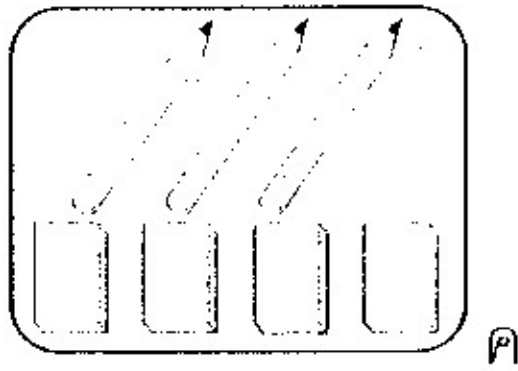
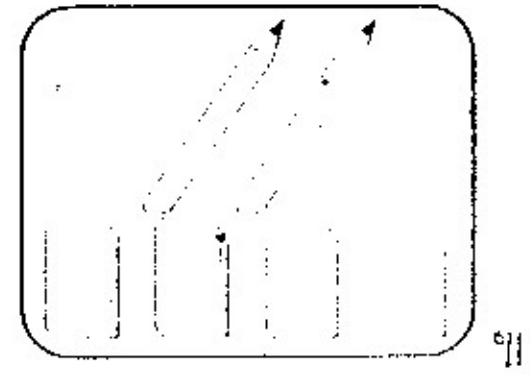
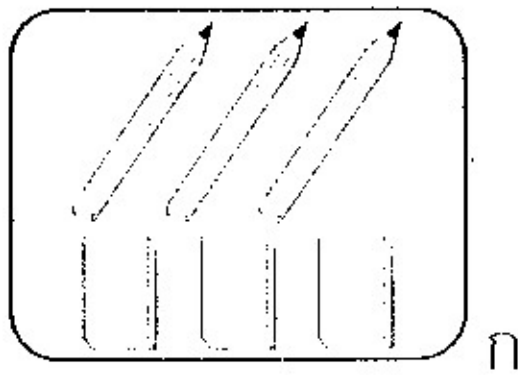
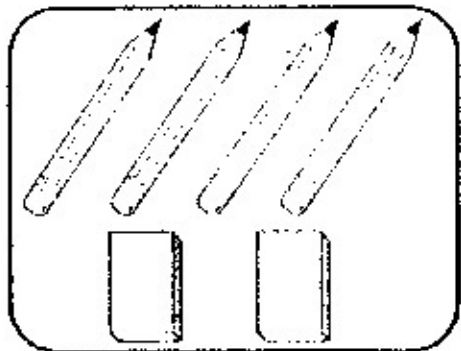
13

มีถ้วยกาแฟ 5 ใบ มีช้อนอยู่ 3 คัน ทำถ้วยแตกไป 3 ใบ แล้วซื้อช้อนมาเพิ่ม 4 คัน จะมีถ้วย + ช้อน ทั้งหมดเท่าไร






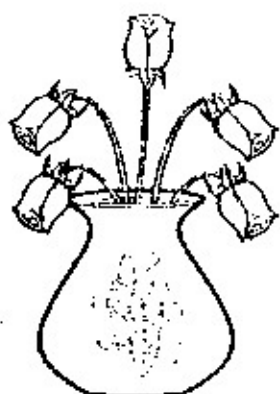
14

ในกล่องดินสอมีดินสอ 4 แท่ง มียางลบ 2 ก้อน เอาดินสอออกไปเหลา 1 แท่งและเอายางลบมาใส่อีก 2 ก้อนในกล่อง จะมีดินสอและยางลบเท่าไร



15


แจกันมีดอกไม้ 5 ดอก เอาดอกเหี่ยวออกไป 4 ดอก แล้วซื้อใหม่เพิ่มใหม่ 5 ดอก ในแจกันจะมีดอกไม้กี่ดอก



# แบบฝึกหัดที่ 4


## เรียนรู้เรื่องเวลา

1. ให้นักเรียนเขียน  ล้อมรอบตัวอักษรหน้าคำตอบที่ถูกต้องที่สุด




1. ปิดตื่นนอนเวลาอะไร

- ก. เช้า
- ข. กลางวัน
- ค. เย็น



2. ปิดเข้านอนเวลาอะไร

- ก. เช้า
- ข. บ่าย
- ค. ค่ำ



3. มาถึงโรงเรียนเวลาอะไร

- ก. เช้า
- ข. สาย
- ค. บ่าย



4. โรงเรียนมาเลิกเวลาอะไร

- ก. เช้า
- ข. สาย
- ค. บ่าย

5. นักเรียนมองเห็นดวงอาทิตย์เวลาใด

- ก. กลางวัน
- ข. กลางคืน
- ค. กลางทุ่ง

6. นักเรียนมองเห็นดวงดาวเวลาใด

- ก. กลางวัน
- ข. กลางคืน
- ค. กลางห้องนา

7. ดวงอาทิตย์ขึ้นเวลาใด

- ก. เย็น
- ข. เช้า
- ค. ค่ำ

8. ดวงอาทิตย์อยู่ตรงศีรษะเวลาใด

- ก. เช้า
- ข. สาย
- ค. เย็น

9. 1 สัปดาห์มีกี่วัน

- ก. 3 วัน
- ข. 5 วัน
- ค. 7 วัน

10. สีประจำวันอาทิตย์คือสี

- ก. สีเหลือง
- ข. สีแดง
- ค. สีม่วง

11. สีประจำวันศุกร์คือสี

- ก. สีฟ้า
- ข. สีชมพู
- ค. สีส้ม

12. สีม่วงเป็นสีประจำวันอะไร

- ก. วันจันทร์
- ข. วันพฤหัสบดี
- ค. วันเสาร์

13. ในหนึ่งสัปดาห์ นักเรียนต้องไปโรงเรียนกี่วัน

- ก. 4
- ข. 5
- ค. 6

14. วันใดบ้างที่นักเรียนไม่ต้องไปโรงเรียน

- ก. วันจันทร์กับ วันอาทิตย์
- ข. วันโกนกับวันพระ
- ค. วันเสาร์กับวันอาทิตย์

<p>15. วันอะไรบ้างที่อยู่ระหว่างวันอังคารกับศุกร์</p> <p>ก. จันทร-พุธ</p> <p>ข. พุธ พฤหัสบดี</p> <p>ค. พฤหัสบดี เสาร์</p>	<p>16. ถ้าวันจันทร์ตรงกับวันที่ 2 วันศุกร์จะตรงกับวันที่เท่าไร</p> <p>ก. 5</p> <p>ข. 6</p> <p>ค. 7</p>
<p>17. วันอะไรที่ต่อจากวันพุธไป สองวัน</p> <p>ก. ศุกร์</p> <p>ข. พฤหัสบดี</p> <p>ค. เสาร์</p>	<p>18. หนึ่งปีมีกี่วัน</p> <p>ก. 360</p> <p>ข. 365</p> <p>ค. 635</p>
<p>19. หนึ่งปีมีกี่เดือน</p> <p>ก. 10 เดือน</p> <p>ข. 11 เดือน</p> <p>ค. 12 เดือน</p>	<p>20. เดือนที่ลงท้ายด้วย "คม" มีกี่วัน</p> <p>ก. 29</p> <p>ข. 30</p> <p>ค. 31</p>
<p>21. เดือนที่ลงท้ายด้วย "ยน" มีกี่วัน</p> <p>ก. 29</p> <p>ข. 30</p> <p>ค. 31</p>	<p>22. เดือนอะไรที่มี 28 หรือ 29 วัน</p> <p>ก. มกราคม</p> <p>ข. กุมภาพันธ์</p> <p>ค. เมษายน</p>
<p>23. ปีก่อนที่ลงท้ายด้วย "ยน" มีกี่เดือน</p> <p>ก. 3</p> <p>ข. 4</p> <p>ค. 5</p>	<p>24. ปีก่อนที่ลงท้ายด้วย "คม" มีกี่เดือน</p> <p>ก. 7</p> <p>ข. 5</p> <p>ค. 3</p>

..... จงลากเส้นโยงจากคำไปยังภาพ


ตา

ปาก

คอ

เข่า

เท้า



ผม

หู

แขน

มือ

ขา

4. ให้นักเรียน โยงเส้นจับคู่ ข้อความทั้ง 2 ข้างให้สัมพันธ์กัน

เดือนที่ 9 ของปี

เดือนที่ 11 ของปี

เดือนที่มี 28 หรือ 29 วัน

เดือนสุดท้ายของปี

เดือนที่มีวันเด็ก

เดือนที่มีวันสงกรานต์

มกราคม

กุมภาพันธ์

เมษายน

กันยายน

พฤศจิกายน

ธันวาคม