


2

โหนด เหมือนกับอะไร?



ก



ข



ค



ง

3

ใจดี เหมือนกับอะไร?



ก



ข



ค




ง

4

โกรธ เหมือนกับอะไร?



ก



ข



ค



ง

5

แข็ง เหมือนกับอะไร?




ก



ข



ค



ง

6

สวย เหมือนกับอะไร?



ก



ข



ค



ง

7

กลม เหมือนกับอะไร?



ก



ข



ค



ง

8

ใจร้าย เหมือนกับอะไร?



ก



ข



ค



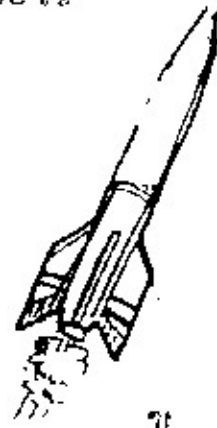
ง

9

เร็ว เหมือนกับอะไร?




ก



ข



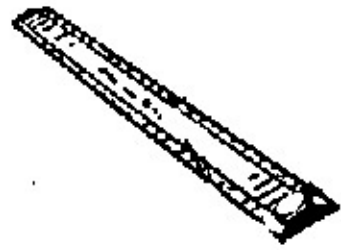
ค



ง

10

ตรง เหมือนกับอะไร?



ก



ข



ค



ง

11

อ้วน เหมือนกับอะไร?



ก



ข



ค



ง

12

เบา เหมือนกับอะไร?



ก



ข




ค



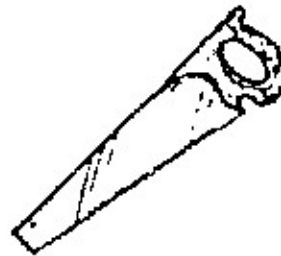
ง

13

คม เหมือนกับอะไร?



ก



ข



ค



ง

14

สัตว์ชนิดใด?



ก



ข



ค




ง

15

เสียงดังเหมือนอะไร?



ข



ค

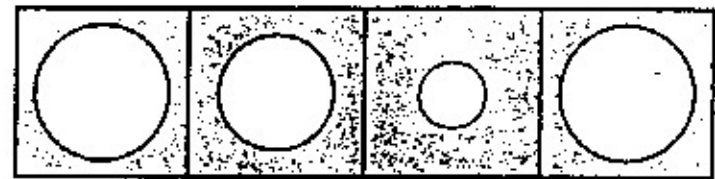
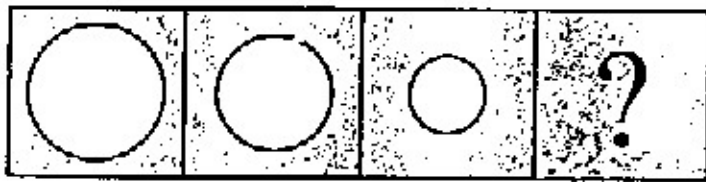


ง

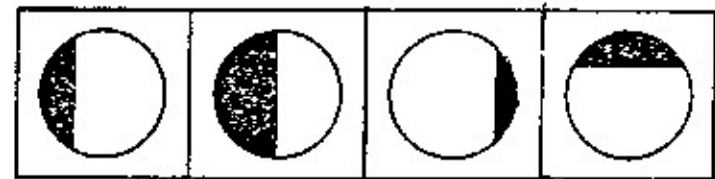
วัตถุประสงค์ เพื่อส่งเสริมให้ผู้เรียนรู้จักคิด และพิจารณาหาความแตกต่างของขนาดของภาพในรูปทรงเรขาคณิต

คำสั่ง ให้พิจารณาภาพทางด้านซ้ายมือ แล้วขีดเครื่องหมายทับตัวเลขในวงกลมที่อยู่ใต้ภาพที่เป็นคำตอบที่ถูกต้องทางด้านขวามือ

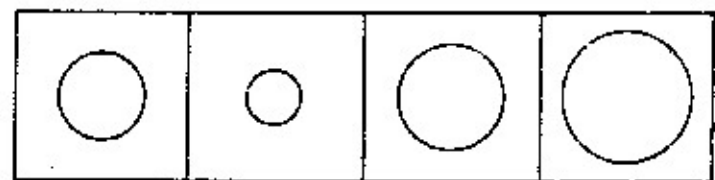
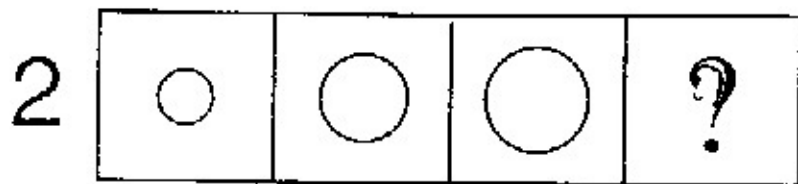
ตัวอย่าง



① ② ~~③~~ ④



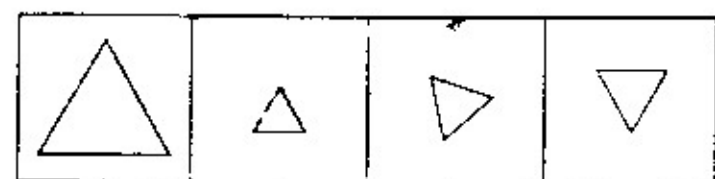
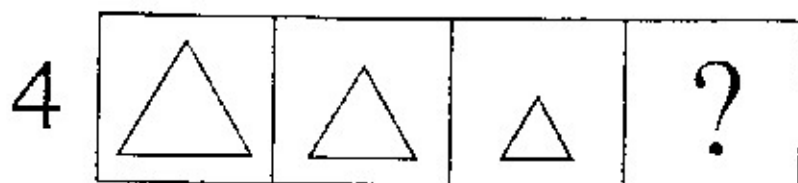
① ② ③ ④



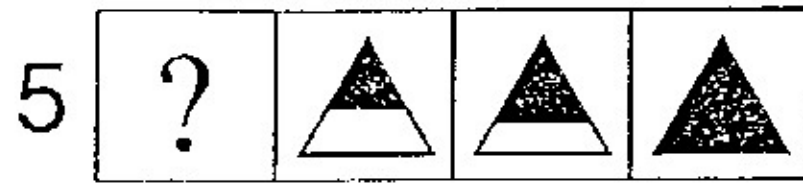
① ② ③ ④



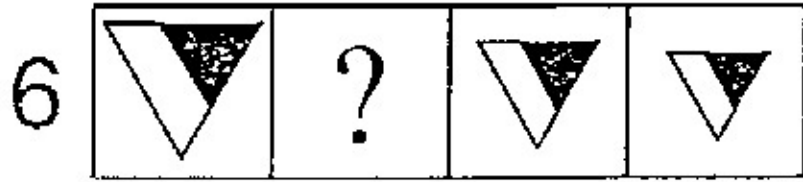
① ② ③ ④



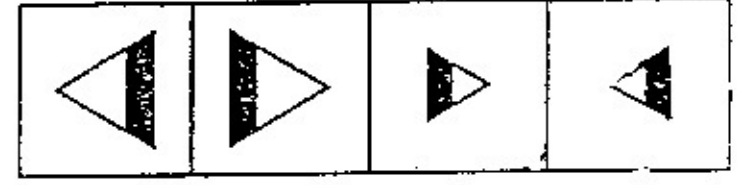
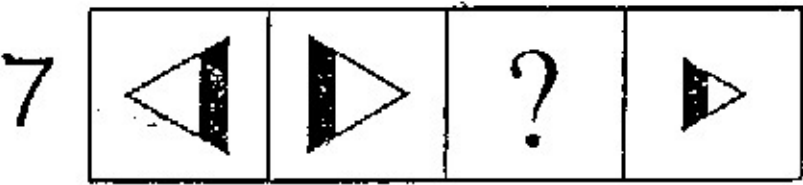
① ② ③ ④



- ① ② ③ ④



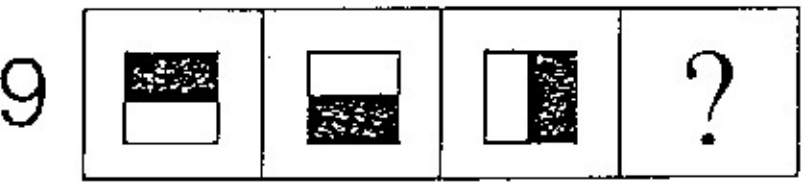
- ① ② ③ ④



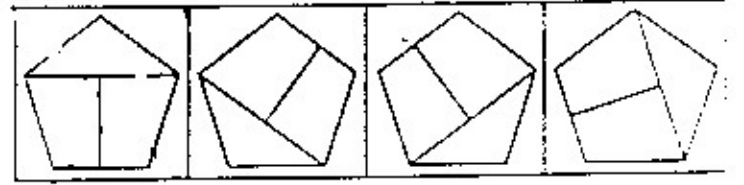
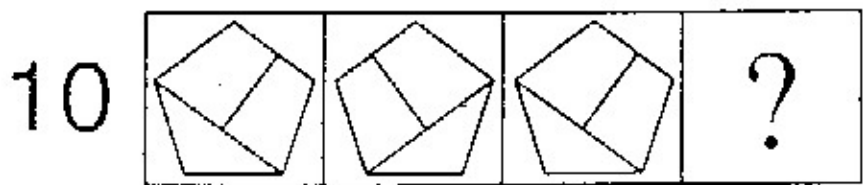
- ① ② ③ ④



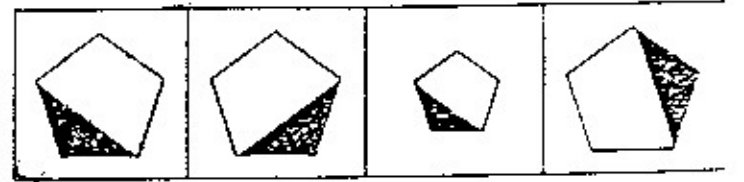
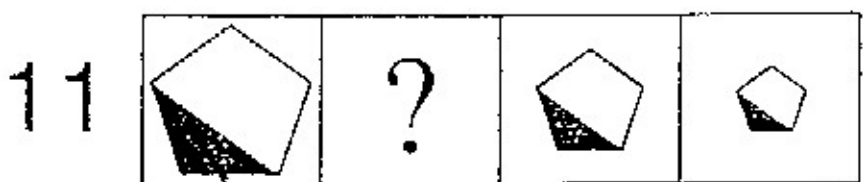
- ① ② ③ ④



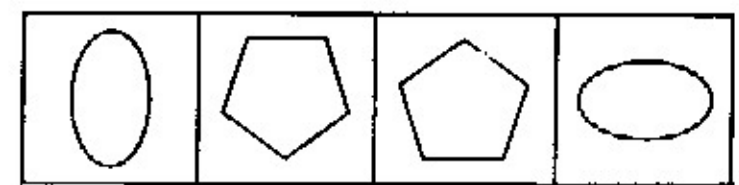
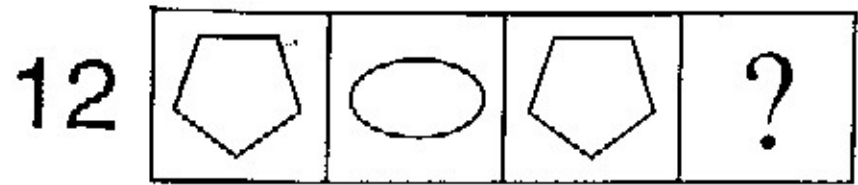
- ① ② ③ ④



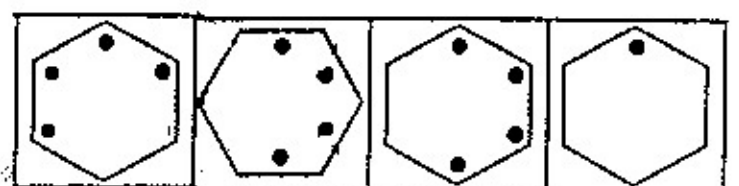
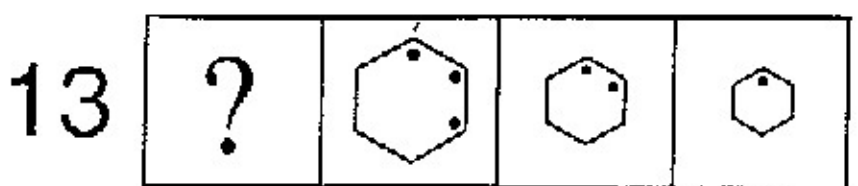
- ① ② ③ ④



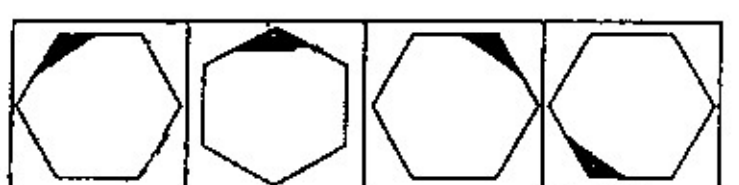
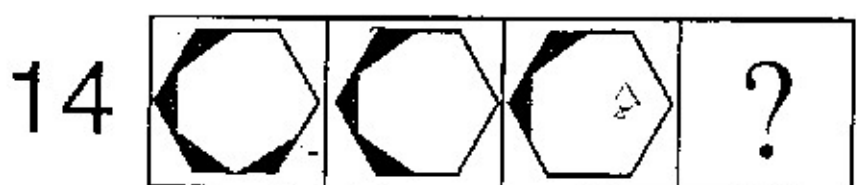
- ① ② ③ ④



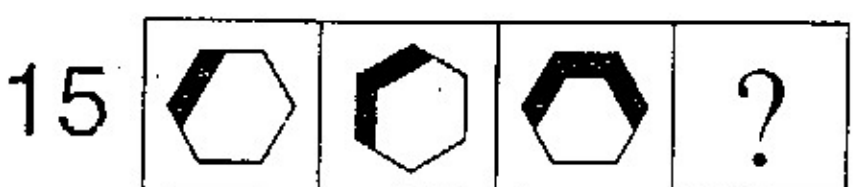
- ① ② ③ ④



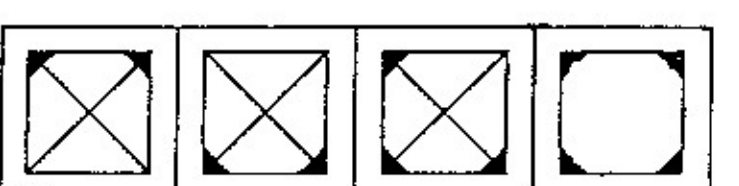
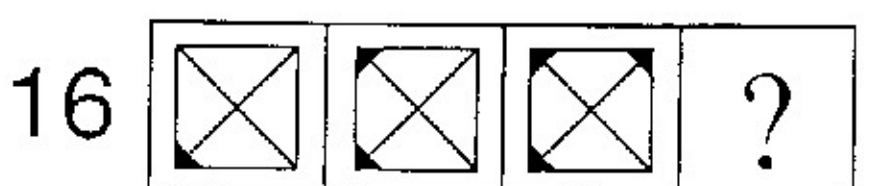
- ① ② ③ ④



- ① ② ③ ④



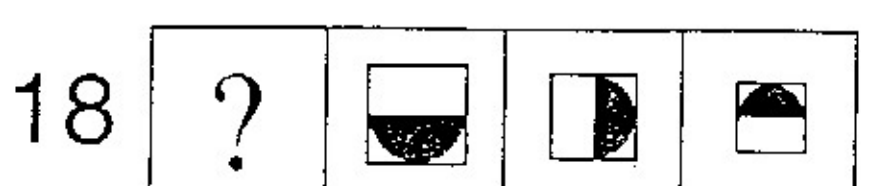
- ① ② ③ ④



- ① ② ③ ④






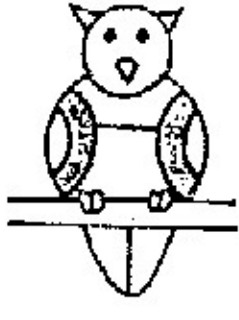




















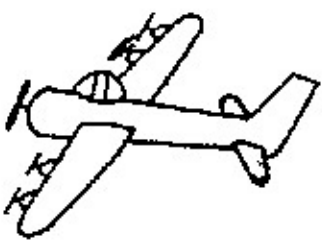

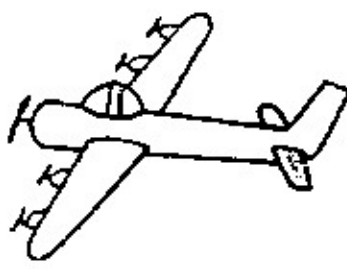



- ① ② ③ ④



- ① ② ③ ④

ขีด ✕ ทับภาพที่เหมือนกับภาพทางซ้ายมือ

<p>ตัวอย่าง</p> 				
<p>1.</p> 				
<p>2.</p> 				
<p>3.</p> 				
<p>4.</p> 				
<p>5.</p> 				

คำสั่ง ให้สังเกตภาพ แล้วหาว่ามีสัตว์แต่ละชนิด เป็นจำนวนเท่าใด

270

